

- 1) सर्वोत्कृष्ट विकल्प निवडून खालील वाक्य पूर्ण करा.
26 जानेवारीला आमच्या शाळेत.....
- a) साजरा गेला केला प्रजासत्ताक दिन
b) प्रजासत्ताक दिन साजरा केला गेला
c) केला गेला प्रजासत्ताक दिनाने साजरा
d) प्रजासत्ताक दिन साजरा केला गेला
- 2) खाली A, B, C, D अशी चार वाक्ये दिली आहेत परीच्छेद बनविण्यासाठी या वाक्यांचा योग्यक्रम निवडा.
A - तिने मला उचलून आकाशात नेले.
B- पहाटे मला एक सुंदर स्वप्न पडले.
C- त्यात मला एक सुंदर परी दिसली.
D- तिथे मी पऱ्यांची नगरी पाहिली.
- a) B C A D b) B A C D c) B C D A d) ABCD
- 3) नामाचा प्रकार ओळखा - समुद्र
- a) विशेषनाम b) सामान्यनाम
c) भाववाचक नाम d) समूहवाचक नाम
- 4) खालील वाक्यात भरण्यासाठी योग्य शब्द निवडा.
----- अभ्यास न करता वेळ घालवता.
- a) ते b) आम्ही c) तो d) तुम्ही
- 5) खालील नामाचे स्त्रीलिंगी लिंग बदला.
मोर
- a) मोरनी b) मोरया c) लांडोर d) मोर
- 6) वचन बदला - कुत्रा
- a) कुत्रे b) कुत्री c) कुत्र्ये d) कुत्रा
- 7) खालील वाक्य चार भागात विभागलेले आहे , त्यापैकी एक भाग चुकीचा आहे चुकीचा भाग शोधून तो निवडा .
- | | | | | | | |
|--------|---|------------|---|--------|---|------------|
| उत्तरे | / | प्रश्नांची | / | प्रश्न | / | वहीत लिहा. |
| 1 | | 2 | | 3 | | 4 |
| a) 1 | | b) 2 | | c) 3 | | d) 4 |
- 8) Fill in the blanks with suitable article from the options given below.
We have got our new officers near _____ center of the city.
- a) an b) the
c) a d) none of these

- 9) Choose the correct adverbs from the options given below.
My father is _____ late for work.
a) quickly b) rarely c) down d) last week
- 10) Fill in the blanks with correct prepositions choosing from the options given below.
I have worked here _____ I left my earlier school.
a) for b) since c) over d) while
- 11) Fill in the blanks with the suitable conjunctions.
Do you pull the handle _____ Push it?
a) And b) but c) or d) as
- 12) Fill in the blanks with suitable verb forms from the options given below.
The train has not _____ yet. We'll catch it if we hurry.
a) Leaving b) going c) left d) liked
- 13) Choose the correct noun from the alternatives given below.
You can show a driving license to prove yourf _____.
a) identify b) identifiable
c) identified d) identity
- 14) Fill in the blank with suitable pronoun.
I remember that _____ bought the fruits from us.
a) they b) her c) them d) I
- 15) Choose the correct adjective from the alternative given below.
This ball pen is _____. It has completely dried out.
a) use b) used c) useful d) useless
- 16) 8, 0, 3, 6 पासून तयार होणारी चार अंकी सर्वात लहान संख्या जी 5 ने सुद्धा विभाजीत आहे.
a) 0368 b) 3068 c) 8630 d) 3680
Find out the smallest four digit number having 8,0,3,6 and which is also divisible by 5.
a) 0368 b) 3068 c) 8630 d) 3680
- 17) एका कामगाराला 15 दिवसांसाठी प्रत्येक कामाच्या दिवसाला ५० रुपये या दराने कामाला ठेवले आणि गैरहजेरीसाठी 25 रुपये दंड केला. जर त्यातून त्याला 375 रुपये मिळाले असतील तर त्याचे कामाचे दिवस किती?
a) 12 b) 10 c) 8 d) 7
A worker was appointed for 15 days for a certain work with the 50 Rs as his wage and for the absence Rs. 25 fined. If he got Rs. 375 then how many days did he work?
a) 12 b) 10 c) 8 d) 7
- 18) दोन संख्यांचा गुणाकार $5/4$ आहे , जर एक संख्या $5/6$ असेल तर, दुसरी संख्या कोणती?
a) 2 b) $1/2$ c) $3/2$ d) $2/3$
Multiplication of two numbers is $5/4$. If the first number is $5/6$ then what will be the other number?
a) 2 b) $1/2$ c) $3/2$ d) $2/3$

- 19) 37800 चे मूळ अवयव कोणते?
- a) $2 \times 2 \times 3 \times 3 \times 5 \times 5 \times 7 \times 7$
 b) $2 \times 2 \times 2 \times 3 \times 3 \times 3 \times 5 \times 5 \times 7$
 c) $8 \times 27 \times 25 \times 7$
 d) $2 \times 4 \times 25 \times 27 \times 7$

Find out the prime factors of 37800.

- a) $2 \times 2 \times 3 \times 3 \times 5 \times 5 \times 7 \times 7$
 b) $2 \times 2 \times 2 \times 3 \times 3 \times 3 \times 5 \times 5 \times 7$
 c) $8 \times 27 \times 25 \times 7$
 d) $2 \times 4 \times 25 \times 27 \times 7$
- 20) महाराष्ट्र : कृष्णा :: आसाम : ?
 a) झेलम b) सतलज c) ब्रम्हपूत्रा d) गोदावरी
 Maharashtra : Krushna :: Assam : ?
 a) Zelum b) Satluj c) Brahmaputra d) Godavari
- 21) दोन दशमान संख्यांचा गुणाकार 14.837 आहे. जर त्यापैकी एक संख्या 4.01 असेल तर दुसरी दशमान संख्या कोणती.

- a) 3.7 b) 3.07 c) 3.007 d) 37

The multiplication of two decimal numbers is 14.837. If one of that numbers is 4.01 then what will be the second number?

- a) 3.7 b) 3.07 c) 3.007 d) 37

- 22) $\frac{153 \times 500}{25 \times 100 \times 4}$ ची किंमत दशमान पध्दतीमध्ये खालीलपैकी कोणती ?

- a) 76.50 b) 765.00 c) 7.65 d) 7650.00

Find out the value in decimal system of $\frac{153 \times 500}{25 \times 100 \times 4}$

- a) 76.50 b) 765.00 c) 7.65 d) 7650.00

- 23) 5 रुपयाच्या एका नाण्याचे वजन 9 ग्रॅम आहे. अनुकडे असलेल्या 5 रुपयाच्या नाण्याच्या पिशवीचे वजन 9 किग्रॅ आहे तर पिशवीत किती नाणी आहेत?

- a) 10 b) 1000 c) 100 d) 10,000

One coin of Rs. 5 weigh 9 grams. Anu has a bag containing coins of Rs. 5. If that bag weighs 9 Kgs. Then how many coins are there in that bag?

- a) 10 b) 1000 c) 100 d) 10,000

- 24) एक बस ताशी 72 कि.मी. च्या वेगाने जात आहे. तिचा वेग सेकंदाला किती मीटर आहे?
- a) सेकंदाला 10 मी. b) सेकंदाला 20 मी. c) सेकंदाला 30 मी. d) सेकंदाला 60 मी.

A bus runs with the speed 72 Kms per hour. Find out its speed in meter per second?

- a) 10 m per second. b) 20 m per second
 c) 30 m per second d) 60 m per second

25) 275.0003 x 3.005 याची साधारण किंमत _____ येते.

- a) 835 b) 810 c) 830 d) 825

Find out the value of 275.0003 x 3.005.

- a) 835 b) 810 c) 830 d) 825

26) संख्यांची पुढील ओळ कोणती असेल?

121 566 1022

131 566 2322

141 566 3622

----- ----- -----

- a) 151 566 4922 b) 141 567 3922
c) 151 567 4622 d) 151 566 4722

What will be the next number in the series?

121 566 1022

131 566 2322

141 566 3622

----- ----- -----

- a) 151 566 4922 b) 141 567 3922
c) 151 567 4622 d) 151 566 4722

27) 10.01 हे टक्केवारीत कसे लिहितात ?

- a) 10.01% b) 10% c) 1001% d) 100100%

How do you write 10.01 with symbol of percentage?

- a) 10.01% b) 10% c) 1001% d) 100100%

28) एका दुकानदाराने एकाच पुस्तकाच्या 1000 प्रती 9999 रुपयांना विकल्या आणि त्याला 899 रुपये नफा झाला. तर एका पुस्तकाची मूळ किंमत किती ?

- a) 8.90 रु. b) 9.10 रु. c) 9.20 रु. d) 9.90 रु.

A shopkeeper sold 1000 copies of the same book for Rs. 9999 and he got Rs. 899 as the profit. Then what will be the original price of the single book?

- a) 8.90 रु. b) 9.10 रु. c) 9.20 रु. d) 9.90 रु.

29) दरमहा एका रुपयावर 2 पैसे या दराने 13200 रु. मुद्दलाचे 2 महिन्याचे सरळव्याज किती?

- a) 44 रु. b) 22 रु. c) 264 रु. d) 528 रु.

What will be the simple interest of Rs. 13200 for 2 months at the rate of 2 paise for one rupee per month?

- a) Rs. 44 b) Rs. 22 c) Rs. 264 d) Rs. 528

30) खालील आकृतीत प्रश्नचिन्हाच्या जागी कोणता महिना येईल?

मे	डिसेंबर	फेब्रुवारी
फेब्रुवारी	मार्च	?
मार्च	सप्टेंबर	जानेवारी

- a) जानेवारी b) एप्रिल c) मे d) जून

Which month will come at the place of question mark in the adjoining figure.

May	Dec	Feb
Feb	March	?
March	Sep	Jan

- a) Jan b) April c) May d) June

31) इ. स. 1450 मध्ये _____ यंत्राचा शोध लागला .

- a) सूत कताई b) वाफेच्चा c) छापण्याच्या d) रेल्वे

..... machine was invented in 1450 AD?

- a) Cotton spinning b) steam engine
c) Printing d) Railway

32) पंजाबमधील स्थापत्य कलेचा उत्तम नमुना आहे.

- a) कुतुबमिनार b) सुवर्ण मंदीर
c) सूर्य मंदीर d) थिबाचा राजवाडा

..... in Punjab is the best model of architectural art?

- a) Kutub Minar b) Golden Temple
c) Sun Temple d) Palace of Thiba

33) अमेरिकेने दुसऱ्या महायुद्धाच्या शेवटी या राष्ट्राविरुद्ध अणुबॉम्ब वापरले?

- a) जर्मनी b) इटाली c) जपान d) फ्रांस

At the end of the second world war America used atom bombs against ----- nation?

- a) Germany b) Italy c) Japan d) France

34) 1857 च्या उठावानंतर भारतातील सत्तेचा शेवट झाला.

- a) ब्रिटीश b) फ्रेंच
c) पोर्तुगीज d) ईस्ट इंडिया कंपनीच्या

..... rule was ended in India after the uprising of 1857?

- a) British b) French
c) Portuguese d) East India Company

35) खालीलपैकी कोणत्या साली इंग्रज सरकारने सतीची चाल कायद्याने बंद केली?

- a) 1729 b) 1829 c) 1929 d) 1839

When did British Government ban the Sati system legally in India?

- a) 1729 b) 1829 c) 1929 d) 1839

36) राष्ट्रीय सभेच्या पहिल्या अधिवेशनाचे अध्यक्ष खालील पैकी कोण होते?

- a) सुरेंद्रनाथ बॅनर्जी
b) सर अँलन ह्युम
c) ब्योमेशचंद्र बॅनर्जी
d) पी. रंगा नायडू

Who was the president of the first session of National Assembly?

- a) Surendranath Banerji
b) Sir Allan Hume
c) Byomeshchandra Banerji
d) P.Ranga Nayadu

37) अँनी बेझंट यांनी _____ येथे होमरूल लीगची स्थापना केली.

- a) कोलकता
b) मुंबई
c) दिल्ली
d) चेन्नई

Anni Bezzant founded Homrule League at

- a) Kolkata
b) Mumbai
c) Delhi
d) Chennai

38) गांधीजींनी भारतात प्रथम _____ येथे सत्याग्रह केला.

- a) खेडा
b) चौरीचौरा
c) चंपारण्य
d) बार्दोली

In India Gandhi did his first Satyagraha at

- a) Kheda
b) Chauri Chaura
c) Champaranya
d) Bardoli

39) जातीय निवड्याविरुद्ध गांधीजींनी कोणत्या कारागृहात आमरण उपोषण सुरु केले.

- a) लाहोर
b) येरवडा
c) धारासना
d) दांडी

Where did Gandhiji start death hunger strike against Caste Judgement?

- a) Lahor
b) Yervada
c) Dharasana
d) Dandi

40) जदोनांग नंतर मणिपुरमध्ये ब्रिटिशाविरुद्ध उठावाचे नेतृत्व कोणत्या नागा राणीने केले?

- a) राणी चेन्नम्मा
b) राणी ताराबाई
c) राणी गायडीनलू
d) बिरसा मुंडा

In Manipur which Naga Queen led the movement against British after Jadonang?

- a) Rani Chennamma
b) Rani Tarabai
c) Rani Gaidinalu
d) Birsa Munda

41) खालील पैकी कोणत्या दिवशी संविधान सभेने संविधानाचा स्वीकार केला?

- a) 26 जानेवारी 1950
b) 26 नोव्हेंबर 1949
c) 15 ऑगस्ट 1947
d) 25 जानेवारी 1950

On which of the following day the constituent assembly accepted the constitution of India?

- a) 26 January 1950
b) 26 November 1949
c) 15 August 1947
d) 25 January 1950

42) आपल्या देशातील लोकशाही ही _____ लोकशाही म्हणून ओळखली जाते.

- a) अध्यक्षीय
b) नियंत्रित
c) संसदीय
d) लष्करी

Democracy in our country is known asdemocracy.

- a) Presidential
b) Controlled
c) Parliamentary
d) Military

43) प्रजासत्ताक दिनाच्या मुख्य संचालनाची मानवंदना खालीलपैकी कोण स्वीकारतात?

- a) राष्ट्रपती b) पंतप्रधान c) सेनाप्रमुख d) यापैकी नाही

Who among the following accepts the salutation of chief parade on the Republic Day?

- a) President b) Prime Minister
c) Army Chief d) None of These

44) खालीलपैकी कोणती नदी भारतातील जम्मू आणि काश्मीर राज्यातून पाकिस्तानात प्रवेश करते?

- a) ब्रम्हपुत्रा b) सिंधू c) गंगा d) यमुना

Which of the following river enters in Pakistan through Jammu and Kashmir in India?

- a) Brahamaputra b) Sindhu c) Ganga d) Yamuna

45) पृथ्वीचा सुमारे किती टक्के भाग समुद्राने व्यापलेला आहे?

- a) 29% b) 59% c) 71% d) 70%

How many parts of the earth is occupied by the sea?

- a) 29% b) 59% c) 71% d) 70%

46) खालीलपैकी कोणत्या धातू खनिजापासून अॅल्युमिनियम तयार होतो?

- a) मॅगनीज b) अॅस्बेस्टॉस c) क्रोमाईट d) बॉक्साईट

From which of the following metal Aluminum is obtained?

- a) Manganese b) Asbestos c) Chromite d) Bauxite

47) भूगर्भातील उष्णतेचा वापर करून _____ राज्यातील मणिकरण येथे उर्जा निर्माण करण्यात येते.

- a) अरुणाचल प्रदेश b) उत्तर प्रदेश
c) हरियाणा d) हिमाचल प्रदेश

Using underground heat energy is produced at Manikaran in ----- state.

- a) Arunachal Pradesh b) Uttar Pradesh
c) Hariyana d) Himachal Pradesh

48) खालीलपैकी कोणत्या बेटावर जारबा, सॅटीनेल्लीज, शॉपेन, ऑंगे या जमाती घनदार अरण्यात राहतात?

- a) लक्षद्वीप b) अंदमान व निकोबार c) आमिनदिवी d) मिनिक्कॉय

On which of the following island Jarba, Sentinnellij, Shompen, onge tribes live in dense forest?

- a) Lakshdweep b) Andaman and Nikobar
c) Amindivi d) Minikoy

49) संगमरवरी दगडाच्या खाणी खालीलपैकी कोणत्या राज्यात आढळतात?

- a) राजस्थान b) हिमाचल प्रदेश
c) कर्नाटक d) आंध्रप्रदेश

In which of the following state the marble stone mines found?

- a) Rajastan b) Himachal Pradesh
c) Karnataka d) Andhra Pradesh

50) खालीलपैकी कोणत्या गटातील शहरे हि भारतातील तंत्रज्ञान केंद्रे म्हणून प्रसिद्ध आहेत?

- a) चेन्नई, नागपूर, अहमदाबाद b) बंगळूर, हैदराबाद, पुणे
c) मुंबई, लखनौ, कलकत्ता d) दिल्ली, अमृतसर, जयपूर

Which of the following groups of cities are known for the Indian Information Technology Centers?

- a) Chennai, Nagpur, Ahmadabad b) Bangalore, Hyderabad, Pune
c) Mumbai, Lakhanow, Kolkata d) Delhi, Amritsar, Jaipur

51) राजस्थानमधील मरुभूमी उत्सव हे कोणत्या शहराचे आकर्षण आहे?

- a) जयपूर b) बिकानेर c) जैसलमेर d) कोटा

Rajasthan Desert Festival is the attraction of City.

- a) Jaipur b) Bikaner c) Jaisalmer d) Kota

52) खालील पैकी कार्निव्हल हा वैशिष्टपूर्ण उत्सव कोणत्या राज्यात साजरा केला जातो?

- a) केरळ b) कर्नाटक c) मिझोरम d) गोवा

Which of the following state celebrates the characteristic festival 'Carnival'?

- a) Kerala b) Karnataka c) Mijhoram d) Goa

53) 'सुवर्णचतुष्कोन' या प्रकल्पाने खालील पैकी कोणती चार महानगरे चारपदरी राष्ट्रीय महामार्गाने जोडली जात आहेत?

- a) मुंबई, अहमदाबाद, दिल्ली, कलकत्ता
b) दिल्ली, लखनौ, गांधीनगर, पटना
c) दिल्ली, मुंबई, चेन्नई, कोलकत्ता
d) बंगळूर, मुंबई, दिल्ली, हैदराबाद

Which of the following four cities are connected through four lane National Highway by the 'Suvarnachatuscone' Project?

- a) Mumbai, Ahmadabad, Delhi, Kolkata
b) Delhi, Lakhanow, Ghandinagar, Patna
c) Delhi, Mumbai, Chennai, Kolkata
d) Bangalore, Mumbai, Delhi, Hyderabad

54) शरीरात रक्त सतत फिरत ठेवण्याचे काम खालीलपैकी कोणत्या इंद्रियाकडून केले जाते?

- a) फुफ्फुस b) हृदय
c) मेंदू d) बरगड्यांचा पिंजरा

Which organ from the following constantly Circulates the blood in the body?

- a) Lung b) Heart
c) Brain d) Rib Cage

55) कॉडलिव्हर ऑईल आणि शार्क लिव्हर ऑईलमध्ये कोणते जीवनसत्त्व अधिक प्रमाणात असते?

- a) ए जीवनसत्त्व b) बी जीवनसत्त्व
c) सी जीवनसत्त्व d) डी जीवनसत्त्व

Which vitamins are more in cod liver oil and Shark liver oil?

- a) Vitamin A b) Vitamin B
c) Vitamin C d) Vitamin D

- 56) अन्ननलिकेच्या सुरुवातीच्या भागाला काय म्हणतात?
 a) तोंड b) ग्रासिका c) जठर d) लहान आतडे
 What is the initial part of the alimentary canal?
 a) Mouth b) Oesophagus c) Stomach d) Small intestine
- 57) गटात न बसणारा शब्द निवडा.
 a) टायफॉईड b) कॉलरा c) खरूज d) हगवण
 Odd man out.
 a) Typhoid b) Cholera c) Itch d) Diarrhea
- 58) लहान मुलांना पोलिओ, क्षय, घटसर्प आणि या सारख्या रोगांची लागण होऊ नये म्हणून लस टोचतात.
 a) डांग्या खोखला b) कॉलरा
 c) कावीळ d) हिवताप
 Children are vaccinated to prevent them from polio, Tuberculosis, Ghatsurf and -----.
 a) whooping cough b) Cholera
 c) Joundice d) Malaria
- 59) सर्पदंशामुळे झालेली जखम कशाच्या द्रावणाने धुतात?
 a) ब्लिचिंग पावडर b) पोटॅशियम परमँगनेट
 c) डी.डी.टी d) बी.सी.जी
 Wound of snakebite is washed with ----- solution.
 a) Bleaching Powder b) Potassium Permanganate
 c) D.D.T d) B.C.G
- 60) हवेमध्ये प्रामुख्याने आणि या दोन वायूंचे मिश्रण असते.
 a) कार्बन डायऑक्साईड, ऑक्सिजन
 b) ऑक्सिजन, हायड्रोजन
 c) नायट्रोजन, कार्बन डायऑक्साईड
 d) ऑक्सिजन, नायट्रोजन
 Chiefly there is the mixture of& gases in the air.
 a) Carbon Dioxide, Oxygen
 b) Oxygen, Hydrogen
 c) Nitrogen, Carbon Dioxide
 d) Oxygen, Nitrogen
- 61) खालीलपैकी अचुंबकीय पदार्थ निवडा.
 a) लोखंड b) अॅलुमिनिअम c) निकेल d) कोबाल्ट
 Select the non-magnetic substance from the following.
 a) Iron b) Aluminium c) Nickel d) Cobalt
- 62) श्वसनासाठी मासे _____ अवयवाचा वापर करतात.
 a) फुफ्फुस b) त्वचा c) कल्ला d) श्वासनलिका
 Fish uses ----- organ for breathing.
 a) Lung b) Skin c) Whiskers d) Windpipe

- 63) सोडियम बाय कार्बोनेटला _____ म्हणतात.
 a) धुण्याचा सोडा b) खाण्याचा सोडा
 c) सोडा अॅश d) मोहर क्षार
 Sodium bicarbonate is called as.....
 a) Washing Soda b) Eating Soda
 c) SodaAsh d) Mohar Salt
- 64) गटात न बसणारा शब्द ओळखा.
 a) तांबे b) चांदी c) अभ्रक d) ग्राफाईट
 Odd man out.
 a) Copper b) Silver c) Mica d) Graphite
- 65) इन्शुलिनच्या कमतरतेमुळे हा रोग होतो.
 a) मधुमेह b) मलेरिया c) पांडुरोग d) संधीरोग
 Which disease occur due to deficiency of insulin?
 a) Diabetes b) Malaria c) Pandurog d) Gout
- 66) द्रव्य हे असंख्य सूक्ष्मकणांचे बनलेले असते, ही संकल्पना कोणी मांडली?
 a) सी.व्ही. रामण b) डॉ. भाभा
 c) जयंत नारळीकार d) महर्षी कणाद
 Matter is made up of innumerable micro particles. Who put the concept?
 a) C.V. Raman b) Dr. Bhabha
 c) Jayant Narlikar d) Maharshi Kanad
- 67) राष्ट्रध्वजातील पांढरा रंग कशाचे प्रतिक आहे?
 a) अहिंसा b) शांती c) शौर्य d) त्याग
 White colour in the National Flag is the symbol of -----.
 a) Non Violence b) Silence c) Bravery d) Sacrifice
- 68) खालील पैकी कोणता भारतातील केंद्रशासित प्रदेश नाही.
 a) लक्षद्वीप b) दमन आणि दीव
 c) पाँडेचेरी d) नागालँड
 Which of the following is not an Union Territory?
 a) Lakshadweep b) Daman and Div
 c) Pondicherry d) Nagaland
- 69) चंद्रग्रहण होण्याचे कारण कोणते?
 a) पृथ्वी आणि सूर्याच्या मध्ये चंद्र येतो.
 b) पृथ्वी आणि चंद्र यांच्यामध्ये सूर्य येतो.
 c) सूर्य आणि चंद्र यांच्यामध्ये पृथ्वी येते.
 d) वरील सर्व.
 What is the cause of Lunar eclipse?
 a) Moon comes between Earth and Sun.
 b) Sun comes between Earth and Moon.
 c) Earth comes between Sun and Moon.
 d) All the Above.

70) लंडन ओलम्पिक 2012 मध्ये कोणत्या देशाने सर्वाधिक पदके जिंकली?

- a) ग्रेट ब्रिटन
b) चीन
c) रिपब्लिक कोरिया
d) संयुक्त राष्ट्रे अमेरिका

Which country won the highest number of awards in London Olympic 2012?

- a) Great Britain
b) China
c) Republican Korea
d) United States of America

71) महाराष्ट्राचे मुख्यमंत्री देवेंद्र फडणवीस यांनी मुख्यमंत्री पदाची शपथ कोणत्या ठिकाणी घेतली?

- a) शिवाजी पार्क
b) विधिमंडळ प्रांगण
c) वानखेडे स्टेडीयम
d) राजभवन

Where did the Maharashtra chief minister Devendra Fadanvis take an oath for the post of chief minister?

- a) Shivaji Park
b) Legislature court
c) Wankede Stadium
d) Rajbhavan

72) सध्या महाराष्ट्राचे राज्यपाल खालीलपैकी कोण आहेत?

- a) के.शंकरनारायण
b) सी.विद्यासागर राव
c) प्रतिभाताई पाटील
d) दिलीप वळसे पाटील

Who is the governer of Maharashtra State?

- a) K. Shankarnarayan
b) C. Vidyasagar Rao
c) Pratibhatai Patil
d) Dilip Valase Patil

73) महाराष्ट्राच्या विधिमंडळाचे हिवाळी अधिवेशन कोणत्या शहरात घेतले जाते?

- a) पुणे
b) मुंबई
c) नागपूर
d) औरंगाबाद

Where is the winter session of Maharashtra Legislature held?

- a) Pune
b) Mumbai
c) Nagpur
d) Aurangabad

74) सध्या महाराष्ट्रातील कोणत्या शहरात मेट्रो रेल्वे सुरु करण्यात आली आहे?

- a) मुंबई
b) पुणे
c) नागपूर
d) औरंगाबाद

Recently in which city of Maharashtra is metro train started?

- a) Mumbai
b) Pune
c) Nagpur
d) Aurangabad

75) कोणते अक्षांस भारताच्या मध्यातून जाते?

- a) कर्कवृत्त
b) मकरवृत्त
c) विषुववृत्त
d) अंटार्क्टिका रेषा

Which latitude goes through the center of India?

- a) Tropic of Cancer
b) Tropic of Capricorn
c) Equator
d) Antarctic Line

76) 20 ऑगस्ट 2013 रोजी अंधश्रध्दा निर्मूलन समितीचे अध्यक्ष यांची हत्या झाली.

- a) नरेंद्र मोदी
b) नरेंद्र दाभोलकर
c) बाबा आढाव
d) यापैकी नाही.

..... the president of Superstition Eradication Committee was murdered on 20 August 2013?

- a) Narendra Modi
b) Narendra Dabholkar
c) Baba Adahav
d) None of the above

- 77) देशातील प्रत्येक नागरीकाला ओळखपत्र व विशिष्ट क्रमांक "आधार कार्ड" च्या द्वारे दिला जातो, तो क्रमांक किती अंकी असतो?
- a) दहा b) अकरा c) बारा d) तेरा
- Identity card and certain number through 'Adhar Card' is given to each of the citizen of the country. How many digits are there in that number?
- a) Ten b) Eleven c) Twelve d) Thirteen

- 78) भारताचा शेजारील देश भूतान या देशाच्या राजधानीचे शहर खालीलपैकी कोणते?
- a) रंगुन b) बँकॉक c) कोहीमा d) थिंपू
- Which of the following is the capital city of Bhutan, the neighbouring country of India?
- a) Rangun b) Bankok c) Kohima d) Thimpu

- 79) सध्या भारताचे उपराष्ट्रपती कोण आहेत?
- a) डॉ.हमीद अन्सारी b) के.शंकरनारायण
- c) प्रणव मुखर्जी d) के. रहमान खान
- Who is the Vice President of India?
- a) Dr. Hamid Ansari b) K. ShankarNarayan
- c) Pranav Mukharjee d) K. Rahman Khan

- 80) मराठा समाजाला आरक्षण देण्यासंबंधी विविध बाबींचा अभ्यास करण्यासाठी महाराष्ट्र शासनाने कोणती समिती नेमली होती.
- a) जे.ए. पाटील समिती b) वि.म. दांडेकर समिती
- c) हषवर्धन पाटील समिती d) नारायण राणे समिती
- Maharashtra Government had appointed a committee to study the various aspects regarding the Maratha Reservation. What is the name of that committee?
- a) J.A. Patil Committee b) V. M. Dandekar Committee
- c) Harshwardhan Patil Committee d) Narayan Rane Committee

- 81) 'समरवीर' या शब्दातील अक्षरापासून खालीलपैकी कोणता शब्द तयार होत नाही?
- a) रवी b) मसूर c) रस d) वीस

- 82) खालील चौकोनात प्रश्न चिन्हाच्या जागी येणारी संख्या निवडा.
- Find out the number in place of question mark.

2	6	7
11	?	16
17	21	22

- a) 14 b) 13 c) 12 d) 15
- 83) 79 : 63 : 42 : ?
- a) 26 b) 13 c) 8 d) 18

84) गटात न बसणारा शब्द ओळखा.

- a) वीट b) वाळू c) सिमेंट d) घर
Odd man out.
a) brick b) sand c) cement d) house

85) रवी रामपेक्षा हुशार पण राम राजुपेक्षा हुशार आहे संदीप रविपेक्षा हुशार पण दिनेश त्याच्याही पेक्षा हुशार आहे या माहितीवरून सर्वात हुशार कोण आहे?

- a) राम b) रवी c) संदीप d) दिनेश
Ravi is cleverer than Ram but Ram is cleverer than Raju. Sandip is cleverer than Ravi but Dinesh is cleverer than Sandip. Then who is the cleverest among them?
a) Ram b) Ravi c) Sandeep d) Dinesh

86) जर $3 \div 3 = 2$, $18 \div 6 = 6$, $30 \div 5 = 12$, तर $35 \div 5 = ?$,

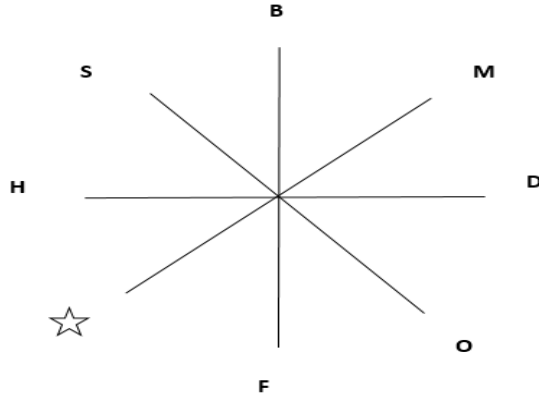
- If $3 \div 3 = 2$, $18 \div 6 = 6$, $30 \div 5 = 12$, then $35 \div 5 = ?$,
a) 7 b) 10 c) 12 d) 14

87) XW, UT, RQ, ON, ?

- a) MK b) KL c) LK d) LM

88) ☆ या चिन्हाच्या जागी योग्य अक्षर शोधा.

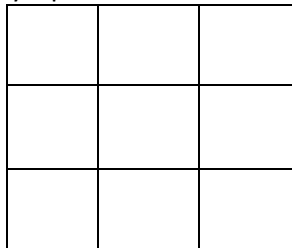
Choose the correct letter at the place of ☆



- a) T b) N c) P d) Q

89) बाजूच्या आकृतीत चौरस किती आहेत?

How many squares are there in the adjoining figure?



- a) 10 b) 14 c) 16 d) 18

90) मधुकर 51 पायऱ्या चढून ँका ढेकडीवरील देवळात गेला त्याने वर जाताना प्रत्येक पायरीवर तिच्या क्रमांकाइतकी फुले ठेवली त्याला किती फुले सोबत न्यावी लागतील?

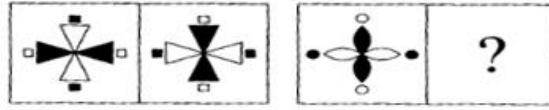
- a) 1326 b) 1329 c) 1377 d) 1275

By climbing 51 steps Madhukar went to a temple on the hill. While climbing he put the flowers on equal to the number of that step on each step. How many flowers did Madhukar take with him?

- a) 1326 b) 1329 c) 1377 d) 1275

91) खालील प्रश्नात तीन प्रश्न आकृत्या दिल्या असून चौथ्या प्रश्न आकृतीसाठी प्रश्न चिन्ह दिलेले आहे. पहिल्या दोन प्रश्न आकृत्यामध्ये काही संबंध आहे. अशाप्रकारचा संबंध प्रश्न आकृत्या तीन व चार मध्ये असायला पाहिजे. उत्तर आकृत्यामधून अशी आकृती शोधा जी प्रश्न चिन्हाच्या जागी देता येईल .

प्रश्न आकृत्या:



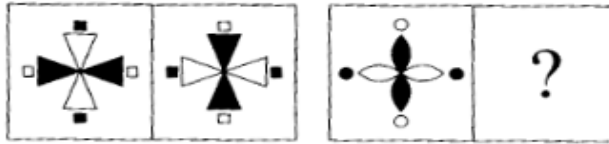
उत्तर आकृत्या:



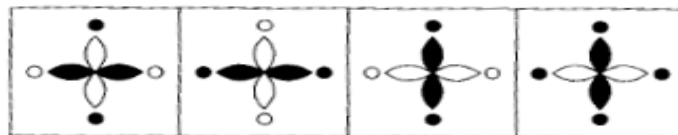
- a) b) c) d)

In the following question the relation of the third figure with the fourth figure is the same as that of first figure with the second. Therefore choose the correct alternative to place at question mark?

Question Fig.




Answer Fig.



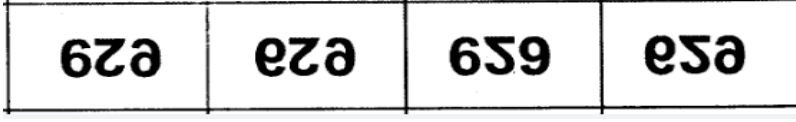
- a) b) c) d)

92) खालील प्रश्नात प्रश्न आकृतीचे जलप्रतीबिंब दाखविणारा योग्य पर्याय निवडा.

प्रश्न आकृती



उत्तर आकृत्या:



a)


b)

c)

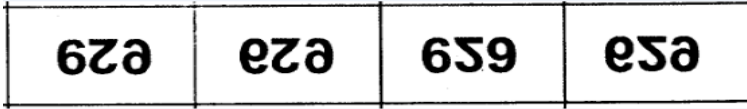
d)

Find the water image for the question figure from the answer figures.

Question Figure



Answer Figure



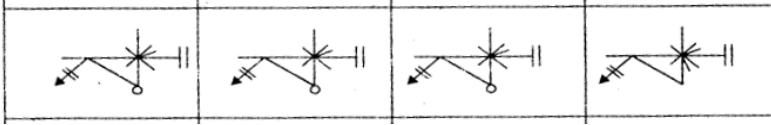
a)

b)

c)

d)

93) गटात न बसणारी आकृती ओळखा.



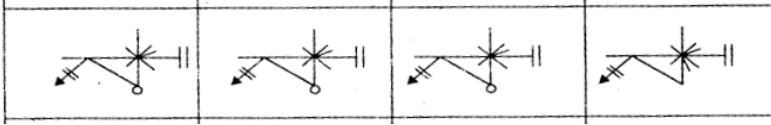
a)

b)

c)

d)

Find the odd figure out.



a)

b)

c)

d)

94) खालील प्रश्नात पहिल्या दोन पदामध्ये जो संबंध आहे तसाच संबंध तिसऱ्या व चौथ्या पदात आहे. पर्यायामधून गाळलेले पद निश्चित करून त्याचा पर्याय निवडा.

In the following question the relation third term with fourth term is the same as that of first term with the second. Choose the correct alternative to fourth term

LN : VX :: GI : ?

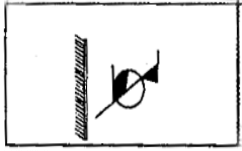
a) PR

b) QS

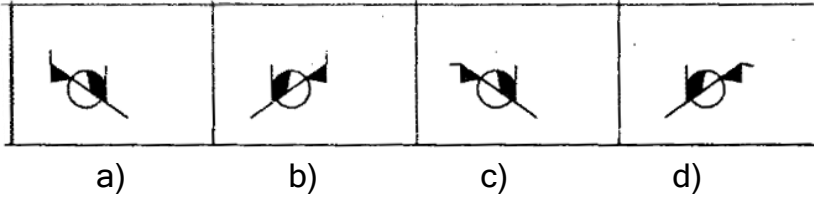
c) OT

d) NU

- 95) खालील प्रश्न आकृतीची आराश्यातील प्रतिमा दर्शवणारा पर्याय निवडा.
प्रश्न आकृती




उत्तर आकृती

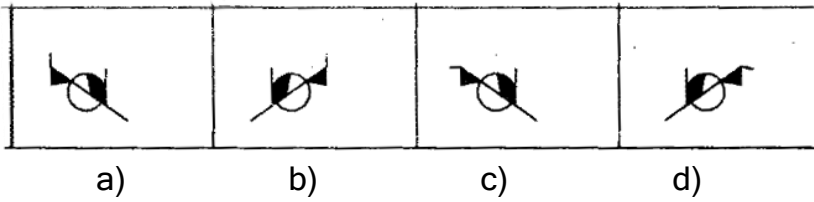


Find the mirror image for the question figure.

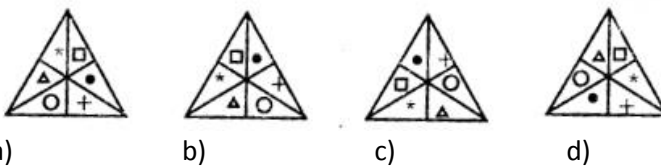
Question Figure



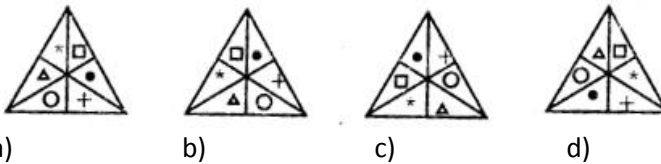
Answer Figure



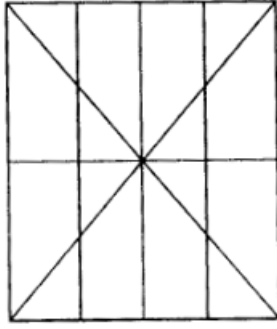
96. खालील आकृत्यातील विसंगत आकृती निवडा.



Find out odd figure.

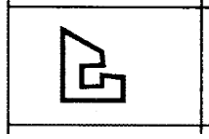


- 97) सोबतच्या आकृतीत त्रिकोणांची संख्या किती?
How many triangles are there in the adjoining figure?

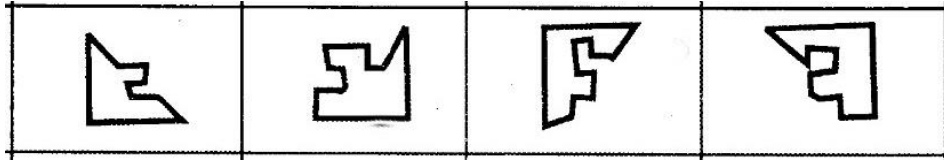


- a) 8 b) 18 c) 26 d) 30

98. खालील प्रश्नातील अपूर्ण प्रश्न आकृती पूर्ण करण्यास पर्यायातील आकृती निवडा.
प्रश्न आकृती



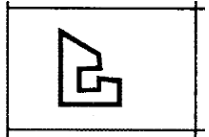
उत्तर आकृती



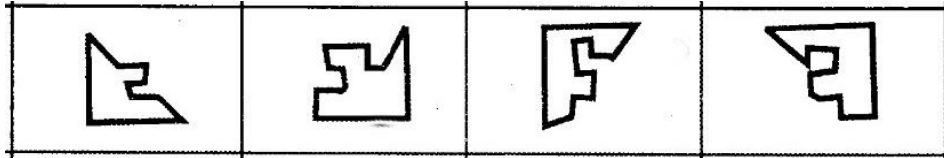
- a) b) c) d)

Select the correct option figure form the following options to complete the question figure.

Question Figure



Answer Figure



- a) b) c) d)

99. जर PANT = 51, CAP = 20 तर त्याच पद्धतीने SHIRT = किती?

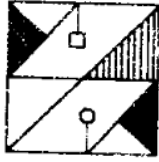
- a) 62 b) 64 c) 72 d) 74

If PANT = 51 , CAP = 20 then SHIRT = ?

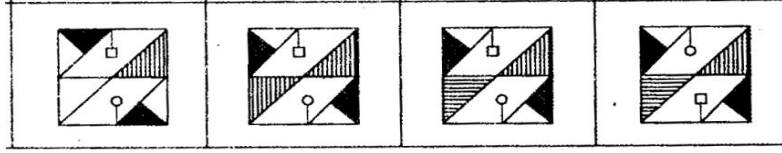
- a) 62 b) 64 c) 72 d) 74

100. प्रश्न आकृतीशी तंतोतंत जुळणारी आकृती पर्यायातून शोधा.

प्रश्न आकृती

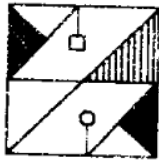


उत्तर आकृती

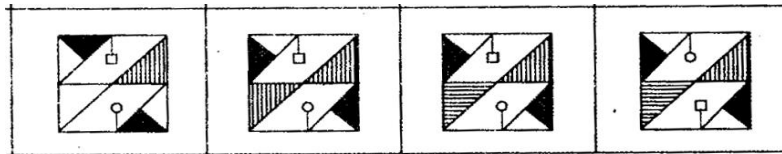


Find out an exact similar figure to the given question figure from the options.

Question Figure



Answer Figure



Rough Use....

Rough Use....