

1. Fill in the blanks with most suitable answer.

They don't know English, _____ ?

- a) do they b) has he c) isn't it d) hasn't he

2. If sound is to silence, then light is to _____ .

- a) bulb b) dark c) tube light d) sunshine

3. Ladies and _____ .

- a) lords b) gentlemen c) children d) women

4. Shivtej owns a _____ of cars.

- a) forest b) fleet c) forests d) fleets

5. Identify the kind of sentence.

How stupid of me!

- a) Assertive b) Imperative
c) Interrogative d) Exclamatory

6. Find the word spelt correctly from the given words.

- a) propose b) prepis c) prapose d) proposee

7. Identify the gender of the given word.

Plant

- a) masculine b) feminine
c) neuter d) all three

8. Select the word that is antonym of the given word.

Defeat

- a) War b) Lose c) Win d) Victorious

9. खालील दिलेल्या संख्यांचा क्रम पहा. हाच क्रम पुढे चालू ठेवला तर प्रश्नचिन्हाच्या जागी कोणती संख्या येईल?

२१, २९, ३७, ४५, ?

- a) २३ b) २७ c) ५३ d) ६१

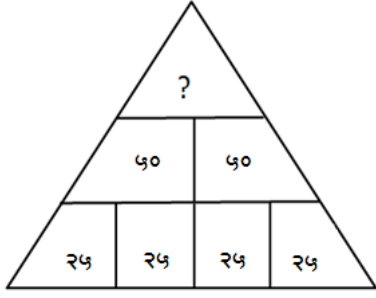
Look at the pattern numbers shown below.

21, 29, 37, 45, ?

If the pattern continues in the same way what will be the next number?

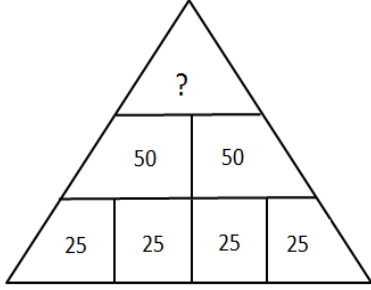
- a) 23 b) 27 c) 53 d) 61

10. खालील प्रश्नचिन्हाच्या जागी येणारी संख्या शोधा.



- a) ५० b) १०० c) १००० d) १०

Find the missing number?



- a) 50 b) 100 c) 1000 d) 10

11. खाली दिलेल्या बेरजेत रिकाम्या जागी कोणती संख्या येईल?

$$\begin{array}{r} १२९ \\ + ७३५ \\ \hline ८६ \square \end{array}$$

- a) $\square = ४$ b) $\square = ५$ c) $\square = ६$ d) $\square = ८$

Find the missing number in the following addition?

$$\begin{array}{r} 129 \\ + 735 \\ \hline 86 \square \end{array}$$

- a) $\square = 4$ b) $\square = 5$ c) $\square = 6$ d) $\square = 8$

12. २२४ ही संख्या अक्षरात कशी लिहाल?

- a) दोनशे चोवीस
b) दोन दोन चार
c) बाविस चार
d) चोविस

How to write the number 224 in words?

- a) Two Hundred and Twenty Four
b) Two Two Four
c) Twenty Two Four
d) Twenty Four

13. ' सात हजार ' ही संख्या अंकात कशी लिहाल.

- a) ७०७० b) ७००० c) ७०० d) ७०

Write the number 'Seven Thousand' in numerals?

- a) 7070 b) 7000 c) 700 d) 70

14. २, १, ४ या अंकांपासून तयार होणारी मोठ्यात मोठी सम संख्या कोणती?

- a) ४२१ b) २१४ c) १२४ d) ४१२

Which is the largest even number using digit 2, 1 and 4?

- a) 421 b) 214 c) 124 d) 412

15. १७ रु किलो प्रमाणे ३५ किलो गव्हाची किंमत किती होईल?

- a) ४९५ b) ५९५ c) ७९५ d) ८९५

What is the price of 35 kg of wheat at a rate of Rs. 17 per kg ?

- a) 495 b) 595 c) 795 d) 895

16. $\frac{४}{३} + \frac{२}{३} + \frac{३}{३} = ?$

- a) $\frac{९}{३}$ b) $\frac{४२३}{३}$ c) $\frac{६}{३}$ d) $\frac{९}{९}$

$\frac{४}{३} + \frac{२}{३} + \frac{३}{३} = ?$

- a) $\frac{९}{३}$ b) $\frac{४२३}{३}$ c) $\frac{६}{३}$ d) $\frac{९}{९}$

17. खालीलपैकी लीप वर्ष कोणते?

- a) १९९४ b) १९९० c) २००४ d) २००२

Which of the following is a leap year?

- a) 1994 b) 1990 c) 2004 d) 2002

18. ६ ली. ५० मिली म्हणजे किती मिली?

- a) ६५० मिली b) ६५ मिली c) ६०५ मिली d) ६०५० मिली

6 L and 50 ml makes how many ml?

- a) 650 ml b) 65 ml c) 605 ml d) 6050 ml

19. खालीलपैकी गायीपासून मिळणारे अन्नपदार्थ कोणते?

- १) साय २) दही ३) लोणी ४) मध
a) १ आणि २ b) २ आणि ३ c) १,२ आणि ३ d) १,२,३ आणि ४

Cow is the source of which of the following food items.

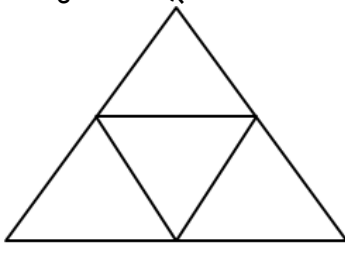
- 1) Cream 2) Curd
3) Butter 3) Honey
a) 1 and 2 b) 2 and 3 c) 1, 2 and 3 d) 1, 2, 3 and 4

20. अयोग्य पर्याय निवडा.
- a) पिलांना जन्म देण्यास मदत करते - प्रजनन संस्था
 b) हालचालीवर नियंत्रण ठेवते - मज्जा संस्था
 c) शरीराच्या सर्व भागांना प्राणवायू पोहोचविते - श्वसन संस्था
 d) निरुपयोगी पदार्थ शरीराबाहेर टाकते - उत्सर्जन संस्था
- Select the incorrect option.
- a) Helps in producing babies - Reproductive System
 b) Controls our actions - Nervous System
 c) Provides oxygen to all parts of the body - Respiratory System
 d) Removes wastes from the Body - Excretory System.
21. ध्वनीपेक्षा प्रकाशाचा वेग असतो.
- a) कमी b) जलद c) जास्त d) a आणि c दोन्हीही
- Light travels _____ than sound.
- a) slower b) faster c) longer d) Both a & c
22. खालीलपैकी लेखी संदेश कशाने पाठवू शकतो?
- a) तार b) फॅक्स c) ई-मेल d) यापैकी सर्व
- Written message can be sent through _____ .
- a) Telegram b) Fax c) Email d) All these
23. पृथ्वीच्या ज्या काल्पनिक रेषेभोवती फिरते त्या रेषेला पृथ्वीचा म्हणतात.
- a) विषुववृत्त b) आस c) कर्क d) अक्षरवृत्त
- The imaginary line on which the Earth is tilted is called _____ .
- a) Equator b) Axis c) Cancer d) Tropic
24. गटाशी विसंगत शब्द ओळखा.
- a) देठ b) फांद्या c) मुळ d) फुल
- Find the word not belonging to the group.
- a) Stem b) Branches c) Root d) Flower
25. हाडांचे घटक शब्द ओळखा.
- a) फॉस्फरस आणि लोह b) कॅल्शियम आणि फॉस्फरस
 c) कॅल्शियम आणि सोडियम d) ऑक्सिजन आणि हायड्रोजन
- What are the constituents of bone?
- a) Phosphorus and Iron b) Calcium and Phosphorous
 c) Calcium and Sodium d) Oxygen and Hydrogen
26. खालीलपैकी ऐकण्यासाठी कशाचा वापर होत नाही.
- a) रेडीओ b) स्पिकर c) चष्मा d) टेपरेकॉर्डर
- Which one is not used for hearing?
- a) Radio b) Speaker c) Spects d) Taperecorder

27. खालीलपैकी कोणत्या पदार्थात प्रथिने नसतात.
 a) मांस b) कांदा c) वटाणा d) दुध
 Which product does not contain Proteins?
 a) Meat b) Onion c) Peas d) Milk
28. रंग इंद्रधनुष्यात नसतो.
 a) निळा b) केशरी c) हिरवा d) पांढरा
 Which colour is not in the Rainbow?
 a) Indigo b) Orange c) Green d) White
29. घरातील कचरा कोठे टाकावा.
 a) शाळेत b) रस्त्यावर c) कचराकुंडीत d) घराबाहेर
 The garbage in the house should be thrown in _____.
 a) School b) Road c) Garbage box d) Outside house
30. खालील पैकी कोणता रोग पाण्याद्वारे होत नाही.
 a) कॉलरा b) हगवण c) हिवताप d) टायफॉईड
 Which of the following diseases does spread through water?
 a) Cholera b) Dysentery c) malaria d) Typhoid
31. चंद्रावरून माणसाला पृथ्वी कोणत्या रंगाची दिसली?
 a) लालसर b) निळसर c) पांढऱ्या d) काळसर
 What was the colour of the Earth seen by man from the moon?
 a) Redish b) Bluish c) White d) Blackish
32. 'लोकांनीच आपला राज्यकारभार करणे' याला काय म्हणतात?
 a) राजेशाही b) अधिकारशाही c) हुकुमशाही d) लोकशाही
 What is known by "Ruling by the People?"
 a) Kingdom b) Autocracy c) Dictatorship d) Democracy
33. सरकारमान्य स्वस्त धान्य दुकानात दाखवाव्या लागणाऱ्या पत्रिकेस काय म्हणतात?
 a) खाते पुस्तक b) पावती c) शिधापत्रिका d) पत्र
 To purchase the grains from fair price shops, _____ is required.
 a) Pass Book b) Receipt c) Ration Card d) Letter
34. नागरिकांनी वेळेच्या वेळेला भरले पाहिजे.
 a) पैसे b) कर्ज c) कर d) पाणी
 Citizens must pay _____ in time to time.
 a) Money b) Loan c) Tax d) Water
35. आपल्या राष्ट्रध्वजाला किती रंग आहेत?
 a) चार b) तीन c) पाच d) दोन
 How many colours are there in our national flag?
 a) Four b) Three c) Five d) Two

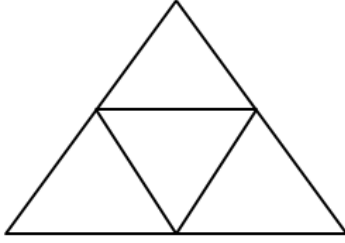
36. अशमयुगीन माणूस खालीलपैकी कोणते वादय वाजवत नसे?
 a) तबला b) ढोल c) हलगी d) बासरी
 Which instrument were not played by the stoneage people?
 a) Tabala b) Drum c) Halagi d) Flute
37. वस्तूंच्या देवाण घेवाणीला काय म्हणतात?
 a) वाहतूक b) कसब c) व्यापार d) खाजगी मालमत्ता
 What is called for 'give and take' process of things?
 a) Transport b) Skill c) Trading d) Private Property
38. गाव हे जणू एक मोठे होते.
 a) नगरच b) संकटच c) कुटुंबच d) घरच
 The village was like a big
 a) City b) Trouble c) Family d) House
39. खालील गटाशी जुळणारे पद पर्यायातून निवडा.
 नांगरणी, पेरणी, कापणी,
 a) बियाणे b) खांदणी c) खते d) वखरणी
 Select the matching word from the given group.
 Ploughing, Sowing, Cutting,
 a) Seeds b) Digging c) Fertilizers d) Smoothing
40. खालीलपैकी कोणत्या निसर्गशक्तींना माणूस देव मानत नाही?
 a) पाऊस b) वारा c) शेती d) सुर्य
 Which of the natural power is not belived as god by people?
 a) Rain b) Wind
 c) Farming & Agriculture d) Sun
41. शिस्तीचे पालन केल्याने वेळेची व बचत होते.
 a) कामाची b) उर्जेची c) पैशाची d) प्रतिष्ठेची
 Maintaining discipline helps one to save both time and
 a) work b) Energy c) money d) prestige
42. एक तारखेला रविवार होता, तर पुढील रविवार किती तारखेला येईल?
 a) ९ b) ८ c) ४ d) २
 On 1st it was Sunday. What will be the date on next Sunday.
 a) 9 b) 8 c) 4 d) 2

43. सोबतच्या आकृतीत एकूण चौकोन किती?



- a) ३ b) ४ c) ५ d) ६

How many squares are in the given figure.



- a) 3 b) 4 c) 5 d) 6

44. $३ \times ४ = १२$, $९ \times ६ = ५४$, $८ \times ९ = ?$

- a) ६९ b) ७२ c) २१ d) ६४

$3 \times 4 = 12$, $9 \times 6 = 54$, $8 \times 9 = ?$

- a) 69 b) 72 c) 21 d) 64

45. सचिन व सौरभ यांच्या वयांची बेरीज १९ वर्षे आहे . सौरभ सचिन पेक्षा ३ वर्षांनी लहान आहे. तर सचिनचे वय किती?

- a) ८ वर्षे b) ९ वर्षे c) ११ वर्षे d) १२ वर्षे

The addition of the ages of Sachin and Saurabh is 19 years. Saurabh is 3 years smaller than Sachin. What is the age of sachin.

- a) 8 years b) 9 years c) 11 years d) 12 years

46. आपल्या देशात खालीलपैकी कोणत्या बाबतीत विविधता नाही?

- a) वेशभूषा b) भाषा c) आहार d) देशाभिमान

In which of the following facts is there a variety in our country?

- a) Style of dressing b) Languages c) diet d) Pride of the Country

47. सर्व प्रकारच्या श्रमांना समान _____ असते.

- a) प्रतिष्ठा b) दर्जा c) किंमत d) वेतन

All the types of the works have an equal.....

- a) prestige b) level c) value d) salary

48. खालील पैकी कोणते साधन प्रवासाचे प्रमुख साधन नाही.
 a) टांगा b) बस c) विमान d) रेल्वे
 Which of the following is not major means of transport.
 a) Tanga b) Bus c) Aeroplane d) Railway
49. खालीलपैकी कोण स्वयंप्रकाशीत आहे?
 a) पृथ्वी b) ग्रह c) चंद्र d) सूर्य
 Who has its own light?
 a) Earth b) Planets c) Moon d) Sun
50. उद्योग सुरु करण्यासाठी खालीलपैकी कशाची गरज असते.
 a) उर्जा b) कर्मचारी
 c) बाजारपेठ d) सर्व पर्याय योग्य
 What is needed to start an Industry.
 a) Energy b) Workers
 c) Market d) All are correct
51. खालीलपैकी कोणता वनांचा उपयोग नाही.
 a) पर्यावरण थंड राहते
 b) जमिनीची धूप कमी होते
 c) निसर्ग सौंदर्यात वाढ होते
 d) खनिजे मिळतात
 What is not advantage of forest?
 a) Weather becomes cool
 b) The land erosion reduces
 c) The nature beauty increases
 d) Minerals are obtained
52. चंद्र हा पृथ्वीचा _____ आहे.
 a) मित्र b) जवळचा c) उपग्रह d) ग्रह
 Moon is Earth's _____.
 a) Friend b) Nearest
 c) Satellite d) Planet
53. नकाशात तपकिरी रंगाने काय दर्शविले जाते.
 a) नदया b) तलाव c) पर्वत d) समुद्र
 What is denoted by the brown colour in the map?
 a) Rivers b) Lake c) Mountains d) Sea

54. खालीलपैकी कोणती पर्वत रांग नाही.
 a) हिमालय b) सह्याद्री c) कळसुबाई d) बालाघाट
 Which one of the following is not the mountain range?
 a) Himalya b) Sahyadri c) Kalasubai d) Balaghat
55. दार्जीलिंग _____ या राज्यात आहे.
 a) आसाम b) बिहार c) पश्चिम बंगाल d) हिमाचल
 Darjiling is situated in _____.
 a) Assam b) Bihar c) West Bengal d) Himachal
56. महाराष्ट्राच्या पश्चिमेस _____ समुद्र आहे.
 a) अरबी b) बंगालचा उपसागर
 c) तांबडा d) उत्तर
 sea is situated at the west side of Maharashtra state.
 a) Arabian b) Bay of Bengal c) Red d) North
57. खालीलपैकी कोणते खरीपाचे पिक आहे.
 a) गहू b) करडई c) कापूस d) ऊस
 Which is the Kharip crop from the following.
 a) Wheat b) Karadai c) Cotton d) Sugarcane
58. आपला राष्ट्रीय प्राणी कोणता?
 a) सिंह b) हत्ती c) वाघ d) गाय
 Which is our national Animal?
 a) Lion b) Elephant c) Tiger d) Cow
59. विरुद्धलिंगी शब्द ओळखा.
 कोकिळा x
 a) कोकिळे b) पोपट c) कोकीळी d) कोकीळ
60. जसे जडीबुटी, झाडलोट, जीवजंतू तसे खबर काय?
 a) बात b) चिठ्ठी c) बिखर d) नाबर
61. वाघाची डरकाळी तसे खिंकाळणे कोणाचे?
 a) उंटाचे b) घोड्याचे c) वाघाचे d) गाढवाचे
62. खालीलपैकी कोणता शब्द स्त्रीलिंगी नाही.
 a) भाटी b) काच c) दगडे d) फळी

63. पुढील पर्यायातून शुद्ध शब्द ओळखा.

- a) अकस्मात b) आकस्मात c) असकमात d) अकसमात

64. खालीलपैकी एकवचनी शब्दांचा पर्याय निवडा.

- a) डोकी b) कढई c) सवयी d) किमती

65. खालीलपैकी जोडशब्द नसलेला शब्द कोणता?

- a) कडूगोड b) घरदार c) कज्जेखटले d) दानधर्म

66. खालील प्रश्नातील पहिल्या पदाचा दुसऱ्या पदाशी जसा संबंध आहे तसा संबंध तिसऱ्या पदाचा चौथ्या पदाशी आहे. हे लक्षात घेवून प्रश्नचिन्हाच्या जागी योग्य शब्द काय येईल ते ठरवा.

१० : ४ : २४ : ?

- a) १२ b) ११ c) १३ d) १५

In the following questions, the relation of the third term with the fourth term is the same as that of first term with the second. Therefore, choose the correct alternative to fourth term.

10 : 4 : 24 : ?

- a) 12 b) 11 c) 13 d) 15

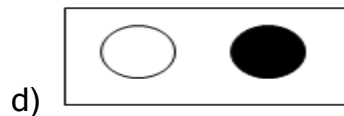

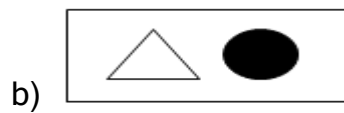
67. ग्रह : पृथ्वी : तारा : ?

- a) गुरु b) सूर्य c) चंद्र d) शनि

Planet : Earth : Star : ?

- a) Mars b) Sun c) Moon d) Saturn

68.



69. प्रत्येक जिल्ह्यात एक असते.

- a) ग्रामपंचायत b) मंत्रालय c) पंचायत समिती d) जिल्हा परिषद

Every district has a

- a) Gram Panchayat b) Ministry c) Panchayat Samiti d) Jilha Parishad

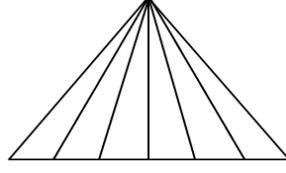
70. ८ वाजून १० मिनिटांनी घडयाळाच्या दोन काट्यात किती अंशाचा कोन होईल?

- a) 90^0 b) 75^0 c) 80^0 d) 85^0

What will be the angle between to hands of Watch at 8.10 .

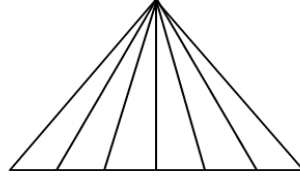
- a) 90^0 b) 75^0 c) 80^0 d) 85^0

71. सोबतच्या आकृतीत एकूण किती त्रिकोण आहेत?



- a) २१ b) १५ c) ७ d) २४

How many triangles are in given figure.



- a) 21 b) 15 c) 7 d) 24

72. तुम्हाला पुढीलपैकी कोणत्या मुलाशी मैत्री करण्यास आवडेल?

- a) जो माझे नेहमी कौतुक करतो
b) जो मला नेहमी खऊ देतो
c) जो नेहमी माझ्याशी खेळतो
d) जो माझ्या चुका दाखवितो व सुख दुखात सहभागी होतो

With which of the following boy will you like be friend?

- a) one who always praises me.
b) one who always gives me something to eat.
c) one who always plays with me.
d) one who shows my mistakes and shares my happiness and sorrows.

73. दिलेल्या अंक गटाशी सुसंगत अंक निवडा.

२, ११, १९, २३, ?

- a) १८ b) १६ c) ३७ d) ५२

Find the number belonging to the number given below.

2, 11, 19, 23, ?

- a) 18 b) 16 c) 37 d) 52

74. एका सांकेतिक भाषेत $A = ४, B = ५, C = ६$ असेल तर $A + B \times C = ?$

- a) ५४ b) १५ c) १२० d) ३४

In coded language at $A=4, B=5$ and $C = 6$ then What is $A + B \times C = ?$

- a) 54 b) 15 c) 120 d) 34

75. नाटक : दिग्दर्शक : : मासिक : ?

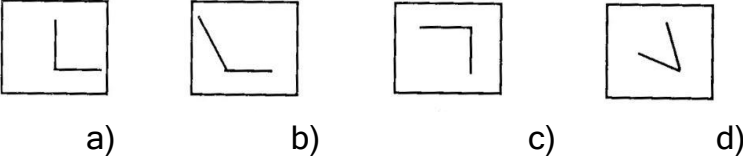
- a) लेखक b) प्रकाशक c) मुद्रक d) संपादक
 Drama : Director : : Magazine : ?
 a) Author b) Publisher c) Printer d) Editor

76. गटात बसणाऱ्या आकृतीचा क्रमांक लिहा.

प्रश्न आकृत्या



उत्तर आकृत्या

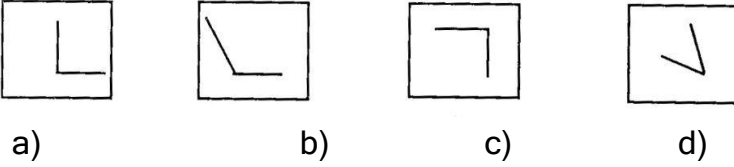


Find the Frame that fits in the following group.

Question fig.

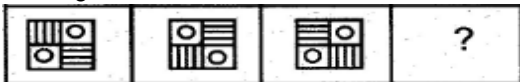


Answer fig.

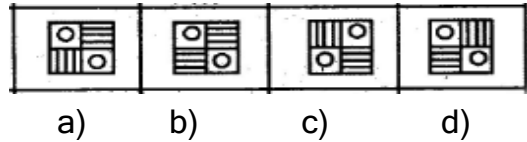


77. प्रश्नचिन्हाच्या जागी क्रमाने येणारी आकृती शोधा.

प्रश्न आकृत्या

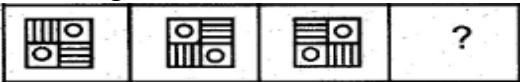


उत्तर आकृत्या

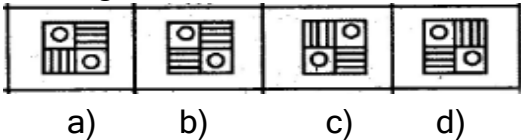


Find the figure which should be instead of ? .

Question Figures.



Answer Figures.



78. तीन मीटर अंतरावर एक झाड लावले तर ४५ मीटर अंतरावर किती झाडे लावता येतील?
 a) १५ b) १६ c) १४ d) १७
 If trees are at a distance of three metres in a distance of 45 metres, How many trees are there?
 a) 15 b) 16 c) 14 d) 17
79. ९, १३, १७, २२, २५ यातील चुकीचे पद ओळखा.
 a) १७ b) ७ c) १६ d) २२
 Find the odd man out. 9, 13, 17, 22, 25
 a) 17 b) 7 c) 16 d) 22
80. अजय अभय पेक्षा उंच आहे, अभय दिलीपपेक्षा उंच आहे. अजय रमेशपेक्षा उंच नाही तर सर्वात कमी उंच कोण?
 a) अजय b) दिलीप c) रमेश d) अभय
 Ajay is taller than Abhay , Abhay is taller than Dileep. Ajay is shorter than Ramesh then Who is the shortest?
 a) Ajay b) Dileep c) Ramesh d) Abhay
81. खालीलपैकी गटात न बसणारे पद ओळखा.
 a) सेंटीमीटर b) मिलीमीटर c) लिटर d) डेसिमिटर
 Find odd man out
 a) Centimeter b) Milimeter c) Liter d) Decimeter
82. खालील चौरसातील रिकाम्या जागी कोणती संख्या येईल?

१२	२	१०
४	२	?
३	१	२

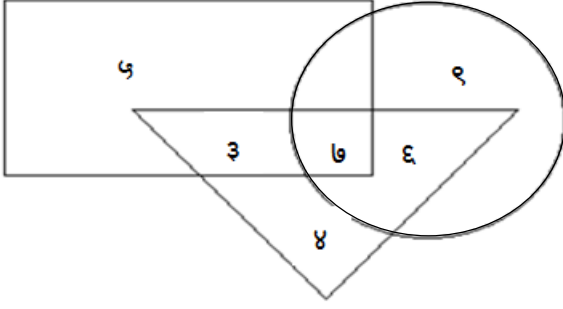
- a) २ b) ५ c) १२ d) ८

Which number should occur in the place of the question mark.

12	2	10
4	2	?
3	1	2

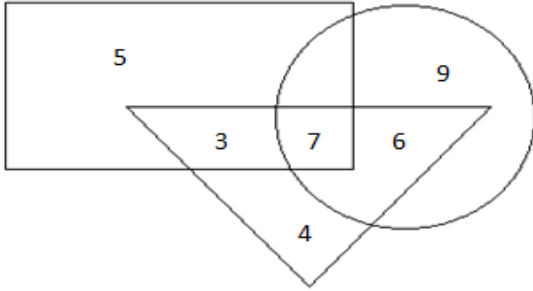
- a) 2 b) 5 c) 12 d) 8

83. शेजारील आकृतीचे निरीक्षण करा व योग्य पर्याय चौकटीत लिहा.
फक्त वर्तुळातील अंक कोणते?



- a) ९, ७ b) ९ c) ३, ७, ९ d) ६, ९

Observe the given venn diagram and answer the following question.
which are the number only inside the circle.



- a) 9, 7 b) 9 c) 3, 7, 9 d) 6, 9

84. २०१४ चे नोबेल पारितोषिक विजेते भारतीय कोण?

- a) कैलाश सत्यार्थी b) मलाला युसुफ जाई
c) हिरोशी अमानो d) पॅट्रिक मोदियानो

Which of the following Indian won the Nobel Prize 2014?

- a) Kailash Satyarthi b) Malala Yousaf Zai
c) Hiroshi Amano d) Patrik Modiano

85. BJ : EM :: ? : OT

- a) LP b) LQ c) LO d) QZ

86. यंदाचे ९५ वे अखिल भरतीय मराठी नाट्यसंमेलन खालीलपैकी कोणत्या शहरात होत आहे?

- a) बेळगाव b) घुमान c) पुणे d) अमरावती

In which of the following city is this year's 95th Akhil bharity Marathi Natyasammelan?

- a) Belgaon b) Ghuman c) Pune d) Amravati

87. खालीलपैकी कोणते भारतीय शास्त्रीय नृत्य आहे?

- a) गरबा b) कुचिपुडी c) भांगडा d) छाहु

Which of the following is the Indian classical dance?

- a) Garba b) Kuchipudi c) Bhangara d) Chhau

88. महाराष्ट्राचे शिक्षण मंत्री कोण आहेत?

- a) एकनाथ खडसे b) विनोद तावडे
c) प्रकाश मेहता d) पंकजा मुंडे

Who is the Education Minister of Maharashtra.

- a) Eknath Khadase b) Vinod Tavade
c) Prakash Mehata d) Pankaja Mundhe

89. महाराष्ट्राचे उपमुख्यमंत्री कोण आहेत ?

- a) देवेंद्र फडणवीस b) अजित पवार
c) एकनाथ खडसे d) यापैकी कोणीच नाहीत

Who is the Deputy Chief Minister of the Maharashtra.

- a) Devendra Fadanvis b) Ajit Pawar
c) Eknath Khadase d) None of These

90. 'बिबी का मकबरा' हि ऐतिहासिक वास्तू कोणत्या शहरात स्थित आहे?

- a) आग्रा b) हैद्राबाद c) औरंगाबाद d) पुणे

The Historical ' Bibi ka Makbara ' is situated in

- a) Agra b) Hyderabad c) Aurangabad d) Pune

91. खालीलपैकी कशाला ई- कचरा म्हणतात.

- a) कुजलेली भाजी b) खराब झालेला मोबाईल
c) पडून असलेली सायकल d) या पैकी नाही

Which of the following is known as E- Waste.

- a) Rotten Vegetables b) Non working mobiles
c) unconditional cycle d) None of these

92. भारताचे रेल्वे मंत्री कोण आहेत?

- a) सुरेश प्रभु b) मनोहर पर्रीकर
c) मनोहरलाल खट्टर d) ममता बनर्जी

Who is the railway minister of the India?

- a) Suresh Prabhu b) Manohar Parrikar
c) Manoharlal khattar d) Mamata Banarji

93. कोणत्या जिल्ह्यात ' अजिंठा व वेरुळ लेणी ' आहेत?

- a) पुणे b) अहमदनगर c) औरंगाबाद d) लातूर

In Which district 'Ajanta and Verul Caves ' are located.

- a) Pune b) Ahamadnagar c) Aurangabad d) Latur

94. महाराष्ट्र राज्यातील पहिला संपूर्ण साक्षर जिल्हा कोणता?

- a) पुणे b) सिंधुदुर्ग c) नागपुर d) ठाणे

Which of the first full literate district in Maharashtra?

- a) Pune b) Sindhudurg c) Nagpur d) Thane

95. खालीलपैकी कोणते खरीप पिक नाही ?
 a) कापूस b) ज्वारी c) तांदुळ d) गहू
 Which of the following is the not kharip crop?
 a) Cotton b) Jawar c) Rice d) Wheat
96. महाराष्ट्राच्या उपराजधानीचे शहर कोणते?
 a) नागपुर b) पुणे c) मुंबई d) अमरावती
 Which city is the second capital of Maharashtra?
 a) Nagpur b) Pune c) Mumbai d) Amaravati
97. 12 जानेवारीला खालीलपैकी कोणाची जयंती आहे.
 a) राजमाता जिजाऊ b) महात्मा ज्योतिबा फुले
 c) महाराणी ताराबाई d) वसंतराव नाईक
 12 January is a Birth Anniversary of
 a) Rajmata Jijau b) Mahatma Jyotiba Fule
 c) Maharani Tarabai d) Vasanttrao Naik
98. भारताच्या प्रशासनिक सेवेत दाखल होण्यासाठी खालीलपैकी कोणती परीक्षा द्यावी लागते?
 a) आय.ए.एस b) यु.पी.एस.सी. c) एम.पी.एस.सी. d) आर.टी.एस.ई.
 Which of the following examination should be given to enter in the Indian Civil Services?
 a) I.A.S. b) U.P.S.C. c) M.P.S.C. d) R.T.S.E.
99. ' स्टॉच्यू ऑफ यूनिटी ' हा १८२ मीटर उंचीचा पुतळा कोणत्या राज्यात उभारण्यात येत आहे.
 a) महाराष्ट्र b) गुजरात c) मध्यप्रदेश d) हरियाणा
 In which of the following state 182 meter high, 'Statue of Unity' is being erected?
 a) Maharashtra b) Gujrat c) Madhypradesh d) Hariyana
100. 2 ऑक्टोबर २०१४ रोजी कोणत्या अभियानाची सुरुवात झाली?
 a) मेक इन इंडिया b) जन धन योजना
 c) स्वच्छ भारत अभियान d) निर्मल ग्राम अभियान
 Which mission is started on 2 oct 2014?
 a) Make in India b) Jan Dhan Yojana
 c) Swachh Bharat Abhiyan d) Nirmal Gram Abhiyan