

प्रश्नपुस्तिका पर्यवेक्षकांनी सांगितल्याशिवाय उघडू नये...

Do not open this booklet until asked to do so...

RATIONALIST TALENT SEARCH EXAM 2014 (RTSE)

Question Booklet

STD : II

Date of Examination : 30 March 2014

Time : 2.00 pm to 4.30 pm

Roll No.

--	--	--	--	--	--

Guidelines for the candidate

- परिक्षा सुरु होण्यापूर्वी विद्यार्थ्यांना संपूर्ण माहिती भरण्यासाठी 30 मिनिटे अधिक वेळ देण्यात येईल.
You will get additional thirty minutes to fill up information about yourself on the Answer Sheet, before the start of the exam.
- सदर प्रश्नपुस्तिकेमध्ये एकूण 150 प्रश्न असून प्रत्येक प्रश्नासाठी 2 गुण आहेत.
This question booklet contains 150 questions each question carries 2 marks.
- सर्व प्रश्न सोडविणे आवश्यक आहे. चुकीच्या उत्तराबद्दल मिळालेल्या गुणातून कुठल्याही प्रकारचे गुण वजा केले जाणार नाहीत.
All questions are compulsory. There is no negative marking.
- आपल्याच वर्गाची प्रश्नपुस्तिका मिळाल्याची खात्री करून घ्यावी.
Check to make sure that you have received the appropriate test booklet for your standard.
- उत्तरपुस्तिकेवर आपले नाव, परिक्षा क्रमांक, गट आणि वर्ग योग्य प्रकारे लिहून न विसरता स्वाक्षरी करावी.
Write your **name, roll number, group** and **class** clearly on the Answer Sheet and do not forget to sign it.
- पर्यायांमध्ये केवळ एकच उत्तर बरोबर आहे. बरोबर उत्तरासाठी एकच पर्याय निवडावा.
There is only one correct answer. Choose only one option for an answer.
- उत्तराचा पर्याय रंगविण्यासाठी केवळ काळा/निळा रंगाचा बॉलपेनच वापरावा.
To mark your choice of answers by darkening the circles in the Answer Sheet, use a **blue/black ball point pen** only. Eg.

Q. x :- Fill in the blanks.

My father went _____ to buy some milk.

A. There

B. their

C. They're

D. here

As the correct answer is option A, you must darken the circle corresponding to option A in the Answer Sheet

Q.x ● (B) (C) (D)

- परिक्षा संपल्यावर तुमची उत्तरपत्रिका पर्यवेक्षकाकडे परत करावी.
Return the Answer Sheet to the invigilator at the end of the exam.
- आपला परिक्षा क्रमांक प्रश्नपुस्तिकेवर सुद्धा लिहावा व सदर प्रश्नपुस्तिका परिक्षा कालावधीनंतर आपल्या सोबत न्यावी.
Write your Roll No. on the Question Paper too and take it home for future reference.

1. खालील पर्यायांत नाम नसलेला शब्द शोधा.
a) मंगळवार b) सोमवार c) शनिवार d) उंच
2. खालील शब्दांपैकी सर्वनाम ओळखा.
a) दररोज b) अभ्यास c) ती d) करते
3. खालील वाक्यातील विशेषण ओळखून त्याचा पर्याय क्रमांक शोधा
वेलीवर रंगीबेरंगी फुलपाखरे होती.
a) वेलीवर b) फुलपाखरे c) रंगीबेरंगी d) होती
4. 'लताच्या चपलेचा अंगठा तुटला' या वाक्यातील क्रियापद ओळखा.
a) तुटला b) चपलेचा c) अंगठा d) लताच्या
5. खालील शब्दांच्या विरुद्धलिंगी शब्द शोधा.
शिक्षक
a) मुले b) शाळा c) शिक्षक d) शिक्षिका
b)
6. खालील गटातील एकवचनी शब्द शोधा.
a) कमानी b) अंगठी c) इमारती d) गवळणी
7. खालीलपैकी भूतकाळी वाक्याचा पर्याय ओळखा.
a) आई बाजारात गेली. b) आई बाजारात जाते.
c) आई बाजारात जाणार आहे. d) आई बाजारात जाईल
8. 'झाडावर खूप माकडे होती.' या वाक्यातील विरामचिन्ह ओळखून त्याचा पर्याय क्रमांक शोधा.
a) प्रश्नचिन्ह b) पूर्णविराम c) उद्गारचिन्ह d) अवतरण चिन्ह

9. खालील वाक्प्रचाराचा अर्थ ओळखून त्याचा पर्याय क्रमांक ओळखा.
काटकसर करणे -
- a) खूप खर्च करणे b) शाबासकी देणे c) खूप कष्ट करणे d) बचत करणे
10. खालीलपैकी इंग्रजी महिना कोणता?
a) जानेवारी b) पौष c) माघ d) श्रावण
- Which of the following is English month?
- a) January b) Paush c) Magh d) Shravan
11. Choose the odd set of letters from the options.
a) T-T b) Z-Z c) d-D d) W-W
12. Which of the following options letters are arranged alphabetically?
a) NMOP b) UWVT c) DABC d) EFGH
13. Fruit seller sales what?
a) bread b) grains c) fruits d) books
14. Choose the rhyming word for 'name' .
a) not b) man c) game d) then
15. If the words in the option arranged alphabetically which will be the last word?
a) ox b) zebra c) car d) bat
16. Which day falls between Thursday and Saturday?
a) Sunday b) Friday c) Tuesday d) Monday

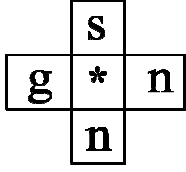
17. How many days are there in the month 'May'?

- a) 31 b) 30 c) 28 d) 29

18. Which of the following is a verb?

- a) white b) ball c) cup d) sing

19. Choose the appropriate letter at the place of *.



- a) u b) m c) b d) p

20. 59 ही संख्या अक्षरात कशी लिहितात?

- a) अड्डावन्न b) एकोणसाठ c) पंच्यान्नव d) एकोणसत्तर

How will you write 59 in words?

- a) Fifty Eight b) Fifty Nine c) Ninety Five d) Sixty Nine

21. 1 शतक = किती दशक?

- a) 1 b) 100 c) 10 d) 1000

1 Century = How many Decades?

- a) 1 b) 100 c) 10 d) 1000

22. खालील पर्यायांतून संख्या व त्यांची विस्तारित मांडणी यांची चुकीची जोडी शोधा.

- a) $37 = 30 + 7$ b) $54 = 50 + 4$ c) $70 = 70 + 7$ d) $85 = 80 + 5$

Find out the incorrect pair from the figure and their bifurcation of the following.

- a) $37 = 30 + 7$ b) $54 = 50 + 4$ c) $70 = 70 + 7$ d) $85 = 80 + 5$

23. रिकाम्या चौकटीत योग्य चिन्हाचा पर्याय क्रमांक शोधा.

$$9 - 9 \square 7 - 7$$

- a) < b) > c) = d) \wedge

Choose the correct alternative to fill in the box.

$$9 - 9 \square 7 - 7$$

- a) < b) > c) = d) \wedge

24. 17, 25, 12 या संख्यांचा चढता क्रम कोणता आहे?

- a) 25, 17, 12 b) 12, 25, 17 c) 17, 12, 25 d) 12, 17, 25

Arrange the given numbers in their ascending order.

$$17, 25, 12$$

- a) 25, 17, 12 b) 12, 25, 17 c) 17, 12, 25 d) 12, 17, 25

25. खालीलपैकी कोणती विषम संख्या असेल?

- a) $9 + 5$ b) $7 - 5$ c) 7×3 d) $8 + 6$

Which of the following will be the odd number?

- a) $9 + 5$ b) $7 - 5$ c) 7×3 d) $8 + 6$

26. 4 द 5 ए + 4 द + 5 ए = किती?

- a) 45 दशक b) 8 दशक c) 9 दशक d) 9 एकक

4 tens 5 units + 4 tens + 5 units = How much?

- a) 45 tens b) 8 tens c) 9 tens d) 9 units

27. $6 \times 4 = 24$ या गुणाकारात ----- गुणक व ----- गुणाकार आहे.

- a) 4, 24 b) 6, 24 c) 24, 4 d) 6, 4

In the multiplication $6 \times 4 = 24$, _____ is multiplier and _____ is multiplication.

- a) 4, 24 b) 6, 24 c) 24, 4 d) 6, 4

28. खालील पर्यायांतून चुकीचे विधान ओळखा.
- a) कोणतीही संख्या व शून्य यांचा गुणाकार शून्य येतो.
 - b) कोणतीही संख्या व एक यांचा गुणाकार तीच संख्या येते.
 - c) गुण्य व गुणक यांची अदलाबदल केल्यास गुणाकार तोच येतो.
 - d) ज्या संख्येला गुणायचे त्या संख्येला गुणक म्हणतात.

Find out the incorrect sentence from the following options.

- a) The multiplication of any number and 0 is 0.
- b) The multiplication of any number and 1 is the same number.
- c) If multiplicand and multiplier replaces each other then multiplication will not change.
- d) A number to be multiplied by another is called as multiplicand.

29. एका खोक्यात 6 बाटल्या आहे, तर 7 खोक्यात मिळून किती बाटल्या आहेत?

- a) 13
- b) 42
- c) 45
- d) 63

There are 6 bottles in one box, how many total bottles will be there in 7 boxes?

- a) 13
- b) 42
- c) 45
- d) 63

30. 50 रुपयांत 10 रुपयांच्या नोटा येतात.

- a) 5
- b) 50
- c) 70
- d) 20

In 50 rupees there are _____ notes of Rs. 10.

- a) 5
- b) 50
- c) 70
- d) 20

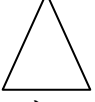
31. 1 तास 30 मिनिटे = मिनीटे.

- a) 75
- b) 90
- c) 85
- d) 100


1 Hr 30 Min = _____ Min.

- a) 75
- b) 90
- c) 85
- d) 100

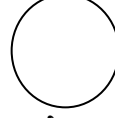
32. खालील पर्यायांतून चुकीचा जोडीचा पर्याय ओळखा.



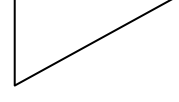
a) त्रिकोण



b) आयत

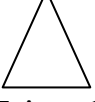


c) वर्तुळ




d) चौरस


Find the wrong pair.



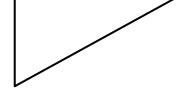
a) Triangle



b) Rectangle




c) Circle



d) Square

33. शेजारील आकृतीचा आकार पर्यायांतून शोधा.




a) शंकू

b) गोल

c) दंडगोल

d) इष्टिकाचिती

Which is the shape of following?



a) Cone

b) Circle

c) Can

d) Pentagon

34. भारतीय सौर वर्षात कार्तिक महिन्याचा क्रमांक कितवा?

a) 8

b) 7

c) 9

d) 6

Which is the month of 'Kartik' in Marathi calendar year?

a) 8

b) 7

c) 9

d) 6

35. खालील पर्यायांतून गटात न बसणारा पर्याय ओळखा.

a) गुडघा

b) पोटरी

c) मांडी

d) मनगट

Find odd man out.

a) Knee

b) Calf

c) Thigh

d) Wrist

36. खालील पर्यायांतून चुकीचे विधान ओळखा.

- a) सर्व माणसांची उंची सारखी असते. b) माणसांच्या रंगात वेगवेगळे पणा असतो.
c) शरीराच्या वाढीबरोबर वजनातही वाढ होते. d) वयाप्रमाणे माणसामाणसात फरक दिसतो.

Find out wrong sentence from the following.

- a) Height of the every person in equal.
b) Colour of the every person is different.
c) As body increases, weight also increases.
d) Man looks different according to the age.

37. खालील पैकी कोणती गोष्ट 'कान' या ज्ञानेंद्रीयामुळे कळते?

- a) पक्षी उडत आहे b) आंबा गोड आहे
c) गवई गात आहे d) अत्तराचा सुवास पसरला आहे

Which of the following things understood by ear.

- a) Birds are flying b) Mango is sweet
c) Singer sings the song d) Scent Fragrance is spread

38. जसे कारले : कडू :: तसे मिरची : ?

- a) आंबट b) तिखट c) गोड d) तुरट

As Bitter Ground : bitter :: Then Chilly : ?

- a) Soar b) acrid c) sweet d) astringent

39. खालीलपैकी अन्नपदार्थ टिकवण्याची क्रिया कोणती नाही?

- a) खारवणे b) पाकवणे c) हवाबंद डब्यात साठवणे d) तळणे

Which of the following is not a processing food?

- a) To soar b) To boil
c) Preserved in sealed tiffin d) fry

40. खालील पर्यायांतून योग्य विधान ओळखा.

- a) शुद्ध पाण्यामुळे रोग होतात
b) पाण्याच्या भांड्यात हात बुडवावेत
c) पाणी उकळून पिऊ नये
d) विहिरीजवळ कपडे धुवू नये

Find out correct statement.

- a) Ailments occurred due to filtration of water
b) Put the fingers in a water pot
c) Don't drink boiled water
d) Don't wash clothes nearby the well

41. खालीलपैकी कोणते कडधान्य आहे?

- a) गहू
b) ज्वारी
c) बाजरी
d) मटकी

Which of the following is pulse?

- a) Wheat
b) Jowar
c) Bajra
d) Moth-beans

42. चालणाऱ्या माणसाच चित्र असलेला ----- सिग्नल असेल तेंव्हाच रस्ता ओलांडावा.

- a) लाल
b) पिवळा
c) काळा
d) हिरवा

Cross the road when you see _____ coloured signal with the picture of walking man.

- a) Red
b) Yellow
c) Black
d) Green

43. रस्त्यावरून चालताना रस्त्याच्या कोणत्या बाजूने चालावे.

- a) उजव्या
b) डाव्या
c) वाहनाच्या
d) खालच्या

Which side is to be used while walking?

- a) Right
b) Left
c) Towards vehicle
d) Down

44. कोणत्या घरांना कौलाचे छत असते?

- a) बंगला
b) सदनिका
c) झोपडी
d) कौलारु

In which types of houses there are tegular roof?

- a) Bungalow
b) House
c) Hut
d) Tegular

45. कुठेही घेऊन जाता येणारे व दोराच्या आधारेने तात्पुरते उभे करता येणाऱ्या जाड कापडाच्या घराला ---- म्हणतात.

- a) झोपडी b) तंबू c) गगनचूंबी इमारत d) बंगला

What we call to a house being made by rope and can be easily shifted?

- a) Hut b) Tent c) Huge building d) Bungalow

46. ज्या घरात राहायचे, ते घर असे असावे.

- a) घाण b) कोंदट c) अस्वच्छ d) हवेशीर

Where we live, the house should be _____.

- a) Dirty b) Humid c) Unclean d) Airy

47. खालीलपैकी राष्ट्रीय सण कोणता?

- a) नागपंचमी b) रमजान ईद c) प्रजासत्ताक दिन d) मकर संक्रांत

Which of the following is a National Festival?

- a) Nagpanchami b) Ramjan Eid c) Republic Day d) Makar Sankranta

48. खालीलपैकी कोणत्या सणाला प्राण्यांना नैवेद्य दाखवून त्यांची पूजा केली जाते?

- a) बैलपाळा b) गुढीपाडवा c) दसरा d) नारळी पोर्णिमा

Which festival is celebrated by giving Prasad to Animal?

- a) Bailpola b) Gudhipadwa c) Dasra d) Narali Pornima

49. हिवाळ्यात कोणते कपडे वापरावेत?

- a) लोकरी b) रेशमी c) सुती d) रंगीत

Which kind of clothes should be used in winter?

- a) Woolen b) Silky c) Cotton d) Colourful

50. सुती कापड कोणत्या वनस्पतीच्या धाग्यापासून मिळते?

- a) कापूस b) घायपात c) अंबाडी d) काटेसावर

Cotton clothes are made from which plant?

- a) Cotton b) Silk c) Flax d) Katesavar

51. 'मेंढी या प्राण्यापासून कोणते कापड तयार होते?'

- a) रेशीम b) सुती c) लोकरीचे d) नायलॉनचे

Which clothe is made from 'Sheep'?

- a) Silk b) Cotton c) Wool d) Naylon

52. मामाच्या घराला ----- म्हणतात.

- a) आजोळ b) सासर c) माहेर d) मामेवाडी

The house of maternal uncle is called _____.

- a) Ajol b) Sasar c) Maher d) Mamewadi

53. बाबांची आई माझ्या आईची कोण लागते?

- a) सासू b) आत्या c) मावशी d) काकी

Who will be the dad's mother to my mother?

- a) Mother-in-law b) Paternal Aunt c) Maternal Aunt d) Aunty

54. वाळवंटात कोणत्या प्राण्याचा विशेष उपयोग होतो?

- a) हत्ती b) लांडगा c) घोडा d) उंट

Which is animal is used in desert?

- a) Elephant b) Wolf c) Horse d) Camel

55. घोडा कोठे राहतो?

- a) गुहा b) अंबरखाना c) तबेला d) गोठा

Where do horse live?

- a) Cave b) Ambarkhana c) Stable d) Cow Shed

56. जेवणासाठी कोणत्या झाडाची पाने वापरतात?

- a) आंबा b) पिंपळ c) केळी d) जांभूळ

Which leaves are used while eating food?

- a) Mango b) Peepal Tree c) Banana d) Jamun

57. खालीलपैकी कोणती फळभाजी आहे?

- a) वांगे b) मेथी c) शेंपू d) पालक

Which of the following is fruit vegetable?

- a) Brinjal b) Fenugreek c) Shepu d) Spinach

58. घसरगूंडी खेळायचे आहे, तुम्ही कोणत्या ठिकाणी जाल?

- a) बँक b) वाचनालय c) उद्यान d) बाजार

You want to play slider where will you go?

- a) bank b) library c) garden d) market

59. खालील पर्यायांतून योग्य विधान ओळखा.

- a) एस.टी. विमानतळावर थांबते b) लोक औषधोपचारासाठी दूध डेअरीत जातात.
c) उद्यानात गेल्यावर झाडांची पाने तोडावीत. d) मुले खेळण्यासाठी क्रिडांगणावर जातात.

Choose the correct sentence from the following.

- a) S.T. stops at Airport.
b) People go to milk dairy for purchasing medicines.
c) Pick out the leaves of trees when you go to garden.
d) Boy goes to ground for playing.

60. तारेपेक्षा लवकर संदेश पोहचवायचा असेल, तर ----- चा उपयोग होतो.

- a) टेलिफोन b) टपाल c) पत्र d) वृत्तपत्र

If you want to send quick message than telegram, _____ is used.

- a) Telephone b) Post Office c) Letter d) Newspaper

61. मुख्य दिशा किती आहेत?

- a) चार b) पाच c) सात d) सहा

How many basic directions are there?

- a) Four b) Five c) Seven d) Six

62. ईशान्य दिशा कोणत्या दोन मुख्य दिशांत आहे?

- a) उत्तर - पश्चिम b) पश्चिम - दक्षिण c) पूर्व - उत्तर d) दक्षिण - उत्तर

North East direction is in between _____.

- a) North-West b) West-South c) East-North d) South-North

63. खालील पर्यायांतून चुकीच्या जोडीचा पर्याय शोधा.

- a) पायाशी छोटी सावली - दुपारी b) गाढ झोप - मध्यरात्री
c) पारिजात बहरतो - सकाळ d) रातकिड्यांची किरकिर - दुपार

Find out the wrong pair of following sentences.

- a) Shadow near legs - Afternoon b) Fast sleep - at midnight
c) Parijat blows - in the morning d) Sound of Raatkide - Afternoon

64. मुले ----- मैदानावर खेळतात.

- a) रात्री b) पहाटे c) संध्याकाळी d) सकाळी

Boys play on ground in the _____.

- a) night b) early morning c) evening d) morning

65. खालीलपैकी कोणते विधान 'पावसाळा' या ऋतूशी संबंधित नाही?

- a) पावसाळ्यात पाऊस पडतो
b) पावसाळ्यात हवा दमट व ओलसर असते
c) पावसाळ्यात आपण स्वेटर व मफलर वापरतो
d) जून, जुलै, ऑगस्ट व सप्टेंबर हे पावसाळ्याचे चार महिने आहेत.

Which of the following sentence is not co-related with 'Rainy Season'?

- a) Rain falls during rainy season.
b) During rainy season the climate is humid.
c) We use sweater and muffler.
d) June, July, August and September are the four months of rainy season.

66. हिवाळ्यात आपण हा पदार्थ खातो.....

- a) आईस्क्रिम b) पावभाजी c) बाजरीची भाकरी d) यापैकी नाही

We eat _____ during winter.

- a) Ice Cream b) Pav Bhaji c) Bajra Roti d) None of these

67. पशुपक्ष्यांपासून मिळणारी नैसर्गिक संपत्ती कोणती?

- a) अंडी व मांस b) मीठ c) रबर d) गवत

Which of the following natural asset we get from the birds?

- a) Eggs and flesh b) Salt c) Rubber d) Grass

68. खालीलपैकी कोणती वनस्पती औषधी वनस्पती म्हणून ओळखली जाते?

- a) वड b) गवती चहा c) आंबा d) गुलमोहर

Which of the following is called as herbs?

- a) Banyan b) Green leaves tea c) mango d) gulmohar

69. खालीलपैकी मानवनिर्मित संपत्ती कोणती?

- a) स्वेटर b) लाकूड c) लोहखनिज d) माती

Which of the following is manmade asset?

- a) sweater b) wood c) iron d) soil

70. खालील पर्यायांतील योग्य जोडी कोणती?

- a) लाकूड - ताक b) कापूस - जॅम c) दगड - बटर d) दूध - आईस्क्रिम

Which of the following pair is right?

- a) wood-butter milk b) cotton-jam c) stone-bitter d) milk-ice cream

71. खालील पर्यायांतील चुकीच्या जोडीचा पर्याय शोधा.

- a) गहू - पाव b) लाकूड - टेबल c) माती - टायर्स d) लोकर - स्वेटर

Which of the following pair is wrong?

- a) wheat-bread b) wood-table c) mud-tyre d) wool-sweater

72. आपल्याला जमिन या संपत्तीपासून कोणती गोष्ट मिळते?

- a) मध b) कागद c) लोहखनिज d) मीठ

What is the asset we get from land?

- a) Honey b) Paper c) Iron Mineral d) Salt

73. 'सूर्य मावळतो' हे वर्णन कोणत्या वेळेचे आहे?

- a) पहाट b) सायंकाळ c) दुपार d) सर्व पर्याय बरोबर

At what time the sun set appear?

- a) Early morning b) Evening c) Afternoon d) All of these

74. खालीलपैकी कोणता महिना हिवाळ्यात येत नाही?

- a) नोव्हेंबर b) डिसेंबर c) मार्च d) जानेवारी

Which of the following month does not come in winter?

- a) November b) December c) March d) January

75. सूर्योदय कोणत्या दिशेस होतो?

- a) दक्षिण b) पूर्व c) पश्चिम d) उत्तर

In which direction the sun rises?

- a) South b) East c) West d) North

76. पूर्वेकडे तोंड करून उभे राहिले की पाठीमागची दिशा कोणती?

- a) पूर्व b) पश्चिम c) दक्षिण d) उत्तर

If our face is towards East which direction is behind?

- a) East b) West c) South d) North

77. 'सर्व जगातील बातम्या माझ्यात छापलेल्या असतात. तर मी कोण?' या शब्दकोड्याचे उत्तर ओळखा.

- a) तार b) दूरदर्शन c) टेलिफोन d) वर्तमानपत्र

'All the news all over the world are printed on me.' Who I am? Find the answer

- a) Telegram b) Television c) Telephone d) Newspaper

78. वनस्पतींची निगा घेण्याविषयीची योग्य कृती कोणती?

- a) झाडांच्या फांद्या तोडाव्यात
- b) झाडांची पाने तोडावीत
- c) झाडांना रोज पाणी द्यावे व आठवड्यातून एकदा खत द्यावे
- d) वनस्पतींवर विषारी औषध फवारावे.

Which is the proper action to take care of the plants?

- a) Cut the branches of the trees.
- b) Cut the leaves of the trees.
- c) Water the plant daily and give manure once a week.
- d) Spray poisonous pesticides on the plant.

79. ओझे वाहून नेण्यासाठी कोणत्या प्राण्याचा उपयोग होतो?

- a) गाढव
- b) कोल्हा
- c) सिंह
- d) काळवीट

Which of the following animal used to load heavy luggage?

- a) Donkey
- b) Wolf
- c) Lion
- d) Stag

80. तुमच्या वडिलांची बहीण तुमची कोण लागते?

- a) मावशी
- b) आत्या
- c) मामी
- d) नणंद

Who is your father's sister?

- a) Paternal Aunt
- b) Maternal Aunt
- c) Maternal Uncles wife
- d) Sister in law

81. तिखट पदार्थ खाल्ल्यामुळे ----- आग होते.

- a) कानाची
- b) नाकाची
- c) जिभेची
- d) डोक्याची

If chilly is eaten there is burning sensation in _____.

- a) ear
- b) nose
- c) tongue
- d) head

82. खालीलपैकी कोणती चव नाही?

a) आंबट

b) गोड

c) खारट

d) साखर

Which of the following is not a taste?

a) Soar

b) Sweet

c) Salty

d) Sugar

83. खालीलपैकी कोणता पायाचा भाग आहे?

a) मांडी

b) मनगट

c) कोपर

d) खांदा

Which of the following is a part of the leg?

a) thigh

b) wrist

c) elbow

d) shoulder

84. खालील गटातील नपुंसकलिंगी शब्द ओळखा.

a) बैल

b) चिमणी

c) रेडकू

d) मेंढी

Which of the following is a natural word?

a) ox

b) sparrow

c) he-goat

d) sheep

85. रक्षाबंधन या सणाला ----- असेही म्हणतात.

a) चैत्र पौर्णिमा

b) माघ पौर्णिमा

c) वैशाख पौर्णिमा

d) नारळी पौर्णिमा

86. 'रडणे' या शब्दाच्या उलट अर्थी शब्द कोणता?

a) खेळणे

b) दुःखी होणे

c) जिकणे

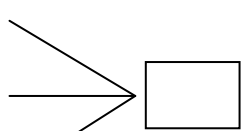
d) हसणे

87. खालील प्रश्नात रिकाम्या जागी कोणता शब्द लिहिल्यास तीनही शब्द अर्थपूर्ण होतील?

रुबाब

डौल

टोक



a) दार

b) वार

c) फार

d) यापैकी नाही

88. खालील म्हणीचा योग्य अर्थ दिलेल्या पर्यायांतून शोधा. कोणत्याही गोष्टीचा अतिरेक हा नुकसानकारक ठरतो.

- a) अति शहाणा त्याचा बैल रिकामा
b) अति तेथे माती
c) एकावे जनाचे करावे मनाचे
d) इकडे आड तिकडे विहीर

89. खालीलपैकी कॅपिटल व स्मॉल अक्षरांची कोणती जोडी चुकीची आहे?

- a) H-h b) A-a c) N-m d) R-r

Which of the following capital and small letter's pair is incorrect?

- a) H-h b) A-a c) N-m d) R-r

90. Fill in the blanks with considering the sequence of the alphabets.

l, m, n, p, q

- a) o b) b c) c d) k

91. Find out a word from the following with different sound for it.

- a) Pen b) Hat c) Hen d) Ten

92. शेजारील चित्रातील शब्दाचे वर्णन करणारा योग्य शब्द निवडा.

See the following picture and find the suitable word.



- a) hot b) cold
c) hard d) sour

93. 'खांदा' या अवयवाकरता असलेल्या इंग्रजी शब्दाचे योग्य स्पेलिंग निवडा.

- a) Shalder b) Solder c) Shoulder d) Sholder

94. अर्धा किलोग्रॅम = किती ग्रॅम ?

- a) 200 b) 50 c) 500 d) 300

Half kg = _____ gm?

- a) 200 b) 50 c) 500 d) 300

95. 3 मीटर = किती सेंटिमीटर?

- a) 30 b) 3 c) 300 d) 200

3 mtr = cm?

- a) 30 b) 3 c) 300 d) 200

96. जॉनने 5 रुपयांचा 1 पेन व प्रत्येकी 2 रुपये प्रमाणे 3 पेन्सिल घेतल्या, तर त्याने दुकानदाराला किती रक्कम द्यावी?

- a) 6 रुपये b) 11 रुपये c) 13 रुपये d) 10 रुपये

John purchase one pen of Rs. 5 and three pencils of Rs. 2 each, how much he has to pay to the shopkeeper?

- a) Rs. 6 b) Rs. 11 c) Rs. 13 d) Rs. 10

97. खालील घड्याळ्यात किती वाजले याचा पर्याय क्रमांक शोधा.




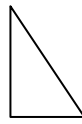
- a) सात b) आठ
c) बारा d) सहा

What time does the clock show?

- a) seven b) eight c) twelve d) six

98. खालीलपैकी कोणती आकृती त्रिकोणाची नाही?

Which of the following figure is not a triangle?

- a)  b)  c)  d) 

99. इंग्रजी अक्षरमालेत उजवीकडून अकरावे अक्षर कोणते आहे?

Which is the 11th letter of English alphabets from right side?

- a) O b) K c) N d) P

100. (7, 8, 3, 4, 5, 8, 7, 2, 3, 8, 7, 5, 8, 4) या अंकमालिकेत कोणता अंक सर्वात जास्त वेळा आला?
 a) 8 b) 7 c) 3 d) 5
 (7, 8, 3, 4, 5, 8, 7, 2, 3, 8, 7, 5, 8, 4) which number in this number series repeated more than the others?
 a) 8 b) 7 c) 3 d) 5
101. खालील प्रश्नांत गटात न बसणारे पद ओळखा.
 a) आंबा b) सफरचंद c) टरबुज d) सिताफळ
 Find the odd man out.
 a) Mango b) Apple c) Water melon d) Custard apple
102. खालील प्रश्नांत गटात न बसणारे पद ओळखा.
 Find the odd man out.
 a) 18 b) 16 c) 14 d) 15
103. खालील प्रश्नांत प्रश्नचिन्हाच्या जागी क्रमाने येणारी संख्या शोधा.
 Complete the number series by using appropriate options.
 18, 15, 12, ?, 6
 a) 9 b) 13 c) 10 d) 8
104. खालील चिन्हमालिकेत प्रश्नचिन्हाच्या जागी क्रमाने येणारी चिन्हमालिका/चिन्ह पर्यायांतून शोधा.
 In the following series of symbol which alternative will replace the question mark?
 *, **□, ***□,□ ?
 a) ****□□□ b) *** □□□ c) □□□ **** d) ****□□

105. खालील मालिकेतील चुकीचे पद ओळखून त्याचा पर्याय क्रमांक छायांकित करा.

आंबा, फणस, झेंडू, संत्री, सफरचंद, पेरु

- a) फणस b) झेंडू c) सफरचंद d) आंबा

Find out the wrong word from the alternatives.

Mango, Jackfruit, Marigold, Orange, Apple, Guava

- a) Jackfruit b) Marigold c) Apple d) Mango

106. विसंगत घटक ओळखा.

Find out the odd man out.

3, 6, 12, 17, 15

- a) 3 b) 17 c) 12 d) 6

107. लाडूपेक्षा जिलेबी गोड आहे, बर्फी जिलेबीपेक्षा गोड आहे, तर सर्वात गोड पदार्थ कोणता?

- a) बर्फी b) लाडू
c) जिलेबी d) जिलेबी व लाडू

Laddo is sweeter than Jalebi, Barfi is sweeter than Jalebi, then which of the following items is the sweetest?

- a) Barfi b) Laddo
c) Jalebi d) Jalebi & Ladoo

108. विवेक केतनपेक्षा मठु आहे, जतीन हुशारआहे, सागर विवेकपेक्षा हुशार आहे, तर सर्वात हुशार कोण?

- a) जतीन b) केतन c) विवेक d) सागर

Vivek is dull than ketan, Jatin is clever, Sagar is cleverer than Vivek, then who is the cleverest?

- a) Jatin b) Ketan c) Vivek d) Sagar

109. पाच प्राण्यांच्या धावण्याच्या शर्यतीत हत्तीच्या मागे वाघ पळत होता, सशाच्या पुढे घोडा पळत होता, हत्ती आणि ससा यांच्यामध्ये उंट पळत होता, तर सर्वात पुढे कोण पळत होता?

- a) उंट b) ससा c) घोडा d) वाघ

In the running race of five animals tiger is behind an elephant, horse is running ahead of rabbit, camel is running between elephant and rabbit, then who is running ahead of all?

- a) Camel b) Rabbit c) Horse d) Tiger

110. मार्चला एप्रिल म्हटले, एप्रिलला जून म्हटले, जूनला ऑगस्ट म्हटले, ऑगस्टला ऑक्टोंबर म्हटले, ऑक्टोंबरला डिसेंबर म्हटले, तर स्वातंत्र्यदिन कोणत्या महिन्यात येईल?

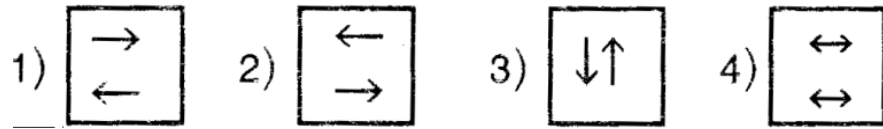
- a) जून b) डिसेंबर c) ऑगस्ट d) ऑक्टोंबर

If we call April as March, June as April, August as June, October as August and December as October, then in which month Independence day will come?

- a) June b) December c) August d) October

111. खालील प्रश्नगटात न बसणारी आकृती शोधा.

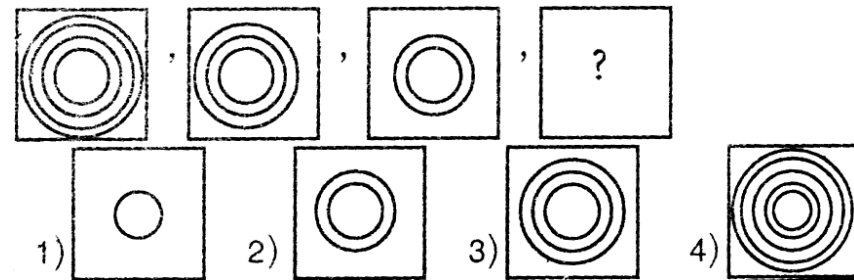
Find odd man out.



- a) 1 b) 2 c) 3 d) 4

112. खालील प्रश्नात प्रश्नचिन्हाच्या जागी येणारी आकृती शोधा.

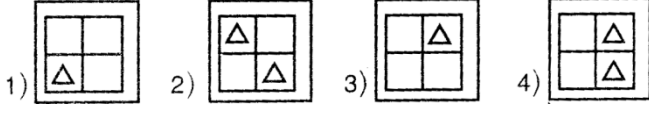
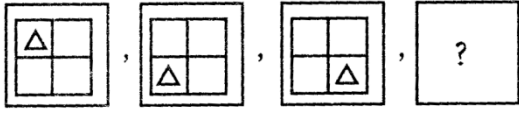
Find out suitable figure at place of question mark.



- a) 1 b) 2 c) 3 d) 4

113. खालील प्रश्नात प्रश्नचिन्हाच्या जागी येणारी आकृती शोधा.

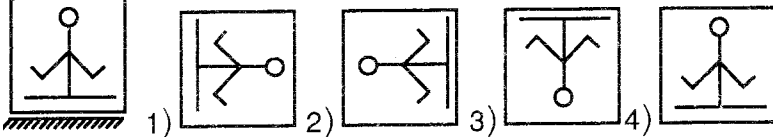
Find out suitable figure at place of question mark.



- a) 1 b) 2 c) 3 d) 4

114. खालील प्रश्नआकृतीचे पाण्यातील प्रतिबिंब कसे दिसेल, ते उत्तर आकृत्यांमधून ओळखा.

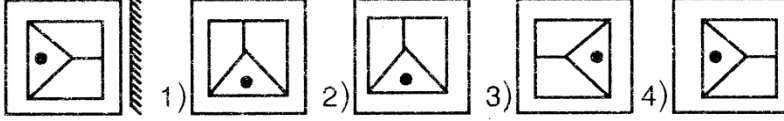
Find the water image for the question figure from the answer figures.



- a) 1 b) 2 c) 3 d) 4

115. खालील प्रश्नाकृतीची आरशातील प्रतिमा कशी दिसेल, ते उत्तर आकृत्यांमधून ओळखा.

Find the mirror image for the question figure from the answer figures.



- a) 1 b) 2 c) 3 d) 4

116. रमेश महेशपेक्षा तीन दिवसांनी मोठा आहे. महेशचा जन्म शुक्रवारी झाला असेल, तर रमेशचा जन्म कोणत्या वारी झाला असेल?

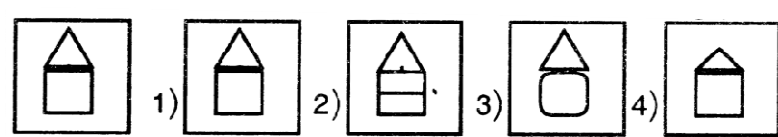
- a) मंगळवारी b) सोमवारी c) रविवारी d) बुधवारी

Ramesh is elder than Mahesh by three days. Mahesh was born on Friday then on which day Ramesh was born?

- a) Tuesday b) Monday c) Sunday d) Wednesday

117. खालील प्रश्नांत प्रश्नआकृतीशी तंतोतंत जुळणारी आकृती पर्यायांतून शोधा.

Out of the given group of figures find out an exact similar figure to the given question figure.



- a) 1 b) 2 c) 3 d) 4

118. एका दोरीचे 13 तुकडे करण्यासाठी तिला किती वेळा कापावी लागेल?

How many times a rope should be cut to make 13 pieces?

- a) 13 b) 11 c) 12 d) 10

119. एका वर्षात किती दिवस असतात?

How many days are there in a year?

- a) 368 b) 360 c) 365 d) 362

120. खालील प्रश्नांत गटाशी जुळणारे पद ओळखा.

दूध, तेल, पाणी, ?

- a) साखर b) दगड c) माती d) रॉकेल

Choose the word to complete the series.

Milk, Oil, Water, ?

- a) Sugar b) Stone c) soil d) kerosene

121. एका सांकेतिक भाषेत 'चरक' हा शब्द ' + - x ' असा लिहितात, तर 'कचर' हा शब्द कसा लिहिता येईल?

- a) + x - b) x + - c) - + x d) x - +

122. वर्गात दुसऱ्या मित्राचे 10 रु. तुम्हाला सापडले, तर तुम्ही काय कराल?

- a) मित्रांना वाटून देईन b) वर्गशिक्षकांकडे न देता खिशात घालेन
c) घरी घेऊन जाईन d) शाळेच्या मुख्याध्यापकांकडे देईन

If you got Rs. 10 of your friend, what will you do?

- a) Distribute to friends
b) Put in your pocket without giving to your teacher
c) Will take at home
d) Will give it to Head Master.

123. 'दानधर्म करणारा' या शब्दसमुहाबद्दल येणारा योग्य शब्द पर्यायांतून शोधा.

- a) विद्वान b) दानशूर c) देशसेवक d) स्वावलंबी

124. महाराष्ट्राचे उपमुख्यमंत्री कोण आहे?

- a) छगन भुजबळ b) पृथ्वीराज चव्हाण c) अजित पवार d) राजेश टोपे

Who is the Dy. Chief Minister of Maharashtra?

- a) Chagan Bhujbal b) Pruthviraj Chavan
c) Ajit Pawar d) Rajesh Tope

125. आपले राष्ट्रगीत कोणी लिहिले?

- a) महम्मद इकबाल b) रविंद्रनाथ टागोर c) भगतसिंह d) जवाहरलाल नेहरू

Who wrote our national anthem?

- a) Mohammad Iquabl b) Rabindranath Tagore
c) Bhagatsingh d) Jawaharlal Nehru

126. महाराष्ट्राची राजधानी कोणती?

- a) मुंबई b) नाशिक c) पूणे d) गोवा

Which is the capital of Maharashtra?

- a) Mumbai b) Nasik c) Pune d) Goa

127. भारताचे पहिले पंतप्रधान कोण होते?

- a) सरदार वल्लभभाई पटेल b) पंडित नेहरू c) आंबेडकर d) महात्मा फुले

Who was the first Prime Minister of India?

- a) Sardar Vallabhbhai Patel b) Pt. Nehru
c) Ambedkar d) Mahatma Fule

128. एम.एफ. हूसैन हे उत्तम ----- आहेत.

- a) चित्रकार b) कलाकार c) व्यंगचित्रकार d) अभिनेते

M.F. Husain is a famous _____.

- a) Painter b) Artist c) Cartoonist d) Actor

129. भ्रष्टाचाराविरुद्ध आंदोलन करणाऱ्या व्यक्तीचे नाव काय?

- a) शरद पवार b) पी.बी. सावंत c) पुरुषोत्तम खेडेकर d) अण्णा हजारे

What is the name of the person fighting against corruption?

- a) Sharad Pawar b) P.B. Sawant

- c) Purushottam Khedekar d) Anna Hajare

130. भारतातील पहिले दूरदर्शन केंद्र कोठे आहे?

- a) मुंबई b) दिल्ली c) पुणे d) नागपूर

Where is the first Durdarshan Centre of India?

- a) Mumbai b) Delhi c) Pune d) Nagpur

131. वर्ल्डकप क्रिकेट स्पर्धा दर किती वर्षांनी होते?

- a) दोन वर्षांनी b) चार वर्षांनी c) पाच वर्षांनी d) तीन वर्षांनी

After how many years world cup cricket matches are held?

- a) 2 years b) 4 years c) 5 years d) 3 years

132. खालील गटातील वेगळा शब्द ओळखा.

- a) गंगा b) ब्रम्हपुत्रा c) कावेरी d) हिंदी महासागर

Find odd man out.

- a) Ganga b) Bramhaputra c) Kaveri d) Hindi Mahasagar

133. 'नाच रे मोरा ----- वनात' नाच रे मोरा नाच. रिकाम्या जागी योग्य शब्द भरा.

- a) गवती b) अंब्याच्या c) चिंचेच्या d) हिरव्या

134. आपला देश कोणत्या दिवशी स्वतंत्र झाला?

- a) 16 ऑगस्ट b) 26 जानेवारी c) 15 ऑगस्ट d) 1 मे

On which day our country became independent?

- a) 16 August b) 26 January c) 15 August d) 1 May

135. मराठी महिन्याप्रमाणे कोणत्या महिन्यापासून वर्ष चालू होते?

- a) मार्गशीष b) चैत्र c) श्रावण d) वैशाख

From which of the following Marathi month Marathi calendar starts?

- a) Margashish b) Chaitra c) Shraavan d) Vaishakh

136. कोकणात सर्वात जास्त हा अन्नपदार्थ असतो?

- a) तांदूळ b) गहू c) बाजरी d) मुग

Which of the following food item is mostly used in Kokan?

- a) Rice b) Wheat c) Bajra d) Mung

137. ----- हा फळांचा राजा आहे.

- a) पेरु b) डाळींब c) द्राक्षे d) आंबा

_____ is a king of fruits?

- a) Guava b) Pomegranate c) Grapes d) Mango

138. तुमच्या वडिलांच्या भावाची आई तुमची कोण?

- a) काकू b) आजी c) आत्या d) आई

What is your relation with the mother of your father's brother?

- a) Aunt b) Grandmother c) Aunt d) Mother

139. भारतीय नागरिकास वयाची किती वर्ष पूर्ण झाल्यावर मतदानाचा अधिकार आहे?

- a) 16 वर्ष b) 21 वर्ष c) 18 वर्ष d) 20 वर्ष

What is the minimum age required to vote for Indian citizen?

- a) 16 years b) 21 years c) 18 years d) 20 years

140. नाताळ हा कोणत्या धर्माचा सन आहे?

- a) हिंदू b) मुस्लिम c) ख्रिश्चन d) यापैकी नाही

'Christmas' belongs to _____ religion.

- a) Hindus b) Muslims c) Christians d) none of these

141. शिवाजी महाराजांचे जन्मस्थळ

- a) सिंधूदुर्ग b) शिवनेरी c) रायगड d) सिंहगड

_____ is the birth place of Shivaji Maharaj.

- a) Sindhudurga b) Shivneri c) Raigad d) Sinhagad

142. Which of the following is an adjective.

- a) decision b) decode c) decorative d) decently

143. Choose the correct article to fill in the blank.

I have ____ NCC 'A' certificate.

- a) a b) an c) the d) none of these

144. Guess the meaning of the following idioms from the options.

To keep at a distance -

- a) To place something far away b) To stay miles away from
c) To refuse to be friendly with d) To continue to run in a contest

145. Find the proper feminine noun from the options.

Horse

- a) Queen b) Woman c) Madam d) Mare

146. Choose the singular from the following.

- a) trousers b) spectacles c) news d) witnesses

147. Select the correct sentence asking for permission.

- a) May I come in, sir? b) Shut the door.
c) Thank You! d) Will you help me, please?

148. आपल्या पृथ्वीचा आकार आहे.

- a) गोल b) शटकोनी c) चौकोनी d) अंडाकृती

The shape of our earth is _____.

- a) Circular b) Hexagonal c) Square d) Oval

149. पाण्यात तसेच जमिनीवर राहू शकणारा प्राणी कोणता?

- a) बेडूक b) माकड c) माणूस d) हत्ती

Which of the following animal can live in water as well as on the earth?

- a) Frog b) Monkey c) Man d) Elephant

150. खालीलपैकी कोणते संगीत वाद्य आहे?

- a) कारंज b) फुले c) पियानो d) पाटी

Which one of the following is musical instrument?

- a) Fountain b) Flowers c) Piano d) Slate

Space for rough work