

प्रश्नपुस्तिका पर्यवेक्षकांनी सांगितल्याशिवाय उघडू नये...

Do not open this booklet until asked to do so...

# RATIONALIST TALENT SEARCH EXAM 2016

## RTSE

Question Booklet

STD : II

वर्ग: २ रा

Roll No.

--	--	--	--	--	--	--	--

Date of Examination : 07 February 2016 Sunday

Time : 10.00 AM to 11.40 AM

### परीक्षार्थीसाठी सुचना / Guidelines for the Candidate

1. आपल्याच नावाची व परिक्षा क्रमांकाची उत्तर पत्रिका मिळाल्याची खात्री करून घ्यावी.  
Check to make sure that you have received the appropriate answer sheet of your name and roll number.
2. परिक्षा सुरु होण्यापूर्वी विद्यार्थ्यांना त्यांच्या संपूर्ण माहितीची खात्री करण्यासाठी 30 मिनिटे अधिक वेळ देण्यात येईल.  
You will get additional 30 minutes to check and make sure about the information about yourself on the Answer Sheet before the start of the exam.
3. सदर प्रश्नपुस्तिकेमध्ये एकूण 100 प्रश्न असून प्रत्येक प्रश्नासाठी 2 गुण आहेत.  
This question booklet contains 100 questions each question carries 2 marks.
4. सर्व प्रश्न सोडविणे आवश्यक आहे. चुकीच्या उत्तराबद्दल मिळालेल्या गुणातून कुठल्याही प्रकारचे गुण वजा केले जाणार नाहीत.  
All questions are compulsory. There is no negative marking.
5. आपल्याच वर्गाची प्रश्नपुस्तिका मिळाल्याची खात्री करून घ्यावी.  
Check to make sure that you have received the appropriate test booklet for your standard.
6. पर्यायामध्ये केवळ एकच उत्तर बरोबर आहे. बरोबर उत्तरासाठी एकच पर्याय निवडावा.  
There is only one correct answer. Choose only one option for an answer.
7. उत्तराचा पर्याय रंगविण्यासाठी केवळ काळा/ निळा रंगाचा बॉलपेनच वापरावा.  
To mark your choice of answers by darkening the circles in the Answer Sheet, use a **Blue/Black Ball, Pen only. Eg.**

**Q. x : - Fill in the blanks.**

**My father went..... To buy some milk.**

a) there                      b) their                      c) They're                      d) here

As the correct answer is option a) you must darken the circle corresponding Q. x

To option a) in the Answer Sheet



8. परिक्षा संपल्यावर तुमची उत्तरपत्रिका पर्यवेक्षकाकडे परत करावी.  
Return the Answer Sheet to the invigilator at the end of the exam.
9. आपल्या परिक्षा क्रमांक प्रश्नपुस्तिकेवर सुध्दा लिहावा व सदर प्रश्नपुस्तिका परिक्षा कालावधीनंतर आपल्या सोबत न्यावी.  
Write your Roll No. on the Question Paper too and take it home for future reference.

Visit [www.rtsexam.com](http://www.rtsexam.com) for Answer key after 8 days

1. Identity the noun which describes the given picture



- A) Helicopter      B) Ship      C) Aeroplane      D) Missile

2. Choose the title and name that is written incorrectly?

- A) MS Khanna      B) dr Adams      C) Mr. Lee      D) Mrs. Jones

3. Fill in the blanks with articles.

Raj is \_\_\_\_\_ naughty Child.

- A) The      B) an      C) a      D) none of these

4. Fill in the blanks with suitable pronouns:

Every muscle in your body helps \_\_\_\_\_ to move.

- A) I      B) him      C) you      D) her

5. Give one word for the following:

A box with a letter –

- A) Letterbox      B) Box letter      C) Letbox      D) Boxlet

6. Fill in the blanks with the correct simple present tense form of the given word:

Kusum never \_\_\_\_\_ jeans.

- A) wear      B) wears      C) wearing      D) none of these

7. Choose the antonym of the word written in capital letters.

REMEMBER –

- A) Memory      B) Forget      C) Past      D) none of these

8. In the following questions identify the verb

Indian Army is very powerful.

- A) Indian Army      B) is      C) powerful      D) none of these

9. खालील पर्यायांतून नाम नसलेला शब्द ओळखा.

- A) पोपट      B) पिवळा      C) जिराफ      D) सिंह

10. खालील वाक्यातील उद्देश्य भाग ओळखा.

सांबराची शिंगे उंच आहेत.

- A) शिंगे      B) शिंगे उंच आहेत  
C) सांबराची      D) उंच आहेत

11. खालील शब्दाचा समानार्थी शब्द पर्यायातून निवडा:  
सोने  
A) पथ B) कनक C) सुरेख D) कुसुम
12. दिलेल्या पर्यायातून शुद्ध शब्द ओळखा.  
A) पुषकळ B) पूष्कळ C) पुश्कळ D) पुष्कळ
13. खालील वाक्यप्रचाराचा अर्थ ओळखून दिलेल्या पर्यायातून योग्य उत्तर पर्याय निवडा.  
छळणे  
A) रागावणे B) चिडविणे C) मारणे D) त्रास देणे
14. खालील वाक्यातील काळ ओळखा:  
सनय आपल्या आजोळी शहरात आला होता.  
A) वर्तमानकाळ B) भूतकाळ C) भविष्यकाळ D) या पैकी नाही
15. खालील ध्वनीवर्धक शब्दासाठी योग्य शब्द पर्यायातून निवडा.  
पानांची -  
A) पळपळ B) खळखळ C) सळसळ D) चळचळ
16. २६ जानेवारीला खालीलपैकी कोणाच्या हस्ते राष्ट्रध्वजारोहण केले जाते?  
A) राष्ट्रपती B) पंतप्रधान C) गृहमंत्री D) यापैकी नाही  
Who hoists the national flag on 26th January?  
A) President B) Prime Minister C) Home Minister D) none of these
17. खालील चित्रात कर्मवीर भाऊराव पाटील ओळखा.  
From the following pictures identify Karmaveer Bhaurao Patil



A)



B)



C)



D)

18. भारत कधी स्वतंत्र झाला?

A) १५ ऑगस्ट १९४७

B) १६ ऑगस्ट १९४७

C) १५ ऑगस्ट १९५०

D) १५ ऑगस्ट १९४५

When did India become independent?

A) 15 August 1947

B) 16 August 1947

C) 15 August 1950

D) 15 August 1945

19. ताजमहल कोणत्या शहरात आहे?

A) दिल्ली

B) आग्रा

C) कानपूर

D) अमृतसर

In Which city the Taj Mahal is situated?

A) Delhi

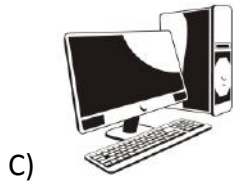
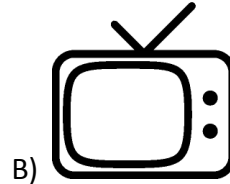
B) Agra

C) Kanpur

D) Amritsar

20. खालीलपैकी लॅपटॉप ओळखा.

Which of the following is Laptop?



21. खालीलपैकी कोणता संगणकाचा प्रमुख भाग नाही?

A) मॉनिटर

B) सी.पी.यु.

C) कि-बोर्ड

D) स्पीकर

Which one of the following is not main part of the computer?

A) Monitor

B) CPU

C) Keyboard

D) Speaker

22. खालीलपैकी कशाचा घराच्या रक्षणासाठी उपयोग केला जातो?

A) हत्ती

B) घोडा

C) ससा

D) कुत्रा

Which one of the following is used for housekeeping?

A) Elephant

B) Horse

C) Rabbit

D) Dog

23. महाराष्ट्राचे महसूलमंत्री कोण आहेत?

A) एकनाथ खडसे

B) चंद्रकांत पाटील

C) पंकजा मुंदे

D) जयंत पाटील

Who is the Revenue minister of Maharashtra?

A) Eknath Khadse

B) Chandrakant Patil

C) Pankaja Mundhe

D) Jayant Patil

24. भारताचे राष्ट्रपती कोण आहेत?
- A) नरेंद्र मोदी B) प्रतिभा पाटील  
C) प्रणव मुखर्जी D) सोनिया गांधी
- Who is the President of India?
- A) Narendra Modi B) Pratibha Patil  
C) Pranav Mukharji D) Sonia Gandhi
25. राष्ट्रमाता जिजाऊ यांचा जन्म कोठे झाला?
- A) सिंदखेडराजा B) पुणे  
C) देऊळगावराजा D) वेरूळ
- Where did Rajmata Jijau Born?
- A) Sindhkhedraja B) Pune  
C) Deulgaonraja D) Verul
26. पत्रे कोण वाटतो?
- A) डॉक्टर B) पोस्टमन C) शेतकरी D) शिंपी
- Who delivers letters?
- A) Doctor B) Postman C) Farmer D) Tailor
27. \_\_\_\_\_ हा जिल्हा देशातील सर्वाधिक प्रदूषित जिल्हा बनला आहे.
- A) चंद्रपूर B) पुणे C) मुंबई D) दिल्ली
- \_\_\_\_\_ is the highly polluted district of India.
- A) Chandrpur B) Pune C) Mumbai D) Delhi
28. महाराष्ट्राची राजधानी कोणती आहे?
- A) पुणे B) औरंगाबाद C) मुंबई D) नाशिक
- Which is the capital of Maharashtra?
- A) Pune B) Aurangabad C) Mumbai D) Nasik
29. शिवाजी महाराजांच्या स्वराज्याची राजधानी कोणती होती?
- A) राजगड B) शिवनेरी C) पुणे D) रायगड
- Which of the following was the capital of Shivaji Maharaja's Swarajya?
- A) Rajgad B) Shivneri C) Pune D) Raigad
30. विजय झोल हा खेळाडू कोणत्या खेळाशी संबंधित आहे?
- A) क्रिकेट B) फुटबॉल C) चेस D) हॉकी
- With which sport Vijay Zol sportsman is associated?
- A) Cricket B) Football C) Chess D) Hockey

31. खालील अंक पहा. त्यासाठी दिलेल्या पर्यायातील योग्य उत्तर निवडा.

४३

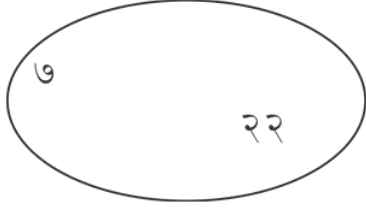
A) चौवीस B) त्रेंचाळीस C) चौतीस D) चाळीस

Write the following number in words and choose the correct answer.

43

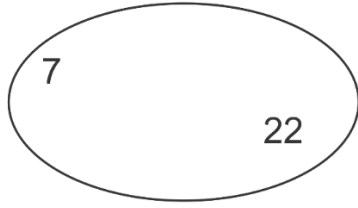
A) Twenty Four B) Forty Three  
C) Thirty Three D) Forty

32. खालील दिलेल्या अंड्यातील अंकाची बेरीज करा.



A) ८ B) ६ C) १२ D) २९

Add the numbers inside the egg given below.



A) 8 B) 6 C) 12 D) 29

33. खालील चौकोनात चार संख्या दिलेल्या आहेत. त्यातील सर्वात लहान संख्या ओळखा.

योग्य उत्तराचा पर्याय निवडा.

५२, ९८, ३८, ६४

A) ३८ B) ९८ C) ५२ D) ६४

Four numbers are given in the box. Find the smallest number and select the correct option.

52, 98, 38, 64

A) 38 B) 98 C) 52 D) 64

34. आज शुक्रवार आहे. तर सात दिवसांनी कोणता वार येईल.

A) रविवार B) गुरुवार C) शनिवार D) शुक्रवार

Today is Friday. What day will be after seven days?

A) Sunday B) Thursday C) Saturday D) Friday

35. एका क्रिकेटच्या मॅचमध्ये सनय ने ४८ धावा काढल्या आणि शिवतेज ने ५५ धावा काढल्या तर दोघांनी मिळून एकूण किती धावा काढल्या?

- A) १०३ B) १०५ C) १०० D) ९८

In a game of cricket, sanay made 48 runs and Shivtej made 55. How many runs did they score in all?

- A) 103 B) 105 C) 100 D) 98


36. वर्षातील ३१ दिवसांचे महिने किती?

- A) ७ B) २ C) ५ D) ४

How many months are there in year which has 31 days?


- A) 7 B) 2 C) 5 D) 4

37. खालील चौकोनात ठिपके दिलेले आहेत. त्यावरून गुणाकाराची संख्या ओळखा. योग्य उत्तराचा पर्याय निवडा.



- A) ६ X ४ B) ५ X ६ C) ४ X ६ D) ३ X ६

Look at the dots given in the following box and find the numbers of multiplication. Choose the correct option.



- A) 6 x 4 B) 5 x 6 C) 4 x 6 D) 3 x 6

38. खालील संख्या उतरत्या क्रमाने मांडा. योग्य उत्तराचा योग्य पर्याय निवडा.

६३, ८४, ९७, ४७


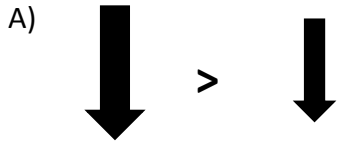
- A) ९७, ८४, ६३, ४७ B) ८४, ९७, ६३, ४७  
C) ४७, ६३, ८४, ९७ D) ६३, ८४, ९७, ४७

Put the following numbers in descending order and select the correct option.

63, 84, 97, 47



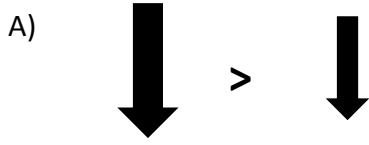
- A) 97, 84, 63, 47 B) 84, 97, 63, 47  
C) 47, 63, 84, 97 D) 63, 84, 97, 47

39. योग्य पर्याय निवडा.



D) वरील सर्व

Which one of the following is true?



D) All of these

40. योग्य जोडी निवडा.

A) ५ मिनिट = ३०० सेकंद

B) २ मिनिट = १०० सेकंद

C) ३ मिनिट = १२० सेकंद

D) २ मिनिट = १३० सेकंद

Which one of the following is true?

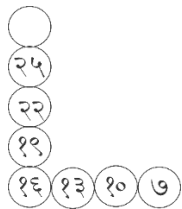
A) 5 minutes = 300 seconds

B) 2 minutes = 100 seconds

C) 3 minutes = 120 seconds

D) 2 minutes = 130 seconds

41. रिकाम्या वर्तुळात येणारी संख्या निवडा.



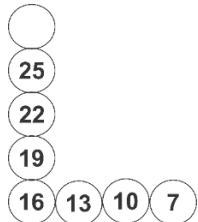
A) ३०

B) २८

C) ३२

D) ३५

Fill in the empty circle



A) 30

B) 28

C) 32

D) 35



42. ५६ किलो २०० ग्रॅम मधून किती वजा केल्यास ३४ किलो ३०० ग्रॅम उरतील.

- A) २२ किलो ८०० ग्रॅम                      B) २३ किलो २०० ग्रॅम  
C) २१ किलो ९०० ग्रॅम                      D) २४ किलो १०० ग्रॅम

How much should be subtracted from 56 kg 200 grams to get 34 kg 300 grams?

- A) 22 kg 800 grams                      B) 23 kg 200 grams  
C) 21 kg 900 grams                      D) 24 kg 100 grams

43. ३२ रु म्हणजे किती पैसे?

- A) ३२५                      B) ३०५                      C) ३२०                      D) ३२००

How many paise are there in Rs. 32?

- A) 325                      B) 305                      C) 320                      D) 3200

44. २३ पैसे प्रति ग्रॅम प्रमाणे १०० ग्रॅम मसाला विकत घेण्यासाठी किती पैसे द्यावे लागतील?

- A) २३ रु.                      B) २७ रु.                      C) २४ रु.                      D) २१ रु.

How much money is paid for 100 grams of spice if the cost of 1 gram of spice is 23 paise?

- A) Rs.23                      B) Rs.27                      C) Rs.24                      D) Rs.21

45. ४५ मीटर खालीलपैकी कोणत्या पर्यायापेक्षा लहान आहेत.

- A) १२५ मिटर                      B) ८ मिटर                      C) ९ मिटर                      D) ७ मिटर

45 meters is smaller than:

- A) 125 meters                      B) 8 meters                      C) 9 meters                      D) 7 meters

46. खालीलपैकी कोण वनस्पती पासून मिळणारे अन्न खात नाही?

- A) शेळी                      B) गाय                      C) उंदीर                      D) टेलिफोन

Which one of the following does not eat food from plants?

- A) Goat                      B) Cow                      C) Rat                      D) Telephone

47. खालीलपैकी कशाची वाढ होते?

- A) चाबी                      B) कुलूप                      C) बॉटल                      D) मुलगा

Which one of the following will grow?

- A) Key                      B) Lock                      C) Bottle                      D) Boy

48. खरे विधान कोणते?

- A) नदी हा पाण्याचा स्रोत नाही.  
B) नदीपेक्षा महासागर मोठे असतात.  
C) नदी महासागरापेक्षा मोठी असते.  
D) नदी समुद्रापेक्षा मोठी असते.

Which one is true?

- A) Rivers is not a source of water  
B) Oceans are bigger than river  
C) River is bigger than ocean  
D) River is bigger than sea

49. खालीलपैकी योग्य विधान कोणते?

- A) जेवतांना बोलावे.
- B) उघडे अन्न खारू नये.
- C) जेवना आधी व जेवनानंतर हात धुवू नयेत.
- D) यापैकी नाही

Which one of the following is true?

- A) We should talk while eating
- B) We should not eat uncovered food
- C) We should not wash our hands before and after eating
- D) none of these

50. विसंगत पर्याय निवडा.

- A) तेल
- B) भाजीपाला
- C) अंडी
- D) फळे

Pick the odd one out

- A) Oils
- B) Vegetables
- C) Egg
- D) Fruits

51. आपल्या शरीराला खालीलपैकी कशाने आकार मिळतो?

- A) त्वचा
- B) हाडे
- C) केस
- D) मेंदू

Which one of the following gives our body a shape?

- A) Skin
- B) Bones
- C) Hair
- D) Brain

52. खालीलपैकी आकाराने सर्वात मोठा प्राणी कोणता?

- A) हत्ती
- B) झेब्रा
- C) शेळी
- D) कुत्रा

Which one of the following animals is largest in size?

- A) Elephant
- B) Zebra
- C) Goat
- D) Dog

53. खालीलपैकी भाज्या ओळखा.

- A) आंबा
- B) द्राक्ष
- C) बैंगण
- D) टरबूज

Find the vegetables from the following

- A) Mango
- B) Grapes
- C) Brinjal
- D) Watermelon

54. समुद्राचे पाणी \_\_\_\_\_ असते.

- A) गोड
- B) दुधासारखे
- C) शितपेयासारखे
- D) खारट

Water of the sea is \_\_\_\_\_

- A) Sweet
- B) Like Milk
- C) Like soft drink
- D) salty

55. वनस्पती \_\_\_\_\_ शिवाय वाढू शकत नाही.

- A) फुला
- B) फळा
- C) भाज्या
- D) माती

A plant cannot grow without \_\_\_\_\_

- A) Flower
- B) Fruit
- C) Vegetables
- D) Soil

56. तापमान मोजण्यासाठी कशाचा वापर करतात?  
 A) किलोमीटर B) मिटर C) तापमापी D) इंच  
 Which one of the following is used to measure temperature?  
 A) Kilometer B) Meter C) Thermometer D) Inch
57. \_\_\_\_\_ हे धान्य आहे.  
 A) तांदूळ B) बटाटे C) शिमला मिरची D) कोबी  
 \_\_\_\_\_ is a cereal.  
 A) Rice B) Potato C) Capsicum D) Cabbage
58. ससा काय खातो?  
 A) इतर प्राणी B) गवत C) मासे D) अंडी  
 Rabbit eats \_\_\_\_\_  
 A) Other Animals B) Grasses  
 C) Fish D) Eggs
59. स्वस्थ शरीरासाठी खालीलपैकी कशाची गरज असते?  
 A) व्यायाम B) पुरेशी विश्रांती  
 C) पोषक आहार D) वरील पैकी सर्व  
 Which of the following are good for Health?  
 A) Exercise B) Sufficient rest  
 C) Good food D) All of these
60. खालीलपैकी कोणता प्राणी सर्वात जास्त वेगाने धावतो?  
 A) मांजर B) गाय C) वाघ D) चित्ता  
 Which one of the following animals run fastest?  
 A) Cat B) Cow C) Tiger D) Cheetah
61. रस्त्यावर चालतांना आपण रस्त्याच्या कोणत्या बाजूने चालावे?  
 A) डाव्या B) उजव्या C) मधून D) यापैकी नाही  
 Which walking on road, we should walk on which side of the road?  
 A) Left B) Right C) Middle D) none of these
62. खालीलपैकी वनस्पती पासून न मिळणारा घटक कोणता?  
 A) साखर B) सफरचंद C) लोणी D) कॉफी  
 Which one of the following can not be obtained from plants?  
 A) Sugar B) Apple C) Butter D) Coffee

63. आपण आपले पैसे कोठे ठेवतो?

A) दवाखान्यात

C) बँकेत

Where do we keep our money?

A) Hospital

C) Bank


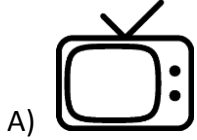
B) पोलीस स्टेशनमध्ये

D) ए.टी.एम.

B) Police Station


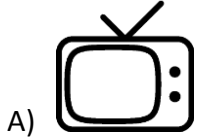
D) ATM.

64. खालीलपैकी सजीव ओळखा.



D) यापैकी सर्व

Identify the living thing.



D) All of these

65. दुधाविषयी खालीलपैकी कोणते विधान खरे आहे.

A) दुधामुळे आपली हाडे व दात मजबूत होतात

B) आपण आठवड्याला एकदा दुध प्यावे

C) दुध हा सकस आहार आहे

D) A व C दोन्ही बरोबर

What is correct about milk?

A) It keeps our bones and teeth strong

B) We need to drink milk weekly

C) It is a complete meal

D) both A and C

66. खालीलपैकी कोणत्या प्राण्याला पाय नसतात.

A) फुलपाखरू

B) कासव

C) साप

D) यापैकी नाही

Which of these animals has no legs?

A) Butterfly

B) Tortoise

C) Snake

D) none of these

67. विसंगत घटक निवडा.  
A) कांदा B) गाजर C) मुळा D) सफरचंद

Select the odd one out

A) Onion B) Carrot C) Radish D) Apple

68. सूर्य \_\_\_\_\_ दिशेला मावळतांना दिसतो.

A) पश्चिम B) उत्तर C) पूर्व D) दक्षिण

The sun appears to set in the \_\_\_\_\_

A) West B) North C) East D) South

69. खालील अंकमाला पूर्ण करा.

२८, २४, २०, ?, १२

A) १६ B) १८ C) १९ D) १७

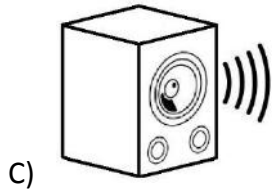

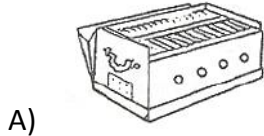
Complete the number pattern gives below

28, 24, 20, ?, 12

A) 16 B) 18 C) 19 D) 17

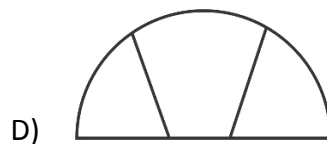


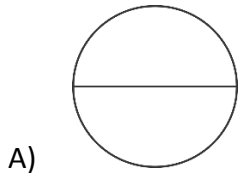
70. वेगळा घटक ओळखा.

Find the odd one out



71. वेगळी आकृती निवडा.

Find the odd figure out



72. जर पांढरयाला काळे म्हटले, काळ्याला निळे म्हटले आणि निळ्याला पिवळे म्हटले तर दुधाचा रंग कोणता?  
 A) काळा B) पांढरा C) पिवळा D) निळा  
 If 'White' is called 'Black' black is called 'Blue', blue is called 'Yellow' then colour of milk is \_\_\_\_\_  
 A) Black B) White C) Yellow D) Blue
73. सायली श्रेया पेक्षा जाड आहे शिवानी अश्विनीपेक्षा पतली आहे. श्रेया अश्विनीपेक्षा जाड आहे तर सर्वात पतली कोण आहे?  
 A) शिवानी B) श्रेया C) सायली D) अश्विनी  
 Sayali is heavier than Shreya. Shivani is lighter than Ashwini. Shreya is heavier than Ashwini Who is the lightest?  
 A) Shivani B) Shreya C) Sayali D) Ashwini
74. गटात न बसणारा शब्द ओळखा  
 A) रविवार B) सोमवार C) जानेवारी D) मंगळवार  
 Select the odd one out  
 A) Sunday B) Monday C) January D) Tuesday
75. प्रश्न चिन्हाच्या जागी येणारे अक्षर कोणते?  
 Which is the next letter?  
 A B C B D D A B C B D D A B C B D D A ?  
 A) A B) B C) C D) D
76. सनयला घरी सिनेमा पहायचा आहे तो कशाचा वापर करेल?  
 A) संगणक B) लॅपटॉप  
 C) डि.व्ही.डी.प्लेयर D) वरील सर्व  
 Sanay wants to watch a movie at home. He can watch it using a \_\_\_\_\_  
 A) Desktop B) laptop C) DVD Player D) all of these
77. कार्यालयात संगणक वापरल्याने कामे \_\_\_\_\_ होतात.  
 A) हळू B) कंटाळवाने C) वेगाने D) निरस  
 Using computer at offices makes the work \_\_\_\_\_ .  
 A) Slow B) Boring C) fast D) tedious

78. अंकमाला पूर्ण करा.

६	४	९	८	११
२४	१६	३६	३२	?

A) ४०

B) ३४

C) ४४

D) ५४

Complete the number pattern

6	4	9	8	11
24	16	36	32	?

A) 40

B) 34

C) 44

D) 54

79. चव घेण्यासाठी कोणत्या अवयवाचा वापर केला जातो.

A) नाक

B) तोंड

C) जिभ

D) कान

Which sense organ is used to take the taste?

A) Nose

B) Mouth

C) Tongue

D) Ears

80. अजिंठा लेणी कोणत्या जिल्ह्यात आहे?

A) नागपूर

B) औरंगाबाद

C) पुणे

D) मुंबई

In which district Ajanta caves are located?

A) Nagpur

B) Aurangabad

C) Pune

D) Mumbai

81. खालीलपैकी कोणता कौटूंबिक सोहळा नाही?

A) वाढदिवस

B) लग्न

C) लंगर

D) बळीपूजन

Which one of these is NOT a family occasion?

A) Birthday

B) Wedding

C) Langar

D) Balipujan

82. बालिकादिन म्हणून कोणाची जयंती साजरी केली जाते?

A) राष्ट्रमाता जिजाऊ

B) अहिल्याराणी होळकर

C) सावित्रीबाई फुले

D) इंदिरा गांधी

Whose birthday is celebrated as the 'Balika din'?

A) Rashtramata Jijau

B) Ahilyarani Holkar

C) Savitribai Phule

D) Indira Gandhi

83. सर्वात महाग वाहतुकीचे साधन कोणते?

A) जहाज

B) रेल्वे

C) बस

D) विमान

Which is the most expensive means of transport?

A) ship

B) Train

C) Bus

D) Aeroplane

84. सूर्यमालेतील सर्वात लहान गृह कोणता?

- A) बुध B) शुक्र C) पृथ्वी D) नेपच्युन

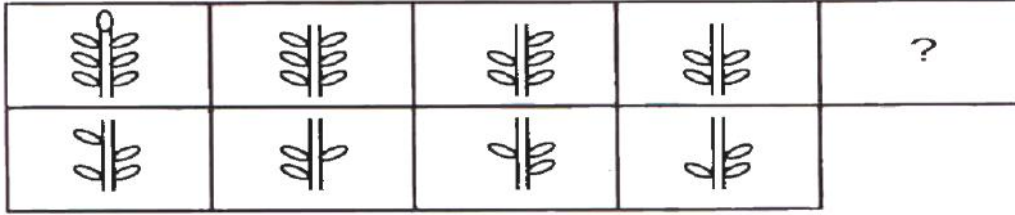
Which is the smallest planet in our solar system?

- A) mercury B) Venue C) Earth D) Neptune

85. खालील चौकोनात चार आकृत्या दिलेल्या आहेत. त्याच्यात क्रमाने होणारा बदल लक्षात घ्या.

प्रश्नचिन्हाच्या ठिकाणी पर्यायातील उत्तराची कोणती आकृती येईल ते शोधा. योग्य उत्तराचा पर्याय निवडा.

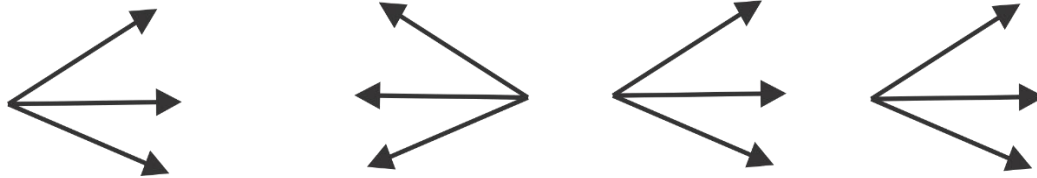
Observe the given series of figures and find out the fifth figure in the given question choose the correct answer option.



- A) B) C) D)

86. खाली चार आकृत्यांचा गट दिलेला आहे. त्यामध्ये एक वेगळी आकृती आहे. ती आकृती ओळखा व उत्तराचा पर्याय निवडा.

Find the figure that does not belong to the group. Choose correct answer option



- A) B) C) D)



87. खालील प्रश्न आकृतीची आरशातील प्रतिमा कशी दिसेल ते उत्तर आकृत्यामधून शोधून अचूक पर्याय निवडा.

Observe the question figure and find its mirror image from answer figures. Choose the correct option



A)

B)

C)

D)

88. खालीलपैकी कोणत्या ऐतिहासिक पुरुषाला वर्धमान म्हटले जाते?

A) गौतम बुद्ध

B) महावीर

C) अशोक

D) चाणक्य

Which of the following historical person is known as Vardhaman?

A) Gautam Buadha

B) Mahaveer

C) Ashok

D) chanakya

89. Fill in the blanks with appropriate joining words

Do it now \_\_\_\_\_ you forget.

A) or

B) and

C) since

D) before

90. Select the noun from the given words

A) Deer

B) wide

C) long

D) small

91. खालील उदाहरणे वाचा व योग्य उत्तराचा पर्याय निवडा.

आपण दररोज शाळेत \_\_\_\_\_ जावे.

A) वेळेवर

B) उशिरा

C) वेळेआधी

D) लवकर

Read the following questions and choose the correct option.

We should go to school daily \_\_\_\_\_

A) In time

B) late

C) before time

D) early

92. आपले राज्य कोणते आहे?

A) महाराष्ट्र

B) भारत

C) गुजरात

D) मराठवाडा

Which is our state?

A) Maharashtra

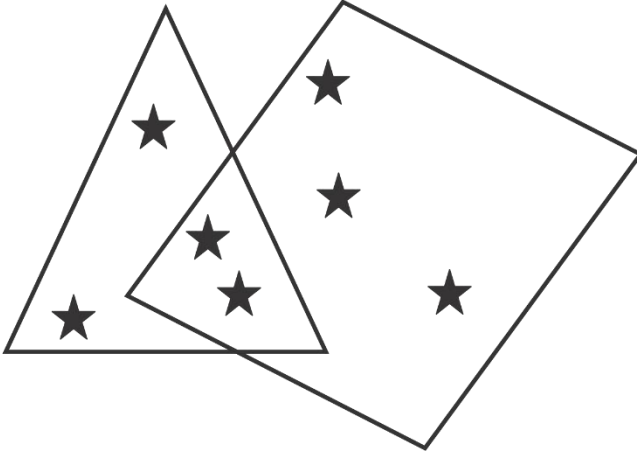
B) India

C) Gujrat

D) Marathwada

93. खालील शब्दाचा समानार्थी शब्द ओळखा.  
घर  
A) मंदिर B) देऊळ C) सदन D) धन
94. खालील विरुद्धार्थी शब्दाचे दिलेल्या पर्यायातून उत्तर शोधा.  
शांतता  
A) अशांतता B) गोंधळ C) गडबड D) आवाज
95. गटात न बसणारा शब्द ओळखा.  
A) चिमणी B) पोपट C) कावळा D) कुत्रा  
Odd man out  
A) Sparrow B) Parrot C) Crow D) Dog

खालील आकृती पहा व प्रश्नाचे योग्य उत्तर निवडा.  
Study the following figure and answer the questions below



96. चौकोनातील \* ची संख्या किती?  
A) ३ B) ६ C) ४ D) ५  
How many \* stars belong to square?  
A) 3 B) 6 C) 4 D) 5
97. त्रिकोणात असणाऱ्या परंतु चौकोनात नसणाऱ्या \* ची संख्या किती?  
A) ३ B) ४ C) २ D) ५  
How many \* stars are there in triangle but not in square?  
A) 3 B) 4 C) 2 D) 5

98. २१ मार्च ला सोमवार आहे तर २३ मार्च रोजी कोणता वार येईल?

A) सोमवार                      B) मंगळवार                      C) बुधवार                      D) गुरुवार

It's Monday on 21<sup>st</sup> march what day is on 23<sup>rd</sup> march?

A) Monday                      B) Tuesday                      C) Wednesday                      D) Thursday

99. अधोरेखित केलेल्या अंकाची स्थानिक किंमत ओळखा

४०७

A) एकक                      B) दशक                      C) शतक                      D) सात

Underlined digit in 407 is in \_\_\_\_\_ place.

A) one's                      B) Tens                      C) Hundreds                      D) Seventh

100. ५०० सेंमी = \_\_\_\_\_ मिमी

A) ५०                      B) ५                      C) ५००००                      D) ५०००

500 cm = How many mm?

A) 50                      B) 5                      C) 50000                      D) 5000