

Sample Question Paper

1. Which of these is a natural thing?

- (A) Rock (B) Waterfall
(C) Banyan tree (D) All of the above
(E) None of these

1. इनमें से कौन-सी एक प्राकृतिक चीज है?

- (A) चट्टान (B) झरना
(C) बरगद का वृक्ष (D) उपरोक्त सभी
(E) इनमें से कोई नहीं

2. Living things need to grow.

- (A) Food
(B) Water
(C) Sunlight and air
(D) All of the above
(E) None of these

2. जीवित प्रणियों को बढ़ने के लिए की आवश्यकता होती है।

- (A) भोजन (B) जल
(C) सूर्य का प्रकाश और वायु (D) उपरोक्त सभी
(E) इनमें से कोई नहीं

3. Which cannot move by itself?

- (A) Snail
(B) Helicopter
(C) Whale
(D) Boy
(E) None of these

3. कौन स्वयं गति नहीं कर सकता?

- (A) घोंघा (B) हेलीकाप्टर
(C) व्हेल (D) बालक
(E) इनमें से कोई नहीं



4. Which was never alive?

- (A) A book
- (B) A plastic glass
- (C) A pencil
- (D) A table
- (E) None of these

4. कौन कभी जीवित नहीं था ?


- (A) एक किताब
- (B) एक प्लास्टिक ग्लास
- (C) एक पेन्सिल
- (D) एक मेज
- (E) इनमें से कोई नहीं

5. I hang from ceilings and wooden beam. I fly but am not a bird. Who am I?



- (E) None of these

5. मैं छत और लकड़ी के बीम से लटकता हूँ, मैं उड़ता हूँ, लेकिन मैं पक्षी नहीं हूँ, मैं कौन हूँ?



- (E) इनमें से कोई नहीं





6. We get leather form

- (A) Skin of dead animals
- (B) Flesh of dead animals
- (C) Teeth of dead animals
- (D) Wool of dead animals
- (E) None of these.





6. हमें चमड़ा से मिलता है ।

- (A) मृत जानवरों की त्वचा (B) मृत जानवरों का मांस
(C) मृत पशुओं के दांत (D) मृत जानवरों की ऊन
(E) इनमें से कोई नहीं

7. Which stores fat in its hump?

- (A)  (B) 
(C)  (D) 
(E) None of these.

7. कौन अपने कूबड़ में वसा का संग्रह करता है ?

- (A)  (B) 
(C)  (D) 
(E) इनमें से कोई नहीं

8. Terrestrial animals live on

- (A) Trees (B) Land
(C) Water (D) All of these
(E) None of these.

8. स्थलीय जीव पर रहते हैं ।

- (A) वृक्ष (B) भूमि
(C) जल (D) ये सभी
(E) इनमें से कोई नहीं

9. Plants give us food grains. What are the examples of such grains?


- (A) Wheat and Rice (B) Maize and Barley
 (C) Gram and Pulses (D) All of these
 (E) None of these.

9. पौधे हमें खाद्य अनाज देते हैं, ऐसे अनाजों के क्या उदाहरण हैं?

- (A) गेहूं और चावल (B) मक्का और जौ
 (C) चना और दालें (D) ये सभी
 (E) इनमें से कोई नहीं

10. What are the similarities between the plants bearing the flowers as shown.


- (i) They have weak stems.
 (ii) They have woody stems.
 (iii) They produce seeds.
 (iv) They grow along the ground.



- (A) (i) and (ii)
 (B) (i) and (iv)
 (C) (ii) and (iii)
 (D) (i), (ii) and (iii)
 (E) None of these

10. दर्शाए गए पुष्पों को धारण करने वाले पौधों के बीच क्या समानताएं हैं?

- (i) उनके तने दुर्बल हैं।
 (ii) उनके तने सशक्त होते हैं।
 (iii) वे बीज बनाते हैं।
 (iv) वे भूमि के साथ विकसित होते हैं।



- (A) (i) और (ii)
 (B) (i) और (iv)
 (C) (ii) और (iii)
 (D) (i), (ii) और (iii)
 (E) इनमें से कोई नहीं

11. The given figure shows a plant with its parts labeled as W, X, Y and Z. Which of the following is correct regarding this?

- (A) We eat Z in the form of groundnut.
 (B) We eat X in the form of broccoli.
 (C) We eat Y in the form of cabbage.
 (D) We eat W in the form of onion.
 (E) None of these.



11. दिए गये चित्र में पौधे को उसके भागों W, X, Y और Z के साथ नामांकित किया गया है। निम्नलिखित में से कौन इसके बारे में सही है?

- (A) हम Z को मूंगफली के रूप में खाते हैं।
 (B) हम X को फूलगोभी के रूप में खाते हैं।
 (C) हम Y को पत्तागोभी के रूप में खाते हैं।
 (D) हम W को प्याज के रूप में खाते हैं।
 (E) इनमें से कोई नहीं



12. Sameer describes about the plant that he has seen in a field. Identify the plant.

- (A) Jute plant
 (B) Cotton plant
 (C) Coconut plant
 (D) Money Plant
 (E) None of these.

It is small plant with hard stem and branches. We get soft fibre from it which is used in stuffing pillows.



12. समीर ने एक पौधे के बारे में वर्णन किया है, जिसे उसने एक मैदान में देखा। पौधे को पहचानिए।

- (A) जूट का पौधा
 (B) रुई का पौधा
 (C) नारियल का पौधा
 (D) मनी प्लांट
 (E) इनमें से कोई नहीं

यह कठोर तना और शाखाओं वाला छोटा सा पौधा है। हमें इससे मुलायम रेशे प्राप्त होते हैं, जिसका प्रयोग हम भराई तकिए में करते हैं।



13. Which of these are not found in pairs?

- | | |
|--------------------|------------|
| (A) Eyes | (B) Ears |
| (C) Nose | (D) Tongue |
| (A) A & C | (B) C |
| (C) D | (D) C & D |
| (E) None of these. | |

13. इनमें से कौन जोड़ों में नहीं पाया जाता है?

- | | |
|-----------------------|------------|
| (A) आँखें | (B) कान |
| (C) नाक | (D) जीभ |
| (A) A और C | (B) C |
| (C) D | (D) C और D |
| (E) इनमें से कोई नहीं | |

14. A lemon is

- (A) Sweet (B) Sour
(C) Bitter (D) Salty
(E) None of these.

14. नींबू होता है।

- (A) मीठा (B) खट्टा
(C) कड़वा (D) नमकीन
(E) इनमें से कोई नहीं

15. Often when we have a cold, we cannot use this sense. Which is it?

- (A) Touch (B) Smell
(C) Sight (D) Taste
(E) None of these.

15. अक्सर जब हमें जुखाम होता है, तब हम इस ज्ञान का उपयोग नहीं कर सकते हैं। वह क्या है?

- (A) स्पर्श (B) सुगंध
(C) दृश्य (D) स्वाद
(E) इनमें से कोई नहीं





16. What part of our body is used to see a red book?

- (A) Ears (B) Hands
(C) Eyes (D) Tongue
(E) None of these.

16. हमारे शरीर का कौन सा भाग एक लाल किताब को देखने में प्रयोग किया जाता है?

- (A) कान (B) हाथ
(C) आँखें (D) जीभ
(E) इनमें से कोई नहीं

17. Which of these foods is referred as 'anti-ageing' food?

- (A)  (B) 
(C)  (D) 
(E) None of these.

17. इनमें से किस खाद्य पदार्थ को 'बुढ़ापा विरोधी' भोजन निर्दिष्ट किया गया है?



(E) इनमें से कोई नहीं

18. Which of these is taken least in a balanced diet?

(A) Sugar, butter and oil

(B) Fruits and vegetables

(C) Cereal, gram and pulses

(D) Egg, milk and yoghurt

(E) None of these.

18. एक संतुलित आहार में इनमें से किसको सबसे कम लिया गया है?

(A) चीनी, मक्खन और तेल

(B) फल और सब्जियां

(C) अनाज, चना और दालें

(D) अंडा, दूध और दही

(E) इनमें से कोई नहीं

19. We should not skip 'X' meal because body requires it the most after hours of gap between meals. What is 'X'?

(A) Evening snacks

(B) Dinner

(C) Lunch

(D) Breakfast

(E) None of these.

19. हमे 'X' भोजन नहीं छोड़ना चाहिए क्योंकि इसकी भोजनों के अन्तराल के बीच सबसे अधिक आवश्यकता पड़ती है। 'X' क्या है?

(A) शाम का नाश्ता

(B) रात्रिभोज

(C) मध्याह्न-भोजन

(D) सुबह का नाश्ता

(E) इनमें से कोई नहीं

20. You may have heard and seen that in North India, people mainly consume Roti along with other eatables. Whereas, in East India, North-Eastern India and South India. Cooked rice is mainly consumed. This is because wheat is readily available in North India and rice is grown more in rest of the India. This main food is called_____.

(A) Balanced food

(B) Stale food

(C) Staple food

(D) Junk food

(E) None of these.

20. आपने सुना और देखा होगा की उत्तरी भारत में, लोग मुख्यतः दूसरे भोज्य-पदार्थों के साथ रोटी का उपभोग करते हैं। जबकि, पूर्वी भारत, उत्तरी-पूर्वी भारत, दक्षिण भारत में, पके हुए चावल का मुख्यतः उपभोग किया जाता है। यह इसलिए है क्योंकि गेहूँ उत्तरी भारत में आसानी से उपलब्ध हो जाता है और चावल भारत के शेष भागों में अधिक उगता है। इस मुख्य भोजन को _____ कहते हैं।

- (A) संतुलित आहार (B) बासी भोजन
(C) मूल भोजन (D) जंक फूड
(E) इनमें से कोई नहीं

21. The person who runs the house on a day-to-day basis is

- (A) Father (B) Mother
(C) Grandmother (D) Uncle
(E) None of these.

21. एक व्यक्ति जो प्रतिदिन के आधार पर घर का निर्वाह करता है, वह है

- (A) पिता (B) माँ
(C) दादी (D) चाचा
(E) इनमें से कोई नहीं

22. Out of the following, which can be played with many members of the family together?

- (A) Reading (B) Football
(C) Cycling (D) All of these
(E) None of these.

22. निम्नलिखित में से किसे परिवार के कई सदस्यों के साथ किया जा सकता है?

- (A) पढ़ना (B) फुटबॉल खेलना
(C) साईकिल चलाना (D) ये सभी
(E) इनमें से कोई नहीं

23. Shumit married Neha. They had a daughter Roopa who married Randhir. They had twins. How are the twins related to Shumit and Neha?

- (A) Shumit and Neha are the twins' maternal grandparents
(B) Shumit and Neha are the twins' paternal grandparents
(C) They are not related at all
(D) They are distantly related
(E) None of these.

23. शुमित ने नेहा से विवाह किया। उनके एक लड़की हुई, रूपा, जिसका विवाह रणधीर से हुआ। उनके जुड़वाँ बच्चे हुए। जुड़वाँ बच्चों का शुमित और नेहा से क्या सम्बन्ध है?

- (A) शुमित और नेहा जुड़वाँ नाना-नानी हैं।
 (B) शुमित और नेहा जुड़वाँ दादा-दादी हैं।
 (C) वे बिल्कुल भी संबंधित नहीं हैं।
 (D) वे दूर से संबंधित हैं।
 (E) इनमें से कोई नहीं

24. Who keeps the house neat and clean and looks after the needs of the family?

- (A) Maid (B) Mother
 (C) Father (D) Aunt
 (E) None of these.

24. कौन घर की आवश्यकताओं ख्याल और घर को साफ सुथरा बनाए रखता है?

- (A) नौकरानी (B) माँ
 (C) पिता (D) चाची
 (E) इनमें से कोई नहीं





25. We add colour to cloth, the process of colouring cloth is called

- (A) Spinning (B) Weaving
 (C) Threading (D) Dyeing
 (E) None of these.

25. हम कपड़ों पर रंग डालते हैं, कपड़े को रंगने की प्रक्रिया को कहते हैं।


- (A) कताई (B) बुनाई
 (C) थ्रेडिंग (सूत्रण) (D) रंगाई
 (E) इनमें से कोई नहीं

26. We get silk from

- (A) Sheep  (B) Cow 
 (C) Silkworm  (D) Camel 
 (E) None of these.

26. हमें से रेशम मिलता है।

(A) भेड़



(B) गाय



(C) रेशम का कीड़ा



(D) ऊँट



(E) इनमें से कोई नहीं

27. We get cotton from the cotton

(A) Flower

(B) Seed

(C) Stem

(D) Fruit

(E) None of these.

27. हमें रुई, रुई के से मिलती है।

(A) पुष्प

(B) बीज

(C) तना

(D) फल

(E) इनमें से कोई नहीं

28. From which material are these made?

(A) Cotton

(B) Waterproof

(C) Silk

(D) Silk

(E) None of these.

28. ये किस पदार्थ से बने हैं?

(A) रुई

(B) जलरोधक

(C) रेशम

(D) रेशम

(E) इनमें से कोई नहीं

29. In which of these places people make light houses of wood and paper?

(A) Mumbai

(B) Kashmir

(C) Japan

(D) London

(E) None of these.

29. इनमें से किन स्थानों पर लोग लकड़ी और कागज के प्रकाशित घरों को बनाते हैं?

- (A) मुम्बई (B) कश्मीर
(C) जापान (D) लन्दन
(E) इनमें से कोई नहीं

30. Why do people put wiremesh on their doors and windows?

- (A) It allows sunlight and air to come in
(B) It keeps the house warm and dark.
(C) It stops the entry of mosquitoes and flies.
(D) Both (A) and (C)
(E) None of these.

30. लोग अपने दरवाजों और खिड़कियों पर तार की जाली क्यों लगाते हैं?

- (A) यह सूर्य के प्रकाश और वायु को अंदर आने देती है।
(B) यह घर को गर्म और अंधेरे में रखती है।
(C) यह मछरों और मक्खियों को आने से रोकती है।
(D) (A) और (C) दोनों
(E) इनमें से कोई नहीं

Darken your choice with HB Pencil

1	(A) (B) (C) (D) (E)	11	(A) (B) (C) (D) (E)	21	(A) (B) (C) (D) (E)
2	(A) (B) (C) (D) (E)	12	(A) (B) (C) (D) (E)	22	(A) (B) (C) (D) (E)
3	(A) (B) (C) (D) (E)	13	(A) (B) (C) (D) (E)	23	(A) (B) (C) (D) (E)
4	(A) (B) (C) (D) (E)	14	(A) (B) (C) (D) (E)	24	(A) (B) (C) (D) (E)
5	(A) (B) (C) (D) (E)	15	(A) (B) (C) (D) (E)	25	(A) (B) (C) (D) (E)
6	(A) (B) (C) (D) (E)	16	(A) (B) (C) (D) (E)	26	(A) (B) (C) (D) (E)
7	(A) (B) (C) (D) (E)	17	(A) (B) (C) (D) (E)	27	(A) (B) (C) (D) (E)
8	(A) (B) (C) (D) (E)	18	(A) (B) (C) (D) (E)	28	(A) (B) (C) (D) (E)
9	(A) (B) (C) (D) (E)	19	(A) (B) (C) (D) (E)	29	(A) (B) (C) (D) (E)
10	(A) (B) (C) (D) (E)	20	(A) (B) (C) (D) (E)	30	(A) (B) (C) (D) (E)