

# Jr. Newton Talent Search Examination - 2011-12

## Practice Paper - 1

### STANDARD - III

Total Marks : 200

Time : 2 hrs.

#### Section I : Language (20 Questions, 40 Marks)

##### Passage :

Once upon a time there was a prince who wanted to marry a princess; but she would have to be a real princess. He traveled all over the world to find one, but nowhere could he get what he wanted. There were many princesses, but it was difficult to find out whether they were real ones.

There was always something about them that was not as it should be. So he came home again and was sad, for he would have liked very much to have a real princess. One evening a terrible storm came on; there was thunder and lightning, and the rain poured down in torrents. Suddenly a knocking was heard at the city gate, and the old king went to open it. It was a princess standing out there in front of the gate. But, good gracious!

What a sight the rain and the wind had made her look. The water ran down from her hair and clothes; it ran down into the toes of her shoes and out again at the heels. And yet she said that she was a real princess.

Well, we'll soon find that out, thought the old queen. But she said nothing, went into the bedroom, took all the bedding off the bed, and laid a pea on the bottom; then she took twenty mattresses and laid them on the pea, and then twenty down blankets on top of the mattresses. On this the princess had to lie all night. In the morning she was asked how she had slept.

"Oh, very badly!" said she. "I have scarcely closed my eyes all night. Heaven only knows

what was in the bed, but I was lying on something hard, so that I am black and blue all over my body. It's horrible!"

Now they knew that she was a real princess because she had felt the pea right through the twenty mattresses and the twenty down blankets.

Nobody but a real princess could be as sensitive as that.

So the prince took her for his wife, for now he knew that he had a real princess; and the pea was put in the museum, where it may still be seen, if no one has stolen it.

**Q. 1. What made the prince so sad?**

①②③④

- 1) He was black and blue all over
- 2) He wanted to have a real princess
- 3) There was a terrible storm
- 4) He couldn't sleep at night

**Q. 2. In the sentence, "One evening a terrible storm came on; there was thunder and lightning, and the rain poured down in torrents." what does the word torrents mean?**

①②③④

- 1) A rainbow
- 2) A hurricane
- 3) A downpour of heavy rain
- 4) A snowstorm

**Q. 3. What did the old queen first think of the princess?**

①②③④

- 1) The queen did not believe she was a real princess
- 2) The queen was scared of the princess

- 3) The queen knew she was a real princess  
 4) The queen thought the princess looked tired

**Q. 4. Why was it difficult for the princess to sleep through the night?** ①②③④

- 1) She had a very long day  
 2) She was all wet from the storm  
 3) She was cold and wet  
 4) She felt was lying on something hard

**Q. 5. How does the reader of this story know that the prince married a real princess?**

- 1) Her mother was a queen ①②③④  
 2) A real princess wears a crown  
 3) A real princess is very sensitive  
 4) She looked just like a real princess

**Q. 6. The word opposite in meaning to – fall is –** ①②③④

- 1) tall 2) up  
 3) sit 4) rise

**Q. 7. If you rearrange the following letters to form a word, the word will be –**

- ‘tarfe’ ①②③④  
 1) falter 2) refer  
 3) after 4) taref

**Q. 8. Which of the following words rhymes with ‘head?’** ①②③④

- 1) bead 2) read  
 3) bed 4) seed

**Q. 9. The correct meaning of ‘dispute’ is –**

- 1) to keep away ①②③④  
 2) to throw  
 3) a place to keep things neatly  
 4) a fight or disagreement.

**Q. 10. Complete the phrase – as pretty as a ----** ①②③④

- 1) tree 2) picture  
 3) star 4) moon.

**Q. 11. The small boy ran up the hill.’ Which is the adjective (describing word) from this sentence?** ①②③④

- 1) small 2) up  
 3) ran 4) hill

**Q. 12. Rearrange the words to form a meaningful sentence.** ①②③④

Eat my likes sister to apples.

The third word of this sentence will be –

- 1) eat 2) likes  
 3) my 4) apples.

**Q. 13. Which punctuation mark will you use at the end of the following sentence?**

Where does your father work ①②③④

- 1) ? 2) .  
 3) ! 4) ,

**Q. 14. Which of the following words has a silent letter?** ①②③④

- 1) ferry 2) calculation  
 3) science 4) scholar

**Q. 15. How many pronouns are there in the following lines?**

‘The king and Queen went for a walk in the garden. They saw many trees. It had fruit trees and they were full of fruits. The king said he was pleased to see them.’ ①②③④

- 1) 4 2) 5  
 3) 2 4) 6

**Q. 16. The home of a pig is a –** ①②③④

- 1) shed 2) coop  
 3) sty 4) kennel.

**Q. 17. Find the odd man out –** ①②③④

- 1) boxes 2) bunches  
 3) children 4) paper.

**Q. 18. Which phrase will you use to describe someone who is very fair –** ①②③④

- 1) As pretty as a peacock.  
 2) As white as snow  
 3) As good as an apple.  
 4) As proud as a peacock.

**Q. 19. Which word cannot be formed using the letters from the word ‘flower’** ①②③④

- 1) word 2) flow  
 3) low 4) few.

**Q. 20. The masculine gender of niece is -----**

- ①②③④  
 1) niecess 2) nephew  
 3) nophew 4) horse.

शेखरला नवल वाटले तो विचारात पडला. लोक आपले सामान किती काळजीपूर्वक सांभाळतात! झोपले, पहुडले. तरी डोक्याखाली ठेवतात. काही माणसे त्यावर मांडी टेकवून बसतात. मग हा माणूस असा पिशवी सोडून कसा गेला? गेला तो अजून परत का आला नाही? काय असेल या पिशवीत? आपण दूरदर्शनवर पाहिले आहे. अशा बेवारस वस्तूमुळे स्फोट घडतात. इमारती कोसळतात. माणसे मरतात, त्यामुळे अशा बेवारस वस्तूंची माहिती पोलिसांना द्यावी, अशा सूचनाही केल्या जातात हे सारे त्याला आठवले.

Q. 1 तो माणूस काय विसरून गेला होता? ①②③④

- 1) पुस्तक 2) पिशवी  
3) सूटकेस 4) छत्री

Q. 2 कोणत्या वस्तूची माहिती पोलिसांना द्यावी ?

- 1) दागिने 2) पैसे ①②③④  
3) बेवारस 4) सामान

Q. 3 दहशतवाद रोखण्यासाठी काय आवश्यक आहे?

- 1) सतर्कता 2) पाणी ①②③④  
3) आहार 4) फळे

खालील कविता वाचून त्यावर आधारित प्रश्नांची उत्तरे योग्य पर्याय निवडून द्या.

इवल्या इवल्या मुंग्या, नेसतात लाल लुंग्या  
उपयोग एकजुटीच्या वाजवत जाती पुंग्या ॥१॥  
मिळून जाती अवघ्या, धान्य गोळा करायला  
धडपड त्यांची बघता होतं पहा लाजायला ॥२॥  
कणकण धान्यातून साठवण भविष्याची  
त्यामुळे चिंता नसते, ओल्या सुक्या दुष्काळाची ॥३॥  
कवयित्री - जयश्री चुरी

Q. 4 कवितेतील मुंग्यांनी काय नेसलेय? ①②③④

- 1) साडी 2) मिडी  
3) लुंगी 4) पायजमा

Q. 5 मुंग्या सर्वजणी मिळून काय गोळा करतात ?

- 1) धान्य 2) मध ①②③④  
3) पाणी 4) माती

Q. 6 'ओला दुष्काळ' म्हणजे काय ? ①②③④

- 1) पाऊस कमी पडणे 2) पाऊस मध्यम पडणे  
3) पाऊस खूप जास्त पडणे 4) पाऊसच न पडणे.

खालील संवाद वाचून त्यावरील प्रश्नांच्या उत्तरासाठी योग्य पर्याय निवडा.

शामू : बाळू, गणू, मिनी, चिंगी सगळे इकडे या.

सर्व : काय रे शामू ? का बोलावलेस ?

शामू : आपण सर्वांनी मिळून दिवाळीत किल्ला बनवूयात का ?

सर्व : हो ! आम्ही तयार आहोत.

शामू : चला तर मग आपण दगड, माती, विटा सर्व साहित्य गोळा करूयात.

Q. 7 संवादात कितीजण भाग घेत आहोत. ①②③④

- 1) दोन 2) तीन  
3) चार 4) पाच

Q. 8 शामूला काय बनवायचे आहे ? ①②③④

- 1) घर 2) किल्ला  
3) विहिर 4) चित्र

Q. 9 संवादातून कोणत्या सणाचा उल्लेख केला आहे?

①②③④

- 1) दसरा 2) दिवाळी  
3) गणपती 4) होळी

Q. 10 कबड्डी या खेळाचे आणखी दुसरे नाव कोणते?

①②③④

- 1) खो - खो 2) बॅडमिंटन  
3) टेनिस 4) हुतूतू

Q. 11 झाडांच्या पानात ---- असतं म्हणून ती सूर्यप्रकाशात अन्न तयार करतात. ①②③④

- 1) हरीतद्रव्य 2) पाणी  
3) हिरवा रंग 4) फुले

Q. 12 जसे गायीचे वासरु तसे घोडीचे काय?

- 1) पाडस 2) बछडे ①②③④  
3) शिंगरू 4) पिल्लू

Q. 13 'तो गावातच राहून शेतीवाडी पाहत होता.' या वाक्यातील जोडशब्द कोणता ? ①②③④

- 1) गावातच 2) राहून  
3) शेतीवाडी 4) पाहत होता.

Q. 14 'आरक्षण करणे' याचा अर्थ काय? ①②③④


- 1) राखून ठेवणे 2) संरक्षण करणे  
3) शेवटपर्यंत सांभाळणे 4) देऊन टाकणे
- Q. 15** विहंग या शब्दाला समान अर्थी शब्द कोणता?  
1) उडणे 2) पक्षी ①②③④  
3) विहार 4) सुंदर
- Q. 16** गौतम बुद्धांच्या आईचे नाव काय ? ①②③④  
1) यशोमती 2) तारामती  
3) मायावती 4) गुणवती
- Q. 17** जुने × नवे याप्रमाणे 'नावड' या शब्दाला विरुद्ध अर्थी शब्द कोणता ? ①②③④  
1) आवड 2) कावड  
3) सवड 4) वड

- Q. 18** हिरा या गवळणीला का घरी जायचे होते ? ①②③④  
1) बाळासाठी 2) नवऱ्यासाठी  
3) सासूसाठी 4) आईसाठी
- Q. 19** समर्थ रामदास उपकारासंबंधी काय सांगतात?  
1) कोणाचा उपकार घेऊ नये. ①②③④  
2) कोणाचाही उपकार घ्यावा.  
3) कोणावर उपकार करू नये.  
4) कोणावरही उपकार करावा.
- Q. 20** कोणत्या रंगाच्या दिव्यामुळे सस्त्यावरील गाड्या थांबतात? ①②③④  
1) हिरवा 2) पिवळा  
3) लाल 4) निळा.

**Section II : Maths (30 Questions, 60 Marks)**

**भाग II : गणित (30 प्रश्न, 60 गुण)**

- Q. 1)** The number 806 is read as -----?  
1) Eight hundred and Sixty ①②③④  
2) Eight hundred and Six  
3) Eight zero Six  
4) Six hundred and Eight
- Q. 1)** 806 चे वाचन -----असे करतात?  
①②③④  
1) आठशे साठ 2) आठशे सहा  
3) आठ शून्य सहा 4) सहाशे आठ
- Q. 2)** Arrange the following number in ascending order and write the third from the right? ①②③④  
1) 963 2) 639  
3) 636 4) 663
- Q. 2)** दिलेल्या संख्या चढत्या क्रमाने लिहा व उजवीकडून तीसरी संख्या कोणती ते ओळखा? ①②③④  
1) 963 2) 639  
3) 636 4) 663
- Q. 3)** Multiply 18 x 6 ? ①②③④  
1) 90 2) 96  
3) 108 4) 180
- Q. 3)** गुणाकार करा 18 x 6 ? ①②③④

- 1) 90 2) 96  
3) 108 4) 180
- Q. 4)** Write the number from its expanded form: 40+300+2 ①②③④  
1) 432 2) 342  
3) 324 4) 243
- Q. 4)** विस्तारीत मांडणीवरून संख्या लिहा. ①②③④  
40+300+2  
1) 432 2) 342  
3) 324 4) 243
- Q. 5)** Identify the shaded portion?
- Q. 5)** आकृतीतील रंगवलेल्या भागाचा अपूर्णाक कोणता?  
  
1)  $\frac{3}{5}$  2)  $\frac{5}{10}$  ①②③④  
3)  $\frac{3}{10}$  4)  $\frac{6}{10}$
- Q. 6)** Frame a multiplication question based on the information give below. ①②③④  
Cost of one pencil-box in Rs.25 Total number of pencil -boxes 25

- 1) What is the cost of one pencil box?
- 2) What is the cost of 25 pencil boxes?
- 3) What is the total number of pencil boxes?
- 4) 25+25

**Q. 6)** दिलेल्या माहितीवरून गुणाकाराचा प्रश्न तयार करा एका पेन्सिलच्या पेटीची किंमत रु. 25 एकूण पेन्सिल पेट्या 25? ①②③④

- 1) एका पेन्सिल पेटीची किंमत किती ?
- 2) पंचवीस पेन्सिल पेट्यांची किंमत किती
- 3) एकूण पेन्सिल पेट्या किती ?
- 4) 25+25

**Q. 7) Add: 278+387** ①②③④

**Q. 7) बेरीज करा: 278+387** ①②③④

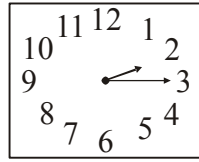
- 1) 656
- 2) 666
- 3) 665
- 4) 655

**Q. 8) Find the quotient: 864 ÷ 8** ①②③④

**Q. 8) भागाकार किती ते सांगा. 864 ÷ 8**

- 1) 18
- 2) 88
- 3) 108
- 4) 808

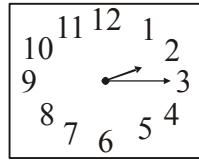
**Q. 9) What time does the clock show?**



①②③④

- 1) Quarter past three
- 2) Quarter to three
- 3) Quarter past two
- 4) Quarter to two

**Q. 9) घडयाळात किती वाजले ?** ①②③④



- 1) सव्वातीन
- 2) पावणे तीन
- 3) सव्वा दोन
- 4) पावणे दोन

**Q. 10) Subtract : 895-362** ①②③④

**Q. 10) वजाबाकी करा : 895-362** ①②③④

- 1) 1257
- 2) 533
- 3) 537
- 4) 1253

**Q. 11) How many months in a year are with 30 days?** ①②③④

**Q. 11) एका वर्षात तीस दिवसांचे महिने किती ?**

- 1) 4
- 2) 6
- 3) 5
- 4) 7

**Q. 12) Out of 60 passengers travelling in a bus 19 were men, 28 were women and the rest were children. find the number of children?** ①②③④

**Q. 12) एका बस मधील 60 प्रवाश्यांपैकी 19 पुरुष आणि 28 स्त्रीया होत्या उरलेली संख्या मुलांची होती. तर मुलांची संख्या किती ?** ①②③④

- 1) 17
- 2) 23
- 3) 27
- 4) 13

**Q. 13) Which of the following statement is correct.** ①②③④

- 1) The number by which we multiply is called the multiplicand
- 2) The number to be multiplied is called the multiplicand
- 3) The number we get after multiplying is called the multiplicand
- 4) Both 1 and 2 are correct

**Q. 13) खालीलपैकी कोणते विधान बरोबर आहे ?**

- 1) ज्या संख्येने आपण गुणतो तो गुण्य. ①②③④
- 2) ज्या संख्येला गुणायचे आहे तो गुण्य.
- 3) दोन संख्यांचा गुणाकार केल्यावर येणाऱ्या संख्येला गुण्य म्हणतात
- 4) पर्याय 1 आणि 2 दोन्ही बरोबर आहेत.

**Q. 14) In the month of August, Trupti was absent in the school for five days. There were 4 sundays in the month of August. Saturday was also a working day. For how many days was Trupti present in the month of August ?** ①②③④

- 1) 21
- 2) 26
- 3) 25
- 4) 22

**Q. 14) ऑगस्ट महिन्यात तृप्ती पाच दिवस शाळेत गैरहजर होती. महिन्यात चार रविवार होते. आणि शनिवार शाळा होती. तर तृप्ती किती दिवस शाळेत हजर होती ?** ①②③④

- 1) 21
- 2) 26
- 3) 25
- 4) 22

**Q. 15) 6 km =-----** ①②③④

- 1) 6000 cm                      2) 600m  
3) 6000m                        4) 600 cm

Q. 15) 6 किमी = ----- ①②③④

- 1) 6000 सेमी                      2) 600 मी  
3) 6000 मी                        4) 600 सेमी

Q. 16) The door of a house is-----in shape?

①②③④

- 1) circular                        2) square  
3) triangular                      4) rectangular

Q. 16) घराच्या दाराचा आकार-----असतो?

- 1) वर्तुळाकार                      2) चौरस ①②③④  
3) त्रिकोणी                        4) आयताकृती

Q. 17) 414; 144; 404; 440; 441

If the above numbers are arranged in ascending order which number will be in the center. ①②③④

- 1) 414                                2) 144  
3) 404                                4) 440

Q. 17) 414; 144; 404; 440; 441

वरील संख्या चढत्या क्रमाने लावल्यास कोणती संख्या मधल्या स्थानावर येईल? ①②③④

- 1) 414                                2) 144  
3) 404                                4) 440

Q. 18) The length of a book is measured in-----

①②③④

- 1) metre                              2) centimetre  
3) kilometre                        4) millimetre

Q. 18) पुस्तकाची लांबी मोजण्याचे एकक----- आहे?

①②③④

- 1) मीटर                              2) सेंटीमीटर  
3) किलोमीटर                      4) मिलीमीटर

Q. 19) Riya bought a pack of 100 chocolates to distribute it in her class of 20 students. How many chocolates did each child get?

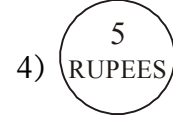
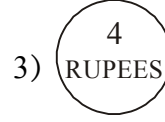
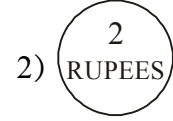
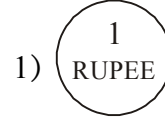
- 1) 2                                    2) 3 ①②③④  
3) 4                                    4) 5

Q. 19) रियाने 100 गोळ्यांचे एक पाकीट तिच्या वर्गातील 20 मुलांना वाटण्यास आणले. तर प्रत्येकाला किती गोळ्या मिळाल्या? ①②③④

- 1) 2                                    2) 3  
3) 4                                    4) 5

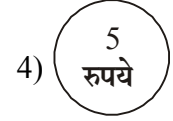
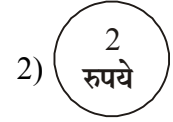
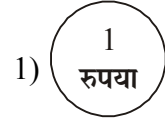
Q. 20) Which of the following is incorrect?

①②③④



Q. 20) खालील पैकी चूकीचा पर्याय निवडा?

①②③④



Q. 21) From the smallest three digit even number using the digit 7, 0, 3 only once.

①②③④

Q. 21) 7, 0, 3 हे अंक एकदाच वापरून तीन अंकी सर्वात लहान सम संख्या बनवा? ①②③④

- 1) 037                                2) 307  
3) 370                                4) 730

Q. 22) 1 Day = ----- hours

①②③④

- 1) 12                                    2) 24  
3) 30                                    4) 60

Q. 22) 1 दिवस = ----- तास

①②③④

- 1) 12                                    2) 24  
3) 30                                    4) 60

Q. 23-26) Information about student using different types of pencil in a class in given below.

Q. 23-26) खाली दिलेल्या चित्ररूप माहितीवरून प्रश्नांची उत्तरे लिहा?

Name of the pencil पेंसिलचे नाव	Number of Students वर्गातील विद्यार्थ्यांची संख्या
APSARA	११
LEKHA	११
SMART	११
NATRAJ	११

- 23) **Maximum number of student use----- pencils.** ①②③④  
 1) Apsara 2) Lekha  
 3) Smart 4) Natraj
- Q. 23) **जास्तीत जास्त विद्यार्थी कोणती पेन्सिल वापरतात?** ①②③④  
 1) Apsara 2) Lekha  
 3) Smart 4) Smart
- Q. 24) **How many student are there in the class?** ①②③④
- Q. 24) **वर्गात एकूण विद्यार्थी किती?** ①②③④  
 1) 27 2) 28  
 3) 35 4) 32
- Q. 25) **Which pencils are used by the same number of students?** ①②③④  
 1) APSARA, LEKHA  
 2) LEKHA, NATRAJ  
 3) NATRAJ, APSARA  
 4) APSARA, SMART
- Q. 25) **कोणत्या प्रकाराची पेन्सिल वापरणाऱ्या विद्यार्थ्यांची संख्या समान आहे?** ①②③④  
 1) APSARA, LEKHA  
 2) LEKHA, NATRAJ  
 3) NATRAJ, APSARA  
 4) APSARA, SMART
- Q. 26) **How many students do not use 'SMART' pencil ?** ①②③④
- Q. 26) **किती विद्यार्थी 'SMART' पेन्सिल वापरत नाहीत?** ①②③④  
 1) 24 2) 23  
 3) 22 4) 21
- Q. 27) **Put the proper sign in the box** ①②③④

- Q. 27) **चौकटीत योग्य चिन्ह घाला?** ①②③④  
 575  757  
 1) > 2) =  
 3) < 4) ^
- Q. 28) **In the number 368 the place value and face value of a digit is same. find the digit?** ①②③④  
 1) 3 2) 6  
 3) 8 4) none of these
- Q. 28) **368 या संख्येत एका अंकाची स्थानिक किंमत व दर्शनी किंमत सारखीच आहे. तर तो अंक कोणता?** ①②③④  
 1) 3 2) 6  
 3) 8 4) यापैकी कोणताच नाही
- Q. 29) **3 notes of Rs. 20 and 3 coins of Rs.5 make -----Rs.?** ①②③④  
 1) Rs.70 2) Rs.75  
 3) Rs.80 4) Rs.85
- Q. 29) **20 रुपयांच्या 3 नोटा व 5 रुपयांची 3 नाणी मिळून -----रुपये होतील?** ①②③④  
 1) रु.70 2) रु.75  
 3) रु.80 4) रु.85
- Q. 30) **Put the proper sign in the box -**  
 14×8  8×14 ①②③④  
 1) > 2) =  
 3) < 4) none of these
- Q. 30) **रिकाम्या चौकटीत योग्य चिन्ह घाला.**  
 14×8  8×14 ①②③④  
 1) > 2) <  
 3) = 4) सर्व पर्याय चूक

**Section III : Science (30 Questions, 60 Marks)**

**भाग III : विज्ञान (30 प्रश्न, 60 गुण)**

- Q.1 **गाईचे अन्न कोणते ?** ①②③④  
 1) गवत 2) पेंड  
 3) १ व २ दोनही बरोबर 4) यापैकी नाही
- Q.1 **What is the food of the cow ?** ①②③④  
 1) fodder 2) oilcakes

- 3) both (i)and (ii) 4) None of these
- Q.2 **बीजांकुरण होत असताना खालीलपैकी कोणकोणते बदल होतात?** ①②③④  
 1) उंची वाढते 2) उंची कमी होते  
 3) उंची एकासमान गतीने वाढते

- 4) यांपैकी नाही
- Q.2 What changes do you observe as a seedling grows?** ①②③④  
1) increase in height 2) decrease in height  
3) it grows 4) none of these
- Q.3 मनुष्यप्राणी खालीलपैकी कोणत्या प्रकारात मोडेल?**  
1) वनस्पती 2) प्राणी ①②③④  
3) परजीव 4) उभयचर
- Q.3 To which category do we belong?** ①②③④  
1) plants 2) animals  
3) aliens 4) none of these
- Q.4 खालील पैकी कोणता भाग हाताचा अवयव आहे?**  
1) मनगट 2) मांडी ①②③④  
3) छाती 4) खांदा
- Q.4 Which of the following is the part of a hand?** ①②③④  
1) fore arm 2) thigh  
3) chest 4) abdomen.
- Q.5 कोपर हा अवयव कोठे असतो ?** ①②③④  
1) मनगटाजवळ 2) दंडाखाली  
3) खांद्याजवळ 4) मनगट व खांदा यांच्यामध्ये
- Q.5 Where is the elbow situated?** ①②③④  
1) near the wrist  
2) under the upper arm  
3) above the upper arm  
4) None of these
- Q.6 सायकल चालविताना शरीराचा खालीलपैकी कोणत्या अवयवाचा वापर होतो?** ①②③④  
1) कान 2) हात  
3) मनगट 4) यांपैकी नाही
- Q.6 Which of the following part we use while cycling?** ①②③④  
1) ears 2) arms  
3) wrist 4) None of these
- Q.7 छाती, पोट व पाठ या तिन्ही अवयवांना एकत्रीतपणे-----म्हणतात** ①②③④  
1) कंबर 2) शरीराचा वरचा भाग  
3) धड 4) शरीराचा मधला भाग
- Q.7 The chest, abdomen and back are to-**

- gether called the** ①②③④  
1) hand 2) leg  
3) torso 3) None of these
- Q.8 हत्तीला खालीलपैकी कोणता अवयव असतो?**  
1) सोंड 2) शिंगे ①②③④  
3) हात 4) मान
- Q.8 Which of these are parts of elephant**  
1) Nose 2) horns ①②③④  
3) hand 4) None of these
- Q.9 कोळी या किड्याला किती पाय असतात?**  
1) 2 2) 8 ①②③④  
3) 9 4) 6
- Q.9 How many legs does a spider has?**  
1) 2 2) 8 ①②③④  
3) 9 4) 6
- Q.10 तुमच्या मते मनुष्याला विमानाची कल्पना खालीलपैकी कशावरून सुचली असेल ?** ①②③④  
1) पक्षाच्या उडण्यावरून 2) पतंगावरून  
3) ढगांवरून 4) पुराणकथांवरून
- Q.10 How do you think that man got the idea of a aeroplane?** ①②③④  
1) seeing the flight of birds  
2) seeing the flight of kites  
3) sailing of clouds  
4) None of these.
- Q.11 कासव : संथ चाल :: कबुतर : ①②③④**  
1) रंगते 2) पोहते  
3) उड्या मारते 4) आकाशात उडते
- Q.11 tortoise : walks slowly :: pigeon : -----** ①②③④  
1) creeps 2) swims  
3) hops 4) flies in the air.
- Q.12 खालीलपैकी कोणता पक्षी आकाराने सर्वात मोठा आहे?** ①②③④  
1) ईमू 2) शहामृग  
3) मोर 4) डायनासॉर
- Q.12 Which is the biggest of all birds?** ①②③④  
1) emu 2) ostrich  
3) peacock 4) none of these



- Q.13** खालीलपैकी वृक्षाचा अवयव कोणता?  
1) फळ 2) कोंब ①②③④  
3) १ व २ बरोबर 4) १ व २ चूक
- Q.13** Which of this is part of the plant ?  
1) fruit 2) bud ①②③④  
3) both (1) and (2) 4) none of these
- Q.14** खालीलपैकी कोणते मूळ आहे ? ①②③④  
1) कांदा 2) मिरची  
3) मुळा 4) 1 व 3
- Q.14** Which of these is a root ? ①②③④  
1) onion 2) chilly  
3) raddish 4) both 1& 3
- Q.15** खालीलपैकी वेल कोणती ? ①②③④  
1) काकडी 2) गाजर  
3) कारले 4) १ व ३ दोन्ही बरोबर
- Q.15** Which of these are climbers ? ①②③④  
1) cucumber 2) carrot  
3) bittergourd 4) both (1) and (3)
- Q.16** -----मुळे दिवस व रात्र होतात?  
1) पृथ्वीच्या परीभ्रमणामुळे ①②③④  
2) पृथ्वीच्या परीवलनामुळे  
3) सूर्याच्या परीभ्रमणामुळे  
4) पृथ्वीच्या परीवलनामुळे
- Q.16** We have days and nights because of ①②③④  
1) earth's rotation 2) earth's revolution  
3) sun's rotation 4) sun's revolution
- Q.17** कापड शिवण्यासाठी लागणारे धागे कशापासून मिळतात? ①②③④  
1) वनस्पती 2) जमीन  
3) आकाश 4) यापैकी नाही
- Q.17** From where do fibres are obtain ? ①②③④  
1) plants 2) sky  
3) ground 4) none of these
- Q.18** बैलांचे खाद्य कोणते ? ①②③④  
1) गवत 2) पशुखाद्य  
3) मांस 4) 1 व 2 बरोबर
- Q.18** What is the food of the ox? ①②③④  
1) grass 2) fodder  
3) both (1) and (4) 4) flesh

- Q.19** पाणी पिण्यायोग्य कसे कराल? ①②③④  
1) उकळवून 2) उघडे ठेवून  
3) 1 व 2 बरोबर 4) सर्व चूक
- Q.19** How should we preserve water ?  
1) by boiling ①②③④  
2) by keeping it covered  
3) none of these  
4) both (1) and (2)
- Q.20** सूर्यमालेतील सर्वात मोठा ग्रह कोणता ?  
1) सूर्य 2) गुरु ①②③④  
3) पृथ्वी 4) शनी
- Q.20** The biggest member of the solar system is ①②③④  
1) sun 2) Jupiter  
3) Earth 4) Titan
- Q.21** मनुष्याच्या शरीरात किती स्नायू असतात?  
1) 600 2) 700 ①②③④  
3) 800 4) 900
- Q.21** How many muscles are there in a human body? ①②③④  
1) 600 2) 700  
3) 800 4) 900
- Q.22** शरीराच्या सर्व अवयवांवर कोणाचे नियंत्रण असते?  
1) हृदय 2) डोळे ①②③④  
3) मेंदु 4) पोट
- Q.22** Which part of the body controls all the other organs ? ①②③④  
1) Heart 2) Eyes  
3) Brain 4) Stomach
- प्रQ.23** बेडकाच्या पिल्लास -----म्हणतात?  
1) पिल्लु 2) मासा ①②③④  
3) छावा 4) बेडूकमासा
- Q.23** The young ones of the frog are called : ①②③④  
1) young frogs 2) frog cubs  
3) puppies 4) tadpoles
- Q.24** दुध व अंडी-----साठी उत्तम असतात?  
1) डोळे 2) स्नायू ①②③④  
3) हृदय 4) हाडे
- Q.24** Foods like egg and milk are good for ①②③④  
1) eyes 2) muscles


- 3) heart 4) bones
- Q.25** खालीलपैकी कोणता पक्षी स्वतःसाठी घरे बांधत नाही? ①②③④
- 1) कावळा 2) चिमणी  
3) बुलबुल 4) गिधाड
- Q.25** Which bird does not build a nest for its own? ①②③④
- 1) Crow 2) Sparrow  
3) cuckoo 4) vulture
- Q.26** सोन्याची शुद्धता -----मध्ये मोजतात?
- 1) किलोग्रॅम 2) लीटर ①②③④  
3) कॅरट 4) केल्विन
- Q.26** Which of the following is used to measure the purity of gold. ①②③④
- 1) kilograms 2) Litres  
3) Carats 4) Kelvin
- Q.27** मानवी हृदयाला -----कप्पे असतात?
- 1) 4 2) 3 ①②③④  
3) 2 4) 1
- Q.27** The human heart has ----- no.of Chambers ①②③④
- 1) 4 2) 3  
3) 2 4) 1
- Q.28** शरीराच्या एकूण वजनाच्या -----%

- वजन पाण्याने असते. ①②③④
- 1) 60% 2) 70%  
3) 80 % 4) 90 %
- Q.28** ----- of our body weight is made up of water ①②③④
- 1) 60 % 2) 70 %  
3) 80 % 4) 90 %
- Q.29** खालीलपैकी मूळ नाही ? ①②③④
- 1) मुळा 2) गाजर  
3) बटाटा 4) सूरण
- Q.29** Which of the following is not a root ①②③④
- 1) Carrot 2) Radish  
3) Potato 4) Turnip
- Q.30** मुंग्याला -----पाय असतात.
- 1) 5 2) 6 ①②③④  
3) 7 4) 8
- Q.30** Ants have ----- no. of legs ①②③④
- 1) 5 2) 6 ①②③④  
3) 7 4) 8
- Q.22** मोराशी संबंधीत नसलेला गुण ओळखा ? ①②③④
- 1) रंगीत पिसारा 2) देखणे रुप  
3) राष्ट्रीय पक्षी 4) बेडौल

**Section IV : Intelligence Test (20 Questions, 40 Marks)**

**भाग IV : बुद्धिमत्ता चाचणी (20 प्रश्न, 40 गुण)**

- Q. 1** Find the odd term : ①②③④
- 1) Cat 2) Dog  
3) Camel 4) Bullock cart
- Q. 1** विजोड पद ओळखा : ①②③④
- 1) मांजर 2) कुत्रा  
3) उंट 4) बैलगाडी
- Q. 2** Recognize the place given in the picture. ①②③④
- Q. 2** चित्रातील वास्तू कोणती आहे ते ओळखा : ①②③④



- 1) Lal mahal 2) Taj mahal  
3) Red fort 4) Kutubminar  
1) लालमहाल 2) ताजमहाल  
3) लाल किल्ला 4) कुतुबमिनार

**Q. 3** If you go to a picnic to a historical monument which of the following you should not do? ①②③④

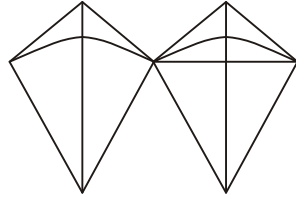
- 1) Observe everything carefully
- 2) Throw leftover from your tiffin on the lawn
- 3) Walk along with the group
- 4) Read the information about the monuments

**Q. 3** ऐतिहासिक स्थळी पर्यटनासाठी गेल्यावर खालील पैकी कोणती गोष्ट टाळावी? ①②③④

- 1) सर्व गोष्टी लक्षपूर्वक बघणे.
- 2) डब्यातील उरलेले अन्न हिरवळीवर टाकणे.
- 3) सर्वासोबत चालणे
- 4) दिलेली माहिती लक्षपूर्वक वाचणे.

**Q. 4** If we join 2 kites together like shown in the figure, at how many points they would be touching each other? ①②③④

**Q. 4** चित्रात दाखविल्याप्रमाणे दोन पतंग एकमेकांना जोडल्यास ते किती ठिकाणी जोडले जातील? ①②③④



- 1) 1
- 2) 2
- 3) 0
- 4) 4

**Q. 5** Madhukar had 12 marbles, out of which he gave six to Sudhakar, Prabhakar had 16 marbles, he distributed it equally to two of them. How many marbles will Madhukar have now? ①②③④

- 1) 12
- 2) 14
- 3) 16
- 4) 15

**Q. 5** मधुकर जवळ १२ गोट्या आहेत, त्यातील ६ गोट्या त्याने सुधाकरला दिल्या. प्रभाकर जवळ १६ गोट्या त्यातील निम्म्या निम्म्या गोट्या त्याने ह्या दोघांना वाटल्या तर मधुकर जवळ किती गोट्या असतील? ①②③④

- 1) 12
- 2) 14
- 3) 16
- 4) 15

**Q. 6** Which of the following best describes a bank? ①②③④

- 1) Where money can be deposited on inter-

est.

- 2) Where money can be borrowed
- 3) Where you can keep valuable safely
- 4) All the above

**Q. 6** खालीलपैकी कोणते विधान बँक ह्या बाबतीत सत्य आहे? ①②③④

- 1) व्याज मिळण्यासाठी पैसे बँकेत ठेवणे.
- 2) जरूर असल्यास पैसे व्याजावर मिळू शकतात.
- 3) मौल्यवान वस्तू सांभाळून ठेवण्यासाठी.
- 4) वरील सर्व कारणे.

**Q. 7** Which of the following agent would contaminate water? ①②③④

- 1) Salt
- 2) Sugar
- 3) ash
- 4) Mint

**Q. 7** खालीलपैकी कशाने पाण्याचे प्रदूषण होईल?

- 1) मीठ
- 2) साखर ①②③④
- 3) राख
- 4) पुदिना

**Q. 8** 1st August was on Monday. What would be the date on next monday? ①②③④

- 1) 7
- 2) 8
- 3) 9
- 4) 15

**Q. 8** एक ऑगस्ट जर सोमवारी असेल तर, पुढच्या सोमवारी कोणती तारीख असणार? ①②③④

- 1) 7
- 2) 8
- 3) 9
- 4) 15

**Q. 9** Which of the following is not a food for cows? ①②③④

- 1) Grass
- 2) Fruits
- 3) Meat
- 4) Cereals

**Q. 9** खालीलपैकी कोणते गाईचे अन्न नाही?

- 1) गवत
- 2) फळे ①②③④
- 3) मांस
- 4) धान्य

**Q. 10** For heating water which of the following is not used commonly. ①②③④

- 1) Cooking gas
- 2) heaters
- 3) Solar heaters
- 4) Oven

**Q. 10** पाणी तापविण्यासाठी खालील पैकी कशाचा उपयोग होत नाही. ①②③④

- 1) स्वयंपाकाचा गॅस
- 2) बंब
- 3) सोलर बंब
- 4) भट्टी

**Q. 11** How many living things are shown in the given picture? ①②③④

Q. 11 दिलेल्या चित्रात किती सजीव प्राणी आहेत.

①②③④



- 1) 6  
2) 5  
3) 4  
4) 8

Q. 12 Who would help you for delivering a letter?

①②③④

- 1) Postmaster  
2) Post man  
3) Wireman  
4) Telegrapher

Q. 12 पत्र पोचविण्यासाठी कोणाची मदत होते?

①②③④

- 1) पोस्टमास्तर  
2) पोस्टमन  
3) वायरमन  
4) तारतंत्री

Q. 13 Which bird does not build it's own nest?

- 1) Peacock  
2) Eagle  
3) Sparrow  
4) Mynah

Q. 13 खालीलपैकी कोणता पक्षी घरटे बनवत नाही?

- 1) मोर  
2) गरूड  
3) चिमणी  
4) मैना

Q. 14 Which of the following city is closest to seacoast?

①②③④

- 1) Pune  
2) Kolhapur  
3) Nashik  
4) Ratnagiri

Q. 14 खालीलपैकी कोणते शहर समुद्राजवळ आहे?

①②③④

- 1) पुणे  
2) कोल्हापूर  
3) नाशिक  
4) रत्नागिरी

Q. 15 Which is following colour is not present on Indian flag?

①②③④

- 1) Orange  
2) Yellow  
3) Green  
4) White

Q. 15 भारताच्या तिरंगी झेंड्यावर खालीलपैकी कोणता रंग नाही?

①②③④

1) नारिंगी

2) पिवळा

3) हिरवा

4) पांढरा

Q. 16 If I have 10 coins of 2 rupees and 3 coins of 5 rupees and 6 coins of rupees one, Find the total amount with me.

①②③④

- 1) Rs. 26  
2) Rs. 31  
3) Rs. 41  
4) Rs. 30

Q. 16 जर माझ्या जवळ दोन रुपयांची दहा नाणी, पाच रुपयांची तीन नाणी आणि एक रुपयांची ६ नाणी आहेत, तर माझ्या जवळ एकूण किती रुपये आहेत?

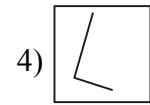
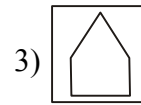
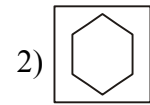
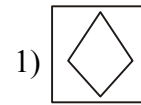
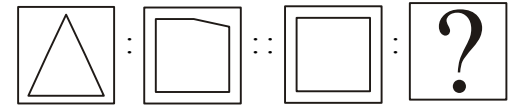
①②③④

- 1) रु. 26  
2) रु. 31  
3) रु. 41  
4) रु. 30

Q. 17 Which figure will come in place of the question mark?

①②③④

Q. 17 प्रश्नचिन्हाच्या जागी कोणती आकृती येईल?



Q. 18 'Mr. and Mrs. Bhosale have six members in the family' How many time letter a appears in the above sentence.

- 1) 4  
2) 3  
3) 5  
4) 2

Q. 18 सौ. व श्री. भोसले यांच्या घरात एकूण सहाजण राहतात' वरील वाक्यात कितीवेळा स आला आहे?

- 1) 2  
2) 3  
3) 5  
4) 4

Q. 19 Find the odd term

①②③④

- 1) Bus  
2) Auto rickshaw  
3) Car  
4) Train

Q. 19 विजोड पद ओळखा :

①②③④

- 1) बस  
2) रिक्शा  
3) मोटार  
4) रेल्वे

Q. 20 Find the next number

①②③④

7, 13, 20, 27, ?

1) 32

3) 34

2) 33

4) 35

Q. 20 पुढील पद ओळखा :

7, 13, 20, 27, ?

1) 32

3) 34

2) 33

4) 35

①②③④

Answers / उत्तरे :

Section I :

1.	2)	2.	3)	3.	1)	4.	4)	5.	3)
6.	4)	7.	1)	8.	3)	9.	4)	10.	2)
11.	1)	12.	2)	13.	1)	14.	3)	15.	1)
16.	3)	17.	4)	18.	2)	19.	1)	20.	2)

भाग I :

1.	2)	2.	3)	3.	1)	4.	3)	5.	1)
6.	3)	7.	4)	8.	2)	9.	4)	10.	4)
11.	1)	12.	3)	13.	3)	14.	1)	15.	2)
16.	3)	17.	1)	18.	1)	19.	1)	20.	3)

Section II / भाग II :

1.	2)	2.	2)	3.	3)	4.	2)	5.	2)
6.	2)	7.	3)	8.	3)	9.	3)	10.	2)
11.	1)	12.	4)	13.	2)	14.	4)	15.	3)
16.	4)	17.	1)	18.	2)	19.	4)	20.	3)
21.	3)	22.	2)	23.	3)	24.	4)	25.	1)
26.	3)	27.	3)	28.	3)	29.	2)	30.	3)

Section III / भाग III :

1.	3)	2.	1)	3.	2)	4.	1)	5.	2)
6.	2)	7.	3)	8.	4)	9.	2)	10.	1)
11.	4)	12.	2)	13.	3)	14.	4)	15.	4)
16.	1)	17.	1)	18.	3)	19.	1)	20.	1)
21.	1)	22.	3)	23.	4)	24.	4)	25.	3)
26.	3)	27.	1)	28.	2)	29.	3)	30.	2)

Section IV / भाग IV :

1.	4)	2.	2)	3.	2)	4.	1)	5.	2)
6.	4)	7.	3)	8.	2)	9.	3)	10.	4)
11.	1)	12.	2)	13.	1)	14.	4)	15.	2)
16.	3)	17.	3)	18.	1)	19.	4)	20.	3)