

Jr. Newton Talent Search Examination - 2011-12
Practice Paper - 2
STANDARD - III

Total Marks : 200



Time : 2 hrs.

Section I : Language (20 Questions, 40 Marks)

Passage :

The woodpecker is an interesting and amazing bird. It has a strong, pointed beak that acts as a hammer to remove bark from trees and find insects to eat. It has a very long tongue, up to four inches long, that is sticky on the tip for catching insects. Most birds have one toe pointing back and three pointing forward on each foot. Woodpeckers are a little bit different. They have two sharp claws pointing back and two sharp claws pointing forward on each foot to help them hold on to the sides of trees. The life span of a woodpecker is 4-11 years.

Their favorite foods are insects, fruit, acorns and nuts. These awesome birds live in forests and wooded areas with lots of trees. Woodpeckers can be found all over the world, except in Australia.

- Q. 1. Why do woodpeckers remove bark from trees?** ① ② ③ ④
1) They like making noise
2) To find insects to eat
3) To build a home
4) The bark of trees is their food
- Q. 2. How many claws do woodpeckers have on each foot?** ① ② ③ ④
1) One
2) Two
3) Three
4) Four
- Q. 3. About how long do woodpeckers live?** ① ② ③ ④
1) About 7 years
2) About 2 years
3) About 20 years
4) About 4-11 years
- Q. 4. What types of foods do woodpeckers like to eat?** ① ② ③ ④
1) Insects
2) Fruits
3) Acorns and Nuts
4) All of the above
- Q. 5. Which is one place that you will not find woodpeckers?** ① ② ③ ④
1) America
2) Wooded areas
3) Australia
4) Forests
- Q. 6. Which of the given words does not rhyme with 'shoe'?** ① ② ③ ④
1) blue
2) show
3) true
4) clue
- Q. 7. The meaning of to 'summon' is** ① ② ③ ④
1) to add or subtract
2) to complete
3) to call
4) to defeat
- Q. 8. Form the antonym of 'rude' using a prefix** ① ② ③ ④
1) unrude
2) in polite
3) impolite
4) stern
- Q. 9. Which of these will you not find on a playground?** ① ② ③ ④
1) children
2) football
3) duster
4) teacher
- Q. 10. Look at the picture and identify the word which means 'a shortcoming'** ① ② ③ ④
-  + i + 
- 1) fingertip
2) thumbhat
3) handicap
4) handing
- Q. 11. Identify what kind of sentence is the given one. 'Pick up that paper and put it in the dustbin'.** ① ② ③ ④
1) Command
2) statement
3) question
4) request

Q. 12. Fill in the blank with the correct verb

The children ----- with joy when they go out to play ①②③④

- 1) shouts 2) will shout
3) shout 4) have shouted

Q. 13. Complete the sentence with an appropriate proposition ①②③④

The small baby likes to hide ----- the curtain

- 1) Under 2) in
3) on 4) behind

Q. 14. Insert the correct articles in the sentence.

My mother gave us ----- orange and ----- cake in ----- tiffin. ①②③④

- 1) a, an, the 2) an, a, the
3) an, the, a 4) an, the, the

Q. 15. Punctuate the sentence ①②③④

What a bad thing to do

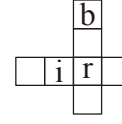
1. What a bad thing to do!
2. What? A bad thing to do
3. What- a bad thing to do ?
4. What, a 'bad' thing to do!

Q. 16. The month of March ----- the month of April. Which word will you use?

- ①②③④

- 1) Precedes 2) proceed
3) presides 4) preverb

Q. 17. Which two words will complete the puzzle?



- ①②③④

- 1) bird, girl 2) burd, gird
3) bard, fire 4) berd, gird

Q. 18. Arrange the following words in alphabetical order ①②③④

gate, sand, ant, name, action

- 1) Ant, gate, name, sand, action
2) Ant, action, sand, name, gate
3) Action, ant, gate, name, sand,
4) Action, ant, gate, sand, name,

Q. 19. A sparrow ----- ①②③④

- 1) Screeches 2) chirps
3) quacks 4) crows

Q. 20. Unscramble the letters to find a wild animal 'GTEIR' ①②③④

- 1) Goat 2) tiger
3) tierg 4) right

भाग I : भाषा (20 प्रश्न, 40 गुण)

अब्राहम लिंकन अमेरिकेचे राष्ट्राध्यक्ष होते. बालपणी त्यांना वाचनाची अतिशय आवड होती; पण घरची परिस्थिती बेताची. पुस्तक विकत घ्यायला पैसे नसत. मग पुस्तक आणायचे कोठून ? वाचनाची आवड पुरवायची कशी ? त्यासाठी त्याने एक वेगळाच मार्ग शोधला. तो पुस्तकालयात जाई. नवीन पुस्तके कोण विकत घेतो, ह्यावर लक्ष ठेवी. काही दिवसांनी त्या गृहस्थाकडे जाऊन 'आपण घेतलेले पुस्तक मला वाचायला द्या', अशी त्यांना विनंती करी. पुस्तक घेण्याची ऐपत नाही; म्हणून पुस्तक देण्याविषयी आग्रह धरी. त्या गृहस्थाला त्याचे कौतुक वाटायचे. ते लिंकनला पुस्तक वाचायला द्यायचे.

Q. 1 अमेरिकेचे राष्ट्राध्यक्ष कोण होते ? ①②③④

- 1) जॉन अब्राहम 2) अब्राहम लिंकन
3) अब्दुल कलाम 4) बराक ओबामा

Q. 2 त्यांची आवड काय होती ? ①②③④

- 1) वाचन 2) लेखन
3) गायन 4) वादन

Q. 3 उताऱ्यातून पुस्तकांच्या दुकानाकरता कोणता शब्द वापरला आहे ? ①②③④

- 1) बुक स्टॉल 2) क्रॉस वर्ड
3) वाचनालय 4) पुस्तकालय

खालील कविता वाचून त्यावर आधारीत प्रश्नांची उत्तरे योग्य पर्याय निवडून द्या.

पडल्या जागी तळ्यातलं पाणी

एकच विचार मनात आणी

आमचा आपला तळं खाली

पक्षी तेवढे उंच आभाळी

म्हणून त्याची वाफ झाली

तळं सोडून वर निघाली

वाफेला मग पंख फुटले

ढग होऊन पळत सुटले.

कवी - रवींद्रनाथ टागोर

अनुवाद - पु.ल.देशपांडे

Q. 4 कवितेत कोणाला वाईट वाटत आहे ?

①②③④

- 1) तळ्यातल्या पाण्याला 2) तळ्यातल्या माशाला
3) पक्षांना 4) ढगांना

Q. 5 पक्षी कुठे असतात ?

①②③④

- 1) घरात 2) तळ्यात
3) आभाळात 4) गुहेत

Q. 6 वाफेला पंख फुटल्यावर काय झाले ?

- 1) पाणी 2) वारा ①②③④
3) वीज 4) ढग

खालील संवाद वाचून त्यावरील प्रश्नांच्या उत्तरासाठी योग्य पर्याय निवडा.

सुधाकर : काय दिन्, कुठे निघालास ?

दिनकर : भाजी आणायला, चल येतोस ?

सुधाकर : चल, हा पहा भाजीवाला आपल्याकडे येतोय.

दिनकर : काका, काकडी कशी दिली ?

भाजीवाले : १० रुपये पाव. वांगी कोवळी आहेत घ्या की वाईच अन् ताजी मेथीबी आनलिया.

Q. 7 संवादात कितीजण सहभागी आहेत ?

- 1) एक 2) दोन ①②③④
3) तीन 4) चार

Q. 8 कोवळी भाजी कोणती आहे ? ①②③④

- 1) काकडी २) वांगी
3) मेथी 4) पडवळ

Q. 9 काकडी कशी किलो आहे ? ①②③④

- 1) 10 रु. 2) 20 रु.
3) 30 रु. 4) 40 रु.

Q. 10 खालील शब्दातून गटात न बसणारा शब्द ओळखा.

①②③④

- 1) मेथी 2) पालक
3) दुधी 4) शेपू

Q. 11 'हात' या नामाला समान अर्थाचा शब्द कोणता ?

- 1) बाहू 2) दंड ①②③④

3) मनगट

4) कोपर

Q. 12 ध्वनिवर्धक शब्द ओळखा. ढगांचा -----

- 1) सळसळ 2) छनछन ①②③④
3) कडकडाट 4) गडगडाट

Q. 13 अजिंठ्याच्या लेण्यांमधल्या एकोणिसाव्या लेण्याचे नाव काय ? ①②③④

- 1) गंधकुटी 2) पर्णकुटी
3) बुध्दकुटी 4) कैलास

Q. 14 'शाळा' या शब्दाचे अनेकवचनी रूप कोणते ?

- 1) शाळे 2) शाळा ①②③④
3) शाळी 4) शाली

Q. 15 'सविता' या शब्दाचा अर्थ काय ? ①②③④

- 1) फूल 2) झाड
3) सूर्य 4) वारा

Q. 16 पाणिनी कोणत्या ऋषींच्या आश्रमात शिकण्यासाठी दाखल झाला ? ①②③④

- 1) कण्व 2) वर्ष
3) शुक्र 4) भृगू

Q. 17 'धूम ठोकणे' या वाक्प्रचाराचा अर्थ काय ?

①②③④

- 1) पळूण जाणे 2) आवाज करणे
3) झोपणे 4) खूप खाणे

Q. 18 खालीलपैकी कोणती गोष्ट संगणकाशी संबंधित नाही ? ①②③④

- 1) की बोर्ड 2) माऊस
3) इंटरनेट 4) रिमोट

Q. 19 मामाच्या गावाला कसे जायचे असते ?

①②③④

- 1) बसने 2) आगगाडीने
3) जहाजाने 4) रिक्षाने

Q. 20 'हिरकणीचा बुरुज' कोणत्या गडावर आहे?

①②③④

- 1) राजगड 2) सिंहगड
3) रायगड 4) विशालगड

Section II : Maths (30 Questions, 60 Marks)

भाग II : गणित (30 प्रश्न, 60 गुण)





Q. 1) Subtract : 483-296 ①②③④

Q. 1) वजाबाकी करा : 483-296 ①②③④

- 1) 213 2) 187
3) 312 4) 283

Q. 2-4) Observe the Pictorial information given below and answer the question?

Q. 2-4) खाली दिलेल्या चित्ररूप माहितीवरून प्रश्नांची उत्तरे लिहा.

Name of girls (मुलींची नावे)	Flowers (फुले)	
	Rose (गुलाब)	Marigold (झेंडू)
Pushpa पुष्पा		
Neha नेहा		

Q. 2) How many flowers do they have in all? ①②③④

Q. 2) दोघींजवळ मिळून किती फुले आहेत? ①②③④

- 1) 31 2) 40
3) 41 4) 30

Q. 3) Who has more flowers ? ①②③④

- 1) Both have same number of flower
2) Pushpa
3) Neha
4) Cannot say

Q. 3) कोणाजवळ जास्त फुले आहेत ? ①②③④

- 1) दोघींजवळ सारखीच फुले आहेत
2) पुष्पा
3) नेहा
4) सांगता येत नाही

Q. 4) Total number of marigold flowers is----- ①②③④

Q. 4) दोघींजवळ मिळून झेंडूची फुले किती ?

- 1) 40 2) 41 ①②③④
3) 23 4) 33

Q. 5) Form a three-digit biggest odd number using the digit 3, 2, 6, only once.

- 1) 623 2) 632 ①②③④
3) 626 4) 362

Q. 5) 3, 2, 6, हे अंक एकदाच वापरून तीन अंकी मोठ्यात मोठी विषम संख्या बनवा? ①②③④

- 1) 626 2) 632
3) 626 4) 362

Q. 6) Which of the following is a true statement? ①②③④

- 1) Divisor = Dividend \times Quotient + Remainder
2) Dividend = Divisor \div Quotient + Remainder
3) Dividend = Divisor \times Quotient - Remainder
4) Dividend = Divisor \times Quotient + Remainder

Q. 6) खालील पैकी कोणते विधान सत्य आहे?

- ①②③④
१) भाजक=भाज्य \times भागाकार + बाकी
२) भाज्य=भाजक \div भागाकार + बाकी
३) भाज्य=भाजक \times भागाकार - बाकी
४) भाज्य=भाजक \times भागाकार + बाकी

Q. 7) Find the sum of 326+498 ①②③④

Q. 7) 326+498 ची बेरीज करा. ①②③④

- 1) 814 2) 714
3) 824 4) 724

Q. 8) Quarter to nine means----- ①②③④

- 1) 9 hours 45 minutes
2) 9 hours 15 minutes
3) 8 hours 45 minutes
4) 8 hours 15 minutes

Q. 8) पावने नऊ वाजले म्हणजे----- ①②③④

- 1) 9 वाजून 45 मिनिटे 2) 9 वाजून 15 मिनिटे
3) 8 वाजून 45 मिनिटे 4) 8 वाजून 15 मिनिटे

Q. 9) Raju wants to fill 1 liter of milk into a can. How many measures of 100 ml has he to pour into the can ? ①②③④

- 1) 1 2) 10
3) 100 4) 1000

Q. 9) राजूला एका बरणीत 1 लीटर दूध भरायचे आहे.

much was her wrong? Was his number smaller or bigger than the said number

①②③④

- 1) 44, smaller 2) 44, bigger
3) 36, smaller 4) 36, bigger

Q. 18) बबलूने 84 लिहिण्या ऐवजी 48 लिहिले. तर तो संख्या लिहिण्यास कितीने चुकला होता? त्याने लिहिलेली संख्या सांगितलेल्या संख्येपेक्षा लहान होती का मोठी होती? ①②③④

- 1) 44, लहान 2) 36, लहान
3) 44, मोठी 4) 36, मोठी

Q. 19) One puranpoli was to be distributed equally among 3 boys and 5 girls. Write the fraction of puranpoli distributed among girl. ①②③④

Q. 19) 3 मुले व 5 मुली एक पुरणपोळी समान भाग करून वाटली. तर मुलींनी वाटलेल्या पुरणपोळीचा अपूर्णाक लिहा. ? ①②③④

- 1) $\frac{1}{8}$ 2) $\frac{5}{8}$
3) $\frac{3}{8}$ 4) $\frac{8}{8}$

Q. 20) 30 Hundreds + 30 Tens + 30 Units = ?

①②③④

Q. 20) बेरीज करा : 30 शतक + 30 दशक + 30 एकक

①②③④

- 1) 3330 2) 303030
3) 360 4) 9000

Q. 21) Nigma bought 9 gifts costing Rs. 54 each. How much did she spend on gifts ?

①②③④

Q. 21) नजमाने 54 रुपयांस एक आशा 9 भेटवस्तु आणल्या तर तिने भेटवस्तुंवर किती रुपये खर्च केले? ①②③④

- 1) 54 +9 2) 54÷9
3) 54-9 4) 54×9

Q. 22) The surface of a laddu is----- ?

①②③④

- 1) flat 2) circle
3) curuvud 4) triangle

Q. 22) लाडवाचा पृष्ठभाग -----असतो?

- 1) सपाट 2) वर्तुळ ①②③④
3) वक्र 4) त्रिकोण

Q. 23) Bhima planted 144 saplings in his farm. He planted them in 18 rows. How many saplings did he plant in each row ? ①②③④

Q. 23) जास्तीत जास्त विद्यार्थी कोणती पेन्सील वापरतात?

- 1) 2612 2) 162 ①②③④
3) 6 4) 8

Q. 24) Frame a subtraction question based on the information given below. ①②③④

Ram has 6 balls, Rahim has 8 balls, Robert has 5 balls and Romir has 9 balls.

- 1) How many less balls Romir has than Ram?
2) How many balls does Rahim and Ram have together ?
3) Who has the least number of balls ?
4) How many more balls Rahim has than Robert?

Q. 24) खाली दिलेल्या माहितीवरून वजाबाकीचा प्रश्न तयार करा. राम जवळ 6 चेंडू, रहीम जवळ 8 चेंडू, रॉबर्ट जवळ 5 चेंडू आणि रोमीर जवळ 9 चेंडू. ①②③④

- 1) रोमीर जवळ राम पेक्षा किती चेंडू कमी ?
2) रहीम व रामकडे मिळून किती चेंडू?
3) कोणाकडे सर्वात कमी चेंडू ?
4) रहीमकडे राबर्ट पेक्षा किती चेंडू जास्त ?

Q. 25) Which of the following is correct ?

①②③④

- a) $15 \times 6 = 6 \times 15$ b) $18 + 8 = 8 + 18$
c) $27 \div 9 = 9 \div 27$ d) $16 - 3 = 3 - 16$
1) a and b 2) a, b and c
3) b and c 4) b and d

Q. 25) खालीलपैकी कोणती विधाने बरोबर आहेत ?

①②③④

- अ) $15 \times 6 = 6 \times 15$ ब) $18 + 8 = 8 + 18$
क) $27 \div 9 = 9 \div 27$ ड) $16 - 3 = 3 - 16$
1) अ आणि ब 2) अ, ब आणि क
3) ब आणि क 4) ब आणि ड

Q. 26) Write the product of 326×6 ①②③④

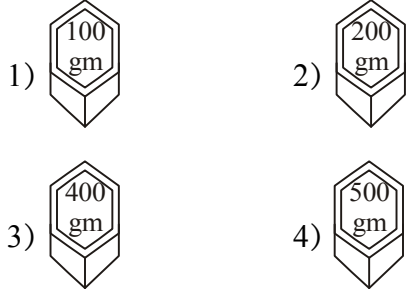
Q. 26) 326 × 6 चा गुणाकार लिहा. ? ① ② ③ ④

- 1) 326 2) 6
3) 1856 4) 1956

Q. 27) Which of the following is incorrect ?

① ② ③ ④

Q. 27) खालीलपैकी चुकीचा पर्याय कोणता? ① ② ③ ④



Q. 28) Pick out the one which does not fit into the group ? ① ② ③ ④

- 1) Vaishakh 2) Ashadh
3) Bhadrapad 4) Kartik

Q. 28) गटात न बसणारा शब्द ओळखा? ① ② ③ ④

- 1) वैशाख 2) आषाढ
3) भाद्रपद 4) कार्तिक

Q. 29) -----hours make one week. ① ② ③ ④

Q. 29) -----तासांचा एक आठवडा असतो?

- 1) 24 2) 7 ① ② ③ ④
3) 161 4) 168

Q. 30) How much must be added to 263 to make a sum of four hundred? ① ② ③ ④

Q. 30) 263 मध्ये किती मिळवल्यास बेरीज चारशे येते?

- 1) 137 2) 163 ① ② ③ ④
3) 237 4) 247

Section III : Science (30 Questions, 60 Marks)

भाग III : विज्ञान (30 प्रश्न, 60 गुण)

Q.1 Which of the following plants grow from its seed? ① ② ③ ④

- 1) Potato 2) Maize
3) Onion 4) Ginger

Q.1 खालील पैकी कोणती वनस्पती बी पासून बनते

- 1) बटाटा 2) मका ① ② ③ ④
3) कांदा 4) आल

Q.2 Which bone protects the brain from getting damaged or injured? ① ② ③ ④

- 1) Ribcage 2) Skull
3) Femur 4) Vertebral column

Q.2 -----मुळे मेंदूचे संरक्षण होते. ① ② ③ ④

- 1) छातीचा पिंजरा 2) कवटी
3) गुडघ्याची वाटी 4) मणका

Q.3 The small intestine is part of which System ? ① ② ③ ④

- 1) circulatory 2) Excretory
3) Respiratory 4) Nervous

Q.3 छोटे आतडे हा-----चा भाग आहे.

- 1) रक्ताभिसरण संस्था 2) उत्सर्जन संस्था
3) श्वसन संस्था 4) चेता संस्था ① ② ③ ④

Q.4 The marble of Taj Mahal our bones and milk have one common thing. ① ② ③ ④

- 1) Calcium 2) Magnesium
3) Iron 4) Copper

Q.4 संगमरवर हाडे व दुध या तिन्ही मध्ये-----आढळते. ① ② ③ ④

- 1) कॅल्शियम 2) मॅग्नेशियम
3) लोह 4) तांबे

Q.5 Which is slowest animal of the following? ① ② ③ ④

- 1) Snail 2) tortoise
3) Donkey 4) Cow

Q.5 -----हा सर्वात मंद प्राणी आहे.

- 1) गोगलगाय 2) कासव ① ② ③ ④
3) गाढव 4) गाय

Q.6 Which of the following is not reptile? ① ② ③ ④

- 1) Snake 2) Dinosaur
3) tortoise 4) Fish

Q.6 -----हा सरपटणारा प्राणी नाही.

- 1) साप 2) पाल ① ② ③ ④
3) कासव 4) मासा

- Q.7 Which part of plant prepares food?** ①②③④
 1) root 2) flower
 3) branches 4) leaf
- Q.7** -----पासून वनस्पती आपले अन्न बनवतात. ①②③④
 1) मुळ 2) फुल
 3) फांदी 4) पाने
- Q.8 The tomato plant falls under the category?** ①②③④
 1) Herbs 2) Shrubs
 3) Trees 4) Grass
- Q.8 टोमॅटो ही वनस्पती -----आहे.** ①②③④
 1) छोटी वनस्पती 2) झुडूप
 3) वृक्ष 4) गवत
- Q.9 Food like egg and milk are good for?** ①②③④
 1) eyes 2) Muscle
 3) heart 4) bones
- Q.9** -----साठी लागणारे उपयुक्त अन्नघटक दुध व अंडी यातून मिळतात. ①②③④
 1) डोळे 2) स्नायू
 3) हृदय 4) हाडे
- Q.10 A group of star in the sky making a certain pattern is called?** ①②③④
 1) eclipse 2) constellation
 3) asteroids 4) meteors
- Q.10 आकाशात तयार होणाऱ्या तारका समुहांच्या विशिष्ट रचनेला-----म्हणतात.** ①②③④
 1) ग्रहण 2) आकाशगंगा
 3) ग्रहगोल 4) उल्का
- Q.11 The working of our heart is most similar to?** ①②③④
 1) Fan 2) Car
 3) Computer 4) Pump
- Q.11 हृदयाचे कार्य हे खालील पैकी कोणत्या यंत्राच्या कार्याप्रमाणे आहे.** ①②③④
 1) पंखा 2) मोटार
 3) संगणक 4) पाण्याचा पंप
- Q.12 The jaw bone is present in the ?** ①②③④
 1) Legs 2) ribs
 3) hands 4) head

- Q.12 जबड्याचे हाड खालीलपैकी-----मध्ये असते.** ①②③④
 1) पायात 2) बरगड्यांमध्ये
 3) हातात 4) कवटीत
- Q.13 Which of the following animals have two leg?** ①②③④
 1) Donkey 2) Elephant
 3) Penguin 4) tiger
- Q.13** -----ला दोन पाय असतात.
 1) गाढव 2) हत्ती ①②③④
 3) कबुतर 4) वाघ
- Q.14 Which is not a part of leg?** ①②③④
 1) Thigh 2) ankle
 3) Knee 4) twist
- Q.14** -----हा पायाचा भाग नाही.
 1) मांडी 2) घोटा ①②③④
 3) गुडघा 4) मनगट
- Q.15 Which is not living thing?** ①②③④
 1) Table 2) goat
 3) plant 4) spider
- Q.15** -----निर्जिव आहे. ①②③④
 1) टेबल 2) बोकड
 3) वनस्पती 4) कोळी
- Q.16 Which have many seeds?** ①②③④
 1) Amla 2) bor
 3) watermelon 4) jamun
- Q.16** -----मध्ये बीयांची संख्या खूप असते.
 1) आवळा 2) बोर ①②③④
 3) कलिंगड 4) जांभूळ
- Q.17 Animal that live in crack in stone?** ①②③④
 1) Snake 2) Scorpion
 3) dog 4) Crab
- Q.17** -----हा प्राणी दगडाच्या फटीत राहतो.
 1) साप 2) विंचू ①②③④
 3) कुत्रा 4) खेकडा
- Q.18 Which is natural fibre?** ①②③④
 1) Rayon 2) nylon
 3) terylene 4) cotton
- Q.18** -----हा नैसर्गिक धागा आहे. ①②③④
 1) रेयॉन 2) नायलॉन
 3) टेरीलिन 4) सूत

- Q.19** ----- suck the nectar from flower with a proboscis? ①②③④
 1) Monkey 2) Butterfly
 3) Hen 4) Frog
- Q.19** -----हा आपल्या सोंडेव्दारे फुलातील मध शोषून घेतो. ①②③④
 1) माकड 3) फुलपाखर
 2) कोंबडी 4) बेडुक
- Q.20** Which of the following is eaten raw? ①②③④
 1) Coconut chutney 2) green mangoes
 3) bhakari 4) ladoos
- Q.20** -----हे कच्चे खातात. ①②③④
 1) खोबऱ्याची चटणी 2) कैरी
 3) भाकरी 4) लाडू
- Q.21** Which is not a natural Disaster? ①②③④
 1) Flood 2) earth quake
 3) Bomb blast 4) Tsunami
- Q.21** -----ही नैसर्गिक आपत्ती नाही. ①②③④
 1) पूर 2) भुकंप
 3) बॉम्बस्फोट 4) त्सुनामी
- Q.22** Which is odd-one out:- ①②③④
 1) eraser 2) air
 3) hydrogen 4) oxygen
- Q.22** गटात न बसणारा पर्याय शोधा. ①②③④
 1) खोडरबर 2) हवा
 3) ऑक्सीजन 4) हायड्रोजन
- Q.23** Which is not a good habit? ①②③④
 1) combing hair 2) washing hair
 3) bite nails with teeth
 4) Cutting nails with nail cutter
- Q.23** -----ही वाईट सवय आहे. ①②③④
 1) भांग पाडणे 2) केस धुणे
 3) नखे कुरतडणे 4) नेलकटरने नखे काढणे
- Q.24** Which is not a sensory organ ? ①②③④
 1) skin 2) eye
 3) leg 4) nose
- Q.24** -----हे ज्ञानेन्द्रिय नाही. ①②③④
 1) त्वचा 2) डोळे
 3) पाय 4) नाक
- Q.25** Which part of body we use for cycling ? ①②③④

- 1) legs 2) hands
 3) tongue 4) nose
- Q.25** -----या अवयवाचा सायकल चालविण्यासाठी उपयोग होतो. ①②③④
 1) पाय 2) हात
 3) जीभ 4) नाक
- Q.26** How many legs does spider have ? ①②③④
 1) 2 2) 3
 3) 6 4) 8
- Q.26** कोळयाला किती पाय असतात? ①②③④
 1) 2 2) 3
 3) 6 4) 8
- Q.27** Which animal builds mound like anthill. ①②③④
 1) Termite 2) rabbit
 3) Snake 4) Spider
- Q.27** -----चे घर वारुळासारखे असते. ①②③④
 1) वाळवी 2) ससा
 3) साप 4) कोळी
- Q.28** Which of the following do not build their an nest? ①②③④
 1) Sparrow 2) bulbul
 3) cuckoo 4) Pigeon
- Q.28** -----स्वतःचे घरटे बांधत नाही ①②③④
 1) चिमणी 2) बुलबुल
 3) कोकिल्ला 4) कबुतर
- Q.29** Which of the following is not carbohydrate? ①②③④
 1) Rice 2) bhakris
 3) Chapatis 4) dal
- Q.29** -----हा पिष्टमय पदार्थ नाही. ①②③④
 1) भात 2) भाकरी
 3) चपाती 4) वरण
- Q.30** Which plant don't have thick strong stem? ①②③④
 1) banyan 2) neem
 3) banana 4) jamun
- Q.30** -----या वनस्पतीचे खोड कठिण व मजबूत असते. ①②③④
 1) वड 2) लिंब
 3) केळ 4) जांभूळ

Section IV : Intelligence Test (20 Questions, 40 Marks)

भाग IV : बुद्धिमत्ता चाचणी (20 प्रश्न, 40 गुण)

Q.1 which of the following is not a farm animal ? ①②③④

- (1)Ox (2)Donkey
(3)Tiger (4)Cow

Q.1 खालीलपैकी कोणता प्राणी शेतावर नसतो?

- (1) बैल (2) गाढव
(3) वाघ (4) गाय

Q.2 If sumit has 16 pencils and 9 pens, He gives 4 pens and 8 pencils to his friends, His friend sayed he wants only 4 pencils and 1 pen and takes only those.How many pencil's Sumit has now?

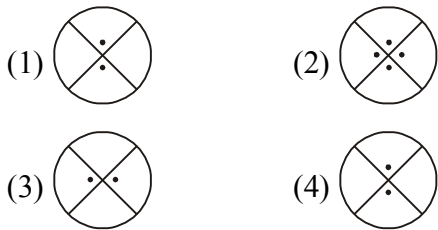
- (1)12 (2)13 ①②③④
(3)10 (4)16

Q.2 सुमीत जवळ 16 पेन्सिली आणि 9 पेन आहेत.त्याने 4 पेन व 8 पेन्सिली त्याच्या मित्राला द्यायचे ठरविले,पण त्याच्या मित्राने फक्त 4 पेन्सिली व 1 पेन घेतले.तर आता सुमीत जवळ किती पेन्सिली आहेत ? ①②③④

- (1)12 (2)13
(3)10 (4)16

Q.3 Find odd term ①②③④

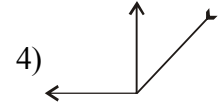
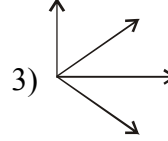
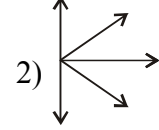
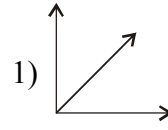
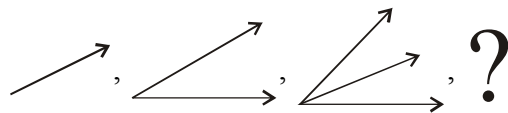
Q.3 विजोड पद ओळखा ①②③④



Q.4 Find the next term in the series.

- ①②③④

Q.4 मालीकेतील पुढील पद ओळखा ①②③④



Q.5 As calf is to cow then foal is to what

- (1) elephant (2) ox ①②③④
(3) sheep (4) Horse

Q.5 मालीकेतील पुढील पद ओळखा ①②③④

- (1) बछडा (2) पिल्लु
(3) शिंगरु (4) रेडकू

Q.6 Radha is Neela's niece.krupa is Radhas sister,and married to Piyush.How Piyush is related to Neela ①②③④

- (1) son in law (2) Nephew
(3) brother in low (4) None & these

Q.6 राधा नीलाची भाची आहे.कृपा राधाची बहिण आहे,तिचे लग्न पियुषशी झाले आहे.तर त्याचे नीलाशी काय नाते आहे? ①②③④

- (1) जावई (2)भाचा
(3) मेव्हणा (4)यापैकी नाही

Q.7 If 9th of this month was an Tuesday, so what would be the date on next Tuesday?

- ①②③④

- (1)15th (2)14th
(3)16th (4)19th

Q.7 जर या महिन्याच्या 9 तारखेला मंगळवार होता.तर पुढील मंगळवारी कोणती तारीख असेल ?

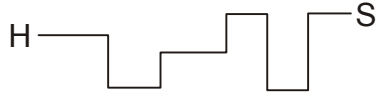
- (1)15 (2)14 ①②③④
(3)16 (4)19

Q.8 How many times Kedar turned while going from his house (H) to school (S) ?

- ①②③④

Q.8 केदार घरापासून(H) शाळेत(S) जातांना किती वेळा वळला?

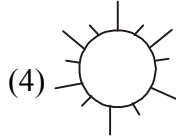
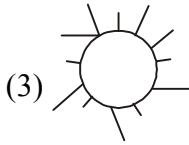
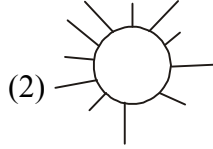
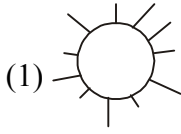

- ①②③④



- (1)10 (2)9
(3)1 (4)8

Q.9 Find the similar term ①②③④

Q.9 समान पद ओळखा ①②③④



Q.10 Find odd term ①②③④

- (1) Mango (2) Apple
(3) Chickoo (4) Guava

Q.10 विजोड पद ओळखा ①②③④

- (1) आंबा (2) सफरचंद
(3) चिक्कू (4) पेरू

Q.11 Find the next term ①②③④

- 5,11,17,23,?
(1)26 (2)28
(3)29 (4)30

Q.11 पुढील पद ओळखा ①②③④

- 5,11,17,23,?
(1)26 (2)28
(3)29 (4)30

Q.12 'India is my country.' How many letters are there in the longest word of the given sentence? ①②③④

- (1) 6 (2) 7
(3) 5 (4) 8

Q.12 "पावसाळ्यापूर्वीच्या पावसात इंद्रधनुष्य दिसते" ह्या वाक्यातील सर्वात लांब शब्दात किती शब्द आहेत ? ①②③④

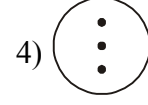
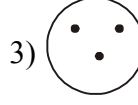
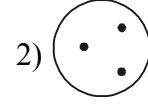
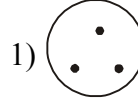
- (1) 6 (2) 7
(3) 5 (4) 8

Q.13 Find the mirror image ①②③④

Q.13 आकृतीचे आरशातील प्रतिबिंब ओळखा



①②③④



Q.14 In a row Mahesh is standing on the 14th position from left. How many boys are standing after him ? ①②③④

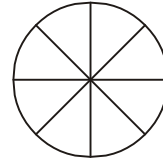
- (1)14 (2)12
(3)13 (4)15

Q.14 एका रांगेत महेश डावीकडून 14 व्या स्थानावर आहे. तर त्याच्या मागे किती मुले उभी आहेत ?

- (1)14 (2)12 ①②③④
(3)13 (4)15

Q.15 How many equal parts are made ? ①②③④

Q.15 एकूण किती भाग आहेत ? ①②③④



- (1)10 (2)8
(3)9 (4)12

Q.16 How many days would be in the month of february 2012 ? ①②③④

- (1)29 (2)28
(3)30 (4)31

Q.16 फेब्रुवारी 2012 मध्ये किती दिवस असतील

- (1)29 (2)28 ①②③④
(3)30 (4)31

Q.17 Find odd term ①②③④

- (1)Nosering (2)Necklace
(3)Hairclip (4)earring

Q.17 विजोड पद ओळखा ①②③④

- (1) नथ (2) हार
(3) आकडा (4) इअररींग

Q.18 Find the number of triangles in the given figure ①②③④



- (1) 3 (2) 1
(3) 2 (4) 4

Q.18 आकृतीत त्रिकोणांची संख्या शोधा? ①②③④



- (1) 3 (2) 1
(3) 2 (4) 4

Q.19 If school is to teacher then what is to hospital ①②③④

- (1) Patient (2) Doctor
(3) Medicines (4) Ambulance

Q.19 जर शाळेला शिक्षक तर कशाला रुग्नालय ?

- (1) रुग्ण (2) डॉक्टर
(3) औषधे (4) रुग्णवाहीका

Q.20 Find the term that belongs to the group Jawar,Bajra,Wheat. ①②③④

- (1) beans (2) matki
(3) Rice (4) Sugarcane

Q.20 गटात बसणारे पद ओळखा : ①②③④

- ज्वारी, बाजरी, गहू
(1) चवळी (2) मटकी
(3) तांदुळ (4) उस

Answers / उत्तरे :

Section I :

1.	2)	2.	4)	3.	4)	4.	4)	5.	3)
6.	2)	7.	3)	8.	3)	9.	3)	10.	3)
11.	1)	12.	3)	13.	4)	14.	2)	15.	1)
16.	1)	17.	1)	18.	3)	19.	1)	20.	2)

भाग I :

1.	2)	2.	1)	3.	4)	4.	1)	5.	3)
6.	4)	7.	3)	8.	2)	9.	4)	10.	3)
11.	1)	12.	4)	13.	1)	14.	2)	15.	3)
16.	2)	17.	1)	18.	4)	19.	2)	20.	3)

Section II / भाग II :

1.	2)	2.	3)	3.	3)	4.	4)	5.	1)
6.	4)	7.	3)	8.	3)	9.	2)	10.	2)
11.	1)	12.	3)	13.	1)	14.	3)	15.	1)
16.	2)	17.	4)	18.	3)	19.	2)	20.	1)
21.	4)	22.	3)	23.	3)	24.	4)	25.	1)
26.	4)	27.	3)	28.	4)	29.	4)	30.	1)

Section III / भाग III :

1.	2)	2.	2)	3.	2)	4.	1)	5.	1)
6.	4)	7.	4)	8.	1)	9.	4)	10.	2)
11.	4)	12.	4)	13.	3)	14.	4)	15.	1)
16.	3)	17.	2)	18.	4)	19.	2)	20.	2)
21.	3)	22.	1)	23.	3)	24.	3)	25.	1)
26.	4)	27.	1)	28.	3)	29.	4)	30.	3)

Section IV / भाग IV :

1.	3)	2.	1)	3.	2)	4.	3)	5.	4)
6.	1)	7.	3)	8.	1)	9.	4)	10.	1)
11.	1)	12.	2)	13.	3)	14.	3)	15.	2)
16.	1)	17.	3)	18.	3)	19.	2)	20.	3)