

प्रश्नपुस्तिका पर्यवेक्षकांनी सांगितल्याशिवाय उघडू नये...

Do not open this booklet until asked to do so...

RATIONALIST TALENT SEARCH EXAM 2017

RTSE

Question Booklet

STD : VI

वर्ग: 6 वा

Roll No.

--	--	--	--	--	--	--	--	--	--

Date of Examination : 12 February 2017 Sunday

परीक्षार्थीसाठी सुचना / Guidelines for the Candidate

1. आपल्याच नावाची व परिक्षा क्रमांकाची उत्तर पत्रिका मिळाल्याची खात्री करून घ्यावी.
Check to make sure that you have received the appropriate answer sheet of your name and roll number.
2. परिक्षा सुरु होण्यापूर्वी विद्यार्थ्यांना त्यांच्या संपूर्ण माहितीची खात्री करण्यासाठी 30 मिनिटे अधिक वेळ देण्यात येईल.
You will get additional 30 minutes to check and make sure about the information about yourself on the Answer Sheet before the start of the exam.
3. सदर प्रश्नपुस्तिकेमध्ये एकूण 100 प्रश्न असून प्रत्येक प्रश्नासाठी 2 गुण आहेत.
This question booklet contains 100 questions each question carries 2 marks.
4. सर्व प्रश्न सोडविणे आवश्यक आहे. चुकीच्या उत्तराबद्दल मिळालेल्या गुणातून कुठल्याही प्रकारचे गुण वजा केले जाणार नाहीत.
All questions are compulsory. There is no negative marking.
5. आपल्याच वर्गाची प्रश्नपुस्तिका मिळाल्याची खात्री करून घ्यावी.
Check to make sure that you have received the appropriate test booklet for your standard.
6. पर्यायामध्ये केवळ एकच उत्तर बरोबर आहे. बरोबर उत्तरासाठी एकच पर्याय निवडावा.
There is only one correct answer. Choose only one option for an answer.
7. उत्तराचा पर्याय रंगविण्यासाठी केवळ काळा/ निळा रंगाचा बॉलपेनच वापरावा.
To mark your choice of answers by darkening the circles in the Answer Sheet, use a **Blue/Black Ball, Pen only. Eg.**

Q. x : - Fill in the blanks.

My father went..... To buy some milk.

a) there b) their c) They're d) here

As the correct answer is option a) you must darken the circle corresponding Q. x

To option a) in the Answer Sheet



8. परिक्षा संपल्यावर तुमची उत्तरपत्रिका पर्यवेक्षकाकडे परत करावी.
Return the Answer Sheet to the invigilator at the end of the exam.
9. आपल्या परिक्षा क्रमांक प्रश्नपुस्तिकेवर सुध्दा लिहावा व सदर प्रश्नपुस्तिका परिक्षा कालावधीनंतर आपल्या सोबत न्यावी.
Write your Roll No. on the Question Paper too and take it home for future reference.

Visit www.rtsexam.com for Answer key after 8 days

1. खालीलपैकी तंतुमय मुळ असणारी वनस्पती कोणती?
 A) आंबा B) कडुनिंब C) ज्वारी D) पिंपळ
 Which one of the following plants has fibrous root system?
 A) Mango B) Neem C) Millet D) Peepal
2. पृथ्वीचा आतिल गाभा _____ अवस्थेत आहे.
 A) स्थायू B) द्रव C) वायू D) वरीलपैकीसर्व
 Inner core of the earth is in _____ state.
 A) Solid B) Liquid C) Gaseous D) All of these
3. खालीलपैकी कोणत्या नैसर्गिक संकटामुळे उपासमारीची वेळ येते?
 A) पूर B) दुष्काळ C) भुकंप D) वरील पैकी सर्व
 Which natural calamity leads to famine?
 A) Flood B) Drought C) Earthquake D) all of these
4. कार्य केव्हा झाले असे म्हणतात?
 A) जेव्हा बल लावून एखाद्या वस्तुला गतिमान केले जाते.
 B) गतिमान वस्तुची दिशा बदलवली जाते.
 C) गतिमान वस्तुचा आकार बदलवला जातो.
 D) पर्याय A व B
 When we say that work is done?
 A) Force is applied to set on object in motion
 B) To change the direction of an object in motion.
 C) To change the shape of object in motion
 D) Option A & B
5. भोपाळ मधील दुर्घटना कशामुळे घडली?
 A) पूर परिस्थितीमुळे B) विषारी वायू गळतीमुळे
 C) लोकसंख्या वाढीमुळे D) पर्यावरणाचा असमतोलामुळे
 By what the Bhopal tragedy has taken place?
 A) Floods B) Leakage of Poisonous gas
 C) Population Increase D) Imbalance of Environment
6. _____ हा मिश्र धातु आहे.
 A) सोने B) लोह C) तांबे D) यापैकी नाही
 _____ is an alloy.
 A) Gold B) Iron C) Copper D) None of these
7. वनस्पतीमध्ये ऊर्जा उर्जेच्या कोणत्या स्वरूपात साठवली जाते?
 A) उष्णता B) प्रकाश C) रासायनिक D) इंधन

From Plants we get which type of energy?

- A) Heat B) Light C) Chemical D) Fuel Oil

8. _____ हे विद्युत्‌रोधकाचे उदाहरण होय.

- A) लोकर B) ग्रॅफाईट C) तांबे D) स्टिल

An example of insulator is _____

- A) Wool B) Graphite C) Copper D) Steel

9. चुंबकात _____ ध्रुव असतात.

- A) 3 B) 4 C) 2 D) 6

The number of poles in a magnet is _____

- A) 3 B) 4 C) 2 D) 6

10. 5 किलोमिटर (किमी) = _____ मिटर(मि)

- A) 500 B) 50000 C) 5000 D) 50

5 Kilometer (KM) = _____ meters (m)

- A) 500 B) 50000 C) 5000 D) 50

11. खालीलपैकी कोणता प्राणी गवताळ प्रदेशात आढळतो?

- A) देवमासा B) हरीण C) अस्वल D) याक

Which of the following animals is found in the grasslands?

- A) Whale B) Deer C) Polar Bear D) Yak

12. 'शेतकऱ्याची गोफण' यातून कोणती गती अभिप्रेत होते?

- A) आंदोलित गती B) नियतकालिक गती
C) वर्तुळाकार गती D) यादृच्छिक गती

A Farmer's sling are all instances of which motion?

- A) Oscillatory Motion B) Periodic Motion
C) Circular Motion D) Random Motion

13. सर्वाधिक लवचिक पदार्थ कोणता?

- A) रबर B) नायलॉन C) पोलाद D) लोह

Choose the most elastic substance from the following?

- A) Rubber B) Nylon C) Steel D) Iron

14. छेदस्थानी 18 असणारा $\frac{2}{3}$ चा सममूल्य अपूर्णाक कोणता?

- A) $\frac{2}{18}$ B) $\frac{18}{3}$ C) $\frac{12}{18}$ D) $\frac{18}{27}$

The equivalent fraction of $\frac{2}{3}$ having the denominator 18 is _____.

- A) $\frac{2}{18}$ B) $\frac{18}{3}$ C) $\frac{12}{18}$ D) $\frac{18}{27}$

15. $\frac{3}{4}x + 8 = 17$ तर x ची किंमत किती?

- A) -12 B) +36 C) +12 D) -36

In $\frac{3}{4}x + 8 = 17$ value of x is _____ .

- A) -12 B) +36 C) +12 D) -36

16. एका चौरसाची परिमिती तिप्पट केली, तर चौरसाच्या मूळ क्षेत्रफळात किती वाढ होईल.

- A) 4 पट B) $\frac{1}{4}$ पट C) 9 पट D) $\frac{1}{9}$ पट

If perimeter of square is tripled, then area will be _____ of original area.

- A) 4 times B) $\frac{1}{4}$ times C) 9 times D) $\frac{1}{9}$ times

17. $5\frac{3}{8}$ चे दशांक अपूर्णाकात रूपांतर करा.

- A) 5.000 B) 5.375 C) 5.255 D) 2.325

The decimal form of $5\frac{3}{8}$ is _____

- A) 5.000 B) 5.375 C) 5.255 D) 2.325

18. 1 ते 50 पर्यंत एकूण किती मुळ संख्या आहेत?

- A) 18 B) 12 C) 15 D) 20

Number of the prime numbers from 1 to 50 are _____

- A) 18 B) 12 C) 15 D) 20

19. $\sqrt{81} + \sqrt{16} = a$, तर $a^2 = ?$

- A) 169 B) 1690 C) 97 D) 6

$\sqrt{81} + \sqrt{16} = a$, then $a^2 = ?$

- A) 169 B) 1690 C) 97 D) 6

20. खुर्चीपेक्षा टेबलाची किंमत रु. 350 ने जास्त आहे. जर 3 खुर्च्या व 4 टेबल ची किंमत रु. 2450 असेल तर एका टेबलाची किंमत किती?

- A) 500 रु. B) 150 रु. C) 300 रु. D) 450 रु.

Cost of table is more than chair by Rs. 350. If the cost of 3 chairs and 4 tables is Rs. 2450. What is the cost of the one table?

- A) Rs. 500 B) Rs. 150 C) Rs. 300 D) Rs.450

21. 8 सें.मी. बाजू असलेल्या घनाचे घनफळ किती?

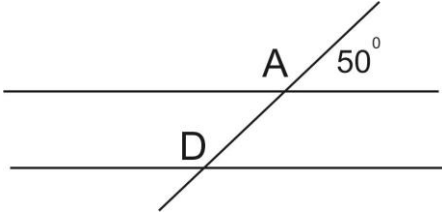
- A) 64 चौ.सें.मी. B) 512 घ.सें.मी. C) 512चौ.सें.मी. D) 24 घ.सें.मी.

What is the volume of the cube whose side is 8 cm.

- A) 64 sq.cm B) 512 cu.cm C) 512Sq.Cm D) 24 cu.cm

22. खाली दिलेल्या आकृतीत $\angle A = 50^\circ$ तर $\angle D = ?$

In the figure given besides $\angle A = 50^\circ$ then $\angle D = ?$



- A) 120° B) 130° C) 180° D) 60°

23. 1.2 किमी व 240 मी गुणोत्तर किती?

- A) 1 : 2 B) 5 : 1 C) 2 : 1 D) 1 : 5

What is the ratio of 1.2 km to 240 m?

- A) 1 : 2 B) 5 : 1 C) 2 : 1 D) 1 : 5

24. दोन संख्यांचा मसावि 28 आणि लसावि 336 आहे. त्यातील एक संख्या 112 आहे तर दुसरी संख्या कोणती?

- A) 78 B) 68 C) 84 D) वरीलपैकी सर्व

The HCF of two numbers is 28 and their LCM is 336. If one of them is 112. Find the other number?

- A) 78 B) 68 C) 84 D) all of these

25. सोडवा : Simplify

$$345 \times 0.12 + 45 - 24 \div 1$$

- A) 56.6 B) 60.50 C) 62.4 D) 52.6

26. एका महिन्याच्या 29 व्या दिवशी गुरुवार असेल तर त्याच महिन्याच्या दुसऱ्या शनिवारी किती तारीख असेल.

- A) 9 B) 19 C) 12 D) 10

If the 29th day of a month is Thursday, what is the date of the second Saturday in that month?

- A) 9 B) 19 C) 12 D) 10

27. बाजू 18 सेंमी, 24 सेंमी व 30 सेंमी असणाऱ्या त्रिकोणाचे क्षेत्रफळ किती?

- A) 216 सेंमी^2 B) 210 सेंमी^2 C) 21 सेंमी^2 D) यापैकी नाही

If the sides of a triangle are 18 cm, 24 cm and 30 cm then find the area of the triangle?

- A) 216 cm^2 B) 210 cm^2 C) 21 cm^2 D) none of these

28. Choose the correct option for the given words:

The place for luggage at railway station

- A) Compartment B) Cloak room C) Waiting room D) Platform

29. Change the active voice into passive voice:
Please read this letter.
A) You are requested to read this letter
B) You are requested to reads this letter
C) You are requesting to read this letter
D) You is requested to read this letter
30. Find the antonyms of the word written in capital letters below.
POVERTY
A) Dearth B) Poor C) Wealth D) Starvation
31. Fill in the blanks with suitable articles:
There was a girl. _____ girl was very beautiful.
A) A B) An C) The D) Both A and B
32. Fill in the blank with the suitable conjunctions from the options given below.
Run fast _____ the gate will be closed
A) after B) or C) before D) still
33. Find the proper masculine noun for given feminine noun?
Queen
A) prince B) king C) Landlord D) father
34. Guess the meaning of the following idioms from the given options:
A storm in a tea cup -
A) a cause for a storm B) a storm that occurs in tea states
C) very hot tea D) fuss over an unimportant problem
35. Arrange the jumbled letters to make meaningful word.
EUSREC
A) Scuree B) Secure C) Resucre D) Rsecuer
36. खाली दिलेल्या शब्दसमुहासाठी दिलेल्या पर्यायी शब्दांपैकी योग्य उत्तराचा पर्याय निवडा.
स्वतःवर असलेला विश्वास
A) अति विश्वास B) श्रद्धा
C) विश्वासू D) आत्मविश्वास
37. खालील शब्दाला विरुद्धार्थी पर्याय शोधा.
कर्कश
A) गोंधळ B) शांतता C) मधुर D) गोंगाट
38. खालील शब्दाला समानार्थी पर्याय निवडा.
जलधी
A) नदी B) रत्नाकर C) तलाव D) पाणी

39. खालीलपैकी शुद्ध शब्द निवडा.
A) सुरेल B) सुगध C) सुमण D) सुकण्या

40. खालील वाक्यप्रचाराचा योग्य अर्थ पर्यायातून शोधा.
नाकाला मिरची झांबणे-
A) जिव्हारी लागणे B) ढोंग करणे
C) शरण जाणे D) खुप राग येणे

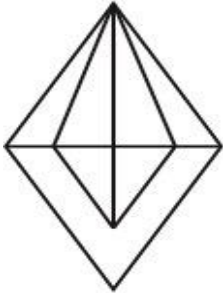
41. खालीलपैकी अनेकवचनी शब्दाचा पर्याय ओळखा.
A) सासू B) पिसू C) अश्रू D) पाखरू

42. खालीलपैकी पुल्लिंगी शब्द ओळखा.
A) स्तुती B) पती C) प्रीती D) मती

43. हवा उंचीनुसार _____ होते.
A) जड B) उष्ण C) विरळ D) जाड
Air becomes _____ depending on the height
A) dense B) hot C) thin D) thick

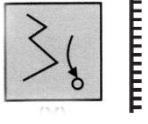
44. खालील संख्यामाला पूर्ण करण्यासाठी प्रश्नचिन्हाच्या जागी कोणती संख्या येईल.
In the following question choose the missing number to complete the series.
10, 18, 28, 40, 54, 70, ?
A) 85 B) 86 C) 87 D) 88

45. खालील आकृतीतील एकूण त्रिकोणांची संख्या किती?
Count the number of triangles in the following figure.



A) 14 B) 15 C) 16 D) 17

46. खालील प्रश्न आकृतीची आरशातील प्रतिमा कशी दिसेल ते उत्तर आकृत्यांमधून शोधा.
Find the mirror image of the question image from the options:
प्रश्न आकृती / Question Figure



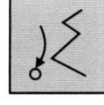
उत्तर आकृत्या / Answer Figures



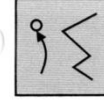
A)



B)



C)



D)


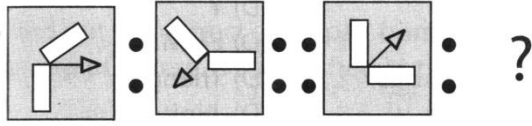
सूचना : -

खालील प्रश्न क्रमांक 47 ते 49 मध्ये पहिल्या पदाचा दुसऱ्या पदाशी जसा संबंध आहे, तसाच संबंध तिसऱ्या पदाचा चौथ्या पदाशी आहे यावरून प्रश्न चिन्हाच्या जागी येणारे पद निवडा.

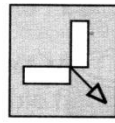
Instruction -

In the question below 47 to 49 the relationship between the first term and the second is same as it is between the third and the fourth term. Taking this into consideration which alternative will come in place the question mark?


47.



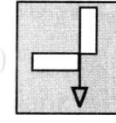
A)



B)



C)



D)

48. ज्ञान: शिक्षक:: औषध :?

A) दुकान

B) बाटली

C) रुग्ण

D) डॉक्टर

Knowledge : Teacher :: Medicine : ?

A) Shop

B) Bottle

C) Patient

D) Doctor

49. 14 : 9 :: 26 : ?

A) 52

B) 15

C) 34


D) 12

50. पृथ्वी, समुद्र व सूर्य यांच्यातील परस्पर संबंध दर्शविणारा व्हेन आकृतीचा पर्याय निवडा.

Select the perfect Venn diagram option which indicates the best relation amongst earth, sea, and sun?




A)



B)



C)




D)

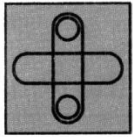
51. खालील आकृतीचा साचा पूर्ण करण्यासाठी योग्य पर्याय निवडा :

In the following question, find out which of the option completes the figure matrix.

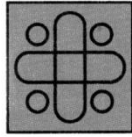
प्रश्न आकृती / Question Figure



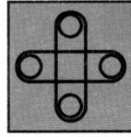
उत्तर आकृत्या / Answer Figures



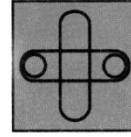
A)



B)



C)



D)

52. गटात न बसणारा पर्याय निवडा.

Find the odd man out

A) DVFT

B) EUGS

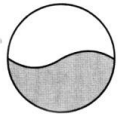
C) GSHR

D) FTHR

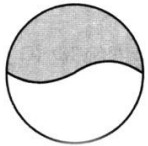
53. खालील प्रश्न आकृतीची पाण्यातील प्रतिमा उत्तर आकृत्यांमधून शोधा.

In the following question choose the correct water image of the question figure from the answer figures.

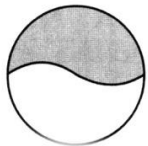
प्रश्न आकृती / Question figure



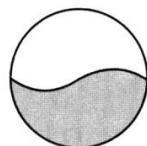
उत्तर आकृती / Answer Figure



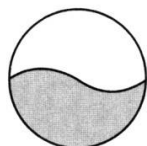
A)



B)



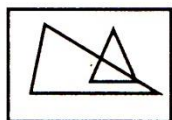
C)



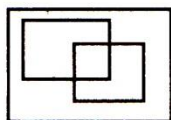
D)

54. गटात न बसणाऱ्या आकृतीचा पर्याय निवडा.

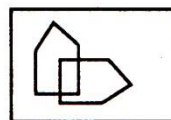
Find the odd man out




A)



B)

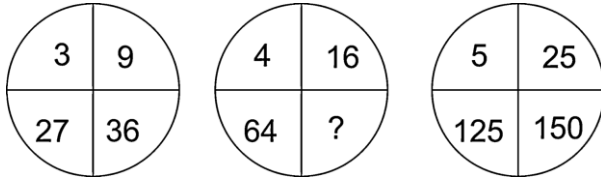


C)



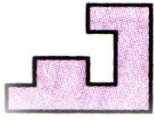
D)

55. प्रश्नचिन्हाच्या जागी कोणता अंक येईल?
Which number will replace the question mark?

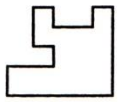


- A) 41 B) 8 C) 180 D) 80

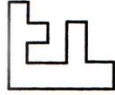
56. खालील प्रश्न आकृतीत तंतोतत बसणारा भाग पर्यायातून निवडा.
In the following question select a figure from the option which fits exactly into question figure.
प्रश्न आकृती / Question figure



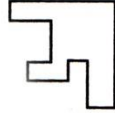
उत्तर आकृती / Answer Figure



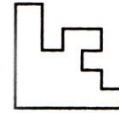
A)



B)



C)



D)

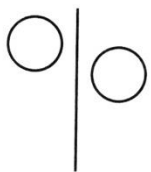
57. खालील प्रश्नात चुकीची संख्या जोडी निवडा
Choose the odd numeral pair in the following question

- A) 2 - 8 B) 3 - 27 C) 4 - 32 D) 5 - 125

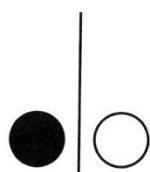
58. प्रश्नचिन्हाच्या जागी येणाऱ्या अक्षरांचा पर्याय शोधा.
Complete the alphabet series by using correct option:
AY, CW, EU, GS, ?

- A) IQ B) HR C) JP D) IJ

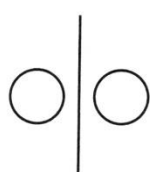
59. गटात न बसणारी आकृती निवडा.
Find the figure which is different from the others?



A)



B)



C)



D)

60. माहितीचा अधिकार महाराष्ट्रातील नागरिकांना _____ - यांनी केलेल्या आंदोलनामुळे मिळाला.
- A) अॅड. बाबा आढाव
B) अण्णा हजारे
C) ब्रिगेडियर सुधीर सावंत
D) नरेंद्र मोदी
- The citizens of maharashtra got the right to Information due to the agitation of Shri _____
- A) Adv. Baba Adhav
B) Anna Hazare
C) Brig.Sudhir Sawant
D) Narendra Modi
61. 'रत्नावली' हे नाटक कोणी लिहिले ?
- A) मिलिंद
B) समुद्रगुप्त
C) सम्राट हर्षवर्धन
D) दुसरा चंद्रगुप्त
- Who wrote the play Ratnavali?
- A) Milinda
B) Samudragupta
C) Emperor Harshavardhan
D) Chadragupta II
62. भारताचा नेपोलियन असे कोणाला म्हटले जाते?
- A) चंद्रगुप्त
B) समुद्रगुप्त
C) अशोक
D) यापैकी नाही
- Who is known as the Indian Napoleon?
- A) Chandragupta
B) Samudragupta
C) Ashoka
D) none of these
63. गावपातळीवर जमिनीचे अभिलेखे कोण ठेवतो?
- A) तलाठी
B) जिल्हाधिकारी
C) तहसिलदार
D) उपविभागीय अधिकारी
- Who maintains land records at village level?
- A) Patwari
B) District Collector
C) Tehsildar
D) Sub divisional officer
64. भारतात मतदान करण्यासाठी किमान _____ वर्षे वय असावे लागते.
- In india, the minimum age for voting is _____ years.
- A) 18
B) 21
C) 25
D) 16
65. भारतात विविधता आहे का?
- A) हो
B) नाही
C) सांगता येत नाही
D) खात्री नाही
- Does diversity exist in India?
- A) yes
B) No
C) Connot say
D) Not sure
66. एका लिप वर्षात _____ दिवस असतात.
- A leap year has _____ days.
- A) 365
B) 368
C) 355
D) 366

67. पृथ्वीच्या स्वतःच्या अक्षावर फिरण्याच्या गतीला _____ म्हणतात.
 A) समरात्र B) परिवलन C) परिभ्रमण D) सूर्यग्रहण
 The movement of earth on its own axis is called _____
 A) Equinox B) rotation C) Revolution D) Solstice
68. खालीलपैकी कोणत्या भाषेतून बुद्धांनी उपदेश केला?
 A) संस्कृत B) तमिळ C) पाली D) तेलगू
 In which of the following languages did Buddha Preach?
 A) Sanskrit B) Tamil C) Pali D) Telugu
69. भारत हा जगातील _____ मोठा देश आहे?
 A) दहावा B) चौथा C) तिसरा D) सातवा
 India is the _____ largest country in the world.
 A) Tenth B) Fourth C) third D) seventh
70. पृथ्वीवर _____ असल्यामुळे जिवावरण आढळते.
 A) हवा B) पाणी C) जमिन D) वरीलपैकी सर्व
 Life is possible on earth due to the presence of _____
 A) Air B) Water C) Land D) All of these
71. खालीलपैकी कोणत्या शहरात इंडिया गेट आहे?
 A) मुंबई B) नवी दिल्ली C) कलकत्ता D) पुणे
 In which of the following city 'India gate' is located?
 A) Mumbai B) New Delhi C) Calcutta D) Pune
72. महाराष्ट्र राज्याची निर्मिती _____ रोजी झाली.
 A) 26 जानेवारी 1960 B) 15 ऑगस्ट 1947
 C) 1 मे 1950 D) यापैकी नाही
 The state of Maharashtra was formed on _____
 A) 26 January 1960 B) 15 August 1947
 C) 1 May 1950 D) none of these
73. वक्तृत्व स्पर्धेत भाग घेतल्याने कोणते कौशल्य विकसित होते?
 A) वाचन B) संभाषण C) बोलण्याचे D) हावभावाचे
 Elocution competitions and debates help to develop which skills of students?
 A) Reading B) Communication C) Speaking D) Stimulus variation
74. अश्वघोष या कवीने कोणते काव्य लिहिले?
 A) बुद्धचरित्र B) मेघदूत C) महाभाष्य D) मणिमेखलाई
 Who wrote the famous poetic Ashvaghosha?
 A) Buddha - Charitra B) Medhdoot C) Mahabhashya D) Manimekhalie

75. महान अलेक्झांडर च्या समकालीन खालीलपैकी राजा कोणता?
 A) बिंदुसार B) चंद्रगुप्त मौर्य C) सम्राट अशोक D) पुष्यमित्र शुंग
 Who of the following was a conterminary of Alexander, the great?
 A) Bimbisara B) Chandragupta Mourya
 C) Samrat Ashoka D) Pushymitra Sunga
76. खालीलपैकी चुकीची जोडी निवडा.
 A) कांची - शिक्षणाचे केंद्र B) ब्रम्हगुप्त - उत्तम चित्रकार
 C) सुश्रुत - शल्यविशारद D) वाग्भट - रोगांची लक्षणे व उपचार यावर चर्चा
 Find the wrong match of the following ?
 A) Kanchi – Center of Education B) Brahma Gupta – Good painter
 C) sushruta – Surgery in his treatise D) Vagbhata – Symptoms and treatment of various diseases
77. खडकांचे एकूण किती प्रकार आहेत?
 A) 3 B) 5 C) 10 D) 8
 How many kinds of rocks are there?
 A) 3 B) 5 C) 10 D) 8
78. खालीलपैकी कोणते उर्जेचे साधन नाही?
 A) कोळसा B) पवन C) जल D) ऊस
 Which of the following is NOT an energy resource?
 A) Coal B) Wind C) Water D) Sugarcane
79. गोदावरी नदी महाराष्ट्रात _____-येथून उगम पावते?
 A) भीमाशंकर B) मुलताई C) त्रिंबकेश्वर D) महाबळेश्वर
 The river Godavari Originates at _____ in Maharashtra.
 A) Bhimashankar B) Multai C) Trimbakeshwar D) Mahabaleshwar
80. भारताचे अर्थमंत्री कोण आहेत?
 A) नरेंद्र मोदी B) राजनाथ सिंग C) सुरेश प्रभू D) अरुण जेटली
 Who is the union finance minister of India?
 A) Narendra Modi B) Rajnath Singh C) Suresh Prabhu D) Arun Jaitley
81. 'कोपर्डी' हे गाव कोणत्या जिल्ह्यात आहे?
 A) औरंगाबाद B) अहमदनगर C) पुणे D) नागपूर
 The village 'Kopardi' is in _____ district.
 A) Aurangabad B) Ahmednagar C) Pune D) Nagpur
82. प्रणव मुखर्जी हे भारताचे _____ राष्ट्रपती आहेत.
 A) बारावे B) चौदावे C) तेरावे D) अकरावे

Pranav Mukherjee is the _____ and current president of India.

- A) 12th B) 14th C) 13th D) 11th

83. 8 मार्च हा दिवस _____ म्हणून साजरा केला जातो.

- A) आंतरराष्ट्रीय महिला दिन B) शिक्षक दिन
C) जागतिक पर्यावरण दिन D) बालिका दिन

8th march is celebrated as _____

- A) International women's day B) Teachers Day
C) World Environment day D) Balika din

84. जेम्स वॉट यांने कोणता शोध लावला?

- A) विजेचा B) मोटार गाडीचा C) वाफेच्या शक्तीचा D) खनिज तेलाचा

What did James Watt discovered?

- A) Electricity B) Motor car C) Steam Engine D) Mineral Oil

85. खालील पैकी ट्विटरचे चिन्ह ओळखा.

Select the Symbol of Twitter.



86. एका झाडाच्या रांगेतील एक झाड रांगेच्या दोन्ही बाजूंनी सहाव्या क्रमांकावर आहे. तर त्या रांगेत एकूण किती झाडे असतील.

- A) 11 B) 10 C) 9 D) 8

In a row of plants, one plant is sixth from either end of the row. How many plants are there in the row?

- A) 11 B) 10 C) 9 D) 8

87. खालीलपैकी कोणती वृत्तवाहिनी नाही?

- A) आज तक B) बी बी सी C) झी न्युज D) कलर्स

Which one of the following is not a news channel?

- A) Aaj tak B) BBC C) Z News D) Colours

88. द्राक्षांसाठी कोणते शहर प्रसिद्ध आहे?

- A) नागपूर B) नाशिक C) जळगाव D) रत्नागिरी

Which city is famous for Grapes?

- A) Nagpur B) Nashik C) Jalgoan D) Ratnagiri

89. राजस्थानची राजधानी कोणती आहे?

- A) बिकानेर B) जोधपुर C) अजमेर D) जयपूर

Which is the capital of Rajasthan State?

- A) Bikaner B) Jodhpur C) Ajmer D) Jaipur

90. पृथ्वीचा _____ पृष्ठभाग महासागरांनी व्यापलेला आहे?
 A) 71% B) 60% C) 81% D) 90%
 The oceans cover _____ of the surface of the earth.
 A) 71% B) 60% C) 81% D) 90%
91. 2016 च्या ऑलम्पिक स्पर्धा कोणत्या शहरात झाल्या?
 A) टोकियो B) शिकागो C) रियो द जेनेरिओ D) ब्राझिल
 The Olympic Games 2016 were held in
 A) Tokyo B) Chicago C) Rio De Janeiro D) Brazil
92. खालीलपैकी बरोबर जोडी निवडा.
 A) अश्वघोष - विक्रमादित्य B) बानभट्ट- हर्षवर्धन
 C) हरिसेन - कनिष्क D) कालिदास - समुद्रगुप्त
 Which of the following pairs is correct?
 A) Ashvaghosa - Vikramaditya B) Banabhatta – Harshvardhana
 C) Harisena – Kanishka D) kalidasa - Samudragupta
93. भगवान महावीर व तथागत गौतम बुद्ध यांनी खालीलपैकी कोणाच्या राजवटीत उपदेश केला?
 A) अजातशत्रु B) उदय C) नंदीवर्धन D) बिंदुसार
 Both Mahavira and Buddha preached during the reign of -
 A) Ajatashatru B) Uday C) Nandivardhan D) Bimbisara
94. हडप्पा संस्कृतीतील वस्तुंवरून तेथील लोकांचा मुख्य व्यवसाय _____ हा होता हे स्पष्ट होते.
 A) शेती B) पशुपालन C) व्यापार D) शिकार
 The relics of Indus Valley civilization indicates that the main occupation of the people was.
 A) Agriculture B) Cattle Rearing C) commerce D) Hunting
95. मायकेल फेलेप्स हा एक प्रसिद्ध _____ आहे.
 A) जलतरण खेळाडू B) क्रिकेट खेळाडू C) जिम्नॅस्टिक खेळाडू D) धावपटू
 Michael Phelps is a famous _____.
 A) Swimmer B) Cricketer C) Gymnastics D) Runner
96. गटात न बसणारी संख्या ओळखा.
 Choose the odd one out.
 A) 324 B) 243 C) 432 D) 234

सूचना : -

खालील तक्त्याचा अभ्यास करा व प्रश्न 97,98 व 99 ची उत्तरे द्या.

लोकसंख्या

राज्य	पुरुष	महिला	एकूण
गुजरात	960	860	1820
महाराष्ट्र	1000	873	1873
केरळ	902	1073	1975

Instruction –

Study the following table and answer que. No 97 98 and 99

Population

State	Male	Female	Total
Gujrat	960	860	1820
Maharashtra	1000	873	1873
Kerala	902	1073	1975

97. कोणत्या राज्यात महिलांची लोकसंख्या जास्त आहे.
A) केरळ B) महाराष्ट्र C) गुजरात D) यापैकी नाही
Which state has the highest population of female?
A) Kerala B) Maharashtra C) Gujrat D) None of these
98. कोणत्या राज्याची लोकसंख्या सर्वात कमी आहे.
A) महाराष्ट्र B) उत्तर प्रदेश C) गुजरात D) केरळ
Which state has the minimum population?
A) Maharashtra B) Uttar Pradesh C) Gujrat D) Kerala
99. महिलांची एकूण लोकसंख्या किती आहे?
What is the total number of female population?
A) 860 B) 1073 C) 873 D) 2806
100. _____ हे महाराष्ट्रातील औष्णिक विद्युत केंद्र आहे.
A) कोराडी B) तारापूर C) कोयना D) जैतापूर
_____ is a thermal power station in Maharashtra?
A) Koradi B) Tarapur C) Koyna D) Jaitapur