

इस प्रश्न-पत्र में 16 प्रश्न तथा 8 मुद्रित पृष्ठ हैं ।

अनुक्रमांक

--	--	--	--	--	--	--	--	--	--	--	--	--	--	--	--	--	--	--	--

कोड नं. 53/AS/3

Set- **A**

**HINDI**

(हिन्दी)

(201)

परीक्षा का दिन व दिनांक

\_\_\_\_\_

निरीक्षकों के हस्ताक्षर

1. \_\_\_\_\_

2. \_\_\_\_\_

सामान्य अनुदेश :

- 1 परीक्षार्थी प्रश्नपत्र के पहले पृष्ठ पर अपना अनुक्रमांक अवश्य लिखें ।
- 2 कृपया प्रश्नपत्र को जाँच लें कि प्रश्नपत्र के कुल पृष्ठों तथा प्रश्नों की उतनी ही संख्या है जितनी प्रथम पृष्ठ के सबसे ऊपर छपी है । इस बात की जाँच भी कर लें कि प्रश्न क्रमिक रूप में हैं ।
- 3 वस्तुनिष्ठ प्रश्नों में आपको चार विकल्पों (A), (B), (C) तथा (D) में से कोई एक उत्तर चुनना है तथा दी गई उत्तर-पुस्तिका में आप सही उत्तर लिखिए ।
- 4 वस्तुनिष्ठ प्रश्नों के साथ-साथ सभी प्रश्नों के उत्तर निर्धारित अवधि के भीतर ही देने हैं । वस्तुनिष्ठ प्रश्नों के लिए अलग से समय नहीं दिया जाएगा ।
- 5 उत्तर-पुस्तिका में पहचान-चिह्न बनाने अथवा निर्दिष्ट स्थानों के अतिरिक्त कहीं भी अनुक्रमांक लिखने पर परीक्षार्थी को अयोग्य ठहराया जायेगा ।
- 6 अपनी उत्तर-पुस्तिका पर प्रश्नपत्र की कोड संख्या 53/AS/3-**A** लिखें ।

53/AS/3—201\_A ]

1



[ Contd...

# HINDI

(हिन्दी)

(201)

समय : 3 घण्टे ]

[ पूर्णांक : 100

- निर्देश : 1. सभी प्रश्न अनिवार्य हैं ।  
2. प्रश्नों के लिए निर्धारित अंक उनके सामने दिए गए हैं ।

- 1 निम्नलिखित प्रश्नों के उत्तर के रूप में दिए गए विकल्पों में से सर्वाधिक उपयुक्त विकल्प छाँटकर अपनी उत्तर-पुस्तिका में लिखिए : 1×5=5
- (i) रहीम के अनुसार मूर्ख के बढ़-चढ़कर बोलने पर विद्वान को क्या करना चाहिए ?  
(A) स्वयं मौन धारण कर लेना चाहिए ।  
(B) मूर्ख का विरोध करना चाहिए ।  
(C) मूर्ख को भय दिखाकर चुप कराना चाहिए ।  
(D) अपना प्रचार स्वयं करना चाहिए ।
- (ii) 'आह्वान' कविता के अनुसार 'भाग्यवादी लोग' कौन होते हैं ?  
(A) जो कठिनाइयों का सामना करते हैं  
(B) जो भाग्य के भरोसे रहते हैं  
(C) जिन्हें सौभाग्य से सब कुछ प्राप्त है  
(D) जिनका भाग्य अच्छा नहीं चल रहा है
- (iii) 'बीती विभावरी जाग री' कविता में मुख्य रूप से किसके सौन्दर्य का वर्णन है ?  
(A) प्रेयसी के (B) पक्षी के  
(C) पनघट के (D) प्रकृति के
- (iv) 'बूढ़ी पृथ्वी का दुख' कविता के रचयिता का नाम है -  
(A) मैथिलीशरण गुप्त (B) भवानीप्रसाद मिश्र  
(C) निर्मला पुतुल (D) केदारनाथ अग्रवाल
- (v) 'उनको प्रणाम !' कविता में कवि सफलता से अधिक महत्व किसे देता है ?  
(A) प्रयत्नों को (B) बाधाओं को  
(C) असफलताओं को (D) प्रसिद्धि को



2 निम्नलिखित प्रश्नों के उत्तर 15-20 शब्दों में लिखिए : 1×6=6

- (i) कबीर के अनुसार ऊँचे कुल में जन्म लेने पर भी आदमी निंदा का पात्र क्यों बन जाता है ?
- (ii) 'चंद्रगहना से लौटती बेर' कविता में चाँद के प्रतिबिम्ब को कवि ने किस रूप में दर्शाया है ?
- (iii) 'इसे जगाओ' कविता में 'क्षिप्र' किसे बताया गया है ?
- (iv) 'उनको प्रणाम' कविता में कवि ने किन्हें प्रणाम करना चाहा है ?
- (v) 'बूढ़ी पृथ्वी का दुख' कविता में पेड़ों के हज़ारों हज़ार हाथों के हिलने से क्या अभिप्राय है ?
- (vi) 'खग-कुल कुल-कुल-सा बोल रहा' में प्रयुक्त किन्हीं दो अलंकारों के नाम लिखिए ।

3 निम्नलिखित काव्यांश किस पाठ से लिया गया है, इसके कवि के नाम का उल्लेख करते हुए काव्यांश का काव्य-सौन्दर्य स्पष्ट कीजिए : 5

जो लोग पीछे थे तुम्हारे, बड़ गए, हैं बड़ रहे,  
पीछे पड़े तुम, दैव के सिर दोष अपना मढ़ रहे !  
पर कर्म-तैल बिना कभी विधि-दीप जल सकता नहीं,  
है दैव क्या ? साँचे बिना कुछ आप ढल सकता नहीं ॥

अथवा

खैर, खून, खाँसी, खुसी, वैर, प्रीति, मदपान ।  
रहिमन दाबे ना दबैं, जानत सकल जहान ॥

4 निम्नलिखित प्रश्नों में से किन्हीं तीन के उत्तर लगभग 25-25 शब्दों में लिखिए : 2×3=6

- (i) 'बूढ़ी पृथ्वी का दुख' कविता के अनुसार मनुष्य नदियों के किनारे बेरहमी से क्या कार्य कर रहा है ?
- (ii) 'इसे जगाओ' कविता के अनुसार अगर आदमी सही समय पर सचेत न हुआ तो उसे क्या हानि होगी ?
- (iii) 'आज्ञादी कवि के लिए शब्द है' – कहकर कवि क्या संदेश देना चाहता है ?
- (iv) 'चंद्रगहना से लौटती बेर' कविता में कवि ने बगुले को किस रूप में चित्रित किया है और क्यों ?

5 निम्नलिखित प्रश्न का उत्तर लगभग 50 शब्दों में दीजिए :

3

‘निंदक नियरे राखिए, आँगन कुटी छवाय ।’

कबीर के इस दोहे के अनुसार व्यक्तित्व निर्माण में निंदा और आलोचना की क्या भूमिका है ? आप अपने निंदक के साथ कैसा व्यवहार करेंगे ?

अथवा

‘बूढ़ी पृथ्वी का दुख’ कविता के आलोक में उत्तर दीजिए कि वायु प्रदूषण दूर करने के लिए आप क्या-क्या कदम उठा सकते हैं ?

6 निम्नलिखित प्रश्नों के उत्तर के रूप में दिए गए विकल्पों में से सर्वाधिक उपयुक्त विकल्प 1×6=6  
छाँटकर अपनी उत्तर-पुस्तिका में लिखिए :

(i) ‘बहादुर’ कहानी में नौकर का स्वभाव कैसा था ?

- (A) ईमानदार और मेहनती (B) मेहनती और बातूनी  
(C) चापलूस और क्रोधी (D) सहनशील और डरपोक

(ii) ‘गिल्लू’ कहानी में ‘छुआ-छुआवल’ का व्यवहार कौन कर रहा था ?

- (A) गिल्लू (B) सोनजुही की पत्तियाँ  
(C) कौवा (D) लेखिका

(iii) कौन-सा तत्व नाटक को अन्य गद्य विधाओं से अलग करता है ?

- (A) अभिनेयता (B) संवाद  
(C) कथानक (D) भाषा-शैली

(iv) ‘सुखी राजकुमार’ कहानी में गौरैया ने बीमार बच्चे को अच्छा करने के लिए क्या किया ?

- (A) डॉक्टर को बुलाया (B) स्वयं दवाई पिलाई  
(C) बच्चे की माँ को उठाया (D) अपने पंखों से हवा की

(v) ‘अंधेर नगरी’ नाटक में राजा के लिए किस विशेषण का प्रयोग किया गया ?

- (A) बहादुर (B) चौपट्ट  
(C) न्यायप्रिय (D) विलासी

(vi) ‘अपना-पराया’ पाठ के अनुसार बताइए कि मुख के भीतर द्वारपाल का कार्य कौन करता है ?

- (A) थूक (B) दाँत  
(C) जीभ (D) भोजन

7 निम्नलिखित प्रश्नों के उत्तर 15-20 शब्दों में दीजिए :

1×7=7

- (i) “दोनों बादशाह अपने-अपने सिंहासनों पर बैठे हुए मानो इन दोनों वीरों की मृत्यु पर रो रहे थे ।” ‘शतरंज के खिलाड़ी’ कहानी के आधार पर इन दोनों वीरों के नाम बताइए ।
- (ii) औपचारिक पत्रों में संक्षिप्तता तथा स्पष्टता क्यों आवश्यक है ?
- (iii) ‘अपना-पराया’ पाठ के अनुसार मुँह में बनने वाली लार का हमारे शरीर में क्या महत्व है ?
- (iv) ‘अंधेर नगरी’ नाटक में ‘टके सेर भाजी टके सेर खाजा’ कथन में क्या व्यंग्य निहित है ?
- (v) ‘सुखी राजकुमार’ कहानी में देवदूत ईश्वर के पास कौन सी मूल्यवान वस्तुएँ ले आए ?
- (vi) अखबार में कार्टून छापने का क्या उद्देश्य है ?
- (vii) सन् 1984 को एवरेस्ट पर पहुँचकर भारत का झंडा किसने फहराया था ?

8 निम्नलिखित गद्यांश को ध्यानपूर्वक पढ़िए और पूछे गए प्रश्नों के उत्तर लिखिए :

1+2+2=5

वात्स्यायन के ‘कामसूत्र’ से पता चलता है कि आज से दो हजार वर्ष पहले का भारतवासी नाखूनों को जम के सँवारता था । उनके काटने की कला काफी मनोरंजक बताई गई है । त्रिकोण, वर्तुलाकार, चंद्राकार, दंतुल आदि विविध आकृतियों के नाखून उन दिनों विलासी नागरिकों के न जाने किस काम आया करते थे । उनको सिक्थक (मोम) और अलक्तक (आलता) से यत्नपूर्वक रगड़कर लाल और चिकना बनाया जाता था । गौड़ देश के लोग उन दिनों बड़े-बड़े नखों को पसंद करते थे और दक्षिणात्य लोग छोटे नखों को । अपनी-अपनी रुचि है, देश की भी और काल की भी ।

- (i) उपर्युक्त गद्यांश के पाठ और लेखक का नाम लिखिए ।
- (ii) नाखून कला और सुन्दरता के भी प्रतीक रह चुके हैं । स्पष्ट कीजिए ।
- (iii) आशय स्पष्ट कीजिए : ‘अपनी-अपनी रुचि है, देश की भी और काल की भी ।’

अथवा

दोनों दोस्तों ने कमर से तलवारें निकाल लीं । नवाबी ज़माना था; सभी तलवार, पेशकब्ज, कटार वगैरह बाँधते थे । दोनों विलासी थे, पर कायर न थे । उनमें राजनीतिक भावों का अधःपतन हो गया था – बादशाह के लिए, बादशाहत के लिए क्यों मरें; पर व्यक्तिगत वीरता का अभाव न था । दोनों जख्म खाकर गिरे, और दोनों ने वहीं तड़प-तड़प कर जाने दे दीं । अपने बादशाह के लिए जिनकी आँखों से एक बूँद आँसू न निकला, उन्हीं दोनों प्राणियों ने शतरंज के वज़ीर की रक्षा में प्राण दे दिए ।

- (i) उपर्युक्त गद्यांश के पाठ और लेखक का नाम लिखिए ।
- (ii) गद्यांश का मूल भाव स्पष्ट कीजिए ।
- (iii) उपर्युक्त गद्यांश की भाषा-शैली पर टिप्पणी कीजिए ।



- 9 निम्नलिखित प्रश्नों में से किन्हीं चार के उत्तर लगभग 20-20 शब्दों में लिखिए : 2×4=8
- (i) 'सुखी राजकुमार' कहानी में गौरैया के व्यक्तित्व परिवर्तन से हमें क्या प्रेरणा मिलती है ?
- (ii) पिता का बचेद्री पाल की पढ़ाई के प्रति कैसा विचार था ?
- (iii) 'रॉबर्ट नर्सिंग होम में' मदर टेरेसा के अतिरिक्त किसी अन्य मदर की मानव सेवा पर प्रकाश डालिए ।
- (iv) महादेवीजी ने 'गिल्लू' के किस व्यवहार को अपवाद कहा ?
- (v) वाचक ने सोचा कि "कोई बात नहीं, नौकर तो पिटते ही रहते हैं ।" – इस वाक्य से लेखक क्या सिद्ध करना चाहता है ?
- 10 निम्नलिखित प्रश्नों में से किन्हीं तीन के उत्तर लगभग 40-50 शब्दों में लिखिए : 3×3=9
- (i) लेखक 'अंधेर नगरी' नाटक में 'गुरुमहंत' के माध्यम से क्या संदेश देना चाहता है ?
- (ii) ज्ञानेन्द्रियों से क्या तात्पर्य है ? इनके नाम बताइए ।
- (iii) "मरे बच्चे को गोद में दबाए रहने वाली बंदरिया मनुष्य का आदर्श नहीं बन सकती ।" नाखून क्यों बढ़ते हैं ? पाठ में लेखक इस उदाहरण द्वारा क्या स्पष्ट करना चाहता है ?
- (iv) 'शतरंज के खिलाड़ी' कहानी देश की वर्तमान परिस्थितियों में क्या महत्व रखती है ? स्पष्ट कीजिए ।
- 11 निम्नलिखित काव्यांश को ध्यानपूर्वक पढ़िए और पूछे गए प्रश्नों के उत्तर दीजिए : 1×5=5
- सोच रहा बस्ती का बनिया  
घोर विवशता का निज कारण ।  
शहरी बनियों—सा वह भी उठ  
क्यों बन जाता नहीं महाजन ?  
रोक दिए हैं किसने उसकी  
जीवन उन्नति के सब साधन ?  
यह क्या संभव नहीं  
व्यवस्था में जग की कुछ हो परिवर्तन ?  
कर्म और गुण के समान ही  
सकल आय—व्यय का हो वितरण ?  
घुसे घरौंदों में मिट्टी के  
अपनी—अपनी सोच रहे जन,  
क्या ऐसा कुछ नहीं,  
फूँक दे जो सब में सामूहिक जीवन ?

प्रश्न :

- (i) बस्ती का व्यापारी क्या सोचता है ?
- (ii) छोटा व्यापारी किसकी तरह ऊँचा उठना चाहता है ?
- (iii) बनिया और महाजन में आपके विचार से क्या अंतर है ?
- (iv) 'घुसे घरोंदों में मिट्टी के' – पंक्ति में कौन-सा अलंकार है ?
- (v) गाँव में उन्नति के सभी साधन किसने रोक दिए ?

12 निम्नलिखित गद्यांश को ध्यानपूर्वक पढ़िए तथा पूछे गए प्रश्नों के उत्तर दीजिए : 1×5=5

वाणी एक अनमोल वरदान है। कोयल अपनी मीठी वाणी से सबका मन हर लेती है, जबकि कौए की काँव-काँव किसी को अच्छी नहीं लगती। वाणी के बिना सब कुछ सूना है। मीठी वाणी का प्रभाव बहुत व्यापक होता है। मीठी वाणी से सभी कार्य सिद्ध हो जाते हैं। मधुर बोलने वाले का समाज में बहुत आदर होता है। मधुरभाषी के मुख से निकला एक-एक शब्द सुनने वाले के मन को लुभाता है। उसके संपर्क में आने वाला व्यक्ति उसके वश में हो जाता है। मीठी वाणी सुनने वालों के साथ-साथ बोलने वाले को भी आनंद पहुँचाती है। तुलसीदास ने कहा है – 'मीठे वचन तैं सुख उपजत चहुँ ओर।' मृदुभाषी समाज में सद्भावना का प्रसार करता है। कटु भाषा बोलने वाले को अनेक प्रकार की हानियाँ उठानी पड़ती हैं। ऐसे व्यक्ति अपने बनते काम को भी बिगाड़ देते हैं। जहाँ मधुर वाणी अमृत है, वहीं कटु वाणी विष है।

प्रश्न :

- (i) कोयल और कौए का उदाहरण देने का क्या कारण है ?
- (ii) तुलसीदास का मीठी वाणी के बारे में क्या विचार है ?
- (iii) मधुरभाषी के सम्पर्क में आने वाले व्यक्ति को क्या लाभ होता है ?
- (iv) कटु वाणी विष कैसे है ? स्पष्ट कीजिए।
- (v) गद्यांश का उपयुक्त शीर्षक लिखिए।

13 निर्देशानुसार उत्तर दीजिए : 1×10=10

- (i) सन्धि कीजिए : हिम + आलय, राका + ईश
- (ii) विग्रहपूर्वक समास का नाम लिखिए :  
धनहीन अथवा माता-पिता
- (iii) 'निर्' उपसर्ग से दो शब्द बनाइए।
- (iv) सुशीला जिस मुहल्ले में रहती है, वह बहुत गंदा है।  
(सरल वाक्य में बदलिए।)
- (v) जैसे ही हम घर से बाहर निकले, बारिश शुरू हो गई।  
(रचना के अनुसार वाक्य-भेद बताइए।)
- (vi) वाह कितना सुंदर दृश्य है  
(यथास्थान उपयुक्त विराम चिह्न लगाइए।)

- (vii) आसमान सिर पर उठाना, अक्ल चरने जाना  
(किसी एक मुहावरे का वाक्य-प्रयोग कीजिए ।)
- (viii) हम आमों को खा रहे हैं ।  
(वाक्य को शुद्ध रूप में लिखिए ।)
- (ix) सिंह अथवा सूर्य के दो पर्यायवाची शब्द लिखें ।
- (x) 'ता' प्रत्यय से दो शब्द बनाइए ।

14 निम्नलिखित गद्यांश का सार लगभग एक तिहाई शब्दों में कीजिए : 5

प्रदूषण की समस्या मूल रूप से आधुनिक वैज्ञानिक उपकरणों के द्वारा अंधाधुंध मशीनीकरण और औद्योगिकीकरण की देन है । आज के मशीनी उद्योगों से जो कचरा या फालतू माल बचता है, उसे या तो जलाया जाता है या फिर भराव के काम में लाया जाता है । ऐसा करने से पहले कई बार इस सबके ढेर भी लगा दिए जाते हैं । इन्हीं से उत्पन्न कीटाणु, दुर्गंध और अन्य प्रकार के तत्व वायुमंडल में घुल-मिलकर उसे मारक स्थिति तक दूषित बना देते हैं । कई बार कल-कारखानों से बहने वाला दूषित पानी नदियों-नालों में बहकर जाता है । इस पानी में अनेक प्रकार के हानिकारक रसायन होते हैं । उनके प्रभाव से दूषित होकर पानी वातावरण को तो दूषित बनाता ही है, उस मिट्टी को भी विषैला कर देता है, जिसे उस पानी से सींचा जाता है । वहाँ उत्पन्न फल-सब्जियाँ आदि खाना खतरनाक हो सकता है । महानगरों के आस-पास इस कार्य के लिए ऐसे पानी का आम प्रयोग किया जाता है । जलचर जीव भी उस पानी से प्रभावित हो मरने लगते हैं । यदि ऐसा पानी आदमी पी ले, तो उसकी क्या दशा होगी, इसका अनुमान सहज ही लगाया जा सकता है । भारत की गंगा-यमुना जैसी पवित्र नदियाँ भी आज प्रदूषण के मारक प्रभाव से नहीं बच सकीं ।

15 बढ़ते अपराधों पर चिंता व्यक्त करते हुए किसी दैनिक समाचार-पत्र के संपादक को पत्र लिखकर सुझाव भी दीजिए । 5

अथवा

अपने पिताजी को पत्र लिखकर बताइए कि बोर्ड-परीक्षा की तैयारी हेतु आप क्या प्रयत्न कर रहे हैं ।

16 निम्नलिखित में से किसी एक विषय पर लगभग 300 शब्दों में निबंध लिखिए : 10

- (i) मन के हारे हार है, मन के जीते जीत
- (ii) भारतीय किसान और उसकी समस्याएँ
- (iii) बढ़ती मँहगाई और हमारे पर्व
- (iv) विज्ञान वरदान भी, अभिशाप भी ।





This Question Paper consists of 20 questions and 12 printed pages.

Roll No. 

--	--	--	--	--	--	--	--	--	--	--

Code No. 53/AS/3

Set - 

A
---

**ENGLISH**  
**(202)**

Day and Date of Examination \_\_\_\_\_

Signature of Invigilators 1. \_\_\_\_\_

2. \_\_\_\_\_

---

**General Instructions :**

- 1 Candidate must write his/her Roll Number on the first page of the Question Paper.
- 2 Please check the Question Paper to verify that the total pages and the total number of questions contained in the Question Paper are the same as those printed on the top of the first page. Also check to see that the questions are in sequential order.
- 3 For the objective type of questions, you have to choose any **one** of the four alternatives given in the question i.e. (A), (B), (C) or (D) and indicate your correct answer in the Answer-Book given to you. In the case of fill in the blanks, the correct / appropriate answers should be written in the answer-book.
- 4 All the questions including objective type questions are to be answered within the allotted time and no separate time limit is fixed for answering objective type questions.
- 5 Making any identification mark in the Answer-Book or writing Roll Number anywhere other than the specified places will lead to disqualification of the candidate.
- 6 Write your Question Paper code No. **53/AS/3—

A
---



# ENGLISH

(202)

Time : 3 Hours]

[Maximum Marks : 100

---

- Note :**
- (1) This question paper has **four** sections : A, B, C and D.
  - (2) All questions are **compulsory** except where internal choice is given.
  - (3) All answers have to be written in the answer script provided.
- 

## SECTION - A (Reading)

(Marks : 15)

- 1 Read the following passage and answer the questions that follow :

8

Forests cover thirty per cent of the land area of the earth. People are aware of the vital role forests play in sustaining the balance in the climatic condition of earth. Yet forests of the size of Panama are destroyed every year. Such large destruction of forests is called deforestation.

Forests are cut down for many reasons. The biggest driver of deforestation is agriculture. Farmers cut down adjacent forest areas to provide more land for farming and for pastures for grazing livestock. Logging operation, which provide for world's wood and paper products also cut countless tree every year. Forests are also cleared for land for the habitation of growing population. Not all deforestation is intentional. Some are caused by a combination of human and natural factors like wildfire and over grazing which prevents growth of young ones.

Deforestation has many adverse effects on the environment. The most dramatic impact is the loss of habitat for millions of species. Seventy per cent of land animals and plants live in the forests. They cannot survive after deforestation. Deforestation also causes climate change. Trees play a vital role in absorbing greenhouse gases



like carbon dioxide from entering earth's atmosphere. Fewer forests means larger amount of greenhouse gases entering the atmosphere and increasing the severity of global warming.

The quickest solution to the problem of deforestation would be simply to stop cutting trees. One must use forest resources by avoiding fell trees, so that the forest remain intact. The cutting when it is unavoidable must be compensated by planting enough young trees in place of the felled ones.

Answer the following questions on the basis of your understanding of the passage given above. Choose the best options wherever given.

- (i) Cutting down of trees in forest areas is called \_\_\_\_\_. 1
- (ii) How do forests benefit the earth ? 1
- (A) balance the climatic condition of the earth
- (B) cover the earth from the Sun
- (C) shelter wildlife and plants
- (D) meet the need of human beings
- (iii) Why do farmers cut down trees ? 1
- (A) to keep away wild animals.
- (B) to create land for farming.
- (C) to get wood for housing.
- (D) to get raw material for paper mills.
- (iv) Mention how forests are destroyed unintentionally ? 1
- (v) What should be done to protect forests from being destroyed ? 2
- (vi) Pick out the words from the passage which mean similar to the following words : 2
- farm animals, natural home

2 Read the following passage and answer the questions that follow :

7

Most of us buy cereals from the neighbourhood grocery shops and vegetables from the local markets. But what goes on behind getting the merchandise to the grocery stores or to the market some of us may not know. For example the carrot we buy comes from some farm in a hilly area. The exotic fruits and vegetables we consume traverse long distances to reach us. Longer the distance they travel, they become proportionately costlier and they remain beyond the reach of majority of the people. Alternatively some people are taking recourse to urban farming, so that there is minimal dependence on importing edible items from distant places.

Consumption of food is highly uneven around the world. The poor depend on cheap starchy diet and the rich have access to diets of their choice. The task of providing healthy food to all become more difficult, when the world is faced with explosion of population. The option is obviously to produce more food. This requires more farmland; more farmland means less forest. A huge portion of Amazonian forests have been destroyed in this process. Increased farming even takes water resources beyond their limit.

But the fact is that the world produces more than enough food for all its population. It is the market forces that create artificial scarcity. Sometimes major cereals in excess are destroyed in order to raise the market price for higher profit. Poor connectivity among regions is a hindrance to movement of food. Absence of easy transport facilities hinders movement of food from surplus to deficit areas. Therefore, a humane and scientific approach is needed to reach and distribution of food to one and all instead of taxing the earth for production of more food.



Answer the questions given below on the basis of your understanding of the passage given above. Choose the best options wherever given.

- (i) Many of the exotic things that we eat come from \_\_\_\_\_. **1**
- (ii) What is the benefit of urban farming ? **1**
- (A) We get fresh vegetables.
- (B) We can grow things of our choice.
- (C) It reduces the need to import food from distant places.
- (D) We learn to grow vegetables.
- (iii) Why do only the rich have access to wholesome food ? **1**
- (A) Because wholesome food remains costly.
- (B) Because there is uneven distribution of food.
- (C) Because there is too little food for everybody.
- (D) Because the rich do not allow others access to wholesome food.
- (iv) Why has a large portion of Amazonian rainforests been destroyed ? **1**
- (v) If there is enough food for all, why can't everybody get his share of it ? **2**
- (vi) Pick out the word from the passage which means similar to the following word : **1**
- 'obstructs'



**SECTION - B (Writing)**

**(Marks : 25)**

- 3** Read the following telephone conversation : **4**
- Caller : I am calling from Shoppers' Stoppe. Can I speak to Mr. Arnab ?
- Rani : Arnab is not at home. I am his sister, Rani. Any message for him ?
- Caller : Yes, Mr. Arnab has won the first prize in our lucky draw. Please ask him to collect it within seven days.
- Rani : I shall inform him about it.
- Rani will, however not be at home, when Arnab returns. So, write a message to be left for him. Also mention the date and the time of the receipt of the message.
- 4** You are Naveen, a resident of Delhi. You have shifted to Pune and have **7**  
joined a Public school over there. Write a letter to your friend in Delhi about your experience in the school in Pune.
- 5** Given below are three situations. Choose any **one** of them and write a **7**  
paragraph on it in about **100** words :
- (a) The slum near your house got waterlogged by heavy rain. The inmates were trying hard to organise themselves. Suggest measures that can make them comfortable.
- (b) Children are made to stay at home during the summer vacation of their school. They often find nothing much to do during the vacation. Suggest measures which can make the children use their holidays fruitfully.
- (c) The main road along the colony you live in gets clogged with vehicles in the morning as well as in the evening. Suggest steps which can ease the flow of traffic on the road near your colony.
- 6** You are a news reporter travelling by Kalka Mail. Suddenly the train came **7**  
to halt. An elephant was lying on the track. It was hit by a train. It was learnt that such accidents took place quite often. Write a report on it in about 100 words. Mention the place and the date of the incident. Also give a suitable title to your report.

**SECTION - C (Grammar)**

**(Marks : 30)**

- 7 (a) Rewrite each of the following pairs of sentences as one sentence. **3**  
Use the appropriate words given in the box :

though, if, but, as well as, as soon as

(There are more words than you may need)

Example :

(a) I was getting late for office.

(b) I had to take a taxi.

Since I was getting late for office, I had to take a taxi.

(i) (a) Piyush passed the test.

(b) Ravi also passed the test.

(ii) (a) Clark was not the captain.

(b) He took charge of the ship.

(iii) (a) We reached the road to Mussorie.

(b) It started raining.

- (b) Read the following paragraph : **3**

The residents of Unitech Society organized Holi in its right spirit. The parents gave only dry colour to the children when the children visited the houses, the inmates welcomed them and offered them sweets.

Rewrite the paragraph by filling in the blank spaces. The first sentence of the paragraph has been done for you as an example.

Holi was organized by the residents of the Unitech Society in its right spirit.

The children (i) \_\_\_\_\_ only dry colour by their parents. When the houses

(ii) \_\_\_\_\_ visited by the children they (iii) \_\_\_\_\_ (welcome) with sweets.

- 8 Complete the following paragraph by filling in the blank with suitable form of verbs given in the bracket : 6

Yesterday I (i) \_\_\_\_\_ (go) to the station to receive my friend. The train had already (ii) \_\_\_\_\_ (arrive). I (iii) \_\_\_\_\_ not \_\_\_\_\_ (know) the coach number he (iv) \_\_\_\_\_ (travel) by. I (v) \_\_\_\_\_ (look) for him all around me. Suddenly my friend (vi) \_\_\_\_\_ (appear) before me.

- 9 Given below is a conversation between two friends, Rahul and Rajat for information about an eatery for lunch. Complete the dialogue with suitable words : 3

Rahul : Rajat, I am very hungry.

(i) \_\_\_\_\_ I get an eatery to have a quick lunch ?

Rajat : (ii) \_\_\_\_\_ your choice about an eatery ?

Rahul : I am not very choosy about it. But (iii) \_\_\_\_\_ serve vegetarian food ?

Rajat : I shall find out.

- 10 The following is a conversation between Leela and her father about going on a tour during the ensuing summer vacation : 6

Leela : Father, my summer vacation will start from next Monday. Can we go on a tour to some interesting place ?

Father : Where do you intend to go ?

Leela : I would prefer to go to a place of historical importance.

Father : Then we can visit Delhi.

Leela : Where shall we stay in Delhi ?

Father : Don't worry.

Complete the following report on the conversation given above by filling in the blanks given below :

Leela told her father that her summer vacation (i) \_\_\_\_\_ from the following Monday and (ii) \_\_\_\_\_ they could go to some interesting place. Father asked her (iii) \_\_\_\_\_ to go. Leela (iv) \_\_\_\_\_ she would prefer go to a place of historical interest. Father (v) \_\_\_\_\_ that they could visit Delhi. Leela asked (vi) \_\_\_\_\_ stay in Delhi. Father advised her not to worry about it.





- 11 Read the following passage. There are six numbered blank spaces in it. For each blank space four options have been provided. Choose the most appropriate ones to fill in the blank spaces. The first sentence has been done as an example for you.

Ravi was (i) among those who were allrounders. He passed the Board Examination as (ii) \_\_\_\_\_ of the toppers. He is known to have devoted as (iii) \_\_\_\_\_ as ten hours to studies. But it did not prevent him (iv) \_\_\_\_\_ taking part in other activities. In fact, he is adept (v) \_\_\_\_\_ martial art, he has also been one of the choir boys who sang in (vi) \_\_\_\_\_ school function. The school declared him to be the (vii) \_\_\_\_\_ allrounder of the year.

- eg. (i) (A) among (B) within (C) between (D) one
- (ii) (A) an (B) one (C) any (D) someone
- (iii) (A) much (B) more (C) little (D) a few
- (iv) (A) of (B) from (C) to (D) at
- (v) (A) in (B) at (C) on (D) with
- (vi) (A) all (B) some (C) every (D) any
- (vii) (A) next (B) good (C) better (D) best

- 12 Complete the following dialogue by filling in the blank spaces with suitable words. The first one has been done for you as an example :

Rabin : Sir, I need some coaching in English. Can I join your study centre after the school hours ?

Teacher : You (i) \_\_\_\_\_, but you (ii) \_\_\_\_\_ be regular in attendance.

Rabin : I (iii) \_\_\_\_\_ be attending the class regularly.



**SECTION - D (Literature)**

**(Marks : 30)**

- 13** Read the following stanza and answer the questions that follow : **1×4=4**

Weavers, weaving at fall of night,  
Why do you weave a garment so bright ?  
Like the plumes of a peacock, purple and green  
We weave the marriage veils of a queen.

(Indian Weavers)

- (a) What is the time of day ?  
(b) What are the weavers weaving ?  
(c) What is the brightness of the garment compared with ?  
(d) Why do the weavers make the garment so bright ?
- 14** Complete the following statements by choosing the best options given below : **1×2=2**
- (a) The effect of harsh words last long because \_\_\_\_\_ (Truth)  
(i) they reach the mind.  
(ii) they make us sad.  
(iii) we tend to remember them.  
(iv) we cannot hit back.
- (b) To laugh only with my teeth means \_\_\_\_\_ (Once Upon a Time)  
(i) to show the teeth while laughing.  
(ii) to laugh with no feeling.  
(iii) to use the teeth for laughing.  
(iv) to show that one is happy.



15 Answer the following questions in about one or two sentences each : 2×2=4

- (a) What was the immediate feeling of the athlete when he stumbled and fell on the asphalt ? (Nine Gold Medals)
- (b) State the type of human beings that compares with 'tall trees'. (Tall Trees)

16 Read the following passage and answer the questions that follow : 1×4=4

I followed them through their school gate while they ran up and shut themselves in the school hall. I climbed up the steps of the school, saw an open door at the far end of a verandah and walked in. It happened to be the Headmaster's room. I noticed a very dignified man jumping on his table and heaving himself up into an attic. I walked in and plunge myself on the cool floor.

(A Tiger Comes to Town)

- (a) Who is 'I' in this extract ?
- (b) Whom did the speaker follow through the school gate ?
- (c) What was the contrast between the position held by the Headmaster and his behaviour ?
- (d) What was the speaker trying to get in the Headmaster's room ?

17 Read the following passage and answer the questions that follow : 1×4=4

We have 10 per cent growth rate in most areas, our poverty levels are falling. Our achievements are being globally recognized today yet we lack the self-confidence to see ourselves as a developed nation.... My second vision for India is development. For fifty years we have been a developing nation. It is time we see ourselves as a developed nation. We are among top five nations in the world in terms of GDP.

(My Vision of India)

- (a) Whose 'vision' is it ?
- (b) What was India known to be for the last fifty years ?
- (c) Why didn't we see ourselves as a developed nation ?
- (d) Mention two reasons the author gave for India to be called a 'developed nation' ?



18 Complete the following statements by choosing the most appropriate options  $1 \times 3 = 3$  given below :

- (a) Gopal left for Agra because \_\_\_\_\_ (The Last Mason)
- (i) he did not like to live any more in a small place.
  - (ii) he thought he could earn more in Agra.
  - (iii) he wanted to learn pottery.
  - (iv) his father had scolded him.
- (b) Gandhiji went to the Ramaji Mandir \_\_\_\_\_ (Stealing and Atonement)
- (i) to commit suicide in the temple premises.
  - (ii) to light the lamp of evening arati.
  - (iii) to get rid of the thought of suicide.
  - (iv) to have a darshan of the deity.
- (c) The parrot came back because \_\_\_\_\_ (The Parrot Who Would Not Talk)
- (i) it missed Aunt Ruby.
  - (ii) it missed the author who fed it.
  - (iii) it missed the green chillies and the slices of mango.
  - (iv) it wanted to show what it had learnt.

19 Answer any **two** of the following questions in about 30-40 words :  $2 \times 2 = 4$

- (a) What is unique in Janaki Iyer's school ? (Caring for Others)
- (b) How did Jijabai recognise Shivaji ? (The Return of the Lion)
- (c) Why did Neema and other students of the school plant Ninety four neem trees in their school ? (The Village Pharmacy)

20 Answer any **one** of the following questions in about 100 words : **5**

- (a) Why did Nicky think that he and his brother had quarrelled for good ?  
Was he right ? Give reasons. (The Elder Brother)
- (b) What changes were brought in dairy farming in Gujarat ? How did it benefit the farmers ? (Cooperate and Prosper)



# BANGALI

(বাংলা)

(203)

সময় : 3 ঘন্টা]

[পূর্ণমান : 100

নির্দেশ :

1. সমস্ত প্রশ্ন বাধ্যতামূলক, প্রতিটি প্রশ্নের সংকে নাম্বার দেওয়া আছে।
2. Q. no. 1-20 বহুমুখী প্রশ্ন, প্রতিটি প্রশ্নের সংকে 4 টি সম্ভাব্য উত্তর দেওয়া আছে, ঠিক উত্তরটি বেছে লিখতে হবে, প্রতিটি প্রশ্নের মান (1) one।

- 1 বাড়ির কে একজন ভয়ে ভয়ে জবাব দিলে আর তো নেই : 1  
(A) গরু নেই (B) উঁট নেই  
(C) ছাগল নেই (D) মহিষ নেই
- 2 'তাদের নাকের কাছে ধরে দিও' - নাকের কাছে কিসের গন্ধ ধরে দিতে বলেছে ? 1  
(A) ফলের একটু গন্ধ (B) ফুলের একটু গন্ধ  
(C) পচা ফলের গন্ধ (D) পচা ফুলের গন্ধ
- 3 'কন্ডারী হুঁসিয়ার' কবিতায় 'তিমির রাণ্ডি'-র কথাটির অর্থ কি ? 1  
(A) ঝড়ের রাণ্ডি (B) অলঙ্কারের রাণ্ডি  
(C) বর্ষনের রাণ্ডি (D) তারাভরা রাণ্ডি
- 4 'কন্ডারী হুঁসিয়ার' কবিতাটি কার লেখা ? 1  
(A) রবীন্দ্রনাথ ঠাকুর (B) মহাশ্বেতাদেবী  
(C) শক্তি চট্টোপাধ্যায় (D) কাজী নজরুল ইসলাম



- 5 মারীর কন্যা ছিলেন ? 1
- (A) হোলি (B) আইরিন  
(C) বিজয়িনী (D) ইভ
- 6 'বঙ্গভূমির প্রতি' কবিতায় যেটি নিতুল বলে মনে হয় সেটি চিহ্নিত করুন : 1
- (A) আনন্দ থাকবে না (B) কোন খেদ থাকবে না  
(C) মৃত্যুভয় থাকবে না (D) বন্ধু-বান্ধব থাকবে না
- 7 'মাদাম কুরি' প্রবন্ধে বাড়ির কতীর নাম ছিল : 1
- (A) শোপ্যা (B) বোপ্যা  
(C) ক্যামিল (D) কুরি দম্পতি
- 8 বুদ্ধ মাধব শিরোমণি যাচ্ছিলেন : 1
- (A) শিষ্য বাড়ি (B) বন্ধু বাড়ি  
(C) আত্মীয় বাড়ি (D) গুরু বাড়ি
- 9 নিচের অসম্পূর্ণ বাক্যটিকে সম্পূর্ণ করার জন্য বাক্যাংশ দেওয়া আছে । 1
- ঠিক বাক্যাংশটিকে চিহ্নিত করুন :
- (A) বাংলার নদী মাঠ ভাঙিফুল কেঁদেছিল পায়  
(B) সে নেচেছিল ইন্ডের সভায়  
(C) শ্যামার নরম গান শুলেছিল  
(D) অসংখ্য অশ্বথ বট দেখেছিল
- 10 পথিক হাত থেকে জল কেড়ে নিয়ে এক লিঙ্গাসে চুমুক দিয়ে শেষ করল : 1
- (A) ছোকরা (B) বুদ্ধ  
(C) মামা (D) পটল



- 11 পূর্তি মুন্ডা বউ-ছেলে-মেয়েকে চহিৰাঙ্গা থেকে নিয়ে এলো : 1
- (A) পুরুলিয়া জেলায় (B) পূৰ্বেদিৰীপুৰ জেলায়  
(C) পাবনা জেলায় (D) পালানৌ জেলায়
- 12 মহাপঞ্চক দাদাকে ওখানকার ছাওরা পূজা করে তার কারণ : 1
- (A) তিনি খুব ভালো লোক  
(B) তিনি সকলের চেয়ে বেশি করে পুঁথির খবর রাখেন  
(C) তিনু খুব খারাপ লোক  
(D) তিনি শোনপাংশুদের মতো
- 13 'মিলনের কথা' প্রবন্ধটি পড়ে কোন ধারণাটি সত্য : 1
- (A) হিন্দু-মুসলমান-খ্রিস্টান প্রত্যেকেই আলাদা আলাদা মানুষ  
(B) ধর্ম আচরণ আলাদা হলেও সব মানুষ আসলে এক  
(C) মানুষ সম্পর্কে শাস্ত্রের নির্দেশই একমাত্র সত্য  
(D) মানুষ সম্পর্কে ধর্মীয় ব্যক্তিদের কথাই সত্য
- 14 'ভারতীয় সংস্কৃতির ধারা' প্রবন্ধে আৰ্যদের আগমনের আনুমানিক কাল ধরা হয় : 1
- (A) খ্রিস্টপূর্ব বিংশ থেকে পঞ্চদশ শতাব্দী পর্যন্ত  
(B) খ্রিস্টপূর্ব বিংশ থেকে চতুর্দশ শতাব্দী পর্যন্ত  
(C) খ্রিস্টপূর্ব বিংশ থেকে এয়োদশ শতাব্দী পর্যন্ত  
(D) খ্রিস্টপূর্ব বিংশ থেকে সপ্তদশ শতাব্দী পর্যন্ত
- 15 'মানুষ বড়ো কাঁদছে' - এখানে 'মানুষ' বলতে কোন ধরনের মানুষের কথা বলা হয়েছে ? 1
- (A) গরিব ও শোষিত মানুষ (B) ধনী  
(C) শিক্ষিত (D) অসুস্থ





- 16 'ছাড়পত্র' কবিতায় 'উদ্ভাসিত' কথার অর্থ : 1  
 (A) উদ্বেলিত (B) উচ্ছ্বসিত  
 (C) উদ্বেষিত (D) প্রকাশিত
- 17 'পিয়ালোর গান' কবিতাটি কোন কাব্যগ্রন্থের অন্তর্গত : 1  
 (A) ছাড়পত্র (B) মানাই  
 (C) অত্র-আবীর (D) আরোগ্য
- 18 'লালু' গল্পে লালুকে দেখে ভাবনা ঘুচলো : 1  
 (A) চাঁটুজের (B) মুখুজের  
 (C) ভট্‌চাজের (D) পুরোহিতের
- 19 'কান্ডারী হুঁশিয়ার' কবিতায় 'লঙ্ঘিতে হবে' বলতে বোঝানো হয়েছে : 1  
 (A) লাফাতে হবে (B) চলতে হবে  
 (C) পার হতে হবে (D) দৌড়তে হবে
- 20 'বঙ্গভূমির প্রতি' কবিতায় কবি 'তামরস' শব্দ ব্যবহার করেছেন। 'তামরস' শব্দের 1  
 অর্থ কি ?  
 (A) পদ্মফুল (B) মালুকফুল  
 (C) কলমীফুল (D) কোর্নটাই নম
- 21 21 (ক) - 21 (চ) প্রশ্নগুলি উত্তর 10-12 টি শব্দে দিন।
- (ক) 'শুধু ভাঙ্গা নম' কবিতায় কবি কোন ধরনের জমি চাষের উপযুক্ত বলে মনে করেন। 1  
 (খ) 'কান্ডারী হুঁশিয়ার' কবিতায় কবি তরুণদের আহ্বান করেছেন কেন ? 1  
 (গ) 'বঙ্গভূমির প্রতি' কবিতায় কবি বলেছেন জন্মালে মরতে হবে - এই কথাটি 1  
 কেন বলেছেন ?  
 (ঘ) পিয়েরকে যুদ্ধে টেনে নিয়ে গেল কেন ? 1  
 (ঙ) 'ভারতীয় সংস্কৃতির ধারা' প্রবন্ধে 'এলিটি' সংস্কৃতি কাকে বলে ? 1  
 (চ) দ্বিতীয় শোলপাংশু কাকে কাঁধে নিয়ে লাচতে চাইছে ? 1



- 22 22 (ক) - 22 (চ) প্রশ্নগুলির উত্তর অনধিক 30 টি শব্দে লিখতে হবে ।
- (ক) ছাড়পত্র কে পেয়েছে ? 2
- (খ) 'ওরা কাজ করে' কবিতায় 'ওদের কথা' কোথায় থাকবে ? 2
- (গ) 'বাংলার মুখ আমি দেখিগাছি' কবিতায় 'অন্ধকারে জেগে উঠে' কবি কী দেখেছিলেন ? 2
- (ঘ) 'মিলনের কথা' প্রবন্ধে 'হাতে খড়ি'র কয়েকটি সংখ্যায় কিসের ইচ্ছা প্রকাশ পায় ? 2
- (ঙ) 'ভারতীয় সংস্কৃতির ধারা' প্রবন্ধে কেন মুসলিম শাসনকে 'বৈশ্ববিক' বলেছেন ? 2
- (চ) 'সর্বনাশ করলে রে' - পঞ্চক সর্বনাশ বলতে কী বোঝাতে চেয়েছেন ? 2

- 23 23 (ক) - 23 (খ) প্রশ্নদুটি অনধিক 40-42 টি শব্দে লিখুন ।
- (ক) 'ভারতীয় সংস্কৃতিকে মিশ্র সংস্কৃতি' - কেন বলা হয়েছে সে সম্বন্ধে আলোচনা করুন । 3
- (খ) 'দাঁড়াও' প্রবন্ধে দুঃখী মানুষগুলোর জন্য মানুষের কী করা উচিত বলে কবি মনে করেন ? 3

- 24 হঠাৎ লালুর ভয়ঙ্কর চিৎকারে সবাই স্তব্ধ হয়ে গেল কেন ? 8  
(অনধিক 100 টি শব্দ উত্তর দিন ।)

অথবা

শিরোমণি মহাশয় সমস্ত ঘটনা জানার পর তার মনের ইচ্ছার কী পরিবর্তন হয়েছিল ?

- 25 'বাংলার মুখ আমি দেখিগাছি' কবিতায় বাংলার প্রতি কবির কোন মনোভাব ফুটে উঠেছে তা অনধিক 100 টি শব্দের মধ্যে উত্তর দিন । 8

অথবা

রবীন্দ্রনাথের 'ওরা কাজ করে' কবিতায় প্রমজ্জীবি মানুষের প্রতি শ্রদ্ধা কীভাবে প্রকাশিত হয়েছে তা অনধিক 100 টি শব্দের মধ্যে উত্তর দিন ।



26 'সেদিন নাপিতের দুই গালে চড় কষিয়ে দিই।' - কে এই উক্তিটি করেছিল ? কোন প্রসঙ্গে এই উক্তিটি করেছিল ? এই উক্তির মধ্য দিয়ে লেখক কী বোঝাতে চেয়েছেন ? 6

27 (ক) নিম্নলিখিত যে-কোনো 4 টি বিপরীত শব্দ লিখুন : 4

- (A) শূর্য (B) হ্রস্ব  
(C) নতুন (D) বাঁচা  
(E) সাধ্য

(খ) নিম্নলিখিত যে-কোনো 4 টি সন্ধি বিচ্ছেদ করুন : 4

- (A) বিপুলায়তন (B) উদ্দেশ্যস্থিত  
(C) সম্মিলিত (D) জগজলনী  
(E) গিরুপায়

(গ) নিম্নলিখিত যে-কোনো 4 টি শব্দের সমার্থক শব্দ লিখুন : 4

- (A) খুল (B) গিরি  
(C) রাণি (D) তরী  
(E) ভীরু

(ঘ) তৎসম শব্দ কাকে বলে ? উদাহরণ দাও । অর্ধতৎসম শব্দ কাকে বলে ? 2+2=4  
উদাহরণ দাও ।

28 অনধিক 75 টি শব্দ ভাবসম্প্রসারণ করুন : 5

ধ্বনিটিরে প্রতিধ্বনি সদা ব্যঞ্জ করে

ধ্বনি কাছে ঝলী সে যে পাছে ধরা করে ।

অথবা

অন্যায় যে করে আর অন্যায় যে সহে

তব ঘৃণা তারে যেন তুলসম দহে ।



29 অমুখ বন্ধুকে মাগুনা জানিয়ে চিঠি ।

5

অথবা

আপনি রাষ্ট্রীয় মুক্তবিদ্যালয়ে পড়াশুনা করছেন । অতিরিক্ত পার্ঠের জন্য নিজের এলাকায় একটি গ্রন্থাগার আছে তা ব্যবহার করতে চান । তার জন্য ঐ গ্রন্থাগারিকের অনুমতির জন্য চিঠি লিখুন ।

30 যে-কোন একটি বিষয়কে অবলম্বনে অনধিক 120 টি শব্দে প্রবন্ধ লিখুন :

8

(ক) বৃক্ষরোপন : (ভূমিকা - আধুনিক মল্লমভ্যতা ও পরিবেশের ভারসাম্য - বৃক্ষরোপনের প্রয়োজনীয়তা - বৃক্ষরোপনের উদ্যোগ - উপসংহার ।)

(খ) আমার প্রিয় লেখক : (ভূমিকা - জীবনকথা - সাহিত্য কীর্তি - রচনা বৈশিষ্ট্য - উপসংহার ।)

(গ) বিজ্ঞান সাধনায় ভারত : (ভূমিকা - প্রাচীন ভারতে বিজ্ঞানচর্চা - আধুনিক ভারতে বিজ্ঞানচর্চার নানাধিক - মহাকাশ গবেষণায় ভারত - উপসংহার ।)

(ঘ) ভারতের জাতীয় সংহতি : (ভূমিকা - জাতীয় ক্ষেত্রে অসংহতির লক্ষণ - অসংহতির কারণ - জাতীয় সংহতি মুদ্রুত করার উপায় - উপসংহার ।)





# MARATHI

(मराठी)

(204)

वेळ : 3 तास]

[एकूण गुण : 100

निर्देश :

- 1 सर्व प्रश्न सोडविणे आवश्यक आहे.
- 2 सर्व प्रश्न लक्षपूर्वक वाचून मगच प्रश्नाचे उत्तर द्यावे.
- 3 प्रश्न 1 ते 11 पर्यंत प्रत्येकी चार पर्याय दिले आहेत. त्यातील योग्य पर्याय निवडून लिहावा.

- 
- 1 झेल्याचे नाव काय होते ? 1  
(A) जमाल (B) जगदीश  
(C) सदाशिव (D) जालंदर
  
  - 2 पुढे दिलेल्या पर्यायांपैकी योग्य पर्याय ओळखा. 1  
(A) परीस्थिती (B) परिस्थिति  
(C) परीस्थिति (D) परिस्थिती
  
  - 3 खालील काव्यपंक्तींल रिकाम्या जागी योग्य पर्याय भरा “प्रिय..... गाऊ” 1  
(A) मंगलगीते (B) निसर्गगीते  
(C) बालगीते (D) भारतगीते
  
  - 4 पुढीलपैकी कुठल्या वाक्यात सर्वनाम आले आहे ? 1  
(A) श्याम उद्या येईल (B) राघव हुशार आहे  
(C) मी पुस्तक वाचले (D) गायत्री सुंदर दिसते



- 5 वीर पत्नि पतीच्या भाळी कोणता तिलक लावणार आहे ? 1  
 (A) विजय तिलक (B) कुंकुम तिलक  
 (C) शुभ तिलक (D) तिलक
- 6 खालील वाक्यातील रिक्ामी जागा योग्य पर्यायाने भरा. 1  
 सकळ लोक एक करावे । गलीम ..... काढावे.  
 (A) हुडकून (B) उपटून  
 (C) उखडून (D) निवटून
- 7 हनुमंताने कोणाला सुखी केले ? 1  
 (A) आईला (B) रामाला  
 (C) सीतेला (D) भावाला
- 8 पुढील वाक्याचा काळ ओळखा, पर्याय पुढे दिले आहेत 'ते काम करतात.' 1  
 (A) वर्तमानकाळ (B) भविष्यकाळ  
 (C) भूतकाळ (D) यापैकी कोणताही नाही
- 9 खालील पर्यायांमधील शुद्ध शब्द लिहा - 1  
 (A) वाटवून (B) वाटुन  
 (C) वाटून (D) वाटोन
- 10 लग्नापूर्वी नागू गवळ्याचा जास्त वेळ पुढील कोणत्या गोष्टीत जायचा ? 1  
 (A) दुध घालणे (B) पेलवानी करण्यात  
 (C) झोप घेणे (D) यापैकी काही नाही



- 11 योग्य वाकप्रचार अथवा म्हण वापरून वाक्य पूर्ण करा : 1  
 “नात्यातच लग्न झालेल्या मालतीला सासरी सारखा जाच सहन करावा लागत होता पण ती अगतिक झाली होती, माहेरी यातले काही सांगू शकत नव्हती, तिची अवस्था..... ”  
 (A) इकडे आड तिकडे विहीर (B) तोंड दाबून वुक्याचा भार  
 (C) कानामागून आली तिखट झाली (D) खडे फोडणे
- 12 मास्तरांच्या सहवासाने झेल्याच्या वर्तनात कोणता बदल झाला ? 1
- 13 भाषा विकासासाठी लो. टिळक तरुणांकडून कोणत्या अपेक्षा करतात ? 1
- 14 ‘हे कंकण करी बांधियले’ असे कवीने कां म्हटले आहे ? (बलसागर भारत होवो) 1
- 15 आकाशात उडणाऱ्या बगळ्यांची रांग पाहून कवीच्या मनात कोणत्या कल्पना येतात ? 1
- 16 आचार्य विनोबाजींच्या मते देशाला चांगले नागरिक केव्हा मिळतील ? 1
- 17 नागूचे थोडक्यात व्यक्तिचित्र रेखाटा. 1
- 18 कवीने पिल्लाच्या दुःखाचे वर्णन कसे केले आहे ? (एका तथ्यात) 1
- 19 कवीला विद्येचा भार व्यर्थ कां वाटतो ? (सागरास) 1
- 20 कन्याकुमारीच्या समुद्रकिनारी लेखकाचा कंठ कां दाटून आला ? 1
- 21 शेतकरी कलेक्टर साहेबांकडे कशासाठी गेला होता ? 1





- 22 पुढे दिलेल्या शब्द समुहा बघल एक शब्द सूचवा - 1  
(i) गुप्त बातम्या काढणारा  
(ii) गुरे बांधण्याची जागा

- 23 (अ) खालील शब्दांचे प्रत्येकी दोन दोन समानार्थी शब्द लिहा :- 2  
(i) नदी  
(ii) चंद्र

- (ब) खालील शब्दांचे विरुद्धार्थी शब्द लिहा :- 2  
(i) सुकाळ (ii) हिंसा  
(iii) विश्वास (iv) सुर

- 24 खालील उतारा वाचून त्यावरील प्रश्नांची उत्तरे तुमच्या शब्दांत लिहा :

जातीने मनुष्य श्रेष्ठ किंवा कनिष्ठ ठरतो. हा विचार सर्व संतमहंतांनी आणि विचारवंतांनी पुसून टाकायचा अखंड प्रयत्न केला आहे. संतांचे विचार आणि आचार समतेचे द्योतक आहेत. ज्याच्या मनात समता नाही आणि ममताही नाही. त्याला संतत्वाच्या आणि देवत्वाच्या जवळ जाण्याचा अधिकार कधीच लाभणार नाही. ही विशाल व सर्व समावेशक दृष्टी संतांच्या साहित्यातून प्रयुक्त झाली आहे. “भेदाभेद भ्रम अमंगळ” आणि “जे जे भेटे भूत ते ते जाणचे भगवंत” हा उदात्त विचार तर्कशुद्ध आहे. आपल्या खांद्यावर जातीय उच्चनीचतेचे जे पिशाच्च शतकानुशतके ठाण मांडून बसले आहे, ते फेकून दिले पाहिजे. हे अनेक संतांनी गरजूंना सांगितले आहे. परोपरीने सांगितले आहे. पण माणसाचा मुर्दाडपणा अलौकिक आहे. संतांच्या कपाळावर त्याने जातीवर्णाची लेबले तत्परतेने आणि धूर्तपणे चिकटवली. खरे तर साधूंचीच काय सामान्यांची जात माणूस असते, माणूसच असावी. माणसांची जाती वाढावी. मानव्याची उंची वाढत जावी हे संतांचे स्वप्न आहे. पण ते घडत नाही, म्हणून संतांच्या वाणीला अनेक वेळा हुंदके फुटलेले आहेत.

प्रश्न :

- (i) संतमहंतांनी कोणता प्रयत्न केला ? 1  
(ii) संतसाहित्यातील उदात्त विचार कोणता ? 1  
(iii) संतवाणीला हुंदके कां फुटले ? 1  
(iv) उतार्यास योग्य शीर्षक द्या. 1



25 खालील काव्यांश लक्षपूर्वक वाचून त्यावरील प्रश्नांची उत्तरे तुमच्या शब्दात लिहा :-

पिल्लात्रास दुःख भारी, भोळे रडे स्वतः शी

भावंड ना विचारी, सांगेल ते कुणाशी ?

जे ते तयास टोची, दावी उगाच धाक

आहे कुरूप वेडें पिल्लू तयात एक !

एके दिनी परंतु, पिल्लास त्या कळालें

भय वेड पार त्याचे वाऱ्यासवे पळालें

पाण्यात पाहताना चोरूनिया क्षर्णेक

त्याचेच त्या कळाले - तो राजहंस एक

प्रश्न :

- (i) प्रत्येक जण पिल्लाशी कसा बोलत होता ? 1
- (ii) हे काव्य कुणी रचले आहे ? 1
- (iii) बदकाच्या उदाहरणातून कवीने मानवी स्वभावाचे कोणते विशेष सांगितले आहेत ? 2  
स्वतःच्या शब्दात सांगा.
- 26 (i) महान कार्य यशस्वी करण्यासाठी राजाने कसे वागले पाहिजे ? 2
- (ii) सृष्टीच्या निर्मितीच्या शक्तीचे कौतुक कवी कोणत्या शब्दांमध्ये सांगतो ? 2
- 27 (अ) ज्ञानेश्वरांनी 'विश्वात्मके' हे विशेषण का व कुणासाठी वापरले आहे ? 3
- (ब) श्रीनिवास रामानुजन यांच्या विषयी माहिती द्या. 3



- 28 (अ) ससंदर्भ अर्थ स्पष्ट करा - 2  
 “पहा टाकिले पुसुनि डोळे गिळला मी हुंदका,  
 खांगणी जा सुखे राजसा परतुनि पाहू नका”
- (ब) लेखकाला (वि.स. खांडेकर) कोणत्या जुन्या गोष्टी जपून ठेवाव्यात असे वाटते ? 2
- 29 (अ) घरी आलेली बाई हिंदू किंवा ख्रिश्चन याचा अंदाज लक्ष्मीबाईंना कां आला नाही ? 3  
 (ब) हजारो वर्षांनंतर कोण कोणास लाभले ? कवितेचे व कवीचे नाव लिहा. 3
- 30 (अ) ‘सागरास’ कवितेचे कवी कोण ? या कवितेन कवी सागरास कोणते प्रश्न विचारतो ? 3  
 व कां ?  
 (ब) संदर्भ देउन अर्थ स्पष्ट करा - 3  
 “उठती वरती जलदांवरती अनंत संध्याराग पहा !  
 सर्व नभावर होय रेखिले सुंदरतेचे रूप महा !”
- 31 (अ) भारतीय गणितज्ञांनी जगाला दिलेली देणगी कोणती ? 3  
 (ब) ‘महर्षी कर्वे हे एक अद्भूत चमत्कार होते, असे प्र.के. अत्रे कां म्हणतात ?’ 3
- 32 वन्याच दिवसांनी आजी व नातू भेटले. (यांच्यातील संवाद 8 ते 10 वाक्यात लिहा) 4
- 33 खालीलपैकी कोणत्याही विषयावर निबंध लिहा : (शब्द मर्यादा 200 शब्द) 10  
 (i) ग्रंथ हेच गुरू  
 (ii) अति तेथे माती  
 (iii) माझा दक्षिण भारतातील प्रवास  
 (iv) माझी आजी.



34 तुम्हाला या पाठ्यपुस्तकातील सर्वात अधिक कोणता पाठ आवडला ? कां ? पाठाचे व लेखकांचे नाव लिहा. 4

35 तुमचा लहान भाऊ इयत्ता नववीत प्रथम क्रमांकाने पास झाला आहे, त्याचे अभिनंदन करणारे पत्र लिहा. 8

किंवा

तुमच्या परिसरातील दिवे लागत नसल्याने अंधार असतो, रस्त्यावरील दिवे लावण्यासाठी नगरपालिकेस पत्राने कळवा.

36 पुढील उताऱ्याचा एक तृतीयांश सारांश तुमच्या शब्दात लिहा व योग्य शीर्षक ही द्या. 4

अभ्यासक्रमाचे अनेक विषय आहेत. परंतु व्यक्तिगत अभिरुचि नावाची गोष्ट असतेच । नाटक, सिनेमा, कथा, कादंबरी यापैकी कशाने कोणाला विरंगुळा मिळेल किंवा मनोरंजन होईल. हे कोणीही सांगू शकणार नाही. आपणास काय आवडेल हे ज्याचे त्याला कळू शकेल. त्यातूनही असे घडते की, जे वाट्याला येते ते आवडत नाही. आणि जे आवडते ते लाभत नाही. शेवटी इच्छा नसतांना जे पत्करावे लागते, तेच गोड करून घ्यावे लागते, आरोग्यासाठी आसने, व्यायाम, प्राणायाम, फिरणे, पोहणे असे अनेक मार्ग सुचविले जातात. या साठी आपले शरीर कशाला प्रतिसाद देते ते आत्मपरीक्षणानेच कळू शकते. आपल्या सुखाचे आणि स्वास्थ्याचे घटक आपणच शोधायचे असतात.

37 एका फळांच्या करंडीत 200 फळांपैकी 900 सफरचंदे 25 संत्री, 50 आंबे, 25 मोसंबी आहेत. ही माहिती वर्तुळालेख काढून त्यात दाखवा. 4





## TELUGU

### తెలుగు

(205)

సమయం : 3 గంటలు

గరిష్ట మార్కులు: 100

గమనిక:

1. అన్ని ప్రశ్నలకు జవాబులు రాయండి.
2. ప్రతి ప్రశ్నకు మార్కులు సూచించబడ్డాయి.
3. నిర్దేశిత సమయంలోనే జవాబులు వ్రాయాలి.

బహుళైచ్ఛిక ప్రశ్నలు: వీటి సమాధానాలు మీ జవాబుపత్రంలో రాయాలి.

10 x 1 = 10 మా.

1. భాస్కర శతకం రాసిన కవి ఎవరు?  
(A) వేమన (B) బద్దెన  
(C) మారద వెంకయ్య (D) భర్తృహరి
2. కవి కోకిల బిరుదున్న కవి ఎవరు?  
(A) గురజాడ (B) జాషువా  
(C) దాశరథి (D) కరుణశ్రీ
3. తుల్య భాగ జననం ఏ గ్రంథం లోనిది?  
(A) భీమేశ్వర పురాణం (B) కాశీ ఖండం  
(C) నైషధం (D) హర విలాసం
4. "చదువని వాడగ్గుండగు" అన్నదెవరు?  
(A) ప్రహ్లాదుడు (B) హిరణ్య కశిపుడు  
(C) చండా మార్కులు (D) లీలావతి



5. కృష్ణుడు తండ్రిని కొనమన్న పుస్తకం ఏది?
- (A) ఇంగ్లీషు (B) తెలుగు  
(C) చరిత్ర (D) జాగ్రఫీ
6. జంఘాల శాస్త్రీ ఉన్న పాఠం ఏది?
- (A) శాస్త్ర దృష్టి (B) లలిత కళలు  
(C) స్వభాష (D) కొంగ ఎండ్రి కథ
7. ఒలంపిక్ క్రీడల పుట్టుక ఏ దేశంలో జరిగింది?
- (A) గ్రీస్ (B) ఇంగ్లాండు  
(C) ఫ్రాన్సు (D) జర్మనీ
8. "జంబుకం" అంటే ఏమిటి?
- (A) కుక్క (B) నక్క  
(C) పులి (D) తోడేలు
9. దుర్గాబాయి జన్మించిన సంవత్సరం ఏది?
- (A) 1912 (B) 1916  
(C) 1901 (D) 1911
10. నిత్యాపము అనేది ఏమిటి?
- (A) కొలను (B) నది  
(C) గ్రామం (D) సముద్రం



11. గురజాడ దేశ భక్తి గురించి ఏం చెప్పాడు? 5

లేదా

తాళ్లపాక తిమ్మక్క రచనల గురించి రాయండి.

12. శ్రీరాముడు విల్లు ఎక్కుపెట్టిన విధం తెల్పండి. 5

లేదా

శిల్ప కళ గురించి వివరించండి.

13. సుపర్ణుని గురించి తెల్పండి. 4

లేదా

మీ మాతృ భాష తెలుగు గొప్పదనం తెల్పండి.

14. శివ తాండవ దృశ్యం వర్ణించండి. 4

లేదా

ఎండ్రీ తెలివిని వివరించండి.

15. టి.వి. మాధ్యమం గురించి తెల్పండి. 4

లేదా

దుర్గాబాయి వ్యక్తిత్వంలో మీకు నచ్చినదేదో తెల్పండి.

16. కింది వాటిల్లో ఆరింటికి జవాబులు రాయండి. 6x3=18

అ. విద్య గొప్పదనం

ఆ. తుల్య భాగుడు

ఇ. ప్రహ్లాదుని భక్తి

ఈ. శతక లక్షణాలు

ఉ. శాస్త్ర దృష్టి

ఊ. పర్యావరణం

ఎ. గిరిజనుల ఆహారపు అలవాట్లు

ఏ. రాత ప్రయోజనాలు

ఐ. చా. సో. రచనలు

బి. ఏకత్వం అంటే ఏమిటి





17. కింది వాటిల్లో ఒక దానికి ప్రతి పదార్థ తాత్పర్యాలు రాయండి. 5

(A) దానము సేయ గోరిన వదాన్యున కీయగ శక్తి లేనిచో  
నైన పరోపకారమునకై యొక దిక్కున దెచ్చియైన నీ  
బూనును, మేఘు డంబుధికి బోయి జలంబుల దెచ్చి యాయడే  
వాన సమస్త జీవులకు వాంఛిత మింపె సలార భాస్కరా!

లేదా

(B) వెలుతురు బాకు తాకిడికి విచ్చిన చిక్కని కాళ రాత్రి గుం  
డెలు జిలు జిల్లనన్ రుధిర నిర్ధరి పారె, దిగంగనా ముఖ  
ముల నవ కుంకుమ ప్రభలు మెచ్చెను తామర మొగ్గలట్లు, త  
ల్పులు తెరువుండు, రండు, పిలువుండు శయించిన వారి నెల్లరన్

18. పార్వతీశంలో నీకు నచ్చిన అంశాలేవి? 5

లేదా

నిడదవోలు స్థేషనులో పార్వతీశం పాట్లు

19. థామస్ కుక్ కంపెనీతో పార్వతీశం అనుభవాలు 4

లేదా

బారిష్టర్ పార్వతీశం నవలలో ఒక హాస్య సన్నివేశం

20. కింది వాటిల్లో రెంటికి జవాబులివ్వండి. 2x3= 6

- (A) పార్వతీశం బాల్యం
- (B) పార్వతీశానికి స్నేహితుడి బోధ
- (C) మొక్కపాటి నరసింహ శాస్త్రి

21. కింది వాటిల్లో ఒక దానికి 10 వాక్యాల జవాబు రాయండి. 3

- (అ) ప్రజాస్వామ్యంలో ఎన్నికలు.
- (ఆ) నేటి విద్యా విధానంలో రావలసిన మార్పులు
- (ఇ) గ్రామాభివృద్ధికై కలెక్టరుకు వినతి



22. కింది పద్యానికి భావం రాయండి.

3

(A) కులములోన నకడు గుణవంతుడుండెనా

కులము వెలయు వాని గుణము చేత

వెలయు వనము లోన మలయజంబున్నట్లు

విశ్వదాభిరామ వినుర వేమ.

లేదా

(B) కింది గద్యం చదివి, దాని కింద ఉన్న ప్రశ్నలకు జవాబులు రాయండి.

గాంధీజీ జాతీయ నాయకుడు. ఆయన ఎన్నో ఉద్యమాలు చేసి స్వాతంత్ర్యం సాధించాడు.

అందుకే ఆయన మహాత్ముడు, జాతి పిత అయ్యాడు. శాంతి, అహింసలకు ఆయన ప్రతినిధి.

ప్రశ్నలు:

(A) గాంధీజీ స్వాతంత్ర్యం ఎలా సాధించాడు?

(B) మన జాతి పిత ఎవరు?

(C) బాపూజీ దేనికి ప్రతినిధి?

23. (A) కింది రెండు పలుకుబళ్లకు అర్థాలు రాసి, వాక్యాల్లో ప్రయోగించండి.

2x2=4

అ. కాకతాళీయం

ఆ. మేలుకొల్పు

ఇ. కాలికి బుద్ధి చెప్పు

ఈ. పండ్లు నూరు

లేదా

(B) కింది వాటిల్లో రెంటిని సోదాహరణంగా వివరించండి.

అ. నామ వాచకం

ఆ. ద్రుత ప్రకృతికం

ఇ. కంఠ్యాలు

ఈ. ఆకాంక్ష

24. రూపకం లేక లాటాను ప్రాసాలంకారాన్ని వివరించండి.

2



25. తేట గీతి పద్య లక్షణాలు తెల్పండి.

3

లేదా

"ఒకచో నేలను బవ్వళించు, నొకచో నొప్పారు పూ సెజ్జవై" దీనిలో గణాలు గుర్తించి, అది ఏ పద్య పాదమో, దానిలోని యతి ప్రాసాదులు తెల్పండి.

26. కింది వాటిల్లో రెండింటి విగ్రహ వాక్యాలు, సమాస నామాలు తెల్పండి.

2

(అ) మంచి మాట

(ఆ) భారత దేశం

(ఇ) త్రివర్ణాలు

(ఈ) ఆట పాటలు

27. కింది వాటిల్లో రెంటి సంది విశేషాలు తెల్పండి.

2

A. అ. ఒక్కొక్క

ఆ. ఇట్లనె

ఇ. ఏకైక

ఈ. దాసోహం

లేదా

B. "హనుమంతుడు సముద్రం దాటాడు. ఆయన శక్తి ఆశ్చర్యకరం". - పై వాక్యాల్లోని భాషా భాగాలు గుర్తించండి.

28. కింది వాటిల్లో ఒక దానికి వ్యుత్పత్తి, అర్థం రాయండి.

1

అ. అంబుధి

ఆ. జానకి

ఇ. నిర్ణరులు

ఈ. ఖగము

29. కింది పదాలకు ప్రకృతి-వికృతులు రాయండి.

2

అ. అమ్మ

ఆ. పర్వం

ఇ. దిష్టి

ఈ. వంగడం



30. (A) కింది వాటిల్లో రెంటికి నానార్థాలు రాయండి. 2

అ. స్నేహం ఆ. కొమ్మ

ఇ. గుణం ఈ. పన్ను

లేదా

(B) కింది వాటిల్లో రెంటికి పర్యాయ పదాలు రాయండి.

అ. స్వస్తి ఆ. ఇల

ఇ. రత్నాకరం ఈ. పక్షి

31. మీ పాఠ్యాంశాల ఆధారంగా ఖాళీలు పూరించండి. 3

అ. శాస్త్ర దృష్టికి \_\_\_\_\_ ఒక మూలాధారం.

ఆ. కళ అనగా \_\_\_\_\_

ఇ. సమాచారం \_\_\_\_\_ ముడి పదార్థం వంటిది

32. కింది పదాలను నిఘంటు క్రమంలో అమర్చి వాటి అర్థాలు రాయండి. 3

అ. వారు ఆ. ఇంత

ఇ. హరి ఈ. జాబు

ఉ. ఇకపై ఊ. మేను





01 (17) مضمون نویسی کی سب سے آسان قسم کون سی ہے؟

(A) بیانیہ (B) تاثراتی

(C) تخیلی (D) نظریاتی

01 (18) کمپیوٹر کے تختہ کلیدی (Keyboard) میں کتنے بٹن ہوتے ہیں؟

(A) 106 بٹن (B) 104 بٹن

(C) 108 بٹن (D) 114 بٹن

01 (19) بھارت میں پہلا ریلے سینٹر کہاں قائم ہوا؟

(A) دلی (B) ممبئی

(C) پونا (D) کوکاتا

01 (20) چھپائی کا آغاز کس ملک میں ہوا؟

(A) چین (B) جاپان

(C) جرمنی (D) انگلستان



01 (13) ”موتیوں کی لڑی“ جیسے کیا دمک رہے تھے؟

- (A) دانت (B) ہاتھ  
(C) کان (D) ناخون

01 (14) ”جی کیسا ہونا“ گرائمر میں کیا ہے؟

- (A) استعارہ (B) فعل  
(C) محاورہ (D) صفت

01 (15) ذیل میں ”چاندنی رات کا منظر“ کیا ہے؟

- (A) مثنوی (B) نظم  
(C) مرثیہ (D) غزل

01 (16) آزمائش ڈرامے میں کل کتنے کردار ہیں؟

- (A) سات (B) آٹھ  
(C) نو (D) دس



01 (9) ذیل میں صفت پر نشان لگائیے۔

- (A) بنگال (B) پنجاب  
(C) مدراسی (D) گجرات

01 (10) زمین کا متضاد کیا ہے؟

- (A) آسمان (B) پہاڑ  
(C) اونچائی (D) لمبائی

01 (11) گُج کے کیا معنی ہیں؟

- (A) کب (B) کہاں  
(C) کیوں (D) کیا

01 (12) افراد کس لفظ کی جمع ہے؟

- (A) ایک شعر کی (B) فہرست کی  
(C) تنہائی کی (D) فرد کی





01 (5) شام کو پبلک جلسہ کس موضوع پر تھا؟

- (A) عورتوں کے فرائض پر (B) عورتوں کے حقوق پر  
(C) عورتوں کی ذمہ داریوں پر (D) عورتوں کی لیڈرشپ پر

01 (6) ہیکار اور معکوسی آوازیں کتنی ہیں؟

- (A) 15 آوازیں (B) 17 آوازیں  
(C) 16 آوازیں (D) 14 آوازیں

01 (7) ”رتی بھر بھی بُرا نہیں لگ رہا“ کے کیا معنی ہیں؟

- (A) ذرا بھی بُرا نہ لگنا (B) بہت بُرا لگنا  
(C) ذرا ذرا سا بُرا لگنا (D) تھوڑا بُرا لگنا

01 (8) گرائمر میں مرنا کیا ہے؟

- (A) فعل (B) محاورہ  
(C) استعارہ (D) صفت



20 19. ذیل میں ایک سوال کے چار جواب دیئے گئے ہیں دُرست جواب چن کر اپنی کاپی میں لکھئے۔

01 (1) شاعر محمد اقبال نے ”آرزو“ نظم کے ذریعے کیا پیغام دیا؟

- (A) رونے کا پیغام دیا (B) مایوسی کا پیغام دیا  
(C) ترک دنیا کا پیغام دیا (D) غافل لوگوں کو جگانے کا پیغام دیا

01 (2) عشق کی ضد کیا ہے؟

- (A) نُصرت (B) پیار  
(C) دشمنی (D) حسد

01 (3) شاعر نے کس ملک کو ”دھانی آنچل والی ہے تو“ کہا ہے؟

- (A) ایران (B) پاکستان  
(C) بھارت (D) سری لنکا

01 (4) اردو کو شروع میں کس نام سے پکارا گیا؟

- (A) تُرکی (B) ہندوی  
(C) فارسی (D) ایرانی



- 03 .9. حُسن کا فلسفہ کیا ہے؟
- 03 .10. صنعت ”مراعات النظر“ کی تعریف لکھئے۔
- 04 .11. پریم چند کے افسانہ نگاری پر مختصر لائنیں لکھئے۔
- یا
- سرسید کو جدید اردو نثر کا بانی سمجھا جاتا ہے کیوں؟
- 03 .12. کنہیا لال کپور نے مفت اخبار پڑھنے والوں کی کتنی قسمیں بیان کی ہیں؟
- 03 .13. قوم کے نوجوانوں کو سرسید نے کیا پیغام دیا؟
- 03 .14. اردو ہم سب کی زبان ہے وضاحت کیجئے۔
- 03 .15. حروفِ عطف کسے کہتے ہیں؟
- 03 .16. محاورہ کسے کہتے ہیں؟
- 03 .17. مقطع کسے کہتے ہیں؟
- 03 .18. تکرارِ لفظی یا صنعت تکرار کے معنی لکھئے۔

10 5. مندرجہ ذیل عنوان پر چند لائنیں تحریر کریں۔

حب وطن، چڑیا گھر کی سیر، پنڈت جواہر لال نہرو، عید الضحیٰ، دلی کا قطب مینار

08 6. خط لکھ کر اپنے چھوٹے بھائی کو امتحان میں اچھے نمبروں سے پاس ہونے کے لئے محنت

کرنے کی ہدایت کریں۔

یا

ٹیلی فون لمیٹڈ کے آفیسر کے نام درخواست لکھیں کہ وہ آپ کے گھر کا فون ٹھیک کروادیں۔

05 7. ہماری زندگی میں ماس میڈیا کیوں اہم ہے؟

یا

سینٹرل پروسیسنگ یونٹ کی تفصیل لکھئے۔

04 8. شہریار کی شاعرانہ خوبیاں بیان کیجئے۔

یا

میر حسن کے انداز بیان پر چند لائنیں لکھئے۔



چلا جاتا تھا۔ مکتب کا خیال آتے ہی اُس کو اپنے ہم مکتب یاد آتے ہیں اور وہ زیادہ غمگین ہوتا تھا۔ اور بے اختیار چلا اٹھتا تھا ”ہائے وقت ہائے وقت! ہائے گزرے ہوئے زمانے! افسوس میں نے تجھے بہت دیر میں یاد کیا۔“

- (1) یہ اقتباس کس سبق سے لیا گیا ہے اور کس مصنف نے لکھا ہے؟
- (2) کس خوشی کو دل میں لے کر یہ بڑھا کہاں جاتا تھا؟
- (3) بڑھے کو مکتب کا خیال آتے ہی کیا یاد آتا تھا؟
- (4) بچپن کو یاد کر کے بڑھا بے اختیار کیوں چلا اٹھتا تھا اور کیا کہتا تھا؟

3+1=4

3. نظم کی تعریف لکھ کر مثال کے لیے ایک شعر بھی لکھئے۔

یا

غزل کی تعریف لکھ کر کسی ایک غزل کا شعر لکھئے۔

04

4. انشائیہ کسے کہتے ہیں چند لائنیں لکھئے۔

یا

درخواست نویسی پر چند لائنیں لکھئے۔



حامد کے پاؤں میں جوتے نہیں ہیں سر پر ایک پرانی دھرائی ٹوپی ہے۔ جس کا گونا سیاہ ہو گیا ہے پھر بھی وہ خوش ہے۔ بدنصیب امینہ اپنی کوٹھری میں بیٹھی رو رہی ہے۔ آج عید کا دن ہے اور اس کے گھر میں دانہ نہیں ہے۔ کس نے بلایا تھا اس نگوڑی عید کو اس گھر میں اس کا کام نہیں۔ حامد اندر جا کر دادی سے کہتا ہے تم ڈرنا نہیں اماں میں گاؤں والوں کے ساتھ نہ چھوڑوں گا میں سب سے پہلے آؤں گا بالکل نہ ڈرنا لیکن امینہ کا دل نہیں مانتا تھا کہ حامد اکیلا ہی جائے گا اس بھیڑ میں کہیں کھو نہ جائے۔

(1) یہ اقتباس کس سبق سے لیا گیا ہے اور اس کا مصنف کون ہے؟

(2) حامد عید گاہ کس حالت میں گیا؟

(3) عید کے دن امینہ کیوں رو رہی تھی؟

(4) امینہ حامد کو اکیلے کیوں نہیں جانے دینا چاہتی تھی؟

یا

پچھلا زمانہ اس کی آنکھوں کے سامنے پھرتا ہے اپنا لڑکپن اُسے یاد آتا ہے جب اُس کو کسی چیز کا غم اور کسی بات کی فکر دل میں نہ تھی۔ روپے اشرفی کے بدلے ریوڑی مٹھائی اچھی لگتی تھی پڑھنے کے لئے چھٹی کا وقت جلد آنے کی خوشی میں کتابیں بغل میں لے کر مکتب میں



URDU

(اُردو)

(206)

کل مارکس : 100

وقت : 3 گھنٹے

1. نیچے دئے گئے شعروں کی تشریح کیجئے یہ شعر الگ الگ غزلوں سے لئے گئے ہیں ہر شعر کے  $4+2=6$  شاعر کا نام بھی لکھئے۔

ہم وہاں ہیں جہاں سے ہم کو بھی  
کچھ ہماری خبر نہیں آتی

دوسرا شعر:

ہوں اس کوچے کے ہر ذرہ سے آگاہ  
ادھر مدتوں سے آیا گیا ہوں

درج ذیل اشعار کی تشریح کیجئے اور شاعر کا نام بھی لکھئے۔

اس خامشی میں جائیں اتنے بلند نالے  
تاروں کے قافلے کو میری صدا دراز ہو  
ہر دردمند دل کو رونا مرا رُلا دے  
بے ہوش جو پڑے ہیں شاید انہیں جگا دے



اس سوال نامے میں 19 سوالات ہیں اور 11 صفحے ہیں۔

Code No. 53/AS/3

یہاں رول نمبر ہندسوں میں لکھئے۔

--	--	--	--	--	--	--	--	--	--	--

Set-A

URDU

(اُردو)

(206)

..... رول نمبر الفاظ میں لکھئے  
..... امتحان کی تاریخ اور دن  
..... نگران امتحان کے دستخط 1.  
..... 2.

1. طالب علم اپنے سوال نامے کے پہلے صفحہ پر اپنا رول نمبر ضرور لکھیں۔
2. مہربانی کر کے اپنے سوال نامے کو جانچ لیں کہ تمام صفحات اور سوالات کی اُتتی ہی تعداد ہے جتنی پہلے صفحہ کے سب سے اوپر چھپی ہے۔ اس بات کی بھی جانچ کریں کہ سوالات سیریز میں ہیں۔
3. طالب علم کو A, B, C اور D میں سے کوئی ایک جواب منتخب کرنا ہے اور الگ سے دیئے گئے جواب نامے میں صحیح جواب لکھیں۔
4. معروضی سوالات کے ساتھ ساتھ سبھی سوالات کے جواب دیئے گئے وقت کے اندر دینے ہیں، معروضی سوالات کے لے الگ سے وقت نہیں دیا جائے گا۔
5. طالب علم جوابی کاپی میں رول نمبر کے علاوہ اگر کوئی پہچان کا نشان یا اور کوئی ہدایت لکھتا ہے تو اُسے امتحان سے خارج کر دیا جائے گا۔
6. اپنی جوابی کاپی پر سوال نامے کے کوڈ نمبر 53/AS/3/U-A کو لکھیے۔





This Question Paper consists of 31 questions and 8 printed pages.  
આ પ્રશ્નપત્રમાં 31 પ્રશ્નો અને 8 છપાયેલાં પૃષ્ઠો છે.

Roll No. 

--	--	--	--	--	--	--	--	--	--	--	--

  
રોલ નંબર

Code No. 53/S/O/G  
કોડ નં.

Set - **A**

**GUJARATI**  
(ગુજરાતી)  
(207)

Day and Date of Examination  
(પરીક્ષાનો વાર અને તારીખ)

Signature of Invigilators  
(નિરીક્ષકની સહી)

1. \_\_\_\_\_  
2. \_\_\_\_\_

સામાન્ય નિર્દેશ :

- 1 વિદ્યાર્થી તેનો રોલ નંબર પ્રશ્નપત્રના પહેલા પાને લખે.
- 2 પહેલાં પ્રશ્નપત્રને ચકાસી લેવું. પ્રશ્નપત્રમાં આપેલાં કુલ પાનાં અને પ્રશ્નોની સંખ્યા એટલી જ છે જેટલી પ્રથમ પાના ઉપર છે તે જોઈ લેવું અને પ્રશ્નો ક્રમવાર છે કે નહીં તે ચકાસી લેવું.
- 3 બહુવિકલ્પીય પ્રશ્નોના વિકલ્પો ઘા.ત. (A), (B), (C) અથવા (D) માંથી જે ઉત્તર લખવો હોય તેને આપેલી ઉત્તર પુસ્તિકામાં લખવો.
- 4 બહુવિકલ્પીય પ્રશ્નોની સાથે બધા પ્રશ્નોના ઉત્તર નિર્ધારિત કરેલા સમયમાં આપવા. બહુવિકલ્પીય પ્રશ્નો માટે અલગથી સમય નહીં આપવામાં આવે.
- 5 ઉત્તર પુસ્તિકામાં નિર્દેશ કરેલ સ્થાન સિવાય બીજા કોઈ પણ સ્થાને રોલ નંબર તથા અન્ય ચિહ્ન લખવાથી પરીક્ષાર્થીને અયોગ્ય ઠરાવવામાં આવશે.
- 6 પોતાની ઉત્તર પુસ્તિકા પર પ્રશ્નપત્રની કોડ સંખ્યા 53/S/O/G-A લખવી.



**GUJARATI**  
**(ગુજરાતી)**  
**(207)**

સમય : 3 કલાક]

[કુલ ગુણ : 100

સૂચના :

- 1 બધા પ્રશ્નો અનિવાર્ય છે અને પ્રત્યેક પ્રશ્નની સામે અંક આપેલા છે.
- 2 બહુવિકલ્પીય પ્રશ્નો માટે એક-એક ગુણ નિર્ધારિત છે.
- 3 બહુવિકલ્પીય પ્રશ્નોત્તર લખવા માટે વધારાનો સમય આપવામાં નહીં આવે. બધા પ્રશ્નો આપેલા સમયમાં એક સાથે કરવાના છે.

- 
- 1 'જશોદા તારા કાનુડાને' કાવ્યના કવિ છે : 1  
(A) ઉમાશંકર જોશી (B) નરસિંહ મહેતા  
(C) કાકાસાહેબ કાલેલકર (D) નિરંજન ભગત
  - 2 'કોણ' એક પ્રકારનું ..... કાવ્ય છે. 1  
(A) ગીત (B) પદ  
(C) સોનેટ (D) પ્રકૃતિ
  - 3 ગૌરી કોણ હતી ? 1  
(A) વાર્તાના નાયકની મા (B) વાર્તાના નાયકની કાકી  
(C) વાર્તાના નાયકની પત્ની (D) વાર્તાના નાયકની બહેન
  - 4 નાયકને પરસેવો ક્યારે ગમતો હતો ? 1  
(A) તાવ આવે ત્યારે (B) તડકામાં ઊભો હોય ત્યારે  
(C) ન્હાવા જાય ત્યારે (D) સૂવા જવું હોય ત્યારે



- 5 શિયાળામાં દિવસો કેવા હોય છે ? 1  
 (A) લાંબા (B) ટૂંકા  
 (C) અડધા (D) ગરમ
- 6 'રોટલો રળવો' રૂઢિપ્રયોગનો અર્થ છે - 1  
 (A) કમાણી કરવી (B) રોટલા પકાવવા  
 (C) મહેનત કરવી (D) હારી જવું
- 7 ઔપચારિક ન હોય તેવો પત્ર કયો ? 1  
 (A) વ્યાવસાયિક પત્ર (B) સમવયસ્કને પત્ર  
 (C) અહેવાલ લેખન (D) આવેદન પત્ર
- 8 કાપડના વેપારી ..... 1  
 (A) થોડું થોડું વેચે છે. (B) મીટર મીટર વેચે છે.  
 (C) કિલો કિલો વેચે છે. (D) વાર વાર વેચે છે.
- 9 'પ્રયાગરાજ'ના લેખક કોણ છે ? 1  
 (A) પન્નાલાલ પટેલ (B) ફાધર વાલેસ  
 (C) કાકાસાહેબ કાલેલકર (D) રા. વિ. પાઠક
- 10 નીચેનામાંથી કયું અંગ નિબંધને બંધબેસતું નથી ? 1  
 (A) વિષયવર્ણન (B) ઉપસંહાર  
 (C) પૂર્વભૂમિકા (D) પ્રશ્ન ઉત્તર
- 11 પર્વતને ઊંચકનાર - 1  
 (A) ગિરધારી (B) પર્વતારોહક  
 (C) પર્વતાધિપતિ (D) પર્વતારોહણ



- 12 ગુજરાતની પ્રજા માટે બંધબેસતું ન હોય એવું વિશેષણ - 1  
 (A) સદા જાગરુક (B) સદા વેપારી  
 (C) જગત નાગરિક (D) સાગરતીર્થ નિવાસી
- 13 કૃષ્ણ વૃંદાવનમાં શું કરે છે ? 1  
 (A) ગાયો ચરાવે છે. (B) કૂતરાઓ ભગાડે છે.  
 (C) રમે છે. (D) ગીતો ગાય છે.
- 14 દેવશંકરે કઈ નોકરી સ્વીકારી ? 1  
 (A) ગાયકની (B) માસ્તરની  
 (C) ચોકીદારની (D) પોલીસની
- 15 બાર-બાર વર્ષે ભરાય છે - 1  
 (A) તરણેતરનો મેળો (B) કુંભમેળો  
 (C) હાટ મેળો (D) શરબત મેળો
- 16 'પીળક' ખૂબ જ સરસ રીતે ક્યારે ગાય છે ? 1  
 (A) વર્ષાઋતુ આવે ત્યારે (B) ખૂબ ગરમી પડે ત્યારે  
 (C) માળો બાંધવાની શરૂઆત કરે ત્યારે (D) પાન ખરે ત્યારે
- 17 કવિએ અંધશ્રદ્ધાનાં કેટલાં ઉદાહરણો આપ્યાં છે ? 1  
 (A) ચાર (B) ત્રણ  
 (C) બે (D) પાંચ
- 18 મૂરખ પાણી જોઈને શું કરે છે ? 1  
 (A) કપડા ધોવે છે. (B) ખાવાનું બનાવે છે.  
 (C) સ્નાન કરે છે. (D) માટલા ભરે છે.



- 19 કવિ ઘેલી કોને કહે છે ? 1
- (A) પતંગિયાને (B) ચકલીને  
(C) ચંબેલીને (D) ફલને
- 20 'મારી મા'ની નાયિકાને કોનામાં ભગવાનનું રૂપ દેખાય છે ? 1
- (A) ભાઈ-બહેનમાં (B) માતા-પિતામાં  
(C) છોકરાઓમાં (D) ગામના લોકોમાં
- 21 (ક) નીચે આપેલા પ્રશ્નોમાંથી ગમે તે ત્રણ સવાલોના જવાબ લખો : 6
- (i) શંકરલાલે કહેલા શબ્દોની દેવશંકર પર શી અસર થઈ ?  
(ii) નંદુના કરેલા પ્રહારની નાયક પર શી અસર થાય છે ?  
(iii) 'એક પ્રશ્ન' પાઠમાં નાયકના ઘરમાં કયો પ્રસંગ બન્યો હતો ?  
(iv) વ્યાયામથી થતાં ફાયદાઓ જણાવો.  
(v) 'સવ્યસાચી' કોને કહેવાય છે ?
- (ખ) નીચે આપેલા પ્રશ્નોમાંથી ગમે તે ત્રણ સવાલોના જવાબ એક વાક્યમાં લખો : 3
- (i) 'સૂર્યનું સેવન' પાઠના નાયકને માનવજીવન કેવું લાગે છે ?  
(ii) મોટાગામમાં બદલી થવાથી દેવશંકરને શું નુકસાન થયું ?  
(iii) 'અક્ષયવટ' ક્યાં આવેલો છે ? તે વિશે લોકોની શી માન્યતા છે ?  
(iv) ફાધર વાલેસના મતે આબાદી એટલે શું ?  
(v) 'મારી મા'ની નાયિકાએ પોતાની માનો પરિચય કેવી રીતે કરાવ્યો ?
- 22 (ક) નીચે આપેલા સવાલોમાંથી ગમે તે ત્રણ સવાલોના જવાબ લખો : 6
- (i) પ્રકૃતિમાં ઈશ્વર ક્યા ક્યા સ્વરૂપે વસેલો છે ? 'કોણ' કાવ્યના આધારે લખો.  
(ii) પતંગિયું અને ચંબેલીના સમન્વયથી પરી કેવી રીતે બની ?  
(iii) 'એ લોકો' કાવ્યમાં કવિને શું થવું છે ? શા માટે ?  
(iv) 'જૂનું પિયરઘર' કાવ્યમાં નાયિકાના મનમાં ક્યા સ્મૃતિચિત્રો સ્મૃતિપટ પર આવે છે ?  
(v) અખાએ 'છપ્પા' કાવ્યમાં ક્યા ત્રણ દાંભિક આચરણો કહ્યા છે ?



- (ખ) નીચે આપેલા સવાલોમાંથી ગમે તે ત્રણ સવાલોના જવાબ એક વાક્યમાં લખો : 3
- (i) “તને જોઈ જોઈ તોય અજાણી” કાવ્યની નાયિકા ક્યાં ઊભેલી હતી ?
- (ii) વસંત જે માર્ગેથી પસાર થાય છે, તે માર્ગ કેવો લાગે છે ?
- (iii) ચંબેલી પતંગિયા પાસે પાંખો શા માટે માંગે છે ?
- (iv) ‘ગુર્જર ભારતવાસી’ કાવ્યમાં ક્યા રાજ્યના લોકોનું ગાન કરવામાં આવ્યું છે ?
- (v) ‘મુક્તક’ કાવ્ય દ્વારા કવિ શો સંદેશ આપે છે ?
- 23 (ક) નીચેના વાક્યો કોણ કોને કહે છે ? (ગમે તે ત્રણ લખો) : 3
- (i) “કેસની હકીકત જાણ્યા સિવાય શો ન્યાય કરું ?”
- (ii) “આનું નામ કુસ્તી ન કહેવાય, હું તમને અડકું એ પહેલાં સૂઈ કેમ જાઓ છો ?”
- (iii) “મને માફ કરજો મહારાજ, મારી ભૂલ થઈ !”
- (iv) “આ ગામમાં, ડોક્ટર કોઈ નથી, તું ડોક્ટર બનીશ ને ?”
- (v) “મારા બધા સવાલોનો જવાબ ઈંટોએ આપ્યો છે.”
- (ખ) ગમે તે બે ભાવપંક્તિઓનું ભાવસૌંદર્ય સ્પષ્ટ કરો : 6
- (i) “હતો દુખિયો થયો સુખિયો, સમજ્યો છૂટ્યો રણથી.”
- (ii) “તિલક કરતાં ત્રેપન થયાં  
જપ માળાનાં નાકાં ગયાં.”
- (iii) “સફળતા જિંદગીની હસ્તરેખામાં નથી હોતી,  
ચણાયેલી ઈમારત એના નકશામાં નથી હોતી.”
- 24 ગમે તે બેના મુદ્દાસર ઉત્તર લખો : 6
- (i) નાયક અને પહેલવાન વચ્ચેની કુસ્તીનું વર્ણન.
- (ii) ‘કસોટી’ પાઠમાં ઉપસતી અંગ્રેજોની ખાસિયતો જણાવો.
- (iii) વિનુ માંકડના ક્રિકેટર તરીકેના વ્યક્તિત્વનાં પાસાંઓનું વર્ણન.
- 25 ગમે તે એક વિષય પર આશરે 200 શબ્દોમાં નિબંધ લખો : 10
- (ક) માતૃપ્રેમ
- (ખ) જો હું વૃક્ષ હોઉં તો
- (ગ) મારા જીવનનો લક્ષ્ય
- (ઘ) આપણાં જીવનમાં વ્યાયામનું મહત્ત્વ
- (ઙ) આપણું સ્વર્ણિમ ગુજરાત.



- 26 તમારી શાળાના પુસ્તકાલય માટે કેટલાંક જરૂરી પુસ્તકોનો 'ઓર્ડર' આપતો પત્ર કોઈ જાણીતા પુસ્તક વિકેતાને લખો. 8

**અથવા**

શાળામાં શિક્ષક તરીકે નોકરી મેળવવા સર્વોદય વિદ્યાલયના પ્રધાનાચાર્યાને અરજી લખો.

- 27 ગમે તે એકનો વિચાર-વિસ્તાર કરો : 6
- (ક) જનસેવા એ જ પ્રભુસેવા
- (ખ) વિદ્યા વિનયથી શોભે છે.

- 28 નીચેનો ગદ્યખંડ ધ્યાનપૂર્વક વાંચી સમજી આપેલા સવાલોના જવાબ લખો : 5
- ફકરો :**

આપણને આપણી ભવ્ય-સુંદર સંસ્કૃતિની રક્ષા કરવાનું કહેવામાં આવ્યું છે. પ્રાચીન કાળમાં આપણો ભારતદેશ સામાજિક, આર્થિક, ધાર્મિક, આધ્યાત્મિક વગેરે ક્ષેત્રમાં અત્યંત આગળપડતો હતો. તેણે 'જગદ્ગુરુ'નું સ્થાન શોભાવ્યું હતું. તે સમયે ભારતભૂમિનો સુવર્ણયુગ હતો. ભારતભૂમિ સ્વર્ગ તુલ્ય હતી. ભારતના ઋષિ-મુનિઓ, સાધુ-સંતો, મહાત્માઓ, મહાકવિઓ – બધાએ ભારતને અમૂલ્ય વિચાર-રત્નોનો વારસો આપ્યો છે. પરિણામે ભારતવાસીઓની રહેણી-કરણી, દેવોની રહેણી-કરણી જેવી હતી, પરંતુ આજના જમાનામાં ભારતના લોકો પાશ્ચાત્ય સંસ્કૃતિનું આંધળું અનુકરણ કરી ત્યાંની અનિષ્ટ રહેણી-કરણી અપનાવી રહ્યા છે. તે જરા પણ યોગ્ય નથી.

**પ્રશ્નો :**

- (i) પ્રાચીનકાળમાં ભારતદેશ કયા ક્ષેત્રોમાં આગળ પડતો હતો ?
- (ii) ભારતને અમૂલ્ય વિચાર-રત્નોનો વારસો કોણે-કોણે આપ્યો ?
- (iii) ભારતની રહેણી-કરણી કેવી હતી ? સમજાવો.
- (iv) ભારતના લોકો કોનું આંધળું અનુકરણ કરે છે ?
- (v) આ ગદ્યખંડને યોગ્ય શીર્ષક આપો.



29 એક શાળામાં રમત-હરીફાઈમાં 400 વિદ્યાર્થીઓએ ભાગ લીધો. તેમાંથી ગુલાબ ટુકડીના 200 વિદ્યાર્થીઓ, મોગરો ટુકડીના 50 અને કમળ ટુકડીના 50 અને ચમેલી ટુકડીના 100 વિદ્યાર્થીઓ હતા. આ વિગતો વર્તુળ આલેખમાં ટકા પ્રમાણે દર્શાવો. 3

30 સૂચના મુજબ લખો :

(ક) વિરોધી શબ્દો લખો : (ગમે તે બે) 2

પ્રાચીન, સંપ, સજીવ, કઠિન

(ખ) સમાનાર્થી શબ્દો લખો : (ગમે તે બે) 2

ચતુર, અતિથિ, ઉપકાર, આજ્ઞા

(ગ) સંધિ-વિચ્છેદ કરો : (ગમે તે બે) 2

કાર્યાલય, સુખાંત, પ્રત્યેક, ભાવેશ

(ઘ) રૂઢિપ્રયોગોના અર્થ લખો : (ગમે તે બે) 2

પેટે પાટા બાંધવા, મોં પડી જવું, લાલપીળા થવું, ધૂળ નાખવી

(ઙ) શબ્દસમૂહ માટે એક શબ્દ લખો : (ગમે તે બે) 2

વ્રજમાં રહેતી નારી .....

કુંજમાં વિહાર કરનાર .....

જેને હદ નથી તેવી .....

દેશ માટે પ્રાણ આપનારો .....

31 નીચેના મુદ્દા ધ્યાનપૂર્વક વાંચી તે પરથી વાર્તા લખો : 5

રાજાનો સેવક મિત્ર વાનર — ઊંઘી ગયેલા રાજાને પંખો નાખવો — માખીનું રાજાની છાતી પર બેસવું — માખીને ઉડાડવાનો પ્રયત્ન — નિષ્ફળ — વાનરનો તલવારથી પ્રહાર — રાજાના ટુકડા — મૂર્ખ સેવક — બોધ.





This question paper consists of 31 questions and 8 printed pages.

Roll No.   
ರೋಲ್ ನಂ.

Code No. 53/S/O/K

Set - A

KANNADA

ಕನ್ನಡ  
(208)

Day and Date of Examination

ಪರೀಕ್ಷೆಯ ದಿನ ಮತ್ತು ತಾರೀಖು \_\_\_\_\_

Signature of Invigilators

1.

ಉಸ್ತು ವಾರಿದಾರರ ರುಜು

2.

ಸಾಮಾನ್ಯ ಸೂಚನೆಗಳು :

- 1 ವಿದ್ಯಾರ್ಥಿಗಳು ಪ್ರಶ್ನೆಪತ್ರಿಕೆಯ ಮೊದಲ ಪುಟದಲ್ಲಿ ತಮ್ಮ ರೋಲ್ ನಂಬರ್ ಬರೆಯಬೇಕು.
- 2 ನಿಮಗೆ ಕೊಟ್ಟಿರುವ ಪ್ರಶ್ನೆಪತ್ರಿಕೆಯ ಮೊದಲ ಮೇಲ್ಭಾಗದಲ್ಲಿ ಕೊಟ್ಟಿರುವ ಒಟ್ಟು ಪುಟಗಳ ಸಂಖ್ಯೆ ಹಾಗೂ ಒಟ್ಟು ಪ್ರಶ್ನೆಗಳ ಸಂಖ್ಯೆಗೆ ತಕ್ಕಂತೆ, ಪ್ರಶ್ನೆಪತ್ರಿಕೆಯಲ್ಲಿ ಎಲ್ಲಾ ಪುಟಗಳೂ ಹಾಗೂ ಪ್ರಶ್ನೆಗಳು ಮುದ್ರಿತವಾಗಿದೆಯೇ ಎಂದು ಪರೀಕ್ಷಿಸಿ, ಪ್ರಶ್ನೆಗಳ ಕ್ರಮಸಂಖ್ಯೆ ಸರಿಯಾಗಿದೆಯೇ ಎಂದು ಪರೀಕ್ಷಿಸಿ.
- 3 ವಸ್ತು ನಿಷ್ಠ ಪ್ರಶ್ನೆಗಳಿಗೆ ಸೂಕ್ತ ಉತ್ತರವನ್ನು ಪ್ರಶ್ನೆಯ ಜೊತೆಯಲ್ಲಿ ನೀಡಿರುವ ಉತ್ತರಗಳಿಂದಲೇ ಆರಿಸಿಕೊಳ್ಳಬೇಕು. ನಿಮಗೆ ಕೊಟ್ಟಿರುವ ಬೇರೆ ಉತ್ತರ ಪತ್ರಿಕೆಯಲ್ಲಿ ಸರಿಯಾದ ಉತ್ತರ ಸಂಖ್ಯೆ (A), (B), (C), (D) ಯನ್ನು ಬರೆಯಬೇಕು.
- 4 ಎಲ್ಲಾ ಪ್ರಶ್ನೆಗಳಿಗೂ ನಿರ್ದಿಷ್ಟ ಸಮಯದಲ್ಲಿಯೇ ಉತ್ತರ ಬರೆಯಬೇಕು. ವಸ್ತುನಿಷ್ಠ ಪ್ರಶ್ನೆಗಳಿಗೆ ಬೇರೆ ಸಮಯವನ್ನು ನೀಡಲಾಗುವುದಿಲ್ಲ.
- 5 ನಿಮ್ಮ ಉತ್ತರ ಪತ್ರಿಕೆಯಲ್ಲಿ ಕೊಟ್ಟಿರುವ ನಿರ್ದಿಷ್ಟ ಜಾಗದಲ್ಲಿ ಮಾತ್ರ ನಿಮ್ಮ ರೋಲ್ ನಂಬರ್ ಬರೆಯಬೇಕು. ಹಾಗಲ್ಲದೇ ಬೇರೆ ಎಲ್ಲಿಯೂ ನಿಮ್ಮ ಗುರುತು ನೀಡಬಹುದಾದ ನಿಮ್ಮ ರೋಲ್ ನಂಬರ್ ಅನ್ನು ಬರೆಯಕೂಡದು. ಒಂದು ವೇಳೆ ಹಾಗೇನಾದರೂ ಕಂಡುಬಂದಲ್ಲಿ ಅಂತಹ ವಿದ್ಯಾರ್ಥಿಗಳನ್ನು ಅನೂರ್ಜಿತಗೊಳಿಸಲಾಗುವುದು.
- 6 ನಿಮ್ಮ ಪ್ರಶ್ನೆ ಪತ್ರಿಕೆಯ ಕೋಡ್ ನಂಬರ್ 53/S/O/K-A ಉತ್ತರ ಪತ್ರಿಕೆಯಲ್ಲಿ ಬರೆಯಿರಿ.

53/S/O/K—208-A ]

1



[ Contd...

# KANNADA

ಕನ್ನಡ  
(208)

ಸಮಯ : 3 ಗಂಟೆಗಳು ]

[ಗರಿಷ್ಠ ಅಂಕ : 100

- ಸೂಚನೆಗಳು : (1) ಎಲ್ಲಾ ಪ್ರಶ್ನೆಗಳಿಗೆ ಉತ್ತರಗಳನ್ನು ಉತ್ತರಪುಸ್ತಕದಲ್ಲಿ ಬರೆಯಿರಿ.  
(2) ಪ್ರಶ್ನೆ ಮತ್ತು ಉಪಪ್ರಶ್ನೆಗಳ ಸಂಖ್ಯೆಗಳನ್ನು ಸರಿಯಾಗಿ ಬರೆಯಿರಿ.  
(3) ಪ್ರಶ್ನೆಸಂಖ್ಯೆ 1 ರಿಂದ 11 ರ ವರೆಗೆ 4 ಆಯ್ಕೆಗಳನ್ನು ಕೊಡಲಾಗಿದೆ. ಅತ್ಯಂತ ಸೂಕ್ತವಾದುದನ್ನು ಆಯ್ಕೆಮಾಡಿ ಉತ್ತರಿಸಿರಿ.

- 1 ಹುಯೇನ್ ಸ್ಯಾಂಗನು ತೀರಿಹೋದ ವರ್ಷ ..... 1  
(A) ಕ್ರಿ.ಶ. 664 (B) ಕ್ರಿ.ಶ. 667  
(C) ಕ್ರಿ.ಶ. 864 (D) ಕ್ರಿ.ಶ. 764
- 2 ಸವಿತಾ ನಾಗಭೂಷಣ ಅವರ ಜಿಲ್ಲೆ ..... 1  
(A) ಬೆಂಗಳೂರು (B) ಮಂಗಳೂರು  
(C) ಚಿಕ್ಕಮಗಳೂರು (D) ಹಾಸನ
- 3 ಅಶೋಕವನದಲ್ಲಿ ಇರುವ ದೇವಾಲಯ ..... 1  
(A) ಮಹಾಕಾಳಿ (B) ಭದ್ರಕಾಳಿ  
(C) ದುರ್ಗಾ (D) ದ್ಯಾಮವ್ವ
- 4 ಮರಿದುಂಬಿಯಾಗಿ ಹುಟ್ಟಬೇಕು ಎಂದು - ಹೇಳಿದನು. 1  
(A) ರನ್ನ (B) ಪೊನ್ನ  
(C) ಪಂಪ (D) ಜನ್ನ
- 5 ಜಾತ್ರೆಯಲ್ಲಿ ನೆರೆದರೆ ಈ ರೋಗ ಬರುತ್ತದೆ 1  
(A) ಸಿಡುಬು (B) ಮೈಲಿ  
(C) ಕಾಲರಾ (D) ಫ್ಲೆಗ್
- 6 ಮತದ ಬಿರುಕುಗಳನ್ನು ..... 1  
(A) ಮರೆವೆ (B) ತೊರೆವೆ  
(C) ಬಿರಿವೆ (D) ಕರೆವೆ



- 7 ಓಟುರುಕ ಎಂದರೆ ..... 1  
 (A) ನಾಯಿ (B) ಕೋತಿ  
 (C) ಆಮೆ (D) ಹಾವು
- 8 ರಾಕ್ಷಸರಿಬ್ಬರೂ ಸತ್ತದ್ದು ಇದರ ಕತ್ತನ್ನು ಕತ್ತರಿಸಿದರಿಂದ. 1  
 (A) ಕೋಗಿಲೆ (B) ಗಿಳಿ  
 (C) ಪಾರಿವಾಳ (D) ಕಾಗೆ
- 9 ನಂಬಗೀನ ಸೋರಿದರ ..... ಇಲ್ಲಾ. 1  
 (A) ಛಲ (B) ಕಳೆ  
 (C) ಬಲ (D) ಸಂತೋಷ
- 10 'ಹೊಂಬಣ್ಣ' ಇದು ಈ ಸಮಾಸದ ನಿಯಮದಲ್ಲಿ ಬರುತ್ತದೆ. 1  
 (A) ದ್ವಿಗು (B) ಬಹುವ್ರೀಹಿ  
 (C) ಕರ್ಮಧಾರಯ (D) ಅಂಶಿ
- 11 ಪದೇಪದೇ ವೈದ್ಯರನ್ನು ಆಸ್ಪತ್ರೆಯನ್ನು ಬದಲಾಯಿಸುವುದು ..... 1  
 (A) ಉತ್ತಮ (B) ಕ್ಷೇಮದಲ್ಲಿ  
 (C) ಒಳ್ಳೆಯದು (D) ಆರೋಗ್ಯಕರ
- 12 ಕೆಳಗೆ ಕೊಟ್ಟ ಗದ್ಯಭಾಗವನ್ನು ಓದಿಕೊಂಡು ಕೆಳಕಂಡ ಪ್ರಶ್ನೆಗಳಿಗೆ ಉತ್ತರಿಸಿರಿ  
 ಅನೇಕ ಬಾರಿ ಹಲವರು ನಮ್ಮಲ್ಲಿ ನೈತಿಕ ಮಟ್ಟ ಇರದು ಬಹಳ ಕೆಳಮಟ್ಟಕ್ಕೆ ಇಳಿದಿದೆ ಎಂದು ಉದ್ಧಾರ  
 ತೆಗೆಯುವುದುಂಟು. ಅದುಕೇಲಮಟ್ಟಿಗೆ ನಿಜವೂ ಹೌದು, ಆದರೆ ಅದಕ್ಕೆ ಕಾರಣಗಳಿಲ್ಲದೆ ಇಲ್ಲ ಇಂಥ  
 ಕಾರಣಗಳಲ್ಲಿ ಮುಖ್ಯವಾಗಿ ನಮ್ಮ ಮೌಲ್ಯಗಳಲ್ಲಿಯ ಬದಲಾವಣೆ ಒಂದಾಗಿದೆ. ಈ ಬದಲಾವಣೆ ಕಾಲಾಂತರದಿಂದ  
 ನಡೆದೇಇದೆ. ಇದಕ್ಕೇ ಇತಿಹಾಸವೇ ಸಾಕ್ಷಿಯಾಗಿದೆ. ಯಾವುದೇ ದೇಶದಲ್ಲಿ ಒಂದು ಕಾಲದಲ್ಲಿ ಸದ್ಗುಣಿಗಳಿಗೆ  
 ಗೌರವ ಸಲ್ಲುತ್ತಿದ್ದರೆ ಮತ್ತೊಂದು ಕಾಲದಲ್ಲಿ ಯೋಧನಿಗೆ ಇನ್ನೊಂದು ಕಾಲದಲ್ಲಿ ಮೇಧಾವಿಗೆ, ಮಗದೊಂದು  
 ಕಾಲದಲ್ಲಿ ಶ್ರೀಮಂತನಿಗೆ ಗೌರವ ಸಲ್ಲುತ್ತದೆ. ಈಗಿನ ಕಾಲದಲ್ಲಿ ಗೌರವವನ್ನು ಆತನ ಬ್ಯಾಂಕಿನಲ್ಲಿರುವ ಹಣ,  
 ಅವನು ವಾಸಿಸುವ ಮನೆ, ಅವನು ಓಡಾಡುವ ವಾಹನ ಇವುಗಳ ಮೇಲೆ ನಿರ್ಣಯಿಸುವ ಪ್ರವೃತ್ತಿ ಸ್ವಾಭಾವಿಕವಾಗಿ  
 ಹೆಚ್ಚಾಗಿದೆ. ಸಾಮಾನ್ಯ ಮನುಷ್ಯನು ಈ ಭೌತಿಕ ಸಾಧನಗಳೇ ಸುಖವನ್ನು ತರಬಲ್ಲವೆಂದು ನಂಬಿ ಅವುಗಳಿಗಾಗಿ  
 ಹಾತೊರೆದು ಕೊನೆಗೆ ಅವುಗಳಿಂದ ಸುಖ ಉಂಟಾಗಲಾರದೆಂದು ಮನವರಿತು ನಿರಾಶನಾಗುತ್ತಾನೆ. ಹೀಗೆ  
 ಸದ್ಗುಣಿಗಳೆ ಶ್ಲಾಘನೆ ಸಿಗದೆ ಜಗತ್ತಿನಲ್ಲಿ ಮನುಷ್ಯ ತನ್ನಲ್ಲದ್ದ ಮಾನವೀಯತೆಯನ್ನು ಕಳೆದುಕೊಳ್ಳುತ್ತಾನೆ.



ಪ್ರಶ್ನೆಗಳು :

- (1) ಕೆಳಮಟ್ಟಕ್ಕೆ ಇಳಿದಿರುವುದು ..... 1  
(A) ನೀರಿನಮಟ್ಟ (B) ನೈತ್ರಿಕಮಟ್ಟ  
(C) ಗರಿಷ್ಠಮಟ್ಟ (D) ಕನಿಷ್ಠಮಟ್ಟ
- (2) ಎಷ್ಟುಬಾರಿ ಉದ್ಧಾರ ತೆಗೆಯುವುದುಂಟು ? 1  
(A) ಕೆಲವುಬಾರಿ (B) ಹಲವುಬಾರಿ  
(C) ಅನೇಕಬಾರಿ (D) ಸಾಕಷ್ಟುಬಾರಿ
- (3) ಎಷ್ಟು ಮಟ್ಟಿಗೆ ಉದ್ಧಾರ ತೆಗೆಯುವುದು ನಿಜ ? 1  
(4) ಇತಿಹಾಸ ಯಾವುದಕ್ಕೆ ಸಾಕ್ಷಿಯಾಗಿದೆ ? 2  
(5) ಕಾಲಕ್ಕೆ ತಕ್ಕ ಹಾಗೆ ಯಾರು ಯಾರಿಗೆ ಗೌರವ ಸಲ್ಲುತ್ತದೆ ? 2  
(6) ಸ್ವಾಭಾವಿಕವಾಗಿ ಹೆಚ್ಚಾಗಿರುವುದು ಯಾವುದು ? 2  
(7) ಮನುಷ್ಯ ಯಾವುದಕ್ಕಾಗಿ ಹಾತೊರೆಯುತ್ತಾನೆ ? 1  
(8) ಸದ್ಗುಣ ಮಾನವೀಯತೆಯನ್ನು ಹೇಗೆ ಕಳೆದುಕೊಳ್ಳುತ್ತಾನೆ ? 2  
(9) 'ಮಾನವೀತೆ' ಈ ಪದದ ವಿರುದ್ಧ ಪದ ಬರೆಯಿರಿ ? 1

13 ಕೊಟ್ಟಿರುವ ಪದ್ಯವನ್ನು ಓದಿ, ಕೊಟ್ಟ ಪ್ರಶ್ನೆಗಳಿಗೆ ಉತ್ತರಿಸಿರಿ

ಭಾರತ ದೇವಿಯ ಭವ್ಯ ಕೀರುತಿ  
ಕರ್ಣಾಟ ದೇವಿಯ ದಿವ್ಯ ಆರತಿ  
ಭಾರತ ಮಾತೆಗೆ ಜಯವಾಗಲಿ - ಜಯವಾಗಲಿ  
ಕರ್ಣಾಟ ಮಾತೆಗೆ ಜಯವಾಗಲಿ - ಜಯವಾಗಲಿ  
ಗಂಧ ಕುಸುಮಗಳ ಹಿಮಾಚಲ  
ರಾಗ ನಾದ ಕುಂಕುಮ ಸ್ವರಾಚಲ  
ಮಾವು ಬೇವು ಫಲ ಬಲಾಬಲ  
ಹಕ್ಕಿ ಸಂಕುಲದ ಜೀವಜಾಲ  
- ಅರವಿಂದ ಮಹಾಗತ್ತಿ

ಪ್ರಶ್ನೆಗಳು :

- (1) ಭಾರತದೇವಿಯ ಭವ್ಯ - 1  
(A) ಆರತಿ (B) ಭಾರತಿ  
(C) ಕೀರುತಿ (D) ಸಾರಥಿ
- (2) ಭಾರತಮಾತೆಗೆ ಜಯವಾಗಲಿ. 1  
ಮಾತೆ - ಇದಕ್ಕೆ ಎರಡು ಸಮಾನಾರ್ಥಕ ಪದಗಳನ್ನು ಬರೆಯಿರಿ
- (3) ಮಾವು ಬೇವು ಫಲ ಬಲಾಬಲ 2  
ಮಾವು ಬೇವು ಫಲಗಳ ರುಚಿ ವಿಶೇಷತೆಯನ್ನು ಬರೆಯಿರಿ
- (4) ಹಕ್ಕಿ ಸಂಕುಲದ ಜೀವಜಾಲ. 2  
ಮಧುರ ಧ್ವನಿಯನ್ನು ನೀಡುವ 4 ಹಕ್ಕಿಗಳ ಹೆಸರನ್ನು ಬರೆಯಿರಿ.



- 14 ಸಂತೆಯೊಳಗೆ ಮನೆಯನ್ನು ಮಾಡಿ ಯಾವುದಕ್ಕೆ ನಾಚಬಾರದು ? 1
- 15 ಶೋಲಿಗರು ಯಾರ ಮಕ್ಕಳು ? 1
- 16 ಸನಾತನ ಧರ್ಮ ಯಾವುದು ? 1
- 17 ಕನಕದಾಸರ ಅಂಕಿತ ನಾಮ ಯಾವುದು ? 1
- 18 (a) ಗಾಂಧಿಜಿಯವರಿಗೆ ಅಹಿಂಸೆಯ ಪಾಠ ಯಾರಿಂದ ದೊರೆಯಿತು ? 1  
(b) ಅತ್ಯಂತ ಚಿನ್ನಯ, ಇತ್ಯಾದಿ ಮನ್ವರತಕ - ಇಲ್ಲಿ ಗುಂಡಿಗೆ ಸೇರದ ಪದ ? 1
- 19 ಕೆಳಗಿನವುಗಳಿಗೆ ಉತ್ತರಿಸಿರಿ  
(a) ಇಲ್ಲಿರುವ ಪದಗಳಲ್ಲಿ ಯಾವುದಾದರೂ ಎರಡನ್ನು ಬಿಡಿಸಿ ಬರೆಯಿರಿ 2  
(1) ಅಜಂತ  
(2) ಸದುತ್ತರ  
(3) ಅಬ್ಬಿ

ಅಥವಾ

- (a) ಇಲ್ಲಿರುವ ಯಾವುದಾದರೂ ಎರಡನ್ನು ಕೂಡಿಸಿ ಬರೆಯಿರಿ 2  
(1) ಏಕ + ಏಕ  
(2) ಜಲ + ಓಘ  
(3) ಮಹಾ + ಔದಾರ್ಯ
- (b) 'ವಂತ' ಪ್ರತ್ಯಯ ಸೇರಿಸಿ 2 ಶಬ್ದ ತಯಾರಿಸಿರಿ. 2

ಅಥವಾ

- (b) 'ಇಂದ' ಪ್ರತ್ಯಮಕ್ಕೆ ಸಂಬಧಿಸಿ ಎರಡು ಶಬ್ದಗಳನ್ನು ಮಾಡಿರಿ.  
(c) ಕೊಟ್ಟಿರುವ ವಾಕ್ಯಗಳಲ್ಲಿ ಗೆರೆ ಎಳೆದಿರುವ ಶಬ್ದಕ್ಕೆ ವಿರುದ್ಧಪದ ಬರೆಯಿರಿ 2  
(1) ವಿದ್ಯಾರ್ಥಿಗಳು ಬೆಳಗಿನ ಜಾವದಲ್ಲಿ ಏಳುವರು  
(2) ಲೇಖಕರ ಪರಮ ಶತ್ರು ಗಡಿಯಾರ

ಅಥವಾ

- (c) ಕೆಳಗೆ ಕೊಟ್ಟಿರುವ ಯಾವುದಾದರೂ ಎರಡಕ್ಕೆ ಜೋಡಿಪದ ಬರೆಯಿರಿ 2  
(1) ಆಟ  
(2) ತಿಂಡಿ  
(3) ಕೂಲಿ



- 20 ಕೆಳಗೆ ಕೊಟ್ಟಿರುವ ದ್ವಿರುಕ್ತಿಗಳಲ್ಲಿ ಯಾವುದಾದರೂ ಎರಡನ್ನು ನೀಮ್ಮ ವಾಕ್ಯಗಳಲ್ಲಿ ಪ್ರಯೋಗಿಸಿರಿ. 2
- (1) ತುತ್ತತುದಿ
- (2) ಕಟ್ಟಕಡೆ
- (3) ಮೊಟ್ಟಮೊದಲು
- 21 'ಅರಮನೆ' ಈ ಪದವು ಯಾವ ಸಮಾಸದ ನಿಯಮದಲ್ಲಿ ಬರುತ್ತದೆ ? 1
- 22 ದುಡಿಯುವ ಎತ್ತುಗಳ ಮಹತ್ವವನ್ನು ನಿಮ್ಮ ಮಾತುಗಳಲ್ಲಿ ಬರೆಯಿರಿ 4
- 23 ಪಂಪ ಮನುಷ್ಯರ ಉತ್ತಮ ಗುಣಗಳನ್ನು ಹೇಗೆ ನಿರೂಪಿಸಿದ್ದಾನೆ ? 5
- 24 ಕುವೆಂಪು ಅವರು ಭಾರತ ಮಾತೆಯನ್ನು ಹೇಗೆ ವರ್ಣಿಸಿದ್ದಾರೆ ? 5

ಅಥವಾ

ಕೌರಿಕನ ಪಾತ್ರವನ್ನು ವಿವರಿಸಿರಿ

5

- 25 ಕೊಟ್ಟಿರುವ ಪದಗಳಲ್ಲಿ ಯಾವುದಾದರೂ ಎರಡಕ್ಕೆ ಎರಡು ಶಬ್ದಗಳನ್ನು ಬಳಸಿಕೊಂಡು 2+2=4  
ಅರ್ಥಪೂರ್ಣವಾಗಿ ನಿಮ್ಮ ವಾಕ್ಯಗಳಲ್ಲಿ ಬರೆಯಿರಿ.
- (a) ಬಾಷೆ/ಭಾಷೆ
- (b) ಪ್ರದಾನ/ಪ್ರಧಾನ
- (c) ಭಾನು/ಬಾನು

- 26 ಜೆ. ಎನ್. ಎಸ್. ವಿದ್ಯಾಸಂಸ್ಥೆಯಲ್ಲಿನ ಪ್ರವೇಶ ದಾಖಲಾತಿಯನ್ನು ಕೆಳಗೆ ಕೊಟ್ಟಿರುವ ಅಂಕಿ-ಅಂಶಗಳ 5  
ಸಹಾಯದಿಂದ ಸರಳ ಸ್ತಂಭ (ದಂಡ) ಚಿತ್ರವನ್ನು ರಚಿಸಿರಿ.

ವರ್ಷ	1991	1992	1993	1994	1995	1996	1997	1998	1999	2000
ಪ್ರವೇಶ ದಾಖಲಾತಿ	6	8	2	5	14	2	5	7	9	20

ಅಥವಾ



ನೀವು ರಾಜು ಹಾವೇರಿಯವರು, ನಿಮ್ಮ ಸ್ನೇಹಿತ ರತ್ನಾಕರ, ಅಲ್ಮಟ್ಟಿ, ಬೀಜಾಪುರ ಜಿಲ್ಲೆ ಇವರಿಗೆ 400 ರೂಪಾಯಿಗಳನ್ನು ಕಳುಹಿಸಲು ಮನಿಆರ್ಡರ್ ಅರ್ಜಿ ಭರ್ತಿ ಮಾಡಿರಿ.

ಅವರಿಗೆ,

ಅಂಚೆಮನುಷ್ಯ

ಅಂಚೆ ಕಛೇರಿ .....

ಪಿನ್‌ಕೋಡ್ .....

ಭಾರತದ ಮನಿಆರ್ಡರ್

ಸಂದಾಯಿಸಿದ ಹಣ (ಅಕ್ಷರಗಳಲ್ಲಿ) .....

ರೂಪಾಯಿಗಳು (ಸಂಖ್ಯೆಯಲ್ಲಿ) .....

ಅವರಿಗೆ

.....

.....

.....

ಪಿನ್‌ಕೋಡ್ .....

ದಿನಾಂಕ : .....

ಎಂ. ಓ. ನಂ. ....

ಕಳುಹಿಸುವವರ ಸಹಿ

ಅಂಚೆ ಇಲಾಖಾ ಗುರುತಿನ ಪತ್ರ

ದಿನಾಂಕ : .....

ಸಂದಾಯಿಸಿದ ಅಂಚೆ ಹೆಸರು

.....

(ಹಣಕಳುಹಿಸುವವರ ಪೂರ್ಣವಿಳಾಸ)

.....

.....

ಪಿನ್‌ಕೋಡ್ .....

ಸಂಪರ್ಕಕ್ಕಾಗಿ

.....

.....

.....

ನಿಮ್ಮ ಪ್ರೀತಿಯ

.....



- 27 ಶಾಲಾಸಾಬಿಯ ಪಾತ್ರವನ್ನು ನಿಮ್ಮ ಮಾತುಗಳಲ್ಲಿ ಬರೆಯಿರಿ 5
- 28 ಈ ವಾಕ್ಯಗಳನ್ನು ಓದಿ, ನೀರ್ದೇಶನದಂತೆ - ಉತ್ತರಿಸಿರಿ. 1×5=5
- (1) ಯೇಸುಕ್ರಿಸ್ತನು ಪಾಪ ಪರಹರಕ್ಕಾಗಿ ಪ್ರಾಣಕೊಟ್ಟನು (ಶುದ್ಧರೂಪದಲ್ಲಿ ಬರೆಯಿರಿ)
  - (2) ರಾಮನು ರಾವಣನನ್ನು ಕೋಂದನು: ರಾಮನು ಇದರ ವಚನರೂಪ .....
  - (3) ಊರೂರು : ದ್ವಿರುಕ್ತಿ :: ಊರು-ಕೀರಿ :
  - (4) ಗಿರೇಶನು ಶಾಲೆಗೆ ಏಕೆ ಹೋದನು ತಿಳಿಸಿರಿ  
(ಇಲ್ಲಿ ಇರಬೇಕಾದ ಲೇಖನ ಚಿನ್ಹೆ)
  - (5) ಕುವೆಂಪು ಅವರು ಜ್ಞಾನಪೀಠ ಪ್ರಶಸ್ತಿಯನ್ನು ಪಡೆದರು.  
(ಇದನ್ನು ಭವಿಷ್ಯತ್ ಕಾಲಕ್ಕೆ ಪರಿವರ್ತಿಸಿರಿ)
- 29 ನೀವು ಮಹೇಶ್ವರಿ/ರಾಮಾನುಜ ಕುವೆಂಪುನಗರ, ಮೈಸೂರು, ಎಂದು ಭಾವಿಸಿ ಅಭಿಯಂತರರು, ಕರ್ನಾಟಕ ವಿದ್ಯುಚ್ಛಕ್ತಿ ಮಂಡಳಿ ಮೈಸೂರು ಇವರಿಗೆ ರಸ್ತೆ ದೀಪಗಳನ್ನು ಸರಿಪಡಿಸಲು ಕೋರಿ ಒಂದು ಪತ್ರ ಬರೆಯಿರಿ 7
- ಅಥವಾ
- ಭಾಗಲಕೋಟಿಯಲ್ಲಿರುವ ಆದರ್ಶ ವಸತಿ ಶಾಲೆಯೊಂದರಲ್ಲಿ 11 ನೇ ತರಗತಿಯಲ್ಲಿ ವ್ಯಾಸಾಂಗ ಮಾಡುತ್ತಿರುವ ನಯನಕುಮಾರ/ರಂಜಿತಾ ಎಂದು ಭಾವಿಸಿಕೊಂಡು ರಾಜಾಜಿನಗರ ಬೇಂಗಳೂರನಲ್ಲಿರುವ ನಿಮ್ಮ ತಾಯಿಯವರಿಗೆ ಗಣರಾಜ್ಯೋತ್ಸವಕ್ಕೆ ಆಮಂತ್ರಿಸುತ್ತಾ ಒಂದು ಪತ್ರ ಬರೆಯಿರಿ.
- 30 ಈ ಕೆಳಗಿನ ಗಾದೆಗಳಲ್ಲಿ ಯಾವುದಾದರೂ ಒಂದನ್ನು ಕುರಿತು 50 ಶಬ್ದಗಳಿಗೆ ಮೀರದಂತೆ - ವಿಸ್ತರಿಸಿ ಬರೆಯಿರಿ. 5
- (1) ಅಡಿಕೆಗೆ ಹೋದ ಮಾನ ಆನೆ ಕೊಟ್ಟರೂ ಬಾರದು.
  - (2) ಅರಮನೆಗಿಂತ ನೆರೆಮನೆ ಲೇಸು.
  - (3) ಕಬ್ಬು ಡೋಂಕಾದರೆ ಸಿಹಿ ಡೋಂಕೆ ?
- 31 ಈ ಕೆಳಗೆ ಕೊಟ್ಟಿರುವ ವಿಷಯಗಳಲ್ಲಿ ಯಾವುದಾದರೂ ಒಂದನ್ನು ಕುರಿತು 200 ಶಬ್ದಗಳಿಗೆ ಮೀರದಂತೆ ಪ್ರಬಂಧವನ್ನು ಬರೆಯಿರಿ. 10
- (1) ಸಂಪರ್ಕ ಮಾಧ್ಯಮಗಳು
  - (2) ಔಷಧೀಯ ಸಸ್ಯಗಳು
  - (3) ನನ್ನ ಮೆಚ್ಚಿನ ಆಟ





This Question Paper consists 42 questions and 8 printed pages.

अस्मिन् प्रश्नपत्रे 42 प्रश्नाः एवम् 8 मुद्रित पृष्ठाः सन्ति ।

Roll No. 

--	--	--	--	--	--	--	--	--	--	--	--

अनुक्रमाङ्कः  
अङ्केषु

Code No. 53/S/O/S

कूट सं.

Set - A

## SANSKRIT

संस्कृतम्  
(209)

### Day and Date of Examination

(परीक्षादिवसः दिनाङ्कश्च)

\_\_\_\_\_

### Signature of Invigilators

1.

\_\_\_\_\_

(निरीक्षकहस्ताक्षरो)

2.

\_\_\_\_\_

### सामान्य अनुदेशाः :

- 1 अनुक्रमाङ्कः प्रश्नपत्रस्य प्रथमपृष्ठे अवश्यमेव लेखनीयः ।
- 2 निरीक्ष्यताम् यत् प्रश्नपत्रस्य पृष्ठसंख्या प्रश्नानां संख्या च प्रथमपृष्ठस्य शीर्षे मुद्रितसंख्यानुसारमेव अस्ति । प्रश्नाः क्रमानुसारमेव सन्ति ।
- 3 वस्तुनिष्ठप्रश्नेषु (A), (B), (C) वा (D) विकल्पेषु कोऽपि एकं उत्तरं चित्वा पृथकरूपेण प्रदत्ते उत्तर-पुस्तिकामध्ये लिखेत् ।
- 4 वस्तुनिष्ठप्रश्नसहितं सम्पूर्णप्रश्नपत्रस्य उत्तराणि निर्धारितसमये एव लेखनीयानि ।
- 5 उत्तरपुस्तिकायां परिचयचिह्नम् अथवा कुत्रापि निर्दिष्टस्थानेतरस्थलेषु अनुक्रमाङ्कलेखनं सर्वथा वर्जितम् अस्ति ।
- 6 स्व-उत्तरपुस्तिकायां प्रश्नपत्रस्य कूट(कोड) संख्या 53/S/O/S-A अवश्यं लेखनीया ।



# SANSKRIT

संस्कृतम्  
(209)

समयः 3 होरात्रयम्]

[पूर्णाङ्कः : 100

निर्देशाः :

- (1) अस्मिन् प्रश्नपत्रे द्विचत्वारिंशत् प्रश्नाः ।
- (2) प्रत्येकं प्रश्नस्य समक्षम् अङ्काः सूचिताः ।
- (3) सर्वे प्रश्नाः अनिवार्याः ।

खण्ड – क

- 1 एतत् धर्मस्य लक्षणं नास्ति – 1×10=10  
(A) धृतिः (B) धीः  
(C) मनः (D) शौचम्
- 2 बोपदेवः किं ग्रन्थम् अरचयत् ?  
(A) व्याकरणम् (B) बोधव्याकरणम्  
(C) मुग्धबोधव्याकरणम् (D) बालबोधव्याकरणम्
- 3 त्याज्यं न धैर्यमिति पाठे कुत्र प्राप्य मकरः रहस्यं वदति ?  
(A) नदीतीरे (B) जलमध्ये  
(C) मकरस्य गृहं (D) वृक्षं
- 4 कण्वः शकुन्तलां प्रति किम् न उपदिशति ?  
(A) सुगृहिणी भव (B) गुरुन् शुश्रूषस्व  
(C) परिजनेषु उदारता भव (D) समृद्धिषु अगर्विता भव
- 5 कुक्कुटे एषः गुणः नास्ति –  
(A) प्रातः उत्थानम् (B) बन्धुभिः सह भोजनम्  
(C) आपद्गतां स्त्रियं त्यजेत् (D) युद्धम्



- 6 मित्रस्य चक्षुषा अहं सर्वाणि भूतानि समीक्षे इत्यत्र भूतानि इति पदे का विभक्तिः ?  
 (A) प्रथमा (B) द्वितीया  
 (C) सप्तमी (D) षष्ठी
- 7 समानी वः आकूतिः इत्यत्र वः इति पदे का विभक्तिः ?  
 (A) प्रथमा (B) षष्ठी  
 (C) द्वितीया (D) चतुर्थी
- 8 ब्राह्मे मुहूर्त्ते उत्तिष्ठेत् इत्यत्र रेखाङ्कितपदे कः लकारः ?  
 (A) लट् (B) विधिलिङ्  
 (C) लोट् (D) लङ्
- 9 'वृक्षः स्वयमातपे तिष्ठति' इति वाक्ये रेखाङ्कितं पदं बहुवचने किं भविष्यति ?  
 (A) तिष्ठन्ति (B) तिष्ठतः  
 (C) तिष्ठतु (D) तिष्ठेत्
- 10 रिक्तस्थाने किं पदं भविष्यति ?  
 दन्तधावनं जिह्वादन्तास्यजं मलं \_\_\_\_\_ ।  
 (A) घ्नन्ति (B) हन्ति  
 (C) हन्तुः (D) हन्यात्
- 11 'ते केचनान्ये भवन्ति ये उत्कोचलोभेन स्वामिनं वञ्चयित्वा आत्मानमन्धतमसि पातयन्ति' इति वाक्ये क्रियापदद्वयं किम् ? 1+1=2
- 12 आनन्दयति कोऽत्यर्थं सज्जनानेव भूतले । 1+1=2  
 प्रबोधयति पद्मानि तमांसि च निहन्ति कः॥ इति पद्ये कमलानि, अन्धकारान् च इति अर्थे किं पदद्वयं प्रयुक्तम् ?
- 13 ताभिः सहोत्थितं शीघ्रं विमानं प्रेक्ष्य राघवः । 1+1=2  
 ऋष्यमूकसमीपे तु वैदेहीं पुनरब्रवीत् ॥  
 इत्यत्र कः कां ब्रवीति ?



- 14 अधोलिखितं नाट्यांशं पठित्वा प्रदत्तप्रश्नान् उत्तरत – 1×3=3  
 सुमन्त्रः – अये ! किमिदानीं सैन्यघोषाः प्रशान्ताः ।  
 वत्स ! मन्ये कुमारेण जृम्भकास्त्रं प्रयुक्तमिति ।  
 चन्द्रकेतुः – अत्र कः सन्देहः ? पश्यतु सैन्यं चित्रलिखितमिव अस्पन्दम् आस्ते ।  
 अतोऽजितवीर्यं जृम्भकास्त्रमेवेदम् ।  
 सुमन्त्रः – कुतः पुनरस्य जृम्भकस्य प्राप्तिः ?  
 चन्द्रकेतुः – भगवतः प्राचेतसादिति मन्यामहे ।  
 प्रश्नाः –  
 (i) चन्द्रकेतोः सैन्यं कीदृशम् अभवत् ? कस्य च प्रयोगेण ?  
 (ii) लवः जृम्भकास्त्रं कुतः लब्धवान् ?  
 (iii) अजितवीर्यम् इति विशेषणस्य विशेष्यं किम् ?
- 15 अधोलिखितयोः कस्यचिदेकस्य चरित्रचित्रणं पञ्च वाक्येषु संस्कृतेन लिखत – 1×5=5  
 कण्वः अथवा शकुन्तला
- 16 जीवनं सर्वप्राणिनां जलाशयसुनिर्भरम् । 1+1=2  
 संरक्ष्यं वर्धनीयं च जलं रक्षति रक्षितम् ।  
 इत्यत्र (i) किमर्थं जलं रक्षणीयम् ?  
 (ii) केषां जीवनं जलाशयसुनिर्भरम् ?
- 17 आत्मवत्सर्वभूतानि पश्यतोऽस्य पदानुगाः । 1+1=2  
 गुणैः परवशीभूताः व्यवर्धन्त सहस्रशः ।  
 इत्यत्र (i) व्यवर्धन्त इति क्रियापदस्य कर्तृपदं किम् ?  
 (ii) महात्मा गांधिः कान् आत्मवत् पश्यति ?
- 18 अन्यदीये तृणे रत्ने काञ्चने मौक्तिकेऽपि च 1+1=2  
 मनसा विनिवृत्तिर्या तदस्तेयं विदुर्बुधाः ॥  
 इत्यत्र (i) केन अपि न चिन्तनम् अस्तेयम् उच्यते ?  
 (ii) 'लघुवस्तुनि' इत्यर्थम् किं पदमत्र प्रयुक्तम् ?
- 19 'केशवं पतितं दृष्ट्वा द्रोणो हर्षमुपागतः' इत्यत्र कः किं दृष्ट्वा प्रसीदति ? 1+1=2
- 20 'शरीरमाद्यं खलु धर्मसाधनम्' इति पाठः कस्मात् ग्रन्थात् संगृहीतः ? कश्च तस्य 1×3=3  
 लेखकः ? अत्र कः विषयः वर्णितः ?



- 21 अधोलिखितपद्यांशस्य भावार्थे रिक्तस्थानपूर्तिं कुरुत - 1×3=3  
 पद्यांशः -  
 किमिच्छन्ति नराः काश्यां, भूपानां को रणे हितः ।  
 को वन्द्यः सर्वदेवानां, दीयतामेकमुत्तरम् ॥  
 भावार्थः -  
 जनाः काश्यां किम् इच्छन्ति ? (i) \_\_\_\_\_ । युद्धे (ii) \_\_\_\_\_ हितकरं किम् ?  
 जयः । सर्वेषां देवानां वन्दनीयः कः ? (iii) \_\_\_\_\_
- 22 अधोलिखितवाक्येषु रेखाङ्कितपदमाश्रित्य प्रश्ननिर्माणं कुर्वन्तु - 1×2=2  
 (i) परस्परं विवदमानाः प्राणादयः प्रजापतिम् एत्य अपृच्छन् ।  
 (ii) प्रथमं वाक् शरीरात् निर्गता ।
- 23 मृजया किं रक्ष्यते ? कुलं च केन ? 1+1=2
- 24 'शक्रः अग्रे समुत्पततः रथस्य अग्रे आगतानि शात्मलीवृक्षे गरुडनीडानि पश्यति' इत्यत्र 1+1=2  
 शात्मलीवृक्षे कः किं पश्यति ?
- 25 तन्न युक्तं साम्प्रतं क्षणमप्यत्र स्थातुम् । तदाकर्ण्य प्रत्युत्पन्नमतिः प्राह-अहो, सत्यमभिहितं 1×3=3  
 भवता । ममापि अभीष्टमेतत् ।  
 (i) कः क्षणमपि तडागे स्थातुं न इच्छति ?  
 (ii) प्रत्युत्पन्नमतिः अपि किं कर्तुमिच्छति ?  
 (iii) 'उक्तम्' इति अर्थे किं पदमत्र प्रयुक्तम् ?
- 26 समुत्पन्नेषु कार्येषु बुद्धिर्यस्य न हीयते । 1×3=3  
 स एव दुर्गं तरति जलस्थो वानरो यथा ॥  
 (i) वानरः कुत्र स्थितः ?  
 (ii) कीदृशेषु कार्येषु धीरस्य बुद्धिः न हीयते ?  
 (iii) धीरः नरः किं तरति ?
- 27 कस्यचिदेकस्य पाठस्य सारांशं पञ्च वाक्येषु लिखत - 1×5=5  
 (i) त्याज्यं न धैर्यम्  
 (ii) भारतीयविज्ञानम्  
 (iii) प्रेरणा



खण्ड – ख  
अनुप्रयुक्त व्याकरणम्

- 28 अधोलिखितपदेषु सन्धिच्छेदं कृत्वा लिखत – 1+1=2  
(i) अस्य रक्षणे भारतस्य रक्षास्ति ।  
(ii) ज्योतिर्विज्ञान क्षेत्रे योगदानम् ।
- 29 सन्धिं कृत्वा लिखत – 1×3=3  
(i) स्पर्शस्तेन + अत्र विद्यते ।  
(ii) ध्यायन् क्लेशान् स्वबन्धूनां तत् + हितैक परायणः ।  
(iii) बलं सर्वबलेभ्यः + अपि सत्यमेवातिरिच्यते ।
- 30 अधोलिखितवर्णानाम् उच्चारणस्थानं लिखत – 1+1=2  
क, च
- 31 रिक्तस्थानानि कोष्ठके प्रयुक्तशब्दैः समुचित-विभक्ति-प्रयोगं कुरुत – 2  
(i) मा भ्राता \_\_\_\_\_ द्विक्षन् । (भ्रातृ)  
(ii) \_\_\_\_\_ अहं चक्षुषा सर्वाणि भूतानि समीक्षे । (मित्र)  
(iii) समानी वः आकूतिः समाना \_\_\_\_\_ वः । (हृदय)  
(iv) मूर्ख ! न कोऽपि जनः \_\_\_\_\_ विना जीवति । (हृदय)
- 32 रिक्तस्थानेषु अङ्कानां स्थाने संख्यावाचकपदानि लिखत – 3  
(i) 6 शूनः गुणाः ।  
(ii) 3 शिक्षेत् गर्दभात् ।  
(iii) वाक् प्रभृतीनि 5 इन्द्रियाणि भवन्ति ।
- 33 (i) ताः मे सन्तु सदा गृहे । 1×2=2  
(ii) तत्त्वमिदं चिन्तय सदा चित्ते ।  
इति रेखाङ्कितपदयोः कः धातुः कश्च लकारः ?
- 34 अधोलिखितवाक्यद्वये क्रियापदानि योजयत – 1×2=2  
(i) ब्राह्मे मूहूर्त्ते \_\_\_\_\_ । (उत् + स्था विधि)  
(ii) दन्तधावनं जिह्वादन्तास्यजं मलं \_\_\_\_\_ । (हन्लट्)



- 35 रेखाङ्कितसमस्तपदयोः विग्रहौ कृत्वा लिखत - 1×2=2
- (i) धृतिः क्षमा दमोऽस्तेयं शौचम् इन्द्रियनिग्रहः ।
- (ii) वयमत्र प्रतिदिनं घटान् स्थापयामः ।
- 36 अधोलिखिते विग्रहस्थाने समस्तपदं लिखत - 1×2=2
- (i) कुशाग्रा बुद्धिः यस्य (सः)
- (ii) भोजनस्य अन्ते
- 37 रिक्तस्थाने किं पदं भविष्यति ? 1+1=2
- (i) मानं \_\_\_\_\_ प्रियो भवति । (हातुम् / हित्वा)
- (ii) सार्थः \_\_\_\_\_ मित्रम् । (प्रवसतुम् / प्रवसतः)
- 38 रिक्तस्थानेषु रिक्तस्थानपूर्तिं कुरुत - 1×3=3
- (i) कथमहं \_\_\_\_\_ सह गच्छेयम् । (युष्मद्)
- (ii) यदि मम \_\_\_\_\_ कार्यम् तर्हि वृक्षं प्रति नय । (हृदय)
- (iii) मकरः जम्बुफलानि \_\_\_\_\_ यच्छति । (भार्या)

खण्ड - ग

रचनाकौशलम्

- 39 अधोलिखितम् अनुच्छेदं पठित्वा प्रदत्तप्रश्नान् उत्तरत - 1×5=5
- जन्मभूमिः अस्मान् जननीवत् संरक्षति । अस्याः अन्नेन, जलेन, फलादीनां रसैश्च अस्माकं परिपालनं भवति । कर्पासेन निर्मितैः वस्त्रैः अस्माकं शरीरं सुरक्षितं भवति । अस्मिन्नेव धरातले गृहाणि निर्माय वयं ससुखं वसामः । इयं जन्मभूमिः मातुरप्यधिकम् उपकरोति । एषा यावज्जीवं पालयति पोषयति च । भारतवर्षम् अस्माकं मातृभूमिः जन्मभूमिश्च । इयम् अस्माभिः अहर्निशं पूजनीया, रक्षणीया, वन्दनीया च । अस्याः सौन्दर्यं तु अद्भुतम् एव । नदीभिः इयं सुजला । शस्यश्यामला च । देवताः अपि अस्याः गीतानि गायन्ति ।
- प्रश्नाः -
- (1) अस्माकं शरीरं केन निर्मितैः वस्त्रैः सुरक्षितं भवति ?
- (2) वयं कुत्र गृहाणां निर्माणं कुर्मः ?
- (3) काः अस्याः गीतानि गायन्ति ?
- (4) 'संरक्षति' इति क्रियापदस्य कर्तृपदं किम् ?
- (5) 'इयम् अस्माभिः अहर्निशं पूजनीया' इति वाक्ये 'इयम्' सर्वनामपदं कस्यै प्रयुक्तम् ?



- 40 अधोलिखितं विषयमधिकृत्य मञ्जूषापदसहायतया पञ्चवाक्येषु एकमनुच्छेदं लिखत – 1×5=5  
सत्सङ्गतिः

मञ्जूषा

सज्जनानां, सङ्गतेः महान् प्रभावः, कीटः, देवतानां शिरसि, पुष्पाणां, आरोहति, क्रूरः सहृदयः, बुद्धेः जडतां, दुर्जनः, सज्जनः, सतां दर्शनं, कुसङ्गतिः, सर्वं, नाशयति, यशः, प्रसरति ।

- 41 भवान् राकेशः छात्रावासे जयपुरविद्यापीठे वसति । भवतः विद्यालये संस्कृतदिवसे मालविका-अग्निमित्रम् 1×5=5  
इति संस्कृतनाटकस्य मञ्चनं भविष्यति । तत्र भवान् अपि अभिनयं करिष्यति । स्वपितृमहोदयान् प्रति तं प्रेक्षितुं निमन्त्रणपत्रं, मञ्जूषायाम् प्रदत्तैः शब्दैः रिक्तस्थानानि पूरयित्वा लिखतु –  
जयपुर विद्यापीठ छात्रावासः  
तिथिः

परमादरणीयाः पितृमहोदयाः

सादरं नमामि ।

अद्य अहं सादरं (i) \_\_\_\_\_ यत् विद्यालये आगामि (ii) \_\_\_\_\_ संस्कृत दिवसस्य आयोजनं भविष्यति । तत्र (iii) \_\_\_\_\_ नाम नाटकं प्रस्तूयते । एतस्मिन् (iv) \_\_\_\_\_ अहमपि अभिनयं (v) \_\_\_\_\_ । भवान् मात्रा सह आगत्य अवश्यमेव पश्यन्तु ।

भवतां प्रियः पुत्रः

राकेशः

मञ्जूषा

मालविकाग्निमित्रम्, निवेदयामि, अवसरे, मासे, करिष्यामि, दिवसस्य

- 42 अधोलिखितं चित्रं दृष्ट्वा पञ्च वाक्येषु वर्णनं कुरुत – 1×5=5



मञ्जूषा

विजयादशमी पर्व, रावणस्य पुत्तलम्, दश शिरांसि, अग्निना, रज्जूभिः बद्धः, ज्वालाभिः, धूम्रः, बहवः जनाः, बालकाः, महिलाः, एकत्रिताः, पश्यन्ति, अन्धकारे, दुराचरणस्य, समाप्तिः ।





This Question Paper consists of 14 questions and 8 printed pages.

ਇਸ ਪ੍ਰਸ਼ਨ-ਪੱਤਰ ਵਿੱਚ 14 ਪ੍ਰਸ਼ਨ ਅਤੇ 8 ਮੁਦਰਿਤ ਪੰਨੇ ਹਨ ।

Roll No.

ਰੋਲ ਨੰ: ਅੰਕਾਂ ਵਿੱਚ

--	--	--	--	--	--	--	--	--	--	--	--	--	--	--	--	--	--

Code No. 53/S/O/P

ਕੋਡ ਨੰ.

Set - A

## PUNJABI

(ਪੰਜਾਬੀ)

(210)

Day and Date of Examination

ਪਰਿਖਿਆ ਦਾ ਦਿਨ ਅਤੇ ਮਿਤੀ \_\_\_\_\_

Signature of Invivilators

ਨਿਰੀਖਕਾਂ ਦੇ ਦਸਖ਼ਤ

1. \_\_\_\_\_

2. \_\_\_\_\_

ਆਮ ਨਿਰਦੇਸ਼ :-

- 1 ਵਿਦਿਆਰਥੀ ਨੂੰ ਪ੍ਰਸ਼ਨ ਪੱਤਰ ਦੇ ਪਹਿਲੇ ਪੰਨੇ ਤੇ ਆਪਣਾ ਨਾਮ ਅਤੇ ਰੋਲ ਨੰਬਰ ਲਿਖਣਾ ਜ਼ਰੂਰੀ ਹੈ ।
- 2 ਪ੍ਰਸ਼ਨ ਪੱਤਰ ਦੇ ਸਾਰੇ ਪੰਨਿਆਂ ਨੂੰ ਦੇਖਣਾ ਅਤੇ ਜਾਂਚਣਾ ਜ਼ਰੂਰੀ ਹੈ ਅਤੇ ਪ੍ਰਸ਼ਨ ਪੱਤਰ ਵਿੱਚ ਪ੍ਰਸ਼ਨਾਂ ਦੀ ਗਿਣਤੀ ਉੱਤਰ ਪੁਸਤਕ ਦੇ ਉਪਰ ਪਹਿਲੇ ਪੰਨੇ ਤੇ ਛੱਪੇ ਨੰਬਰਾਂ ਨਾਲ ਮਿਲਦੀ ਹੋਣੀ ਚਾਹੀਦੀ ਹਨ । ਇਹ ਵੀ ਦੇਖਿਆ ਜਾਵੇ ਕਿ ਪ੍ਰਸ਼ਨ ਪੱਤਰ ਵਿੱਚ ਪ੍ਰਸ਼ਨ ਕਰਨਾ (ਸੀਰੀਅਲ) ਅਨੁਸਾਰ ਹੋਵੇ ।
- 3 ਅਥਜੈਕਟਿਵ ਟਾਇਪ ਪ੍ਰਸ਼ਨਾਂ ਜਿਹੜੇ ਕਿ (A), (B), (C), (D) ਹਨ ਵਿੱਚੋਂ ਇਕ ਠੀਕ ਨੂੰ ਚੁੰਨਣਾ ਹੈ ਅਤੇ ਠੀਕ ਉੱਤਰ ਨੂੰ ਉੱਤਰ ਪੁਸਤਕ ਵਿੱਚ ਲਿਖਿਆ ਜਾਵੇ ।
- 4 ਸਾਰੇ ਪ੍ਰਸ਼ਨ ਪੱਤਰ ਜਿਹਨਾਂ ਵਿੱਚ ਅਥਜੈਕਟਿਵ ਟਾਇਪ ਪ੍ਰਸ਼ਨ ਵੀ ਹਨ ਇਕ ਸਮੇਂ ਅਨੁਸਾਰ ਹੀ ਕਰਨੇ ਹਨ ਕਿਉਂਕਿ ਹੋਰ ਅਲੱਗ ਸਮਾਂ ਨਹੀਂ ਦਿੱਤਾ ਜਾਵੇਗਾ ।
- 5 ਕੋਈ ਵੀ ਨਿਸ਼ਾਨ ਜਾਂ ਰੋਲ ਨੰਬਰ ਉੱਤਰ ਪੁਸਤਕ ਦੇ ਕਿਸੇ ਵੀ ਜਗਾਂ ਤੇ ਨਹੀਂ ਹੋਣਾ ਚਾਹੀਦਾ, ਨਹੀਂ ਤੇ ਵਿਦਿਆਰਥੀ ਨੂੰ ਪਰੀਖਿਆ ਤੋਂ ਬਾਹਰ ਕਰ ਦਿੱਤਾ ਜਾਵੇਗਾ ।
- 6 ਉੱਤਰ ਪੁਸਤਕ ਤੇ ਪ੍ਰਸ਼ਨ ਪੁਸਤਕ ਦਾ ਨੰਬਰ 53/S/O/P-A ਜ਼ਰੂਰ ਲਿਖੋ ।



# PUNJABI

(ਪੰਜਾਬੀ)

(210)

Time : 3 Hours ]

[Maximum Marks : 100

ਸਮਾਂ : 3 ਘੰਟੇ ]

[ ਕੁੱਲ ਅੰਕ : 100

ਨੋਟ :- (1) ਸਾਰੇ ਪ੍ਰਸ਼ਨਾਂ ਦੇ ਉੱਤਰ ਜ਼ਰੂਰੀ ਹਨ ।

(2) ਸਾਰੇ ਪ੍ਰਸ਼ਨਾਂ ਨੂੰ ਧਿਆਨ ਨਾਲ ਪੜ੍ਹੋ ਅਤੇ ਉਹਨਾਂ ਦੇ ਉੱਤਰ ਲਿਖੋ ।

1 ਹੇਠ ਲਿਖੇ ਪੈਰੇ ਨੂੰ ਧਿਆਨ ਨਾਲ ਪੜ੍ਹੋ ਅਤੇ ਉਸ ਸੰਬੰਧੀ ਦਿੱਤੇ ਪ੍ਰਸ਼ਨਾਂ ਦੇ ਉੱਤਰ ਲਿਖੋ :  $2 \times 4 = 8$

‘ਅਧਿਆਪਕ ਆਮ ਇਨਸਾਨ ਹੁੰਦੇ ਹੋਏ ਵੀ ਵੱਖ-ਵੱਖ ਸਖਸ਼ੀਅਤਾਂ ਦਾ ਮਾਲਕ ਹੁੰਦਾ ਹੈ । ਉਹ ਪੜ੍ਹਿਆ ਲਿਖਿਆ, ਸਮਾਜ ਦੇ ਹੋਰ ਲੋਕਾਂ ਨਾਲੋਂ ਰਤਾ ਵੱਧ ਸਿਆਣਾ, ਸਾਦਾ, ਸਾਫ਼ ਸਪੱਸ਼ਟ ਅਤੇ ਇਮਾਨਦਾਰ ਇਨਸਾਨ ਹੁੰਦਾ ਹੈ । ਉਹ ਜੁਬਾਨ ਦਾ ਮਿੱਠਾ, ਵਚਨ ਦਾ ਪੱਕਾ ਤੇ ਇਰਾਦੇ ਦਾ ਮਜ਼ਬੂਤ ਹੁੰਦਾ ਹੈ । ਉਹ ਜਾਣਦਾ ਹੈ ਕਿ ਸਮਾਜ ਇਸ ਤੋਂ ਵਧ ਉਸ ਨੂੰ ਕੀ ਇੱਜ਼ਤ ਦੇ ਸਕਦਾ ਹੈ । ਜਦੋਂ ਉਹ ਆਪਣੇ ਭੋਲੇ-ਭਾਲੇ, ਨਿੱਕੇ-ਨਿੱਕੇ ਅੱਖਾਂ ਦੇ ਤਾਰਿਆਂ ਨੂੰ ਜਿਗਰ ਦੇ ਟੁੱਕੜਿਆਂ ਅਰਥਾਤ ਬੱਚਿਆਂ ਨੂੰ ਉਸ ਦੇ ਸਪੁਰਦ ਕਰਕੇ, ਬਿਲਕੁਲ ਨਿਸਚਿੰਤ ਹੋ ਜਾਂਦਾ ਹੈ । ਉਸ ਨੂੰ ਇਸ ਗੱਲ ਦਾ ਅਹਿਸਾਸ ਹੈ ਕਿ ਸਮਾਜ ਉਸ ਉੱਤੇ ਯਕੀਨ ਕਰਦਾ ਹੈ, ਜੋ ਵੀ ਉਹ ਬੱਚਿਆਂ ਨੂੰ ਦੱਸੇਗਾ, ਜਿਹੜੀਆਂ ਆਦਤਾਂ, ਉਹਨਾਂ ਵਿੱਚ ਪਾਏਗਾ, ਉਹ ਬੱਚਿਆਂ ਅਤੇ ਮਾਪਿਆਂ ਲਈ ਲਾਭਦਾਇਕ ਹੋਣਗੀਆਂ । ਮਾਪੇ ਜਾਣਦੇ ਹਨ ਕਿ ਅਧਿਆਪਕ ਦੇ ਹੁੰਦਿਆਂ ਬੱਚਿਆਂ ਨੂੰ ਕੋਈ ਖ਼ਤਰਾ ਨਹੀਂ, ਡਰ ਨਹੀਂ, ਚਿੰਤਾ ਨਹੀਂ ।’

ਅਧਿਆਪਕ ਬੱਚਿਆਂ ਦਾ ਰਾਖਾ ਵੀ ਹੈ ਤੇ ਰਹਿਮਤ ਵੀ ਹੈ । ਕੋਈ ਵੀ ਬੰਦਾ ਕੌਮ ਨੂੰ ਉਸ ਦੇ ਬੱਚਿਆਂ ਨੂੰ ਸਿੱਖਿਆ ਦੇਣ, ਉਹਨਾਂ ਵਿੱਚ ਚੰਗੇ, ਇਜ਼ਤਦਾਰ, ਜ਼ਿੰਮੇਵਾਰ ਪੜ੍ਹੇ ਲਿਖੇ ਸੁਤੰਤਰ ਅਤੇ ਪਾਰਜਾ ਤੰਤਰ ਦੇ ਉੱਚੇ ਆਦਰਸ਼ ਵਾਲੇ, ਸ਼ਹਿਰੀ ਗੁਣ ਪੈਦਾ ਕਰਨ ਤੋਂ ਚੰਗੇਰੀ ਚੀਜ਼ ਨਹੀਂ ਦੇ ਸਕਦਾ ਹੈ । ਕੌਮ ਦੇ ਮਹੱਤਵ ਦਾ ਅਹਿਸਾਸ ਅਧਿਆਪਕ ਨੂੰ ਵੱਧ ਤੋਂ ਵੱਧ ਜਾਣਕਾਰੀ ਪ੍ਰਾਪਤ ਕਰਨ ਦੀ ਤੇ ਬੱਚਿਆਂ ਦੇ ਸਾਹਮਣੇ ਆਪਣੀ ਮਿਸਾਲ, ਚੰਗੇ ਆਦਰਸ਼ ਇਨਸਾਨ ਦੇ ਰੂਪ ਵਿੱਚ ਰੱਖਣ ਦੀ ਪ੍ਰੇਰਣਾ ਦਿੰਦਾ ਹੈ । ਇਸ ਲਈ ਅਧਿਆਪਕ ਉਹ ਇਨਸਾਨ ਹਨ, ਜੋ ਜਿੰਦਗੀ ਭਰ ਪੜ੍ਹਦਾ ਰਹਿੰਦਾ ਹੈ ।

- (i) ਉਪਰੋਕਤ ਦਿੱਤੇ ਅਣ-ਡਿੱਠੇ ਪੈਰੇ ਵਿੱਚ ਕਿਸ ਬਾਰੇ ਵਰਣਨ ਕੀਤਾ ਗਿਆ ਹੈ ? ਉਸ ਬਾਰੇ ਕੀ ਕਿਹਾ ਗਿਆ ਹੈ ?
- (ii) ਉਪਰੋਕਤ ਸਤਰਾਂ ਅਨੁਸਾਰ ਬੱਚਿਆਂ ਦੀ ਜ਼ਿੰਮੇਵਾਰੀ ਕਿਸ ਉੱਤੇ ਪਾਕੇ ਮਾਪੇ ਭਰੋਸਾ ਕਰਦੇ ਹਨ ਅਤੇ ਕਿਉਂ ?
- (iii) ਅਧਿਆਪਕ ਸਮਾਜ ਬਾਰੇ ਕੀ ਸੋਚ ਕੇ ਸੰਤੁਸ਼ਟ ਹੁੰਦਾ ਹੈ ?
- (iv) ਅਧਿਆਪਕ ਜਿੰਦਗੀ ਭਰ ਕਿਉਂ ਪੜ੍ਹਦਾ ਰਹਿੰਦਾ ਹੈ ?



2 ਹੇਠ ਲਿਖੇ ਪ੍ਰਸ਼ਨਾਂ ਦੇ ਸਹੀ ਵਿਕਲਪ ਚੁਣੋ, ਹਰ ਇੱਕ ਦਾ ਇੱਕ ਅੰਕ ਹੈ : 1×15=15

(i) ਪੰਜਾਬੀ ਵਿੱਚ ਕਿੰਨੇ ਲਗੂ ਅੱਖਰ ਹਨ ?

(A) ਦੋ (B) ਤਿੰਨ

(C) ਚਾਰ (D) ਸੱਤ

(ii) ਜਿਸ ਸ਼ਬਦ ਤੋਂ ਕਿਸੇ ਕੰਮ ਦੇ ਕਰਨ ਜਾਂ ਹੋਣ ਦਾ ਪਰਗਟਾਵਾ ਹੋਵੇ, ਉਸ ਨੂੰ ਕੀ ਕਹਿੰਦੇ ਹਨ :

(A) ਪੜਨਾਂਵ (B) ਸਕਰਮਕ ਕਿਰਿਆ

(C) ਅਕਰਮਕ ਕਿਰਿਆ (D) ਕਿਰਿਆ

(iii) ਪਾਰਥ ਪੜ ਰਿਹਾ ਹੈ, ਇਸ ਵਿੱਚ ਕਿਹੜੀ ਕਿਰਿਆ ਹੈ :

(A) ਸਕਰਮਕ ਕਿਰਿਆ (B) ਸਹਾਇਕ ਕਿਰਿਆ

(C) ਅਕਰਮਕ ਕਿਰਿਆ (D) ਪਤਾ ਨਹੀਂ

(iv) ਹੇਠ ਲਿਖਿਆਂ ਵਿੱਚੋਂ ਕਿਹੜਾ ਸ਼ਬਦ ਇਸਤਰੀ ਲਿੰਗ ਨਹੀਂ ਹੈ ?

(A) ਅੱਗ (B) ਸਹੁੰ

(C) ਦੁੱਧ (D) ਜੱਟੀ

(v) ਹੇਠ ਦਿੱਤੇ ਸ਼ਬਦਾਂ ਵਿੱਚ ਕਿਸ ਸ਼ਬਦ ਦਾ ਇੱਕ 'ਵਚਨ' ਰੂਪ ਵੀ ਹੋ ਸਕਦਾ ਹੈ ?

(A) ਲੋਕ (B) ਸਹੁਰੇ

(C) ਪੇਕੇ (D) ਚੰਗੀ

(vi) ਹੇਠ ਲਿਖਿਆਂ ਵਿੱਚੋਂ ਕਿਹੜਾ ਲਗਾਖਰ ਨਹੀਂ ਹੈ :

(A) ਟਿੱਪੀ (B) ਅੱਧਕ

(C) ਦੁਲੈਂਕੜ (D) ਬਿੰਦੀ

(vii) ਆਸ਼ਾਵਾਂ ਦਾ ਇੱਕ 'ਵਚਨ' ਹੈ :

(A) ਆਸ਼ਾਏਂ (B) ਆਸੇ

(C) ਆਸ਼ਾ (D) ਆਸੂ



(viii) ਭਗਤ ਸਿੰਘ ਨੇ ਦੇਸ਼ ਲਈ ਕੁਰਬਾਨੀ ਦਿੱਤੀ :

‘ਕੁਰਬਾਨੀ’ ਸ਼ਬਦ ਦਾ ਸਹੀ ਵਿਕਲ ਚੁਣੋ :

- (A) ਜੇਲ ਕੱਟੀ (B) ਸ਼ਹਾਦਤ ਦਿੱਤੀ  
(C) ਕੱਤਲ ਕੀਤਾ (D) ਗੋਲੀ ਮਾਰੀ

(ix) ‘ਸਰਲ’ ਦਾ ਸਮਾਨਾਰਥਕ ਸ਼ਬਦ ਨਹੀਂ ਹੈ :

- (A) ਸੁਖਾਲਾ (B) ਆਸਾਨ  
(C) ਸਾਦਰੀ (D) ਸੌਖਾ

(x) ਮੇਰੀ ਪੱਗ ਦਾ ਰੰਗ ਨੀਲਾ ਹੈ। ਇਸ ਵਾਕ ਵਿੱਚੋਂ ਵਿਸ਼ੇਸ਼ਣ ਸ਼ਬਦ ਚੁਣੋ :

- (A) ਪੱਗ (B) ਰੰਗ  
(C) ਨੀਲਾ (D) ਮੇਰੀ

(xi) ਸ਼ੁਧ ਸ਼ਬਦ ਜੋੜ ਚੁਣੋ :

- (A) ਮਨਦਰ (B) ਮਦਰ  
(C) ਮੰਦਰ (D) ਮਣਦਰ

(xii) ਬਚਪਨ ਵਿੱਚ ਸਿੱਖੀ ਬੋਲੀ ਨੂੰ ਕਹਿੰਦੇ ਹਨ :

- (A) ਇਲਾਕੇ ਦੀ ਬੋਲੀ (B) ਘਰ ਦੀ ਬੋਲੀ  
(C) ਮਾਂ-ਬੋਲੀ (D) ਦੇਸ਼ ਦੀ ਬੋਲੀ

(xiii) ‘ਹਿਜਰ’ ਸ਼ਬਦ ਦਾ ਸਹੀ ਸਮਾਨਾਰਥਕ ਸ਼ਬਦ ਹੈ :

- (A) ਖੇੜਾ (B) ਨੀਰਸ  
(C) ਵਿਛੋੜਾ (D) ਵਿਰੋਧੀ

(xiv) ‘ਨਿਰਧਨ’ ਸ਼ਬਦ ਦਾ ਸਹੀ ਵਿਪਰੀਤਾਰਥਕ ਸ਼ਬਦ ਹੈ :

- (A) ਅਮੀਰ (B) ਮਾਲਦਾਰ  
(C) ਧਨਵਾਨ (D) ਧਨਾਢ

(xv) ਉਹ ਕੁੱਝ ਵੀ ਕਹਿਣ ਤੋਂ ਅਸਮਰਥ ਸੀ।

ਅਸਮਰਥ ਸ਼ਬਦ ਦਾ ਸਹੀ ਵਿਕਲਪ ਕੀ ਹੈ ?

- (A) ਅਸਫਲ (B) ਅਯੋਗ  
(C) ਬੁਰਾ (D) ਕਮਜ਼ੋਰ



3 ਹੇਠ ਲਿਖੇ ਅਖਾਣ ਅਤੇ ਮੁਹਾਵਰਿਆਂ ਨੂੰ ਪੂਰਾ ਕਰੋ : 1×5=5

(i) ਦਮ ਦਾ ਦਮਨ .....

(ii) ਬਿੱਲੀ ਨੂੰ .....

(iii) ਘੋੜੇ ਵੇਚ ਕੇ .....

(iv) ਜੰਗਲ ਵਿੱਚ .....

(v) ਢਿੱਡੀ ਪੀੜਾਂ .....

4 ਹੇਠ ਲਿਖੇ ਪੈਰੇ ਨੂੰ ਵਿਸ਼ਰਾਮ ਚਿੰਨ੍ਹ ਲਗਾਓ : 3

“ਸ਼ਰੀਰਕ, ਮਾਨਸਿਕ ਅਤੇ ਸਮਾਜਿਕ ਤੌਰ ਤੇ ਸੁਚੇਤ ਲੋਕ ਹੀ ਤੰਦਰੁਸਤ ਹੁੰਦੇ ਹਨ ।”

“ਅੱਜ ਦਾ ਮਨੁੱਖ ਮਾਨਸਿਕ ਅਤੇ ਸ਼ਰੀਰਕ ਬਿਮਾਰੀਆਂ ਨਾਲੋਂ ਮਾਨਸਿਕ ਅਤੇ ਸਮਾਜਿਕ ਬਿਮਾਰੀਆਂ ਵਿੱਚ ਜ਼ਿਆਦਾ ਘਿਰਦਾ ਜਾ ਰਿਹਾ ਹੈ ਜੇ ਖੰਘ, ਤਾਪ, ਸਿਰਦਰਦ, ਪੇਟਦਰਦ ਵਾਲਾ ਸ਼ਰੀਰਕ ਰੋਗੀ ਹੈ ਤਾਂ ਚੋਰ ਚਾਕੂ, ਜੇਬ ਕਤਰਾ ਜਾਂ ਹੋਰ ਕਿਸੇ ਤਰ੍ਹਾਂ ਦੇ ਅਪਰਾਧੀ ਨੂੰ ਅਸੀਂ ਮਾਨਸਿਕ ਰੋਗ ਕਹਿ ਸਕਦੇ ਹਾਂ ।”

5 ਹੇਠ ਲਿਖੇ ਸ਼ਬਦਾਂ ਵਿੱਚੋਂ ਦੋ ਦੋ ਬਹੁ-ਅਰਥਕ ਵਾਕ ਬਣਾਓ ਤਾਂ ਕਿ ਅਰਥ ਸਪੱਸ਼ਟ ਹੋ ਜਾਣ : 2

(i) ਸੂਤ

(ii) ਕਲੀ

6 ਹੇਠ ਲਿਖੇ ਵਿਸ਼ਿਆਂ ਵਿੱਚੋਂ ਕਿਸੇ ਇੱਕ ਵਿਸ਼ੇ ਉੱਤੇ ਲਗਭਗ 250 ਸ਼ਬਦਾਂ ਦਾ ਲੇਖ ਲਿਖੋ : 10

(i) ‘ਮਿਠੱਤੁ ਨੀਵੀਂ ਨਾਨਕਾ ਗੁਣ ਚੰਗਿਆਈਆਂ ਤਤੁ’ ।

(ii) ਮੇਰਾ ਆਦਰਸ਼ਕ ਅਧਿਆਪਕ ।

(iii) ਅਖ਼ਬਾਰਾਂ ਦੇ ਲਾਭ ਤੇ ਹਾਨੀਆਂ ।

(iv) ਸਮੇਂ ਦੀ ਕਦਰ ।



- 7 ਆਪਣੇ ਮਿੱਤਰ ਨੂੰ ਪੱਤਰ ਲਿਖਕੇ ਦੱਸੋ ਕਿ ਨੈਸ਼ਨਲ ਇੰਸਟੀਟਿਊਟ ਆਫ਼ ਓਪਨ ਸਕੂਲਿੰਗ ਵਿੱਚ XII ਜਮਾਤ ਵਿੱਚ 2015 ਦੇ ਇਮਤਿਹਾਨ ਲਈ ਪੰਜਾਬੀ ਭਾਸ਼ਾ ਆਰੰਭ ਕਰ ਦਿੱਤੀ ਹੈ । 7

ਜਾਂ

ਕਿਸੇ ਪੰਜਾਬੀ ਅਖਬਾਰ ਦੇ ਸੰਪਾਦਕ ਨੂੰ ਭੁਚਾਲ ਨਾਲ ਪੀੜਤ ਲੋਕਾਂ ਦੀ ਸਹਾਇਕ ਸਹਾਇਤਾ ਕਰਨ ਲਈ ਅਪੀਲ ਵਾਸਤੇ ਪੱਤਰ ਲਿਖੋ ।

- 8 'ਸਿੰਮਲ ਰੁੱਖ ਸਰਾਇਰਾ ਅਤਿ ਦੀਰਘ ਅਤਿ ਮੁਚ । ਉਇ ਜਿ ਆਵਹਿ ਆਸ ਕਰਿ ਜਾਹਿ ਨਿਰਾਸ਼ੇ ਕਿਤੂ' 5

“ਮਿਠਤੁ ਨੀਵੀ ਨਾਨਕਾ ਗੁਣ ਚੰਗਿਆਈਆਂ ਤਤੁ” ਗੁਰੂ ਨਾਨਕ ਦੇਵ ਜੀ ਇਨ੍ਹਾਂ ਪੰਗਤੀਆਂ ਦੁਆਰਾ ਮਨੁੱਖੀ ਜੀਵਨ ਲਈ ਕੀ ਸੰਦੇਸ਼ ਦੇ ਰਹੇ ਹਨ ? ਉੱਤਰ 100-125 ਸ਼ਬਦਾਂ ਵਿੱਚ ਲਿਖੋ ।

ਜਾਂ

‘ਕੁਝ ਰੁੱਖ ਸੌਂਨੂੰ’, ਪੁੱਤ ਲਗਦੇ ਨੇ, ਕੁਝ ਰੁੱਖ ਲਗਦੇ ਮਾਵਾਂ

ਕੁਝ ਰੁੱਖ ਨੂੰਹਾਂ ਧੀਆਂ ਵਰਗੇ ਲਗਦੇ, ਕੁਝ ਰੁੱਖ ਵਾਂਗ ਭਰਾਵਾਂ ।

ਕੁਝ ਰੁੱਖ ਮੇਰੇ ਬਾਬੇ ਵਾਂਗਣ, ਪੁੱਤਰਟਾਵਾਂ ਟਾਵਾਂ

ਕੁਝ ਰੁੱਖ ਮੇਰੀ ਦਾਦੀ ਵਰਗੇ, ਚੂਰੀ ਪਾਵਣ ਕਾਵਾਂ ।’

ਉਪਰੋਕਤ ਕਾਵਿ-ਸਤਰਾਂ ਵਿੱਚ ਕਵੀ ਨੇ ਰੁੱਖਾਂ ਰਾਹੀਂ ਪ੍ਰਕ੍ਰਿਤੀ ਪ੍ਰਤੀ ਆਪਣੇ ਪਿਆਰ ਨੂੰ ਕਿਵੇਂ ਭਾਵੁਕ ਅੰਦਾਜ਼ ਵਿੱਚ ਪੇਸ਼ ਕੀਤਾ ਹੈ ? ਉੱਤਰ 100-125 ਸ਼ਬਦਾਂ ਵਿੱਚ ਲਿਖੋ ।

- 9 ‘ਸਾਂਝ’ ਕਹਾਣੀ ਦਾ ਵਿਸ਼ਾ ਵਸਤੂ ਕੀ ਹੈ । ਕਹਾਣੀ ਦੇ ਆਧਾਰ ਤੇ 100-125 ਸ਼ਬਦਾਂ ਵਿੱਚ ਲਿਖੋ । 5

- 10 ‘ਇਕਾਂਗੀ ਬੇਈਮਾਨ’ ਵਿੱਚੋਂ ਆਪਣੇ ਕਿਸੇ ਇੱਕ ਮਨਪਸੰਦ ਪਾਤਰ ਦੀ ਪਾਤਰ-ਉਸਾਰੀ 100-125 ਵਿੱਚ ਕਰੋ । 5



11 'ਭਗਤ ਸਿੰਘ' ਨੇ ਫਾਂਸੀ ਲੱਗਣ ਤੋਂ ਪਹਿਲਾ ਆਪਣੇ ਬਚਾਓ ਦਾ ਪੱਖ ਕਚਹਿਰੀ ਅੱਗੇ ਪੇਸ਼ ਕਿਉਂ ਨਹੀਂ ਸੀ ਕੀਤਾ ? ਉੱਤਰ 100-125 ਸ਼ਬਦਾਂ ਵਿੱਚ ਲਿਖੋ । 5

12 ਹੇਠ ਲਿਖੇ ਪ੍ਰਸ਼ਨਾਂ ਦੇ ਉੱਤਰ ਇੱਕ-ਇੱਕ ਵਾਕ ਵਿੱਚ ਲਿਖੋ । ਹਰ ਇੱਕ ਸਹੀ ਉੱਤਰ ਦਾ ਇੱਕ ਅੰਕ ਹੈ :  $1 \times 12 = 12$

(i) 'ਫਰੀਦ ਜੇ ਤੂੰ ਅਕਲਿ ਲਤੀਫੁ ਕਾਲੇ ਲਿਖੁਨ ਲੇਖੁ' ਫਰੀਦ ਜੀ ਦਾ ਕਾਲੇ ਲੇਖ ਲਿਖਣ ਤੋਂ ਕੀ ਭਾਵ ਹੈ ?

(ii) ਹੀਰ ਮੋਏ ਤੇ ਵਿਛੜੇ ਲੋਕਾਂ ਦੇ ਸੰਬੰਧ ਵਿੱਚ ਕੀ ਆਖਦੀ ਹੈ ?

(iii) ਸ਼ਾਹ ਮੁਹੰਮਦ ਦਾ 'ਜੰਗਹਿੰਦ ਪੰਜਾਬ' ਤੋਂ ਕੀ ਭਾਵ ਹੈ ?

(iv) 'ਸਵਰਗ ਦੀ ਝਲਕ' ਕਿਸ ਕਹਾਣੀਕਾਰ ਦੀ ਕਹਾਣੀ ਹੈ ?

(v) 'ਸਾਂਝ' ਕਹਾਣੀ ਵਿੱਚ ਕਿਸ ਤਰ੍ਹਾਂ ਦੀ ਸਾਂਝ ਦੀ ਗੱਲ ਕੀਤੀ ਗਈ ਹੈ ?

(vi) ਕਈ ਵਾਰੀ ਬੱਸਾਂ, ਇੱਕ-ਦੂਜੇ ਤੋਂ ਅੱਗੇ ਸਵਾਰੀਆਂ ਲੈਣ ਲਈ ਵੀ ਦੌੜਦੀਆਂ ਹਨ, ਕੀ ਤੁਸੀਂ ਇਸ ਗੱਲ ਨਾਲ ਸਹਿਮਤ ਹੋ ?

(vii) ਪ੍ਰਿੰ: ਤੇਜਾ ਸਿੰਘ ਅਨੁਸਾਰ ਧਾਰਮਿਕ ਜੀਵਨ ਦੀ ਨੀਂਹ ਕਿੱਥੋਂ ਸ਼ੁਰੂ ਹੁੰਦੀ ਹੈ ?

(viii) ਸ: ਰਣਜੀਤ ਦੀ ਨਜ਼ਰ ਵਿੱਚ ਲੋਕ ਬਰਾਬਰੀ ਤੋਂ ਕੀ ਭਾਵ ਸੀ ?

(ix) ਸ: ਭਗਤ ਸਿੰਘ ਸ਼ੁਰੂ ਤੋਂ ਕਿਹੜੇ ਵਿਚਾਰਾਂ ਦਾ ਧਾਰਨੀ ਸੀ ?

(x) ਬਲੱਡ ਬੈਂਕ ਵਿੱਚ ਖੂਨਦਾਨ ਕਰਨ ਨਾਲ ਕੀ ਲਾਭ ਹੁੰਦਾ ਹੈ ?

(xi) ਮੋਟਰ ਵਰਕ ਸ਼ਾਪ ਵਿੱਚ ਹੋਰ ਕਿਹੜਾ ਮਿਸਤਰੀ ਹੈ ਜਿਸ ਤੇ ਮੈਨੇਜਰ ਵਿਸ਼ਵਾਸ ਕਰਦਾ ਹੈ ?

(xii) ਮਕੈਨਿਕ ਮੋਟਰ ਵਾਲੇ ਦੀ ਪਤਨੀ ਨੂੰ ਕੀ ਦੱਸਦਾ ਹੈ ? ਕਿ ਉਸ ਨੇ ਪੰਜ ਰੁਪਏ ਕਿਸ ਮਜ਼ਬੂਰੀ ਵਿੱਚ ਲਏ ਸਨ ?



13 ਹੇਠ ਲਿਖੇ ਪ੍ਰਸ਼ਨਾਂ ਦੇ ਉੱਤਰ 30-40 ਸ਼ਬਦਾਂ ਵਿੱਚ ਲਿਖੋ :

6×2=12

- (i) ਕਵੀਲ: ਧਨੀਰਾਮ ਚਾਤ੍ਰਕ ਨੇ 'ਇਨਸਾਨਤਾਨ' ਕਵਿਤਾ ਵਿੱਚ ਕੀ ਸੁਨੇਹਾ ਦਿੱਤਾ ਹੈ ?
- (ii) ਕਵੀ ਸ਼ਿਵਕੁਮਾਰ ਬਟਾਲਵੀ ਨੇ 'ਰੁੱਖ' ਕਵਿਤਾ ਵਿੱਚ ਕੀ ਸੁਨੇਹਾ ਦਿੱਤਾ ਹੈ ? ਰੁੱਖਾਂ ਨੂੰ ਉਹ ਕਿਵੇਂ ਮੰਨਦਾ ਹੈ ?
- (iii) ਕਹਾਣੀਕਾਰ ਅਜੀਤ ਕੌਰ ਸੋਚਦੀ ਹੈ ਕਿ 'ਨੰਦੂ' ਆਪ ਤਾਂ ਆਪਣੀ ਕਹਾਣੀ ਪੜ੍ਹ ਨਹੀਂ ਸਕੇਗਾ ਫਿਰ ਵੀ ਉਸ ਨੇ ਉਸ ਦੀ ਕਹਾਣੀ ਕਿੰਨਾਂ ਲੋਕਾਂ ਲਈ ਲਿਖੀ ਹੈ ?
- (iv) ਗੁਰੂ ਨਾਨਕ ਦੇਵ ਜੀ ਦੇ ਮਨ ਵਿੱਚ ਆਪਣੀ ਭੈਣ ਬੀਬੀ ਨਾਨਕੀ ਪ੍ਰਤੀ ਕੀ ਭਾਵਨਾ ਸੀ ?
- (v) ਸ: ਗੁਰਬਖਸ਼ ਸਿੰਘ ਪ੍ਰੀਤ ਲੜੀ ਆਪਣੇ ਲੇਖ 'ਵਾਤਾਵਰਣ ਵਿੱਚ ਕੀ ਦਸਦਾ ਹੈ ਕਿ ਸੁੰਦਰਤਾ ਕਿਸ ਚੀਜ਼ ਦੀ ਮੁਥਾਜ ਹੈ ।'
- (vi) ਸ: ਰਣਜੀਤ ਸਿੰਘ ਆਪਣੇ ਜਰਨਾਂ ਨੂੰ ਕੀ ਹੁਕਮ ਦੇ ਰੱਖਿਆ ਸੀ ?

14 ਹੇਠ ਲਿਖੇ ਪ੍ਰਸ਼ਨਾਂ ਦੇ ਉੱਤਰ ਲਗਪਗ 50 ਸ਼ਬਦਾਂ ਵਿੱਚ ਲਿਖੋ :

2×3=6

- (i) "ਫਰੀਦਾ ਕੋਠੇ ਮੰਡਪ ਮਾੜੀਆਂ ਏਤੁ ਨਾ ਲਾਏ ਚਿਤੁ  
ਮਿੱਟੀ ਪਈ ਅਤੋਲਵੀਂ ਕੋਇ ਨਾ ਹੋਸੀ ਮਿਤੁ"  
ਫਰੀਦ ਜੀ ਉਪਰੋਕਤ ਸਲੋਕ ਵਿੱਚ ਕੀ ਉਪਦੇਸ਼ ਦੇ ਰਹੇ ਹਨ ?
- (ii) ਕੰਡਕੱਟਰ ਜੀਤ ਦੀ ਕਿਹੜੀ ਗੱਲ ਸੁਣਕੇ ਡਾਕਟਰ ਪਾਲੀ ਦੀਆਂ ਅੱਖਾਂ ਮੋਹ ਭਿੱਜੀਆਂ ਹੋ ਗਈਆਂ ?





This Question Paper consists of 36 questions and 14 printed pages including 5 figures + 1 page of Graph.  
इस प्रश्न-पत्र में 36 प्रश्न के 14 मुद्रित पृष्ठ जिसमें 5 चित्र तथा 1 पृष्ठ ग्राफ का सम्मिलित है।

Roll No. 

--	--	--	--	--	--	--	--	--	--	--

  
अनुक्रमांक

Code No. 53/AS/3  
कोड नं.

Set- 

A
---

## MATHEMATICS

(गणित)

(211)

### Day and Date of Examination

(परीक्षा का दिन व दिनांक)

\_\_\_\_\_

### Signature of Invigilators

1.

\_\_\_\_\_

(निरीक्षकों के हस्ताक्षर)

2.

\_\_\_\_\_

### General Instructions :

- 1 Candidate must write his/her Roll Number on the first page of the Question Paper.
- 2 Please check the Question Paper to verify that the total pages and the total number of questions contained in the Question Paper are the same as those printed on the top of the first page. Also check to see that the questions are in sequential order.
- 3 For the objective type of questions, you have to choose any **one** of the four alternatives given in the question i.e. (A), (B), (C) or (D) and indicate your correct answer in the Answer-Book given to you.
- 4 All the questions including objective type questions are to be answered within the allotted time and no separate time limit is fixed for answering objective type questions.
- 5 Making any identification mark in the Answer-Book or writing Roll Number anywhere other than the specified places will lead to disqualification of the candidate.
- 6 Write your Question Paper code No. 53/AS/3- 

A
---

 on the Answer-Book.
- 7 (a) The Question Paper is in English/Hindi medium only. However, if you wish, you can answer in any one of the languages listed below :  
English, Hindi, Urdu, Punjabi, Bengali, Tamil, Malayalam, Kannada, Telugu, Marathi, Oriya, Gujarati, Konkani, Manipuri, Assamese, Nepali, Kashmiri, Sanskrit and Sindhi.  
You are required to indicate the language you have chosen to answer in the box provided in the Answer-Book.  
(b) If you choose to write the answer in the language other than Hindi and English, the responsibility for any errors/mistakes in understanding the question will be yours only.



सामान्य अनुदेश :

- 1 परीक्षार्थी प्रश्नपत्र के पहले पृष्ठ पर अपना अनुक्रमांक अवश्य लिखें ।
- 2 कृपया प्रश्नपत्र को जाँच लें कि प्रश्नपत्र के कुल पृष्ठों तथा प्रश्नों की उतनी ही संख्या है जितनी प्रथम पृष्ठ के सबसे ऊपर छपी है । इस बात की जाँच भी कर लें कि प्रश्न क्रमिक रूप में हैं ।
- 3 वस्तुनिष्ठ प्रश्नों में आपको चार विकल्पों (A), (B), (C) तथा (D) में से कोई एक उत्तर चुनना है तथा दी गई उत्तर-पुस्तिका में आप सही उत्तर लिखिए ।
- 4 वस्तुनिष्ठ प्रश्नों के साथ-साथ सभी प्रश्नों के उत्तर निर्धारित अवधि के भीतर ही देने हैं । वस्तुनिष्ठ प्रश्नों के लिए अलग से समय नहीं दिया जाएगा ।
- 5 उत्तर-पुस्तिका में पहचान-चिह्न बनाने अथवा निर्दिष्ट स्थानों के अतिरिक्त कहीं भी अनुक्रमांक लिखने पर परीक्षार्थी को अयोग्य ठहराया जायेगा ।
- 6 अपनी उत्तर-पुस्तिका पर प्रश्नपत्र की कोड संख्या **53/AS/3—A** लिखें ।
- 7 (क) प्रश्नपत्र केवल हिंदी/अंग्रेजी में है । फिर भी, यदि आप चाहें तो नीचे दी गई किसी एक भाषा में उत्तर दे सकते हैं :  

अंग्रेजी, हिंदी, उर्दू, पंजाबी, बँगला, तमिल, मलयालम, कन्नड़, तेलुगु, मराठी, उड़िया, गुजराती, कोंकणी, मणिपुरी, असमिया, नेपाली, कश्मीरी, संस्कृत और सिंधी ।

कृपया उत्तर-पुस्तिका में दिए गए बॉक्स में लिखें कि आप किस भाषा में उत्तर लिख रहे हैं ।
- (ख) यदि आप हिंदी एवं अंग्रेजी के अतिरिक्त किसी अन्य भाषा में उत्तर लिखते हैं तो प्रश्न को समझने में होने वाली त्रुटियों / गलतियों की जिम्मेदारी केवल आपकी होगी ।



# MATHEMATICS

(गणित)

(211)

Time :  $2\frac{1}{2}$  Hours]

[Maximum Marks : 85

समय :  $2\frac{1}{2}$  घण्टे]

[पूर्णांक : 85

- Note :**
- (1) Question Numbers **1-10** are Multiple Choice Questions. Each question carries **one** mark. For each question, four alternative choices (A), (B), (C) and (D) are provided, of which only one is correct. You have to select the correct alternative and indicate it in the answer-book provided to you by writing (A), (B), (C) or (D) as the case may be.
  - (2) Question Numbers **11 to 15** are very short answer type questions, each carrying **1** mark. Here the answer can be one word or one sentence or as per the exact requirement of the question.
  - (3) Question Numbers **16 to 25** carry **2** marks each.
  - (4) Question Numbers **26 to 33** carry **4** marks each.
  - (5) Question Numbers **34 to 36** carry **6** marks each.
  - (6) All questions are **compulsory**.
  - (7) Questions requiring visual input have been explained in words in the question itself or alternative question is given.

- निर्देश :**
- (1) प्रश्न संख्या **1-10** तक बहुविकल्पी प्रश्न (Multiple Choice Questions) हैं। प्रत्येक प्रश्न एक अंक का है। प्रत्येक प्रश्न में चार विकल्प (A), (B), (C), तथा (D) दिए गए हैं, जिनमें से केवल एक सही है। आपको सही विकल्प चुनना है तथा प्रत्येक प्रश्न के उत्तर अपनी उत्तरपुस्तिका में (A), (B), (C) अथवा (D) जैसी भी स्थिति हो, लिखकर दर्शाना है।
  - (2) प्रश्न संख्या **11-15** तक अतिलघु उत्तर के प्रकार के प्रश्न हैं, तथा प्रत्येक प्रश्न का एक अंक है। यहाँ प्रश्न का उत्तर एक शब्द में, एक वाक्य में अथवा प्रश्न की आवश्यकता के अनुसार हो सकता है।
  - (3) प्रश्न संख्या **16-25** तक प्रत्येक प्रश्न के **2** अंक हैं।
  - (4) प्रश्न संख्या **26-33** तक प्रत्येक प्रश्न के **4** अंक हैं।
  - (5) प्रश्न संख्या **34-36** तक प्रत्येक प्रश्न के **6** अंक हैं।
  - (6) सभी प्रश्न अनिवार्य हैं।
  - (7) प्रश्नों जिसमें चाक्षुष निवेश की आवश्यकता है उन्हें प्रश्नों के भीतर शब्दों में समझाया गया है अथवा वैकल्पिक प्रश्न दिया गया है।



1 Which of the following statements is true ? 1

निम्न में से कौन सा कथन सही है ?

- (A)  $7^3 \times 7^3 = (49)^6$  (B)  $\left(\frac{3}{11}\right)^5 \times \left(\frac{3}{11}\right)^2 = \left(\frac{3}{11}\right)^7$   
(C)  $(2^6)^3 = (2)^9$  (D)  $\left(-\frac{3}{2}\right)^2 = -\frac{9}{4}$

2 The numbers  $\sqrt{3}, \sqrt[4]{5}, \sqrt[3]{4}$  when written in descending order are : 1

संख्याओं  $\sqrt{3}, \sqrt[4]{5}, \sqrt[3]{4}$  को अवरोही क्रम में लिखने पर प्राप्त होता है :

- (A)  $\sqrt[4]{5}, \sqrt[3]{4}, \sqrt{3}$  (B)  $\sqrt[4]{5}, \sqrt{3}, \sqrt[3]{4}$   
(C)  $\sqrt{3}, \sqrt[4]{5}, \sqrt[3]{4}$  (D)  $\sqrt{3}, \sqrt[3]{4}, \sqrt[4]{5}$

3 What percent of 360 is 144 ? 1

360 का कितने प्रतिशत 144 है ?

- (A) 40% (B) 250%  
(C) 12% (D) 2.5%

4 The cost price of 10 articles is equal to the selling price of 8 articles. 1

The gain or loss percent is :

- (A) Gain 20% (B) Loss 25%  
(C) Gain 30% (D) Gain 25%

10 वस्तुओं का क्रय मूल्य 8 वस्तुओं के विक्रय मूल्य के बराबर है। लाभ या हानि प्रतिशत है :

- (A) लाभ 20% (B) हानि 25%  
(C) लाभ 30% (D) लाभ 25%



5 If the angles of a triangle are in the ratio 2 : 3 : 5, then the largest angle of the triangle is :

यदि एक त्रिभुज के कोण 2 : 3 : 5 के अनुपात में हैं, तो त्रिभुज का सबसे बड़ा कोण है :

- (A)  $120^\circ$  (B)  $100^\circ$   
(C)  $36^\circ$  (D)  $90^\circ$

6 In the plane of a triangle, the point equidistant from the sides of the triangle is called its :

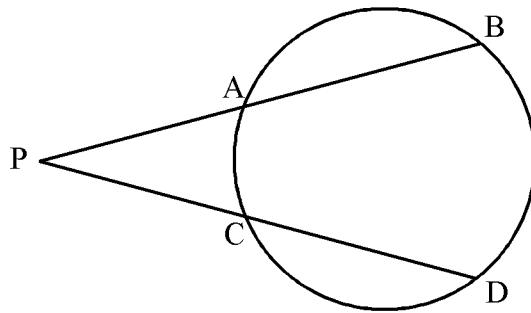
- (A) Centroid (B) Incentre  
(C) Circumcentre (D) Orthocentre

एक त्रिभुज के तल में, उसकी तीनों भुजाओं से समदूरस्थ बिंदु कहलाता है :

- (A) केन्द्रक (B) अंतःकेन्द्र  
(C) परिकेन्द्र (D) लंबकेन्द्र

7 From external point  $P$ , two lines intersecting the circle at  $A, B$  and  $C, D$  respectively have been drawn. If  $PA = 4$  cm,  $AB = 6$  cm and  $PD = 8$  cm, then  $PC$  is equal to :

बाह्य बिन्दु  $P$  से वृत्त की दो प्रतिच्छेदी रेखाएँ खींची गई हैं जो वृत्त को क्रमशः  $A, B$  तथा  $C, D$  पर काटती हैं। यदि  $PA = 4$  सेमी,  $AB = 6$  सेमी तथा  $PD = 8$  सेमी है, तो  $PC$  बराबर है :



- (A) 5 cm (सेमी) (B) 3 cm (सेमी)  
(C) 12 cm (सेमी) (D)  $5\frac{1}{3}$  cm (सेमी)



8  $\sin^4 A - \cos^4 A$  is equal to :

1

$\sin^4 A - \cos^4 A$  बराबर है :

(A) 1

(B)  $1 - 2\cos^2 A$

(C) 0

(D)  $\tan^2 A$

9  $\frac{3\sin^2 19^\circ + 3\sin^2 71^\circ}{5\cos^2 36^\circ + 5\cos^2 54^\circ}$  is equal to :

1

$\frac{3\sin^2 19^\circ + 3\sin^2 71^\circ}{5\cos^2 36^\circ + 5\cos^2 54^\circ}$  का मान है :

(A) 1

(B) 0

(C)  $\frac{5}{3}$

(D)  $\frac{3}{5}$

10 Two different dice are thrown together. The probability of getting the same number on both dice is :

1

दो भिन्न पासों को इकट्ठा फेंका गया। दोनों पासों पर एक ही संख्या के आने की प्रायिकता है :

(A)  $\frac{1}{36}$

(B)  $\frac{1}{6}$

(C) 1

(D)  $\frac{5}{6}$



11 In given fig.,  $\angle B = \angle C$  and  $AB = AC$ . Prove that  $\triangle ABE \cong \triangle ACD$ . 1

दिये गये आकृति में,  $\angle B = \angle C$  तथा  $AB = AC$  है। सिद्ध कीजिए कि  $\triangle ABE \cong \triangle ACD$ .

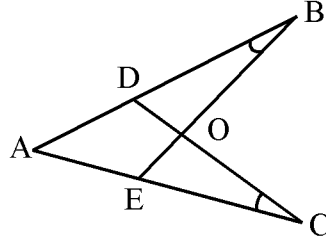


Fig. (आकृति)

OR / अथवा

(For Visually Impaired Candidates Only)

(केवल दृष्टि विकलांग विद्यार्थियों के लिए)

In  $\triangle ABC$  and  $\triangle PQR$ ,  $\angle A = \angle P$ ,  $\angle C = \angle R$  and  $AB = PQ$ .

Prove that  $\triangle ABC \cong \triangle PQR$ .

$\triangle ABC$  तथा  $\triangle PQR$  में  $\angle A = \angle P$ ,  $\angle C = \angle R$  तथा  $AB = PQ$ .

सिद्ध कीजिए कि  $\triangle ABC \cong \triangle PQR$ .

12  $ABC$  is an isosceles triangle such that  $AB = AC = 17$  cm and base  $BC = 16$  cm. 1

Find the length of median  $AG$ .

$ABC$  एक समद्विबाहु त्रिभुज है, जिसमें  $AB = AC = 17$  सेमी है तथा  $BC = 16$  सेमी है।

माध्यिका  $AG$  की लम्बाई ज्ञात कीजिए।



- 13 If  $\sin \theta = \frac{3}{5}$ , evaluate  $\cos \theta \cdot \cot \theta$ . 1

यदि  $\sin \theta = \frac{3}{5}$  है, तो  $\cos \theta \cdot \cot \theta$  का मान ज्ञात कीजिए।

- 14 Prove that :  $\tan \theta + \cot \theta = \sec \theta \cdot \operatorname{cosec} \theta$ . 1

सिद्ध कीजिए कि :  $\tan \theta + \cot \theta = \sec \theta \cdot \operatorname{cosec} \theta$ .

- 15 Construct a cumulative frequency distribution table for the following : 1

निम्न के लिए एक संचयी बारंबारता बंटन सारिणी बनाईए :

Class (वर्ग)	0-10	10-20	20-30	30-40	40-50	50-60
Frequency (बारंबारता)	3	10	24	32	9	7

- 16 Simplify :  $\left(\frac{2}{3} + \frac{7}{8}\right) \times \frac{8}{25} \div \frac{37}{15}$ . 2

सरल कीजिए :  $\left(\frac{2}{3} + \frac{7}{8}\right) \times \frac{8}{25} \div \frac{37}{15}$ .

- 17 Multiply  $5\sqrt[3]{160}$  and  $11\sqrt[3]{400}$  and hence simplify the result. 2

$5\sqrt[3]{160}$  को  $11\sqrt[3]{400}$  से गुणा कीजिए तथा उत्तर को सरल कीजिए।

- 18 Find the sum which when increased by 15% becomes ₹ 19,320. 2

वह राशि ज्ञात कीजिए जिसे 15% बढ़ाने पर ₹ 19,320 हो जाए।





- 19 If the mean of the following data is 18.6 determine the value of  $p$  : 2  
 यदि निम्नलिखित आँकड़ों का माध्य 18.6 है, तो  $p$  का मान ज्ञात कीजिए :

$x$	15	16	19	20	$p$
$f$	3	8	5	4	10

- 20 In the given fig.,  $OD$  is perpendicular to the chord  $AB$  of a circle with centre  $O$  and  $BC$  is the diameter. Prove that  $CA = 2 OD$ . 2  
 दिये गये आकृति में,  $OD$  केन्द्र  $O$  वाले वृत्त की एक जीवा  $AB$  पर लंब है तथा  $BC$  वृत्त का व्यास है। सिद्ध कीजिए कि  $CA = 2 OD$ .

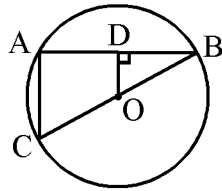


Fig. (आकृति)

- 21 In the given fig., if  $AC = BC$  and  $AB$  is the diameter of the circle, find  $\angle x, \angle y, \angle z$ . 2  
 दिये गये आकृति में, यदि  $AC = BC$  है तथा  $AB$  वृत्त का व्यास है, तो  $\angle x, \angle y, \angle z$  ज्ञात कीजिए ।

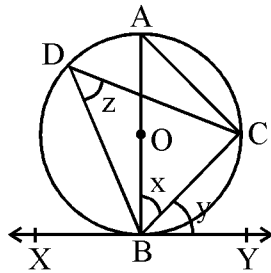


Fig. (आकृति)

OR / अथवा



(For Visually Impaired Candidates Only)

(केवल दृष्टि विकलांग विद्यार्थियों के लिए)

$O$  is the centre of the circle. Points  $A, B, C$  lie on the circle. If  $\angle AOC = 120^\circ$  then find  $\angle ABC$ .

$O$  वृत्त का केन्द्र है। बिंदुओं  $A, B, C$  वृत्त पर स्थित हैं। यदि  $\angle AOC = 120^\circ$  है, तो  $\angle ABC$  ज्ञात कीजिए।

- 22 Find the diameter of the circle whose centre is at  $(2, 0)$  and which passes through the point  $(7, -12)$ . 2

उस वृत्त का व्यास ज्ञात कीजिए जिसका केन्द्र  $(2, 0)$  पर है तथा जो बिन्दु  $(7, -12)$  से हो कर जाता है।

- 23 Find the area of triangle of sides 13 cm, 14 cm and 15 cm. 2

एक त्रिभुज, जिसकी भुजाएँ 13 सेमी, 14 सेमी तथा 15 सेमी हैं, का क्षेत्रफल ज्ञात कीजिए।

- 24 A farmer buys a circular field at the rate of ₹ 700 per  $m^2$  for ₹ 4,31,200. 2

Find the perimeter of the field.  $\left( \text{Use } \pi = \frac{22}{7} \right)$

एक किसान एक वृत्ताकार खेत, ₹ 700 प्रति वर्ग मीटर की दर से ₹ 4,31,200 में खरीदता

है। खेत का परिमाप ज्ञात कीजिए।  $\left( \pi = \frac{22}{7} \text{ लीजिए} \right)$



- 25 Prove that :  $\frac{1-\sin A}{1+\sin A} = (\sec A - \tan A)^2$ . 2

सिद्ध कीजिए कि :  $\frac{1-\sin A}{1+\sin A} = (\sec A - \tan A)^2$ .

- 26 The perimeter of a rectangular garden is 20 m. If the length is 4 m more than the breadth, find the length and breadth of the garden. Hence find its area. 4

एक आयताकार बाग का परिमाण 20 मी है। यदि इसकी लंबाई, इसकी चौड़ाई से 4 मी अधिक है, तो बाग की लंबाई व चौड़ाई ज्ञात कीजिए। अंततः इसका क्षेत्रफल ज्ञात कीजिए।

- 27 Find the sum of all 3-digit numbers which leave the remainder 2 when divided by 5. 4

3-अंकों की ऐसी सभी संख्याओं का योग ज्ञात कीजिए, जिन्हें 5 से भाग करने पर 2 शेष बचता हो।

- 28 The cost of a car was ₹ 4,50,000 in January, 2010. If the rate of depreciation is 15% for the first year and 10% for the subsequent years, find its value after 3 years. 4

जनवरी 2010 में एक कार का मूल्य ₹ 4,50,000 है। यदि पहले वर्ष अवमूल्यन की दर 15% तथा अगले वर्षों में 10% है, तो 3 वर्ष के पश्चात इसका मूल्य ज्ञात कीजिए।

- 29 In a right triangle, prove that the square on the hypotenuse is equal to sum of the squares on the other two sides. 4

सिद्ध कीजिए कि एक समकोण त्रिभुज में कर्ण का वर्ग, अन्य दो भुजाओं के वर्गों के योग के बराबर होता है।



- 30 In the given fig.,  $PT$  is a tangent to the circle from an external point  $P$ . Chord  $AB$  of the circle, when produced meets  $TP$  in  $P$ .  $TA$  and  $TB$  are joined and  $TM$  is the angle-bisector of  $\angle ATB$ . If  $\angle PAT = 40^\circ$  and  $\angle ATB = 60^\circ$  show that  $PM = PT$ . 4

दिये गये आकृति में,  $PT$  वृत्त के एक बाह्य बिन्दु  $P$  से वृत्त पर स्पर्श रेखा है। वृत्त की जीवा  $AB$  बढ़ाने पर  $TP$  को  $P$  पर मिलती है।  $TA$  तथा  $TB$  को मिलाया गया है तथा  $TM$  कोण  $ATB$  का समद्विभाजक है। यदि  $\angle PAT = 40^\circ$  तथा  $\angle ATB = 60^\circ$  है, तो दर्शाइए कि  $PM = PT$ ।

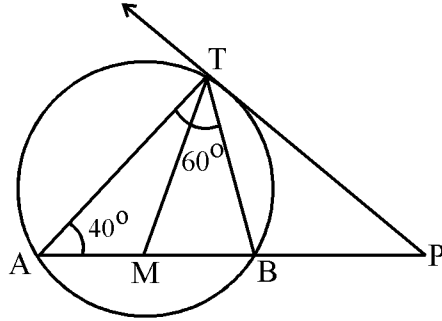


Fig. (आकृति)

OR / अथवा

(For Visually Impaired Candidates Only)

(केवल दृष्टि विकलांग विद्यार्थियों के लिए)

Two circles intersect in  $A$  and  $B$ .  $AC$  and  $AD$  are the diameters of the circles. Prove that  $C$ ,  $B$  and  $D$  are collinear.

दो वृत्त  $A$  और  $B$  में प्रतिच्छेद करते हैं।  $AC$  और  $AD$  दोनों वृत्त के व्यास हैं। सिद्ध कीजिए कि  $C$ ,  $B$  और  $D$  संरेखी हैं।



- 31 A person standing on the bank of a river observes that the angle of elevation of the top of a tree standing on the opposite bank is  $60^\circ$ . When he moves 40 metres away from the bank, he finds the angle to be  $30^\circ$ . Find the height of the tree and the width of the river. 4

एक व्यक्ति नदी के एक किनारे पर खड़ा होकर दूसरे किनारे पर लगे पेड़ के शिखर का उन्नयन कोण  $60^\circ$  पाता है। जब वह 40 मी पीछे हट जाता है, तो कोण  $30^\circ$  हो जाता है। पेड़ की ऊँचाई और नदी की चौड़ाई ज्ञात कीजिए।

- 32 For the following frequency distribution, find the median and the mode : 4

निम्न बारंबारता बंटन का मध्यस्थ तथा बहुलक ज्ञात कीजिए :

$x_i$ :	5	10	15	20	25	30	35	40
$f_i$ :	3	7	12	20	28	31	28	26

- 33 Two different dice are thrown at the same time. Find the probability of getting : 4

- (i) the sum of numbers on the two dice, greater than 9.  
(ii) the sum of numbers on the two dice, less than 6.

दो विभिन्न पासों को एक साथ उछाला गया। प्रायिकता ज्ञात कीजिए कि :

- (i) दोनों पासों पर आई संख्याओं का योग 9 से अधिक हो।  
(ii) दोनों पासों पर आई संख्याओं का योग 6 से कम हो।

- 34 The product of digits of a two digit number is 24. When 18 is added to the number, the digits interchange their places. Determine the number. 6

दो अंकों वाली एक संख्या के अंकों का गुणनफल 24 है। जब इस संख्या में 18 जोड़ दिया जाए, तो अंकों के स्थान पलट जाते हैं। संख्या ज्ञात कीजिए।



- 35 Construct a  $\triangle ABC$  in which  $AB = 6$  cm,  $BC = 4$  cm and the median  $CD = 3.5$  cm. 6

Then construct another triangle, whose sides are  $\frac{3}{4}$  times the corresponding sides of  $\triangle ABC$ .

एक त्रिभुज  $ABC$  की रचना कीजिए जिसमें  $AB = 6$  सेमी,  $BC = 4$  सेमी तथा माध्यिका  $CD = 3.5$  सेमी है। अब एक अन्य त्रिभुज की रचना कीजिए, जिसकी भुजाएँ,  $\triangle ABC$  की संगत भुजाओं की  $\frac{3}{4}$  गुनी हों।

**OR / अथवा**

**(For Visually Impaired Candidates Only)**

(केवल दृष्टि विकलांग विद्यार्थियों के लिए)

Write the steps of construction to draw two tangents to a circle from a given point outside it.

एक वृत्त के बाहर दिए गए किसी बिन्दु से वृत्त पर खींचे जाने वाली दो स्पर्श रेखाओं की रचना करने के लिए रचना के चरण लिखिए।

- 36 Find the curved surface area of a right circular cone of volume  $12936$  cm<sup>3</sup> and base diameter 42 cm. 6


एक लंबवृत्तीय शंकु जिसका आयतन  $12936$  घन सेमी है, तथा आधार का व्यास 42 सेमी है, के वक्र पृष्ठ का क्षेत्रफल ज्ञात कीजिए।





Roll No.  
अनुक्रमांक

--	--	--	--	--	--	--	--	--	--	--	--	--	--	--	--	--	--	--	--



This Question Paper consists of 30 questions and 12 printed pages.

इस प्रश्न-पत्र में 30 प्रश्न तथा 12 मुद्रित पृष्ठ हैं ।

Roll No. 

--	--	--	--	--	--	--	--	--	--	--

अनुक्रमांक

Code No. 53/AS/3

कोड नं.

Set- 

A
---

## SCIENCE AND TECHNOLOGY

(विज्ञान एवं प्रौद्योगिकी)

(212)

Day and Date of Examination

(परीक्षा का दिन व दिनांक)

\_\_\_\_\_

Signature of Invigilators

1.

\_\_\_\_\_

(निरीक्षकों के हस्ताक्षर)

2.

\_\_\_\_\_

General Instructions :

- 1 Candidate must write his/her Roll Number on the first page of the Question Paper.
- 2 Please check the Question Paper to verify that the total pages and the total number of questions contained in the Question Paper are the same as those printed on the top of the first page. Also check to see that the questions are in sequential order.
- 3 For the objective type of questions, you have to choose any **one** of the four alternatives given in the question i.e. (A), (B), (C) or (D) and indicate your correct answer in the Answer-Book given to you.
- 4 All the questions including objective type questions are to be answered within the allotted time and no separate time limit is fixed for answering objective type questions.
- 5 Making any identification mark in the Answer-Book or writing Roll Number anywhere other than the specified places will lead to disqualification of the candidate.
- 6 Write your Question Paper code No. 53/AS/3- 

A
---

 on the Answer-Book.
- 7 (a) The Question Paper is in English/Hindi medium only. However, if you wish, you can answer in any one of the languages listed below :  
English, Hindi, Urdu, Punjabi, Bengali, Tamil, Malayalam, Kannada, Telugu, Marathi, Oriya, Gujarati, Konkani, Manipuri, Assamese, Nepali, Kashmiri, Sanskrit and Sindhi.  
You are required to indicate the language you have chosen to answer in the box provided in the Answer-Book.  
(b) If you choose to write the answer in the language other than Hindi and English, the responsibility for any errors/mistakes in understanding the question will be yours only.





सामान्य अनुदेश :

- 1 परीक्षार्थी प्रश्नपत्र के पहले पृष्ठ पर अपना अनुक्रमांक अवश्य लिखें ।
- 2 कृपया प्रश्नपत्र को जाँच लें कि प्रश्नपत्र के कुल पृष्ठों तथा प्रश्नों की उतनी ही संख्या है जितनी प्रथम पृष्ठ के सबसे ऊपर छपी है । इस बात की जाँच भी कर लें कि प्रश्न क्रमिक रूप में हैं ।
- 3 वस्तुनिष्ठ प्रश्नों में आपको चार विकल्पों (A), (B), (C) तथा (D) में से कोई एक उत्तर चुनना है तथा दी गई उत्तर-पुस्तिका में आप सही उत्तर लिखिए ।
- 4 वस्तुनिष्ठ प्रश्नों के साथ-साथ सभी प्रश्नों के उत्तर निर्धारित अवधि के भीतर ही देने हैं । वस्तुनिष्ठ प्रश्नों के लिए अलग से समय नहीं दिया जाएगा ।
- 5 उत्तर-पुस्तिका में पहचान-चिह्न बनाने अथवा निर्दिष्ट स्थानों के अतिरिक्त कहीं भी अनुक्रमांक लिखने पर परीक्षार्थी को अयोग्य ठहराया जायेगा ।
- 6 अपनी उत्तर-पुस्तिका पर प्रश्नपत्र की कोड संख्या **53/AS/3-**A लिखें ।
- 7 (क) प्रश्नपत्र केवल हिंदी/अंग्रेजी में है । फिर भी, यदि आप चाहें तो नीचे दी गई किसी एक भाषा में उत्तर दे सकते हैं :  

अंग्रेजी, हिंदी, उर्दू, पंजाबी, बँगला, तमिल, मलयालम, कन्नड़, तेलुगु, मराठी, उड़िया, गुजराती, कोंकणी, मणिपुरी, असमिया, नेपाली, कश्मीरी, संस्कृत और सिंधी ।

कृपया उत्तर-पुस्तिका में दिए गए बॉक्स में लिखें कि आप किस भाषा में उत्तर लिख रहे हैं ।
- (ख) यदि आप हिंदी एवं अंग्रेजी के अतिरिक्त किसी अन्य भाषा में उत्तर लिखते हैं तो प्रश्न को समझने में होने वाली त्रुटियों / गलतियों की जिम्मेदारी केवल आपकी होगी ।



# SCIENCE AND TECHNOLOGY

(विज्ञान एवं प्रौद्योगिकी)

(212)

Time :  $2\frac{1}{2}$  Hours]

[Maximum Marks : 85

समय :  $2\frac{1}{2}$  घण्टे]

[पूर्णांक : 85

- Note :** (1) All questions are **compulsory**.  
(2) Marks are indicated against each question.

- निर्देश :** (1) सभी प्रश्न अनिवार्य हैं ।  
(2) प्रत्येक प्रश्न के अंक उसके सामने दिए गये हैं ।

- 1 Disinfectants are : 1
- (A) strong oxidizers (B) strong reducers  
(C) weak oxidizers (D) weak reducers
- निस्संक्रामक होते हैं –
- (A) शक्तिशाली ऑक्सीकारक (B) शक्तिशाली अपचायक  
(C) दुर्बल उपचायक (D) दुर्बल अपचायक
- 2 Why do we use cotton to make wick of a spirit lamp ? 1
- (A) Cotton can easily be given shape of wick as it is soft and lighter.  
(B) Cotton has higher ignition temperature as compared to spirit.  
(C) Cotton has thread strands which act like fine capillaries.  
(D) Cotton is cheap and easily available.
- स्प्रिट लैम्प की बत्ती के लिए हम रूई का उपयोग क्यों करते हैं ?
- (A) मुलायम तथा हल्का होने के कारण रूई को बत्ती का आकार आसानी से दिया जा सकता है ।  
(B) स्प्रिट की अपेक्षा रूई का प्रज्वलन ताप अधिक होता है ।  
(C) रूई में धागे के रेशे होते हैं जो बारीक केशिकाओं की तरह काम करते हैं ।  
(D) रूई सस्ती है और आसानी से उपलब्ध हो जाती है ।



3 Which of the following is **NOT** related to community health ?

1

- (A) Immunization of children against polio
- (B) Treatment of diabetic patients by a doctor
- (C) Cleanliness of locality
- (D) Outbreak of dengue in a town

निम्नलिखित में से कौन सामुदायिक स्वास्थ्य से संबंधित नहीं है ?

- (A) पोलियो की रोकथाम के लिए बच्चों का प्रतिरक्षण
- (B) मधुमेह से ग्रसित रोगी का डाक्टर द्वारा उपचार
- (C) मुहल्ले की सफाई
- (D) शहर में डेंगी ज्वर का प्रकोप

4 If an accident victim of unknown blood group has to be given blood immediately, the safest blood group for transfusion is :

1

- (A) O group and Rh<sup>-</sup>
- (B) O group and Rh<sup>+</sup>
- (C) AB group and Rh<sup>+</sup>
- (D) AB group and Rh<sup>-</sup>

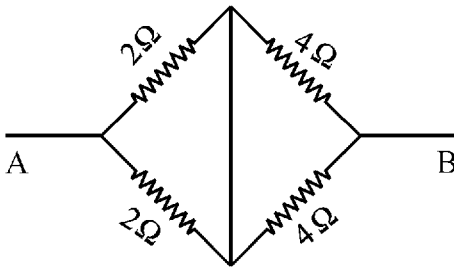
एक अज्ञात रक्त समूह वाले दुर्घटना के शिकार व्यक्ति को तुरन्त रक्ताधान के लिए सुरक्षित रक्त समूह है :

- (A) O समूह और Rh<sup>-</sup>
- (B) O समूह और Rh<sup>+</sup>
- (C) AB समूह और Rh<sup>+</sup>
- (D) AB समूह और Rh<sup>-</sup>

5 The equivalent resistance of the following combination of resistors between point A and B will be equal to :

1

नीचे दिए गए प्रतिरोधक संयोजन का बिन्दु A तथा B के बीच परिणामी प्रतिरोध है :



- (A) 3 Ω
- (B) 4 Ω
- (C) 6 Ω
- (D) 12 Ω



6 A test tube contains a solution 'X' in which the concentration of  $H^+$  (aq) is greater than that of  $OH^-$  (aq) ions. On adding few drops of methyl orange in the test the colour of solution will be : 1

- (A) Blue (B) Orange  
(C) Red (D) Yellow

एक परखनली में रखे विलयन 'X' में  $H^+$  (aq) आयनों की सांद्रता  $OH^-$  (aq) आयनों की सांद्रता से अधिक है। मिथाइल ऑरेंज की कुछ बूंदें परखनली में डालने पर इसका रंग होगा –

- (A) नीला (B) नारंगी  
(C) लाल (D) पीला

7 The carboxylic acid  $CH_3 - \overset{O}{\parallel} C - OH$  is present in : 1

- (A) sour milk (B) vitamin C  
(C) vinegar (D) citrus fruits

कार्बोक्सिलिक अम्ल  $CH_3 - \overset{O}{\parallel} C - OH$  पाया जाता है –

- (A) खट्टे दूध में (B) विटामिन C में  
(C) सिरके में (D) नींबू प्रजाति के फलों में

8 The crop which increases the soil fertility after harvesting is : 1

- (A) Wheat (B) Rice  
(C) Potato (D) Peas

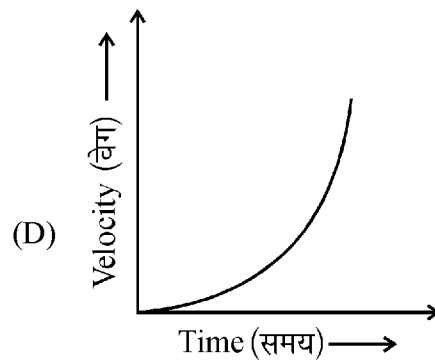
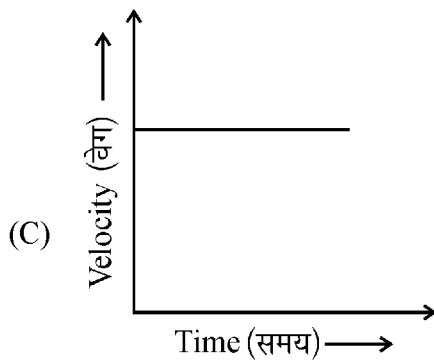
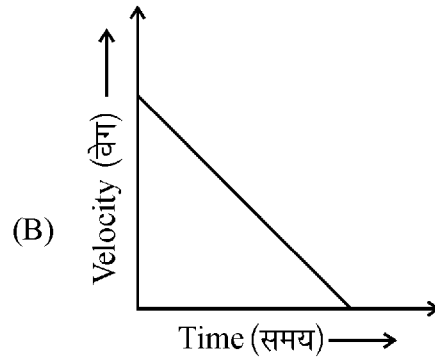
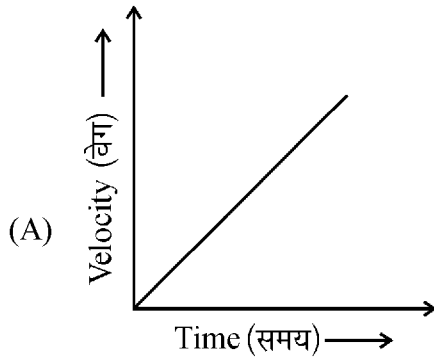
निम्नलिखित में से किस फसल के कटने के बाद भूमि की उर्वरता बढ़ जाती है ?

- (A) गेहूँ (B) चावल  
(C) आलू (D) मटर



- 9 Which of the following velocity-time graphs represents the motion of an object falling under gravity ? 1

निम्नलिखित में से कौन सा वेग-समय ग्राफ गुरुत्व के अधीन नीचे गिरती हुई एक वस्तु की गति को निरूपित करता है ?



- 10 Write full form of CNG. What is its main constituent ? Why is CNG considered cleaner fuel for automobiles as compared to petrol and diesel ? 2

CNG का पूरा रूप लिखिए । इसका मुख्य घटक क्या है ? पेट्रोल और डीजल की अपेक्षा CNG को स्वचालित वाहनों के लिए स्वच्छ ईंधन क्यों माना जाता है ?

- 11 Can a bimetallic strip made of brass and silver be used in a thermostat ? Give reason for your answer. (Given  $\alpha$  for brass and silver are equal) 2

तापस्थापी में क्या पीतल तथा चाँदी से बनी द्विधातु पट्टी का उपयोग किया जा सकता है ? अपने उत्तर के लिए कारण बताइए । (दिया है पीतल और चाँदी के लिए  $\alpha$  का मान एकसमान है ।)



- 12 Give one example each of a change occurring through (i) Meiosis and (ii) Mitosis in a girl. 2

‘समसूत्री विभाजन’ तथा ‘अर्धसूत्री विभाजन’ द्वारा किसी लड़की में होने वाले परिवर्तनों का एक-एक उदाहरण दीजिए ।

- 13 Why do passengers standing in a moving bus feel a forward jerk when the driver applies the brakes suddenly ? 2

जब ड्राइवर अचानक ब्रेक लगाता है तब चलती बस में खड़े हुए यात्रियों को आगे की ओर झटके का अनुभव क्यों होता है ?

- 14 Draw a ray diagram to explain formation of enlarged and erect image of a tiny object in a concave mirror. 2

अवतल दर्पण में एक नन्ही वस्तु का आवर्धित और सीधा प्रतिबिम्ब बनना दर्शाने के लिए एक किरण-आरेख बनाइए ।

- 15 Why is it advisable to seek genetic counselling in case of marriages between close relatives ? 2

करीबी रिश्तेदारों के बीच विवाह के मामले में आनुवंशिकी संबंधी परामर्श लेना क्यों उचित है ?

- 16 Why do many food items containing fats and oils give unpleasant smell and bad taste, if not consumed for a long time ? 2

ऐसी खाद्य वस्तुएँ जिनमें वसा अथवा तेल होता है, अधिक समय तक प्रयोग में न लाने पर अप्रिय गंध और बुरा स्वाद क्यों देने लगती हैं ?

- 17 Write two differences between base units and derived units. Derive the SI unit of energy in terms of base units. What is the special name assigned to this unit ? 4

मूल मात्रकों तथा व्युत्पन्न मात्रकों के बीच दो अन्तर बताइए । ऊर्जा का SI मात्रक मूल मात्रकों के पदों में व्युत्पन्न कीजिए । इस मात्रक का विशिष्ट नाम क्या है ?



- 18 What are volatile organic compounds (VOCs) and suspended particulate matter (SPM) ? Why are they considered air pollutants ? List their sources and harmful effects on human beings. 4

वाष्पशील कार्बनिक यौगिक (VOCs) तथा लंबित कणिकीय पदार्थ (SPM) क्या हैं ? इनको वायु प्रदूषक क्यों माना जाता है ? इनके स्रोत तथा मनुष्यों पर पड़ने वाले नुकसानदायक प्रभावों की सूची बनाइए ।

- 19 (a) Differentiate between molar mass and molecular mass. Write the value of molar mass and molecular mass of sodium chloride with proper units. (Atomic mass : Na = 23, Cl = 35.5) 4

(b) A glass tumbler contains 72 g of water. Calculate the number of water molecules present in the tumbler.

(a) मोलर द्रव्यमान तथा आण्विक द्रव्यमान में भेद कीजिए । सोडियम क्लोराइड का मोलर द्रव्यमान तथा आण्विक द्रव्यमान का मान इनके उपयुक्त मात्रकों सहित लिखिए । (सोडियम का परमाणु द्रव्यमान = 23 और क्लोरीन का परमाणु द्रव्यमान = 35.5)

(b) एक काँच के गिलास में 72 g जल है । गिलास में उपस्थित जल के अणुओं का परिकलन कीजिए ।

- 20 (a) The weight of two metallic spheres, each of 200 g and radius 4 cm and 10 cm respectively are measured in water and vacuum. How will the ratio of their weights change in water and in vacuum ? Explain. 4

(b) A cricket ball thrown vertically upward with a velocity  $49 \text{ ms}^{-1}$  is caught back at the point from where it was thrown upward by a player. Calculate the total time taken by the player in catching back the ball after throwing it upward.

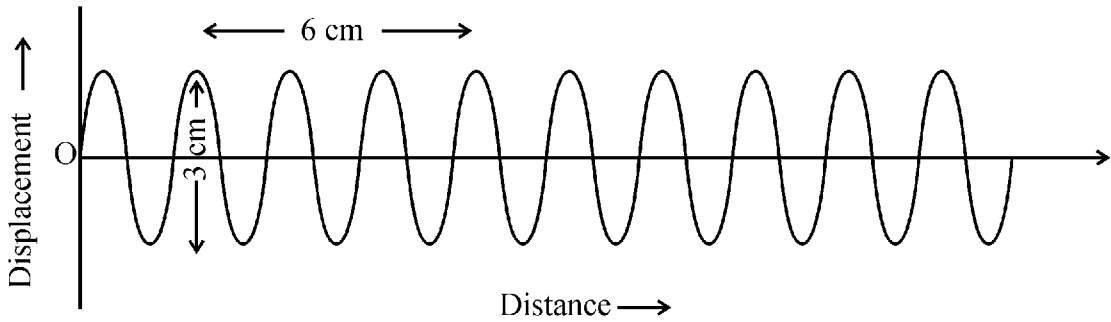
(a) दो धातु के गोलों में प्रत्येक का द्रव्यमान 200 g है तथा त्रिज्या क्रमशः 4 cm तथा 10 cm हैं । जल तथा निर्वात में मापने पर इनके भारों के अनुपात में क्या परिवर्तन होगा ? व्याख्या कीजिए ।

(b) एक क्रिकेट गेंद को ऊर्ध्वाधरतः ऊपर की ओर  $49 \text{ ms}^{-1}$  के वेग से फेंक कर वापिस उसी बिन्दु पर खिलाड़ी उसे लपक लेता है जहाँ से गेंद को फेंका गया था । ऊपर फेंकने के पश्चात खिलाड़ी द्वारा गेंद को वापस लपकने में कुल समय का परिकलन कीजिए ।



- 21 Figure given below represents number of waves emitted by a source placed at O in 2 s.

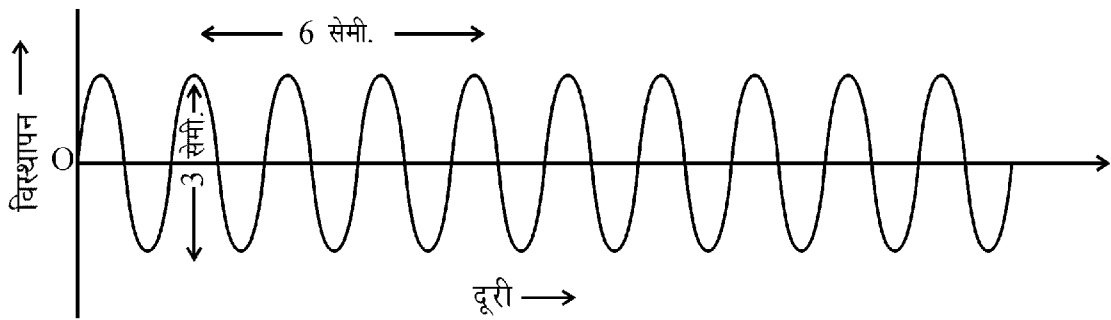
4



On the basis of the figure find :

- Frequency of the wave
- Wavelength of the wave
- Amplitude of the wave and
- Wave velocity

नीचे दिये गए चित्र में, बिंदु O पर रखे एक स्रोत से दो सेकंड में निकली तरंगों की संख्या प्रदर्शित की गई है ।



इस चित्र के आधार पर ज्ञात कीजिए :

- तरंग की आवृत्ति
- तरंग का तरंगदैर्घ्य
- तरंग का आयाम
- तरंग गति





22 (a) What will happen when 4

(i) a silver coin is placed in a solution of copper sulphate

(ii) a copper coin is placed in a solution of silver nitrate.

Give reasons for your answer.

(b) Explain, why does a copper statue lose its beautiful luster on being kept in open for some months and a green layer is deposited over it.

(a) क्या होगा जब,

(i) चाँदी के सिक्के को कॉपर सल्फेट के विलयन में रखा जाए

(ii) कॉपर (ताँबा) के सिक्के को सिल्वर नाइट्रेट के विलयन में रखा जाए

अपने उत्तर के लिए कारण बताइए ।

(b) व्याख्या कीजिए कि क्यों एक ताँबे की मूर्ति कुछ महीने खुले में रखने पर अपनी सुन्दर चमक खो देती है और उस पर हरी परत जम जाती है ।

23 Differentiate between the detritus food chain and grazing food chain with the help of suitable examples. What is the significance of food chain and food web ? 4

उपयुक्त उदाहरणों की सहायता से अपरद खाद्य-शृंखला और चारागाह खाद्य-शृंखला में भेद कीजिए । खाद्य-शृंखला तथा खाद्य-जाल का क्या महत्व है ?

24 (a) Draw the structure of phosphorus atom according to Bohr's model of atom. Write the valency of phosphorus. (Atomic number of phosphorus = 15) 4

(b) What will happen when an electron of phosphorus atom changes its position from L-shell to M-shell ? Explain.

(a) बोर परमाणु मॉडल के अनुसार फास्फोरस परमाणु की संरचना बनाइए । फास्फोरस की संयोजकता लिखिए । (फास्फोरस का परमाणु क्रमांक = 15)

(b) फास्फोरस परमाणु में यदि एक इलेक्ट्रॉन अपनी स्थिति L-कोश से M-कोश में बदलता है तो क्या होगा ? व्याख्या कीजिए ।



- 25 (a) What are enzymes ? List three pancreatic enzymes and state their functions in the digestion of nutrients. 4
- (b) Why are we advised to chew our food well ?
- (a) एंजाइम क्या होते हैं ? तीन अग्न्याशयी एंजाइमों की सूची बनाइए तथा पोषक पदार्थों के पचाने में इनका प्रकार्य बताइए ।
- (b) हमें अपने भोजन को अच्छी प्रकार चबाने की सलाह क्यों दी जाती है ?
- 26 (a) Why is Alternating Current (AC) widely used as compared to Direct Current (DC) for industrial as well as domestic purposes ? Give any two reasons. 4
- (b) Represent AC and DC graphically.
- (a) औद्योगिक एवं घरेलू कार्यों में दिष्ट धारा (DC) की अपेक्षा प्रत्यावर्ती धारा (AC) का व्यापक रूप से क्यों उपयोग किया जाता है ? कोई दो कारण बताइए ।
- (b) AC तथा DC को ग्राफ द्वारा दर्शाइए ।
- 27 (a) How and why does relative atomic size of elements Lithium (atomic number = 3) and Oxygen (atomic number = 8) present in period 2 of modern periodic table vary ? 4
- (b) What is the common name given to the elements present in Group 18 of modern periodic table, state their four characteristics.
- (a) आधुनिक आवर्त सारणी के दूसरे आवर्त में स्थित तत्वों लीथियम (परमाणु क्रमांक = 3) तथा ऑक्सीजन (परमाणु क्रमांक = 8) का सापेक्ष परमाणु आकार कैसे और क्यों भिन्न हैं ?
- (b) आधुनिक आवर्त सारणी के समूह-18 में स्थित तत्वों का सामान्य नाम क्या है ? इनकी चार विशेषताएँ बताइए ।



- 28 (a) Draw a simple diagram of human excretory system and label following parts on it : 6
- (i) Kidney
  - (ii) Ureters
  - (iii) Bladder and
  - (iv) Urethra
- (b) Write two important functions of kidney.
- (a) मानव उत्सर्जन तंत्र का एक सरल आरेख बनाइये । इसमें निम्न भागों को नामांकित कीजिए :
- (i) वृक्क
  - (ii) मूत्रवाहिनी
  - (iii) मूत्राशय
  - (iv) मूत्रमार्ग
- (b) वृक्क के दो महत्वपूर्ण कार्य लिखिए ।
- 29 (a) What is meant by global warming ? Explain its causes. Why should global warming be considered global environmental problem ? Mention any other two global environmental problems. 6
- (b) Write any four serious consequences of global warming.
- (a) वैश्विक ऊष्मन से क्या अभिप्राय है ? इसके कारण बताइए । वैश्विक ऊष्मन को एक वैश्विक पर्यावरणीय समस्या क्यों माना जाना चाहिए ? किन्हीं अन्य दो वैश्विक पर्यावरणीय समस्याओं का उल्लेख कीजिए ।
- (b) वैश्विक ऊष्मन के कोई चार बहुत गंभीर परिणाम लिखिए ।
- 30 Describe the formation of ionic bond between sodium and chlorine atoms to form sodium chloride. Explain, why are the melting and boiling points of ionic compounds higher as compared to covalent compounds. 6
- सोडियम क्लोराइड में सोडियम एवं क्लोरीन परमाणुओं के बीच आयनिक आबंध के निर्माण की व्याख्या कीजिये । आयनिक यौगिकों का गलनांक और क्वथनांक सहसंयोजी यौगिकों की तुलना में अधिक क्यों होता है ?



This Question Paper consists of 29 questions and 10 printed pages + one outline map of India.  
इस प्रश्न-पत्र में 29 प्रश्न तथा 10 मुद्रित पृष्ठ + भारत का एक रेखा-मानचित्र है।

Roll No. 

--	--	--	--	--	--	--	--	--	--	--

  
अनुक्रमांक

Code No. 53/AS/3  
कोड नं.

Set- 

A
---

**SOCIAL SCIENCE**  
(सामाजिक विज्ञान)  
(213)

**Day and Date of Examination**  
(परीक्षा का दिन व दिनांक)

\_\_\_\_\_

**Signature of Invigilators**

1. \_\_\_\_\_

(निरीक्षकों के हस्ताक्षर)

2. \_\_\_\_\_

**General Instructions :**

- 1 Candidate must write his/her Roll Number on the first page of the Question Paper.
- 2 Please check the Question Paper to verify that the total pages and the total number of questions contained in the Question Paper are the same as those printed on the top of the first page. Also check to see that the questions are in sequential order.
- 3 For the objective type of questions, you have to choose any **one** of the four alternatives given in the question i.e. (A), (B), (C) or (D) and indicate your correct answer in the Answer-Book given to you.
- 4 All the questions including objective type questions are to be answered within the allotted time and no separate time limit is fixed for answering objective type questions.
- 5 Making any identification mark in the Answer-Book or writing Roll Number anywhere other than the specified places will lead to disqualification of the candidate.
- 6 Write your Question Paper code No. 53/AS/3- 

A
---

 on the Answer-Book.
- 7 (a) The Question Paper is in English/Hindi medium only. However, if you wish, you can answer in any one of the languages listed below :  
English, Hindi, Urdu, Punjabi, Bengali, Tamil, Malayalam, Kannada, Telugu, Marathi, Oriya, Gujarati, Konkani, Manipuri, Assamese, Nepali, Kashmiri, Sanskrit and Sindhi.  
You are required to indicate the language you have chosen to answer in the box provided in the Answer-Book.  
(b) If you choose to write the answer in the language other than Hindi and English, the responsibility for any errors/mistakes in understanding the question will be yours only.



सामान्य अनुदेश :

- 1 परीक्षार्थी प्रश्नपत्र के पहले पृष्ठ पर अपना अनुक्रमांक अवश्य लिखें ।
- 2 कृपया प्रश्नपत्र को जाँच लें कि प्रश्नपत्र के कुल पृष्ठों तथा प्रश्नों की उतनी ही संख्या है जितनी प्रथम पृष्ठ के सबसे ऊपर छपी है । इस बात की जाँच भी कर लें कि प्रश्न क्रमिक रूप में हैं ।
- 3 वस्तुनिष्ठ प्रश्नों में आपको चार विकल्पों (A), (B), (C) तथा (D) में से कोई एक उत्तर चुनना है तथा दी गई उत्तर-पुस्तिका में आप सही उत्तर लिखिए ।
- 4 वस्तुनिष्ठ प्रश्नों के साथ-साथ सभी प्रश्नों के उत्तर निर्धारित अवधि के भीतर ही देने हैं । वस्तुनिष्ठ प्रश्नों के लिए अलग से समय नहीं दिया जाएगा ।
- 5 उत्तर-पुस्तिका में पहचान-चिन्ह बनाने अथवा निर्दिष्ट स्थानों के अतिरिक्त कहीं भी अनुक्रमांक लिखने पर परीक्षार्थी को अयोग्य ठहराया जायेगा ।
- 6 अपनी उत्तर-पुस्तिका पर प्रश्नपत्र की कोड संख्या **53/AS/3—A** लिखें ।
- 7 (क) प्रश्नपत्र केवल हिंदी/अंग्रेजी में है । फिर भी, यदि आप चाहें तो नीचे दी गई किसी एक भाषा में उत्तर दे सकते हैं :

अंग्रेजी, हिंदी, उर्दू, पंजाबी, बँगला, तमिल, मलयालम, कन्नड़, तेलुगु, मराठी, उड़िया, गुजराती, कोंकणी, मणिपुरी, असमिया, नेपाली, कश्मीरी, संस्कृत और सिंधी ।

कृपया उत्तर-पुस्तिका में दिए गए बॉक्स में लिखें कि आप किस भाषा में उत्तर लिख रहे हैं ।

- (ख) यदि आप हिंदी एवं अंग्रेजी के अतिरिक्त किसी अन्य भाषा में उत्तर लिखते हैं तो प्रश्न को समझने में होने वाली त्रुटियों / गलतियों की जिम्मेदारी केवल आपकी होगी ।



# SOCIAL SCIENCE

(सामाजिक विज्ञान)

(213)

Time : 3 Hours]

[Maximum Marks : 100

समय : 3 घण्टे]

[पूर्णांक : 100

- Note :**
- (1) All questions are **compulsory** and carry marks as indicated against each question.
  - (2) For Multiple Choice Questions **four** options are given. You have to choose right option and indicate it in your answer book.
  - (3) Attach the map with answer script.

- निर्देश :**
- (1) सभी प्रश्न अनिवार्य हैं और प्रत्येक प्रश्न के अंक उसके सामने दिये गये हैं ।
  - (2) वस्तुनिष्ठ प्रश्नों के चार-चार विकल्प दिये गये हैं। आप सही विकल्प चुनिये और अपनी उत्तर-पुस्तिका में लिखिये ।
  - (3) दिये गये मानचित्र को उत्तर-पुस्तिका के साथ संलग्न कीजिए ।

**1** In the given political outline map of India, mark and label the following with appropriate symbols : **1×4=4**

- (A) Kanyakumari
- (B) River Mahanadi
- (C) The state having lowest density of population according to 2001 census
- (D) Panchmarhi biosphere reserve

दिए गए भारत के राजनीतिक रेखा-मानचित्र में, निम्नलिखित को उपयुक्त चिन्हों से दर्शाईए तथा उनके नाम लिखिए :

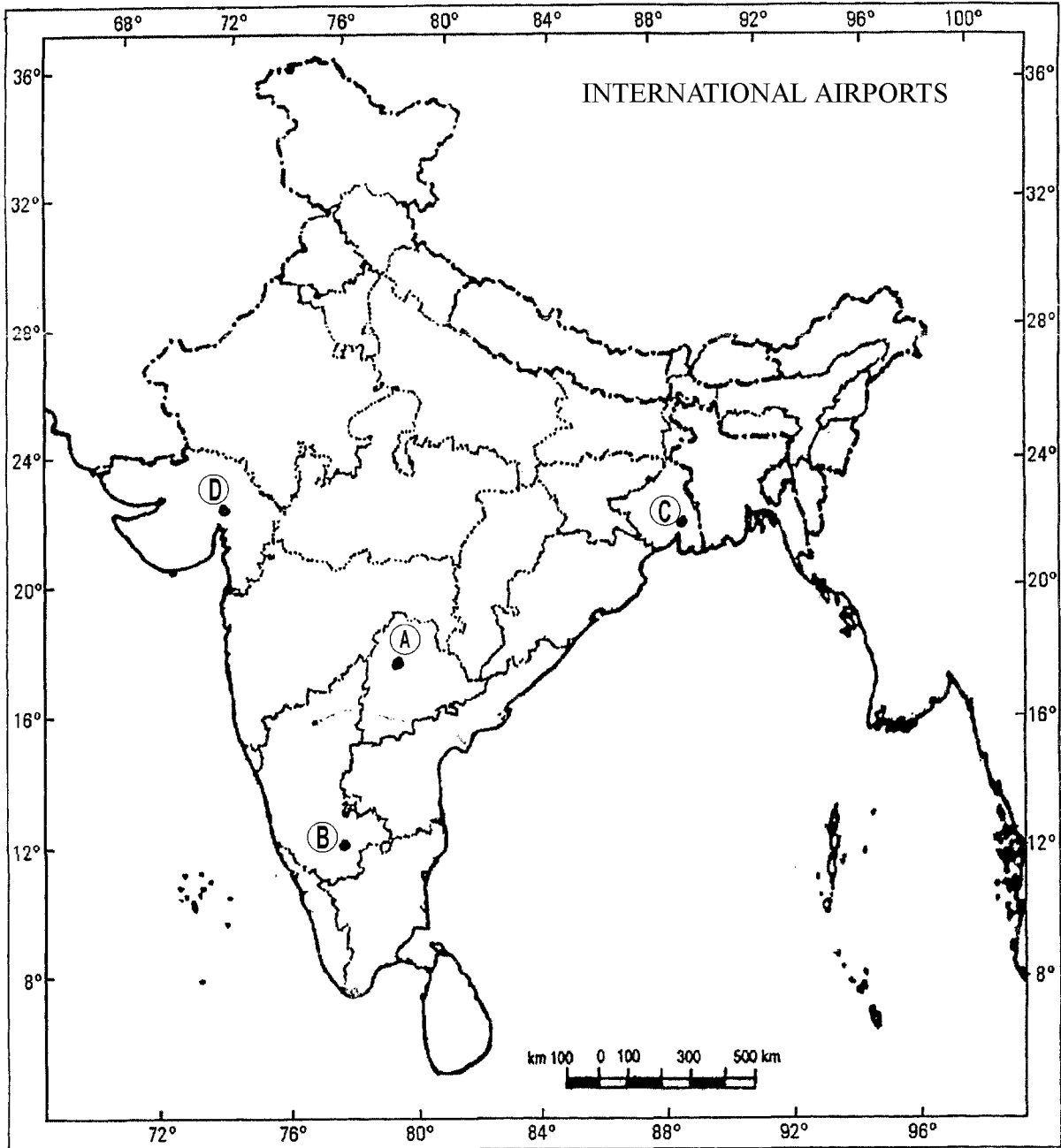
- (A) कन्याकुमारी
- (B) महानदी
- (C) 2001 जनगणना के अनुसार सबसे कम घनत्व वाला राज्य
- (D) पंचमढ़ी जैव आरक्षित क्षेत्र



2 Identify and write in your answer book the correct names of **four** major international airports shown as (A), (B), (C) and (D) in the given political outline map of India. **1×4=4**

दिए गए भारत के राजनीतिक रेखा-मानचित्र में चार प्रमुख अन्तर्राष्ट्रीय हवाई अड्डों को (A), (B), (C), (D) से दर्शाया गया है। उन्हें पहचानिए व उनके सही नाम अपनी उत्तर-पुस्तिका में लिखिए।

Political Map of India



**Note :** The following questions are for the **BLIND CANDIDATES ONLY** in lieu of Question No. 1 and 2.

**नोट :** नीचे दिए गए प्रश्न केवल दृष्टिहीन परीक्षार्थियों के लिए प्रश्न संख्या 1 तथा 2 के स्थान पर हैं।

- (i) What is a pass ? 1  
दर्रा क्या होता है ?
- (ii) Name any **two** passes situated in the Greater Himalayas. 2  
महान हिमालय में स्थित किन्हीं दो दर्रा के नाम लिखिए।
- (iii) Name the river along which Patna is located. 1  
उस नदी का नाम लिखिए जिसके किनारे पटना स्थित है।
- (iv) What is an estuary ? 1  
एश्चुयरी किसे कहते हैं ?
- (v) Name any **one** state which has more than **one** international airport. 1  
ऐसे किसी एक राज्य का नाम लिखिए जिसमें एक से अधिक अन्तर्राष्ट्रीय हवाई अड्डे स्थित हैं।
- (vi) What is the function of Pawanhans Helicopter Limited ? 1  
पवनहंस हेलिकॉप्टर लिमिटेड का कार्य क्या है ?
- (vii) What is the drawback of air transport ? 1  
हवाई परिवहन की कमी क्या है ?

**3** The tenure of a Rajya Sabha Member is : 1

- (A) 5 years (B) 6 years  
(C) 3 years (D) 2 years

राज्यसभा सदस्य का कार्यकाल होता है :

- (A) 5 वर्ष (B) 6 वर्ष  
(C) 3 वर्ष (D) 2 वर्ष





4 Which one of the following is **NOT** an indicator for measurement of economic disparity ? 1

- (A) Per capita income (B) Industrial growth  
(C) Topography (D) Poverty

निम्नलिखित में से कौन सा आर्थिक विषमताओं के मापन का सूचक नहीं है ?

- (A) प्रति व्यक्ति आय (B) औद्योगिक वृद्धि  
(C) स्थलाकृति (D) गरीबी

5 Why did Gandhi suspend his Non-Cooperation movement ? 1

- (A) British government accepted all his demands.  
(B) Due to differences among congress leaders.  
(C) Gandhiji was arrested during the movement.  
(D) Due to violence that erupted in Chauri Chaura.

गाँधीजी ने असहयोग आन्दोलन को क्यों स्थगित कर दिया ?

- (A) ब्रिटिश शासन ने उनकी सभी माँगें स्वीकार कर ली ।  
(B) काँग्रेस नेताओं के बीच मतभेद का होना ।  
(C) गाँधीजी को इस आन्दोलन के दौरान गिरफ्तार कर लिया गया ।  
(D) चौरीचौरा गाँव में हिंसा का होना ।

6 In which one of the following spheres was the least impact of iron felt during the Iron Age ? 1

- (A) Agriculture (B) Domestic activities  
(C) Transport and Communication (D) Warfare

निम्नलिखित में से कौन से क्षेत्र में लोहे का प्रभाव लौहयुग में सबसे कम अनुभव किया गया ?

- (A) कृषि (B) घरेलू कार्यकलाप  
(C) यातायात व संचार (D) युद्ध



- 7 How did the approach to peace and security evolve during the freedom movement ? 2  
शांति तथा सुरक्षा के उपागम का उद्भव राष्ट्रीय आन्दोलन के दौरान कैसे हुआ ?
- 8 Differentiate between subsistence and commercial farming. 2  
निर्वाह तथा वाणिज्यिक खेती में अन्तर स्पष्ट कीजिए ।
- 9 Differentiate between direct and indirect elections in India with examples. 2  
भारत में प्रत्यक्ष तथा अप्रत्यक्ष चुनावों के बीच उदाहरणों सहित अन्तर स्पष्ट कीजिए ।
- 10 The population of a district is 2,50,000 and its area is 1250 square km. 2  
What would be the density of population ?  
किसी एक जिले की जनसंख्या 2,50,000 तथा वहाँ का क्षेत्र 1250 वर्ग किमी. है ।  
वहाँ का जनसंख्या घनत्व क्या होगा ?
- 11 What was the reason behind the formation of United Nations Organisation (UNO) ? **1+3=4**  
State any **three** aims of the UNO.  
संयुक्त राष्ट्रसंघ (यू.एन.ओ.) के गठन के पीछे क्या कारण था ? यू.एन.ओ. के किन्हीं तीन उद्देश्यों का उल्लेख कीजिए ।
- 12 What was 'Dhamma' according to Ashoka ? Name any **four** places where edicts of Ashoka have been found. 2+2=4  
अशोक के अनुसार 'धम्म' से क्या तात्पर्य है ? ऐसे किन्हीं चार स्थानों के नाम लिखिए जहाँ उनके शिलालेख पाए गए हैं ।
- 13 State any **four** main features of hot weather season in India. 1×4=4  
भारत में ग्रीष्म ऋतु की किन्हीं चार विशेषताओं का उल्लेख कीजिए ।
- 14 What is the meaning of Constitution ? State any **four** provisions in the Constitution of India. 2+2=4  
संविधान से क्या अभिप्राय है ? भारत के संविधान के किन्हीं चार प्रावधानों का उल्लेख कीजिए ।



- 15 Why did the industrialised countries choose Asia and Africa to extend their dominance ? How did growth of transport and communication help in the spread of imperialism ? Give any **two** reasons. **2+2=4**

औद्योगिकीकृत राष्ट्रों ने एशिया तथा अफ्रीका का अपना प्रभुत्व फैलाने के लिए क्यों चुनाव किया ? साम्राज्यवाद के फैलने में यातायात व संचार के विकास ने किस प्रकार से सहायता की ? कोई दो कारण लिखिए ।

- 16 Explain any **four** disastrous effects of imperialism on colonies. **1×4=4**

उपनिवेशों पर साम्राज्यवाद के किन्हीं चार विनाशकारी प्रभावों की व्याख्या कीजिए ।

- 17 How did English education contribute to the rise of nationalism in India ? **1×4=4**  
Explain any **four** reasons.

अंग्रेजी शिक्षा ने भारत में राष्ट्रवाद की वृद्धि में किस प्रकार योगदान किया ? चार कारण स्पष्ट कीजिए ।

- 18 Explain any **four** characteristics of Tropical Evergreen forests. **1×4=4**

उष्णकटिबंधीय सदाबहार वनों की किन्हीं चार विशेषताओं की व्याख्या कीजिए ।

- 19 Explain any **four** provisions in the Constitution of India that have created a strong Central government. **1×4=4**

भारत के संविधान के किन्हीं चार प्रावधानों की व्याख्या कीजिए, जिनके कारण एक मजबूत केन्द्रीय सरकार की स्थापना हो पाई ।

- 20 Differentiate between Pressure groups and Interest groups by giving **four** points of distinction. **1×4=4**

दबाव समूहों तथा हित समूहों के मध्य चार अन्तर स्पष्ट कीजिए ।

- 21 Explain any **four** agencies which help to formulate public opinion. **1×4=4**

जनमत निर्माण करने में सहायक किन्हीं चार अभिकरणों की व्याख्या कीजिए ।



- 22 Explain any **four** corrective measures for the elimination of gender discrimination in India. 1×4=4

भारत में लैंगिक भेदभाव के उन्मूलन के लिए किन्हीं चार सुधारात्मक उपायों की व्याख्या कीजिए ।

- 23 Study the table given below and answer the questions that follow :

**Station 'A'**

Temperature (in °Celsius) and Rainfall (in cm)

Months	J	F	M	A	M	J	J	A	S	O	N	D
Temperature	27	27	28	29	29	27	26	26	27	27	27	27
Rainfall	23	21	39	106	208	356	223	146	138	273	206	75

- (i) Calculate the annual average temperature of Station A. 1
- (ii) Calculate the annual average rainfall of Station A. 1
- (iii) For how many months Station A receives more than 100 cm rainfall ? 1
- (iv) What type of climatic condition Station A represents ? 1

दी गई सारणी का अध्ययन कीजिए तथा उसके नीचे दिए गए प्रश्नों के उत्तर लिखिए :

**स्टेशन 'अ'**

तापमान (° सेल्सियस में) तथा वर्षा (सेमी में)

महीना	ज.	फ.	मा.	अ.	म.	जू.	जु.	अ.	सि.	अ.	न.	दि.
तापमान	27	27	28	29	29	27	26	26	27	27	27	27
वर्षा	23	21	39	106	208	356	223	146	138	273	206	75

- (i) स्टेशन 'अ' का औसत वार्षिक तापमान की गणना कीजिए ।
- (ii) स्टेशन 'अ' के औसत वार्षिक वर्षा की गणना कीजिए ।
- (iii) कितने महीनों में स्टेशन 'अ' में 100 सेमी से अधिक वर्षा होती है ?
- (iv) स्टेशन 'अ' किस प्रकार का जलवायु को दर्शाता है ?



- 24 "The right to Constitutional remedies is the most important fundamental right." 2+2=4  
Justify the statement by giving any **two** arguments.

“संवैधानिक उपचारों का अधिकार सबसे प्रमुख मूल अधिकार है।” इस कथन को किन्हीं दो तर्कों की सहायता से न्यायसंगत ठहराईए।

- 25 Suggest any **four** measures to address the problem of corruption in the Judiciary. 1×4=4

न्यायपालिका में भ्रष्टाचार की समस्या को दूर करने के लिए कोई चार उपाय सुझाईए।

- 26 Describe any **five** features related to society and economy of the Harappa civilisation. 1×5=5

हड़प्पन सभ्यता में सामाजिक तथा अर्थव्यवस्था सम्बन्धी किन्हीं पाँच विशेषताओं का वर्णन कीजिए।

- 27 What is density of population ? Describe any **two** physical factors affecting distribution and density of population with examples. 1+4=5

जनसंख्या घनत्व से क्या अभिप्राय है ? जनसंख्या के घनत्व तथा वितरण को प्रभावित करने वाले किन्हीं दो भौतिक कारकों का उदाहरणों सहित वर्णन कीजिए।

- 28 Explain any **five** effects of the socio-religious reform movements on Indian society in the nineteenth century. 1×5=5

उन्नीसवीं सदी में भारतीय समाज पर सामाजिक-धार्मिक सुधार के किन्हीं पाँच प्रभावों की व्याख्या कीजिए।

- 29 Explain any **five** legislative functions of the Indian Parliament. 1×5=5

भारतीय संसद के किन्हीं पाँच विधायी कार्यों की व्याख्या कीजिए।





Roll No.

--	--	--	--	--	--	--	--	--	--	--	--	--	--	--

### Outline Map of India (Political)



This Question Paper consists of 34 questions and 8 printed pages.

इस प्रश्न-पत्र में 34 प्रश्न तथा 8 मुद्रित पृष्ठ हैं ।

Roll No. 

--	--	--	--	--	--	--	--	--	--	--

अनुक्रमांक

Code No. 53/AS/3

कोड नं.

Set- 

A
---

## ECONOMICS

(अर्थशास्त्र)

(214)

**Day and Date of Examination**

(परीक्षा का दिन व दिनांक)

\_\_\_\_\_

**Signature of Invigilators**

1.

\_\_\_\_\_

(निरीक्षकों के हस्ताक्षर)

2.

\_\_\_\_\_

**General Instructions :**

- 1 Candidate must write his/her Roll Number on the first page of the Question Paper.
- 2 Please check the Question Paper to verify that the total pages and the total number of questions contained in the Question Paper are the same as those printed on the top of the first page. Also check to see that the questions are in sequential order.
- 3 For the objective type of questions, you have to choose any **one** of the four alternatives given in the question i.e. (A), (B), (C) or (D) and indicate your correct answer in the Answer-Book given to you.
- 4 All the questions including objective type questions are to be answered within the allotted time and no separate time limit is fixed for answering objective type questions.
- 5 Making any identification mark in the Answer-Book or writing Roll Number anywhere other than the specified places will lead to disqualification of the candidate.
- 6 Write your Question Paper code No. 53/AS/3- 

A
---

 on the Answer-Book.
- 7 (a) The Question Paper is in English/Hindi medium only. However, if you wish, you can answer in any one of the languages listed below :  
English, Hindi, Urdu, Punjabi, Bengali, Tamil, Malayalam, Kannada, Telugu, Marathi, Oriya, Gujarati, Konkani, Manipuri, Assamese, Nepali, Kashmiri, Sanskrit and Sindhi.  
You are required to indicate the language you have chosen to answer in the box provided in the Answer-Book.  
(b) If you choose to write the answer in the language other than Hindi and English, the responsibility for any errors/mistakes in understanding the question will be yours only.

53/AS/3—214\_A ]

1



[ Contd...

सामान्य अनुदेश :

- 1 परीक्षार्थी प्रश्नपत्र के पहले पृष्ठ पर अपना अनुक्रमांक अवश्य लिखें ।
- 2 कृपया प्रश्नपत्र को जाँच लें कि प्रश्नपत्र के कुल पृष्ठों तथा प्रश्नों की उतनी ही संख्या है जितनी प्रथम पृष्ठ के सबसे ऊपर छपी है । इस बात की जाँच भी कर लें कि प्रश्न क्रमिक रूप में हैं ।
- 3 वस्तुनिष्ठ प्रश्नों में आपको चार विकल्पों (A), (B), (C) तथा (D) में से कोई एक उत्तर चुनना है तथा दी गई उत्तर-पुस्तिका में आप सही उत्तर लिखिए ।
- 4 वस्तुनिष्ठ प्रश्नों के साथ-साथ सभी प्रश्नों के उत्तर निर्धारित अवधि के भीतर ही देने हैं । वस्तुनिष्ठ प्रश्नों के लिए अलग से समय नहीं दिया जाएगा ।
- 5 उत्तर-पुस्तिका में पहचान-चिह्न बनाने अथवा निर्दिष्ट स्थानों के अतिरिक्त कहीं भी अनुक्रमांक लिखने पर परीक्षार्थी को अयोग्य ठहराया जायेगा ।
- 6 अपनी उत्तर-पुस्तिका पर प्रश्नपत्र की कोड संख्या **53/AS/3—A** लिखें ।
- 7 (क) प्रश्नपत्र केवल हिंदी/अंग्रेजी में है । फिर भी, यदि आप चाहें तो नीचे दी गई किसी एक भाषा में उत्तर दे सकते हैं :  

अंग्रेजी, हिंदी, उर्दू, पंजाबी, बँगला, तमिल, मलयालम, कन्नड़, तेलुगु, मराठी, उड़िया, गुजराती, कोंकणी, मणिपुरी, असमिया, नेपाली, कश्मीरी, संस्कृत और सिंधी ।

कृपया उत्तर-पुस्तिका में दिए गए बॉक्स में लिखें कि आप किस भाषा में उत्तर लिख रहे हैं ।
- (ख) यदि आप हिंदी एवं अंग्रेजी के अतिरिक्त किसी अन्य भाषा में उत्तर लिखते हैं तो प्रश्न को समझने में होने वाली त्रुटियों / गलतियों की जिम्मेदारी केवल आपकी होगी ।





# ECONOMICS

(अर्थशास्त्र)

(214)

Time : 3 Hours]

[Maximum Marks : 100

समय : 3 घण्टे]

[पूर्णांक : 100

- Note :**
- (1) All questions are **compulsory**.
  - (2) Marks allotted to each question are indicated against it.
  - (3) Each question from Q. Nos. 1 to 8 has four alternatives (A), (B), (C) and (D) and out of which one is the most appropriate. Select the correct answer and write it in your answer-book against the number of question.

- निर्देश :**
- (1) सभी प्रश्न अनिवार्य हैं ।
  - (2) प्रत्येक प्रश्न के अंक उसके सामने दर्शाये गये हैं ।
  - (3) वस्तुनिष्ठ प्रश्न क्रमांक 1 से 8 तक, प्रत्येक प्रश्न में चार वैकल्पिक उत्तर (A), (B), (C) और (D) दिये गये हैं जिनमें से एक सही या सर्वाधिक उचित है । सही उत्तर चुनिये तथा अपनी उत्तर-पुस्तिका में उसे प्रश्न क्रमांक के सामने लिखिये ।

1 Which of the following is studied under microeconomics ? 1

- (A) Determination of the price of a good (B) Inflation  
(C) Employment in a country (D) Economic growth

निम्नलिखित में से किसका व्यष्टि अर्थशास्त्र के अन्तर्गत अध्ययन किया जाता है ?

- (A) किसी वस्तु की कीमत का निर्धारण (B) मुद्रा स्फीति  
(C) किसी देश में रोजगार (D) आर्थिक संवृद्धि

2 Which factor becomes obsolete after a certain period ? 1

- (A) Land (B) Labour  
(C) Capital (D) Entrepreneurship

एक निश्चित अवधि के पश्चात् कौन सा साधन अप्रचलित हो जाता है ?

- (A) भूमि (B) श्रम  
(C) पूँजी (D) उद्यम



- 3 Which out of the following is **NOT** a factor income ? 1
- (A) Profit (B) Interest  
(C) Wages (D) Labour
- निम्नलिखित में से कौन सी साधन आय नहीं है ?
- (A) लाभ (B) ब्याज  
(C) मजदूरी (D) श्रम
- 4 Which out of the following is a private indigenous production unit ? 1
- (A) Partnership (B) HMT  
(C) MMTC (D) Collaborations
- निम्नलिखित में से कौन सी निजी देशीय उत्पादन इकाई है ?
- (A) साझेदारी (B) एच.एम.टी.  
(C) एम.एम.टी.सी. (D) सहयोग
- 5 Direct payments properly calculated are : 1
- (A) Variable Cost (B) Fixed Cost  
(C) Implicit Cost (D) Explicit Cost
- ऐसे प्रत्यक्ष भुगतान जिनकी उचित रूप से गणना की जाती है, होते हैं :
- (A) परिवर्ती लागत (B) स्थिर लागत  
(C) अस्पष्ट लागत (D) स्पष्ट लागत
- 6 Equilibrium price of a commodity is the price at which : 1
- (A) Quantity demanded is greater than quantity supplied  
(B) Quantity supplied is greater than quantity demanded  
(C) Quantity demanded = Quantity supplied  
(D) None of the above
- किसी वस्तु की संतुलन कीमत वह कीमत होती है जिस पर :
- (A) मांगी गई मात्रा आपूर्ति की गई मात्रा से अधिक होती है  
(B) आपूर्ति की गई मात्रा मांगी गई मात्रा से अधिक होती है  
(C) मांगी गई मात्रा = आपूर्ति की गई मात्रा  
(D) उपर्युक्त में से कोई नहीं



- 7 By which method is primary data obtained indirectly ? 1  
 (A) Indirect Investigation (B) Direct personal investigation  
 (C) Mailed Questionnaire (D) Through Schedule  
 कौन सी विधि द्वारा प्राथमिक आँकड़े अप्रत्यक्ष रूप से प्राप्त किये जाते हैं ?  
 (A) अप्रत्यक्ष अनुसंधान (B) प्रत्यक्ष वैयक्तिक अनुसंधान  
 (C) डाक प्रश्नावली (D) अनुसूची द्वारा
- 8 We can contribute to sustainable development by : 1  
 (A) Recycling  
 (B) Reducing the usage  
 (C) Finding substitutes for non-renewable resources  
 (D) All the above  
 हम धारणीय विकास में योगदान दे सकते हैं :  
 (A) पुनर्चक्रीकरण द्वारा  
 (B) प्रयोग को कम करके  
 (C) गैर-नवीकरणीय संसाधनों के स्थानापन्न ढूँढ़कर  
 (D) उपर्युक्त सभी
- 9 In your daily consumption some free services are used. Explain them with the help of a suitable example. 2  
 आपके दैनिक उपभोग में कुछ निःशुल्क सेवाओं का प्रयोग होता है । एक उपयुक्त उदाहरण की सहायता से इनकी व्याख्या कीजिए ।
- 10 Describe 'Consumer's Sovereignty' as a feature of a capitalist economy. 2  
 पूँजीवादी अर्थव्यवस्था की एक विशेषता के रूप में 'उपभोक्ता प्रभुत्व' की व्याख्या कीजिए ।
- 11 Distinguish between product-based and process-based division of labour. 2  
 उत्पाद आधारित श्रम विभाजन तथा प्रक्रिया आधारित श्रम विभाजन में भेद कीजिए ।
- 12 If 25 units of output are produced and the Total Fixed Cost is ₹ 150, alongwith Total Variable Cost of ₹ 350. Calculate the Average Cost. 2  
 यदि 25 इकाइयों का उत्पादन किया जाता है तथा कुल परिवर्ती लागत ₹ 350 के साथ कुल स्थिर लागत ₹ 150 है तो औसत लागत की गणना कीजिए ।



- 13 Explain the relationship between price of the commodity and its quantity supplied. 2  
 किसी वस्तु की कीमत तथा उसकी आपूर्ति की गई मात्रा में सम्बन्ध की व्याख्या कीजिये ।

- 14 Complete the following table : 2

Price (₹) per unit	Quantity Demanded (in Units)			Market Demand (in units)
	HH <sub>A</sub>	HH <sub>B</sub>	HH <sub>C</sub>	
1	12	-	10	30
2	9	-	8	23
3	6	-	6	16
4	3	-	4	9

निम्नलिखित सारणी को पूरा कीजिए :

कीमत (₹) (प्रति इकाई)	मांगी गई मात्रा (इकाइयों में)			बाजार मांग (इकाइयों में)
	परिवार A	परिवार B	परिवार C	
1	12	-	10	30
2	9	-	8	23
3	6	-	6	16
4	3	-	4	9

- 15 Explain why it was difficult to equate the values of different goods which were traded, under barter system of exchange. 2

समझाइये कि वस्तु विनिमय प्रणाली में जिन वस्तुओं का व्यापार किया जाता था उनके मूल्यों की बराबरी करना कठिन क्यों था ?

- 16 Explain the difference between diagrammatic and graphic presentation of data. 2  
 चित्रों द्वारा तथा रेखाचित्रों द्वारा आँकड़ों के प्रस्तुतीकरण में भेद को समझाइये ।

- 17 Which are the main components of environment ? 2  
 पर्यावरण के मुख्य घटक क्या हैं ?

- 18 Suppose you, as a consumer, purchase a geyser at a lower price without taking the bill. What kind of serious problems are likely to be faced with this practice of yours ? Explain. 2

मान लीजिये आप एक उपभोक्ता के रूप में बिना बिल लिये कम कीमत पर एक गीजर खरीदते हैं । आपके इस व्यवहार के कारण किन गम्भीर समस्याओं का सामना करना पड़ेगा ? समझाइये ।



- 19 Why is economics treated as "Science of Sustainable Development" ? 4  
अर्थशास्त्र को 'धारणीय विकास का विज्ञान' क्यों कहा जाता है ?
- 20 Explain the following features in a socialist society : 4  
(i) Collective Ownership of Means of Production  
(ii) No Class Conflict.  
समाजवादी समाज में निम्नलिखित विशेषताओं की व्याख्या कीजिए :  
(i) उत्पादन के संसाधनों का सामूहिक स्वामित्व  
(ii) वर्ग संघर्ष की समाप्ति ।
- 21 Explain the concept of "Production Function". 4  
'उत्पादन फलन' की अवधारणा की व्याख्या कीजिए ।
- 22 How do the following factors affect individual supply of a commodity : 4  
(a) Price of the commodity  
(b) Government policy  
निम्नलिखित कारक किसी वस्तु की आपूर्ति को किस प्रकार प्रभावित करते हैं :  
(a) वस्तु की कीमत  
(b) सरकारी नीति
- 23 Explain how money can be used to make payments in future. 4  
समझाईये कि मुद्रा का उपयोग भविष्य में भुगतान करने के लिये किस प्रकार किया जा सकता है ।
- 24 Suppose, you have savings of ₹ 14,000/- with you. Explain how will you keep 4  
them safe in the post office near your house.  
मान लीजिये आपके पास ₹ 14,000/- की बचत है । समझाईये कि आप किस प्रकार से अपने घर के पास डाकघर में इसे सुरक्षित रखेंगे ?
- 25 How can an information be both qualitative and quantitative in nature ? Give suitable 4  
examples.  
कोई सूचना प्रकृति में गुणात्मक तथा संख्यात्मक, दोनों कैसे हो सकती है ? उपयुक्त उदाहरण दीजिये ।
- 26 Distinguish between a variable and an attribute. 4  
चर तथा गुण में भेद कीजिये ।



- 27 Arrange the marks obtained by 24 students in Mathematics in ascending and descending order : 4
- गणित में 24 विद्यार्थियों द्वारा प्राप्तांकों को 'बढ़ते हुए' तथा 'घटते हुए' क्रम में व्यवस्थित कीजिए :
- |    |    |    |    |    |    |
|----|----|----|----|----|----|
| 10 | 50 | 48 | 7  | 11 | 16 |
| 6  | 12 | 18 | 28 | 49 | 45 |
| 40 | 20 | 30 | 15 | 36 | 38 |
| 8  | 25 | 5  | 9  | 14 | 19 |
- 28 Explain the role played by the service sector in the Indian economy. 4
- भारतीय अर्थव्यवस्था में सेवा (तृतीयक) क्षेत्रक की भूमिका की व्याख्या कीजिए ।
- 29 Suppose, there is a drought situation in the economy and you are the government. 4
- What role will you play to control the situation of price rise, which is an outcome of the drought ?
- मान लीजिए, अर्थव्यवस्था में सूखे की स्थिति है और आप सरकार हैं । आप कीमत वृद्धि की स्थिति को, जो सूखे का परिणाम है, को नियंत्रित करने के लिये क्या भूमिका निभाएंगे ?
- 30 Explain how the Consumer Protection Act 1986 provides all the support and 4
- guidance against violation of Consumer Rights.
- समझाईये कि उपभोक्ता संरक्षण अधिनियम 1986 उपभोक्ता के अधिकारों के उल्लंघन के विपरीत पूरी सहायता तथा मार्गदर्शन कैसे करता है ?
- 31 Why does the demand curve slope downwards from left to right ? Explain. 6
- मांग वक्र बायें से दायें नीचे की ओर ढालू क्यों होता है ? समझाईये ।
- 32 Describe how trading activities are integral part of the economy. 6
- व्यापार की गतिविधियाँ अर्थव्यवस्था के अभिन्न अंग कैसे हैं, वर्णन कीजिये ।
- 33 Compare the Chinese economy with the Indian economy. 6
- चीन की अर्थव्यवस्था की भारत की अर्थव्यवस्था से तुलना कीजिये ।
- 34 What is 'Habitat degradation' ? Mention its two major causes and one effect. 6
- प्राकृतिक आवास का निम्नीकरण क्या होता है ? इसके दो प्रमुख कारणों तथा एक प्रभाव का उल्लेख कीजिए ।



This Question Paper consists of 30 questions and 8 printed pages.  
इस प्रश्न-पत्र में 30 प्रश्न तथा 8 मुद्रित पृष्ठ हैं ।

Roll No. 

--	--	--	--	--	--	--	--	--	--	--	--

  
अनुक्रमांक

Code No. 53/AS/3  
कोड नं.

Set- 

A
---

**BUSINESS STUDIES**  
(व्यावसायिक अध्ययन)  
(215)

**Day and Date of Examination**  
(परीक्षा का दिन व दिनांक)

\_\_\_\_\_

**Signature of Invigilators**  
(निरीक्षकों के हस्ताक्षर)

1. \_\_\_\_\_

2. \_\_\_\_\_

**General Instructions :**

- 1 Candidate must write his/her Roll Number on the first page of the Question Paper.
- 2 Please check the Question Paper to verify that the total pages and the total number of questions contained in the Question Paper are the same as those printed on the top of the first page. Also check to see that the questions are in sequential order.
- 3 For the objective type of questions, you have to choose any **one** of the four alternatives given in the question i.e. (A), (B), (C) or (D) and indicate your correct answer in the Answer-Book given to you.
- 4 All the questions including objective type questions are to be answered within the allotted time and no separate time limit is fixed for answering objective type questions.
- 5 Making any identification mark in the Answer-Book or writing Roll Number anywhere other than the specified places will lead to disqualification of the candidate.
- 6 Write your Question Paper code No. 53/AS/3- 

A
---

 on the Answer-Book.
- 7 (a) The Question Paper is in English/Hindi medium only. However, if you wish, you can answer in any one of the languages listed below :  
English, Hindi, Urdu, Punjabi, Bengali, Tamil, Malayalam, Kannada, Telugu, Marathi, Oriya, Gujarati, Konkani, Manipuri, Assamese, Nepali, Kashmiri, Sanskrit and Sindhi.  
You are required to indicate the language you have chosen to answer in the box provided in the Answer-Book.
- (b) If you choose to write the answer in the language other than Hindi and English, the responsibility for any errors/mistakes in understanding the question will be yours only.



सामान्य अनुदेश :

- 1 परीक्षार्थी प्रश्नपत्र के पहले पृष्ठ पर अपना अनुक्रमांक अवश्य लिखें ।
- 2 कृपया प्रश्नपत्र को जाँच लें कि प्रश्नपत्र के कुल पृष्ठों तथा प्रश्नों की उतनी ही संख्या है जितनी प्रथम पृष्ठ के सबसे ऊपर छपी है । इस बात की जाँच भी कर लें कि प्रश्न क्रमिक रूप में हैं।
- 3 वस्तुनिष्ठ प्रश्नों में आपको चार विकल्पों (A), (B), (C) तथा (D) में से कोई एक उत्तर चुनना है तथा दी गई उत्तर-पुस्तिका में आप सही उत्तर लिखिए ।
- 4 वस्तुनिष्ठ प्रश्नों के साथ-साथ सभी प्रश्नों के उत्तर निर्धारित अवधि के भीतर ही देने हैं । वस्तुनिष्ठ प्रश्नों के लिए अलग से समय नहीं दिया जाएगा ।
- 5 उत्तर-पुस्तिका में पहचान-चिह्न बनाने अथवा निर्दिष्ट स्थानों के अतिरिक्त कहीं भी अनुक्रमांक लिखने पर परीक्षार्थी को अयोग्य ठहराया जायेगा ।
- 6 अपनी उत्तर-पुस्तिका पर प्रश्नपत्र की कोड संख्या **53/AS/3-A** लिखें ।
- 7 (क) प्रश्नपत्र केवल हिंदी/अंग्रेजी में है । फिर भी, यदि आप चाहें तो नीचे दी गई किसी एक भाषा में उत्तर दे सकते हैं :

अंग्रेजी, हिंदी, उर्दू, पंजाबी, बँगला, तमिल, मलयालम, कन्नड़, तेलुगु, मराठी, उड़िया, गुजराती, कोंकणी, मणिपुरी, असमिया, नेपाली, कश्मीरी, संस्कृत और सिंधी ।

कृपया उत्तर-पुस्तिका में दिए गए बॉक्स में लिखें कि आप किस भाषा में उत्तर लिख रहे हैं।

- (ख) यदि आप हिंदी एवं अंग्रेजी के अतिरिक्त किसी अन्य भाषा में उत्तर लिखते हैं तो प्रश्न को समझने में होने वाली त्रुटियों / गलतियों की जिम्मेदारी केवल आपकी होगी ।





# BUSINESS STUDIES

(व्यावसायिक अध्ययन)

(215)

Time : 3 Hours]

[Maximum Marks : 100

समय : 3 घण्टे]

[पूर्णांक : 100

**Note :** (1) All questions are **compulsory**.

(2) **Marks** allotted for each question are indicated against it.

निर्देश : (1) सभी प्रश्न अनिवार्य हैं।

(2) प्रत्येक प्रश्न के अंक उसके सामने दर्शाये गये हैं ।

1 Which of the following is **not** a feature of sole proprietorship ? 1

- (A) Single ownership (B) Agreement  
(C) Ease of formation (D) Unlimited liability

निम्न में से एकल स्वामित्व की विशेषता कौन सी नहीं है ?

- (A) एकल स्वामित्व (B) अनुबंध  
(C) स्थापना में सरल (D) असीमित देनदारी

2 Which of the following is **not** an example of Consumer's Co-operative Societies ? 1

- (A) Kendriya Bhandar (B) Apna Bazar  
(C) Super Bazar (D) Urban Cooperative Banks

निम्न में से उपभोक्ता सहकारी समिति का उदाहरण कौन सा नहीं है ?

- (A) केन्द्रीय भंडार (B) अपना बाजार  
(C) सुपर बाजार (D) शहरी सहकारी बैंक



- 3 Which of the following is an example of a government company ? 1  
 (A) Coal India Ltd. (B) General Motors Ltd.  
 (C) Hyundai India Ltd. (D) Philips India Ltd.  
 निम्न में से सरकारी कंपनी का उदाहरण कौन सा है ?  
 (A) कोल इंडिया लिमिटेड (B) जनरल मोटर्स लिमिटेड  
 (C) हुंडई इंडिया लिमिटेड (D) फिलिप्स इंडिया लिमिटेड
- 4 Goods for which import duty is **not** paid are kept in which of the following 1  
 kinds of warehouses ?  
 (A) Private (B) Public  
 (C) Government (D) Bonded  
 वस्तुएँ जिन पर आयातकर नहीं चुकाया जाता, निम्न में से किस प्रकार के भंडारगृह में रखी जाती है ?  
 (A) निजी (B) सार्वजनिक  
 (C) सरकारी (D) बंधक
- 5 This is an electronic device that enables instant transmission of any matter, 1  
 which may be handwritten or printed like letters, diagrams, graphs, sketches etc. :  
 (A) Fax (B) Voice-mail  
 (C) Telephone (D) Audio-conferencing  
 यह एक इलेक्ट्रॉनिक उपकरण है जिसके द्वारा हाथ से लिखे हुए या छपे हुए शब्द, रेखाचित्र, ग्राफ, स्केच आदि को एक जगह से दूसरी जगह भेजा जा सकता है :  
 (A) फैक्स (B) वॉइस मेल  
 (C) टेलीफोन (D) ऑडियो कांफ्रेंसिंग
- 6 A milk shaker along with Nescafe is an example of which of the following 1  
 tools of sales promotion ?  
 (A) Exchange schemes (B) Free samples  
 (C) Coupons (D) Premium or bonus offer  
 ‘नैस्कैफे के साथ एक मिल्क शेकर’ विक्रय संवर्धन की निम्न में से किस तकनीक का उदाहरण है ?  
 (A) वस्तु विनिमय योजना (B) मुफ्त नमूनों का वितरण  
 (C) कूपन बांटना (D) बोनस के रूप में वस्तु देना



7 Which of the following is a direct channel of distribution ? 1

- (A) Producer → Agent → Consumer
- (B) Producer → Retailer → Consumer
- (C) Producer → Wholesaler → Consumer
- (D) Producer → Consumer

प्रत्यक्ष वितरण माध्यम निम्न में से कौन सा है ?

- (A) उत्पादक → एजेंट → उपभोक्ता
- (B) उत्पादक → फुटकर विक्रेता → उपभोक्ता
- (C) उत्पादक → थोक विक्रेता → उपभोक्ता
- (D) उत्पादक → उपभोक्ता

8 This Act formulates quality standards for goods and their certification. 1

- (A) Industries Act, 1951
- (B) Bureau of Indian Standards Act, 1986
- (C) Consumer Protection Act, 1986
- (D) Prevention of Food Adulteration Act, 1954

यह कानून उत्पादकों के लिए गुणवत्ता मानकों का निर्धारण करता है और उनको प्रमाणित करता है :

- (A) औद्योगिक कानून, 1951
- (B) भारतीय मानक ब्यूरो अधिनियम, 1986
- (C) उपभोक्ता संरक्षण अधिनियम, 1986
- (D) खाद्य पदार्थ मिलावट रोकथाम अधिनियम, 1954

9 While deciding the location of the business, the entrepreneur should consider : 1

- (A) Sources of supply of raw material
- (B) Nearness to the market
- (C) Availability of labour and transportation
- (D) All the above

एक व्यवसाय के स्थान का चुनाव करते समय, उद्यमी को निम्न में से किन कारकों पर विचार करना चाहिए ?

- (A) कच्चे माल की प्राप्ति का स्रोत
- (B) बाजार की निकटता
- (C) श्रम की उपलब्धता एवं यातायात की सुविधा
- (D) उपरोक्त सभी



- 10 Self employment in small scale farming activities does **not** include : 1  
(A) Dairy (B) Carpentry  
(C) Poultry (D) Fishery  
छोटे पैमाने की कृषि स्वरोजगार में निम्न सम्मिलित नहीं है :  
(A) डेरी (B) बड़ई  
(C) मुर्गीपालन (D) मछली पालन
- 11 State any **three** limitations of a partnership firm. 3  
साझेदारी व्यवसाय की किन्हीं तीन सीमाओं का उल्लेख कीजिए।
- 12 State any **three** responsibilities of business towards creditors. 3  
व्यवसाय के लेनदारों के प्रति किन्हीं तीन उत्तरदायित्वों का उल्लेख कीजिए।
- 13 Explain briefly any **two** benefits of E-commerce. 3  
ई-वाणिज्य के किन्हीं दो लाभों को संक्षेप में समझाईए।
- 14 State any **three** advantages of rail transport. 3  
रेल परिवहन के किन्हीं तीन लाभों का उल्लेख करिए।
- 15 What is meant by multiple shops ? State any **four** features of multiple shops. 3  
बहुसंख्यक दुकानों से आप क्या समझते हैं ? बहुसंख्यक दुकानों की किन्हीं चार विशेषताओं का उल्लेख कीजिए।
- 16 Explain briefly feasibility study and identifying entrepreneurial opportunities as 4  
functions of an entrepreneur.  
एक उद्यमी के निम्न कार्यों को समझाईए :  
(अ) संभाव्यता अध्ययन (ब) उद्यम के अवसरों की पहचान।



- 17 Describe briefly 'right to be heard' and 'right to seek redressal' as provided in Consumer Protection Act, 1986. 4  
 उपभोक्ता संरक्षण अधिनियम, 1986 में प्रदत्त 'सुनवाई का अधिकार' एवं 'निवारण का अधिकार' का संक्षेप में वर्णन कीजिए।
- 18 Explain briefly any **four** objectives of advertising. 4  
 विज्ञापन के किन्हीं चार उद्देश्यों को संक्षेप में समझाईए।
- 19 Distinguish between a 'current deposit account' and a 'savings bank account'. 4  
 एक 'बचत बैंक खाता' और 'चालू जमा खाता' में अंतर स्पष्ट कीजिए।
- 20 What is meant by a private company ? State any **three** features of a private company. 4  
 एक निजी कंपनी का क्या अर्थ है ? एक निजी कंपनी की किन्हीं तीन विशेषताओं का उल्लेख कीजिए।
- 21 What is meant by a partnership form of organization ? Also, state any **four** features of this form. 5  
 साझेदारी व्यवसाय का क्या अर्थ है ? इस व्यवसाय की किन्हीं चार विशेषताओं का उल्लेख कीजिए।
- 22 Besides carrying mail through various means, post office also offers some special services to business firms. Explain any **five** such services. 5  
 विभिन्न साधनों से मेल भेजने के अलावा डाकघर व्यवसायिक फर्मों को कुछ विशेष सेवाएँ भी प्रदान करता है। ऐसी किन्हीं पाँच सेवाओं को समझाईए।
- 23 'KPO involves off shoring of knowledge intensive business processes that require specialized domain expertise.' In the light of this statement, explain any **five** benefits of KPO. 5  
 'KPO में ज्ञान गहन व्यवसाय प्रक्रियाओं का अपतट सम्मिलित है, जिसके लिए विशिष्ट कार्यक्षेत्र की विशेषज्ञता आवश्यक है।' इस कथन के संदर्भ में, KPO के किन्हीं पाँच लाभों को समझाईए।



- 24 Describe briefly any **five** functions of a retailer. 5  
एक फुटकर विक्रेता के किन्हीं पाँच कार्यों को संक्षेप में समझाईए ।
- 25 Explain briefly the role of businessmen and consumers self help groups for protection of consumer interest. 5  
उपभोक्ता संरक्षण हेतु 'व्यापारियों' तथा 'स्वयं सहायता' समूहों की भूमिका को संक्षेप में समझाईए ।
- 26 Give any **six** points of difference between self employment and wage employment. 6  
स्वरोजगार तथा सवेतन रोजगार में कोई छः अंतर बताईए ।
- 27 Describe briefly the responsibilities of a consumer. 6  
उपभोक्ताओं के उत्तरदायित्वों का संक्षेप में वर्णन कीजिए ।
- 28 Explain briefly any **two** forms of fixed shop retailing under small scale retail trade. 6  
लघु स्तरीय फुटकर व्यापार के अंतर्गत स्थायी दुकानों के किन्हीं दो वर्गों को संक्षेप में समझाईए ।
- 29 Explain briefly the following principles of insurance : 6  
(a) Principle of indemnity  
(b) Principle of subrogation  
(c) Principle of insurable interest.  
बीमा के निम्नलिखित सिद्धान्तों को संक्षेप में समझाईए :  
(अ) क्षतिपूर्ति  
(ब) प्रत्यासन  
(स) बीमोचित स्वार्थ ।
- 30 Describe briefly any **three** types of industries with suitable examples. 6  
उद्योग के किन्हीं तीन प्रकारों का उदाहरण सहित संक्षेप में वर्णन कीजिए ।



This Question Paper consists of 36 questions and 8 printed pages.

इस प्रश्न-पत्र में 36 प्रश्न तथा 8 मुद्रित पृष्ठ हैं ।

Roll No. 

--	--	--	--	--	--	--	--	--	--	--

अनुक्रमांक

Code No. 53/AS/3

कोड नं.

Set- 

A
---

## HOME SCIENCE

(गृह विज्ञान)

(216)

### Day and Date of Examination

(परीक्षा का दिन व दिनांक)

\_\_\_\_\_

### Signature of Invigilators

(निरीक्षकों के हस्ताक्षर)

1. \_\_\_\_\_

2. \_\_\_\_\_

### General Instructions :

- 1 Candidate must write his/her Roll Number on the first page of the Question Paper.
- 2 Please check the Question Paper to verify that the total pages and the total number of questions contained in the Question Paper are the same as those printed on the top of the first page. Also check to see that the questions are in sequential order.
- 3 For the objective type of questions, you have to choose any **one** of the four alternatives given in the question i.e. (A), (B), (C) or (D) and indicate your correct answer in the Answer-Book given to you.
- 4 All the questions including objective type questions are to be answered within the allotted time and no separate time limit is fixed for answering objective type questions.
- 5 Making any identification mark in the Answer-Book or writing Roll Number anywhere other than the specified places will lead to disqualification of the candidate.
- 6 Write your Question Paper code No. 53/AS/3- 

A
---

 on the Answer-Book.
- 7 (a) The Question Paper is in English/Hindi medium only. However, if you wish, you can answer in any one of the languages listed below :  
English, Hindi, Urdu, Punjabi, Bengali, Tamil, Malayalam, Kannada, Telugu, Marathi, Oriya, Gujarati, Konkani, Manipuri, Assamese, Nepali, Kashmiri, Sanskrit and Sindhi.  
You are required to indicate the language you have chosen to answer in the box provided in the Answer-Book.
- (b) If you choose to write the answer in the language other than Hindi and English, the responsibility for any errors/mistakes in understanding the question will be yours only.



सामान्य अनुदेश :

- 1 परीक्षार्थी प्रश्नपत्र के पहले पृष्ठ पर अपना अनुक्रमांक अवश्य लिखें ।
- 2 कृपया प्रश्नपत्र को जाँच लें कि प्रश्नपत्र के कुल पृष्ठों तथा प्रश्नों की उतनी ही संख्या है जितनी प्रथम पृष्ठ के सबसे ऊपर छपी है । इस बात की जाँच भी कर लें कि प्रश्न क्रमिक रूप में हैं ।
- 3 वस्तुनिष्ठ प्रश्नों में आपको चार विकल्पों (A), (B), (C) तथा (D) में से कोई एक उत्तर चुनना है तथा दी गई उत्तर-पुस्तिका में आप सही उत्तर लिखिए ।
- 4 वस्तुनिष्ठ प्रश्नों के साथ-साथ सभी प्रश्नों के उत्तर निर्धारित अवधि के भीतर ही देने हैं । वस्तुनिष्ठ प्रश्नों के लिए अलग से समय नहीं दिया जाएगा ।
- 5 उत्तर-पुस्तिका में पहचान-चिह्न बनाने अथवा निर्दिष्ट स्थानों के अतिरिक्त कहीं भी अनुक्रमांक लिखने पर परीक्षार्थी को अयोग्य ठहराया जायेगा ।
- 6 अपनी उत्तर-पुस्तिका पर प्रश्नपत्र की कोड संख्या **53/AS/3-A** लिखें ।
- 7 (क) प्रश्नपत्र केवल हिंदी/अंग्रेजी में है । फिर भी, यदि आप चाहें तो नीचे दी गई किसी एक भाषा में उत्तर दे सकते हैं :

अंग्रेजी, हिंदी, उर्दू, पंजाबी, बँगला, तमिल, मलयालम, कन्नड़, तेलुगु, मराठी, उड़िया, गुजराती, कोंकणी, मणिपुरी, असमिया, नेपाली, कश्मीरी, संस्कृत और सिंधी ।

कृपया उत्तर-पुस्तिका में दिए गए बॉक्स में लिखें कि आप किस भाषा में उत्तर लिख रहे हैं ।

- (ख) यदि आप हिंदी एवं अंग्रेजी के अतिरिक्त किसी अन्य भाषा में उत्तर लिखते हैं तो प्रश्न को समझने में होने वाली त्रुटियों / गलतियों की जिम्मेदारी केवल आपकी होगी ।





# HOME SCIENCE

(गृह विज्ञान)

(216)

Time :  $2\frac{1}{2}$  Hours]

[Maximum Marks : 85

समय :  $2\frac{1}{2}$  घण्टे]

[पूर्णांक : 85

- Note :** (1) All questions are **compulsory**.  
(2) **Marks** are indicated against each question.

- निर्देश :** (1) सभी प्रश्न अनिवार्य हैं ।  
(2) प्रत्येक प्रश्न के अंक उसके सामने दिये गये हैं ।

1 During the day plants give out – 1

- (A) oxygen (B) nitrogen  
(C) carbon monoxide (D) carbon dioxide

पेड़-पौधे दिन के समय क्या देते हैं ?

- (A) ऑक्सीजन (B) नाइट्रोजन  
(C) कार्बन मोनोक्साइड (D) कार्बन डाइ ऑक्साइड

2 Which of the following diseases can be caused by contaminated water ? 1

- (A) Tetanus (B) Typhoid  
(C) AIDS (D) Chicken-pox

निम्न में से कौन-सा रोग गन्दे पानी के कारण होता है ?

- (A) टेटनस (B) टाइफ़ॉइड  
(C) एड्स (D) शीतला (chicken-pox)

3 Which of the following is a vegetable stain ? 1

(A) Milk (B) Ghee

(C) Blood (D) Tea

निम्न में से कौन-सा वानस्पतिक धब्बा है ?

(A) दूध (B) घी

(C) खून (D) चाय

4 Seasonal foods should be preferred while planning meals because they are – 1

(A) fresh (B) nutritious

(C) less expensive (D) all of the above

आहार आयोजन करते समय मौसमी खाद्य पदार्थों को अधिक महत्व दिया जाता है क्योंकि वे होते हैं –

(A) ताजा (B) पौष्टिक

(C) सस्ते (D) ऊपरी सभी

5 Yellowish tinge in eyes is a characteristic symptom of – 1

(A) cholera (B) typhoid

(C) hepatitis (D) influenza

आँखों में पीला-पन किसका लक्षण है ?

(A) हैजा (B) टाइफॉइड

(C) हैपेटाइटिस (D) फ्लू

6 Anti-bodies are produced by – 1

(A) red blood cells (B) white blood cells

(C) platelets (D) all of the above

प्रतिरक्षक गुण किससे प्राप्त होते हैं ?

(A) लाल रक्त कणिकाएँ (B) श्वेत रक्त कणिकाएँ

(C) प्लेटलेट्स (D) ऊपरी सभी

- 7 Muslin is a fabric which is - 1  
(A) light weight and loosely woven  
(B) transparent and crisp  
(C) heavy weight and thick  
(D) medium weight and plain  
वायल एक ऐसा कपड़ा है जो -  
(A) हल्का और ढीली बुनाई  
(B) पारदर्शी और करारा  
(C) भारी वजन और मोटा  
(D) मध्य वजन और सादा
- 8 Yellow fruits like papaya and mango are rich source of - 1  
(A) Vitamin A (B) Vitamin B  
(C) Vitamin C (D) Vitamin D  
पीले फल जैसे पपीता और आम किसके अच्छे स्रोत हैं ?  
(A) विटामिन ए (B) विटामिन बी  
(C) विटामिन सी (D) विटामिन डी
- 9 Define 'pollution'. Name **two** sources of pollution. 2  
प्रदूषण को परिभाषित कीजिए । प्रदूषण के दो स्रोतों के नाम बताईए ।
- 10 Define : 2  
(a) Calendering  
(b) Sanforisation  
परिभाषित कीजिए :  
(a) कैलेंडरिंग  
(b) सेनफोराइजेशन
- 11 List any **four** steps of management. 2  
व्यवस्था के चार चरणों को सूचीबद्ध कीजिए ।



- 12 Name the **four** self employment opportunities that are available in the field of interior decoration. 2  
इंटीरियर डेकोरेशन के अध्ययन के बाद कौन-से चार स्वरोजगार अवसर उपलब्ध होते हैं ?
- 13 Write the method of making ORS solution at home. 2  
घर पर जीवन रक्षक घोल बनाने का तरीका बताईए ।
- 14 Differentiate between 'staple' and 'filament' fibres. 2  
“छोटे तंतु” और “लंबे तंतु” वाले धागों में अंतर स्पष्ट कीजिए ।
- 15 List any **four** activities that are performed as part of daily cleaning. 2  
ऐसे चार कार्यों को सूचीबद्ध कीजिए जो कि दैनिक साफ-सफाई के समय कीए जाते हैं ।
- 16 What **four** things should always be kept in mind while managing resources ? 2  
साधनों की व्यवस्था करते समय कौन-सी चार चीजों को ध्यान में रखेंगे ?
- 17 Suggest **four** ways of saving time. 2  
समय बचाने के चार तरीके सुझाईए ।
- 18 List down **four** ways by which parents can reduce the negative effect of media on adolescents. 2  
ऐसे चार तरीकों को सूचीबद्ध कीजिए जिसके द्वारा माता-पिता मीडिया के किशोरों पर पडने वाले गलत प्रभाव को रोक सके ।
- 19 What can be outcome of permissive disciplining styles of parents ? 2  
माता-पिता के अनुज्ञात्मक शैली अनुशासन का क्या नतीजा हो सकता है ?
- 20 Enumerate any **four** characteristic features of grey fabrics. 2  
ग्रे (grey) कपड़े की चार विशेषताएँ बताईए ।



- 21 While giving first-aid to a person with a sprained ankle, what **four** things will you do ? 2  
 पैर का मांस फटने की स्थिति में पीड़ित व्यक्ति को प्राथमिक सहायता देते समय कौन-से चार तरीके अपनाओगे ?
- 22 List any **four** characteristics of 'beginning stage' of family life cycle. 2  
 पारिवारिक जीवन में “मध्य अवस्था” (beginning stage) की चार विशेषताओं को सूचीबद्ध कीजिए ।
- 23 List any **four** fine motor skills a five year old child can undertake. 2  
 पाँच वर्षीय बच्चा कौन-सी चार सूक्ष्म क्रियाएँ कर सकता है ?
- 24 Define nutrition. List any **five** functions of food. 3  
 पोषण को परिभाषित कीजिए । भोजन के पाँच कार्य बताईए ।
- 25 What are resources ? Differentiate between human and non-human resources with examples. 3  
 साधन क्या हैं ? मानवीय साधन और भौतिक साधनों में अन्तर स्पष्ट कीजिए । उदाहरण भी दीजिए ।
- 26 Mention **six** things we can do to conserve nutrients while cooking. 3  
 भोजन बनाते समय किन छः सावधानियों के द्वारा हम पोषक तत्वों को नष्ट होने से बचा सकते हैं ?
- 27 List down the **six** food management skills a home-maker should have. 3  
 किसी भी गृहिणी में किन छः भोजन व्यवस्था कौशल होना आवश्यक है ?
- 28 Explain with examples, how will a family decide on how much to spend on different items of a Spending Plan. 3  
 ‘व्यय का ब्यौरा’ बनाते समय एक परिवार को यह कैसे निर्धारित करना चाहिए, कि वह किस मद पर कितना व्यय करें ? उदाहरण सहित लिखिए ।

- 29 Name any **four** 'standardization mark' and give one example of each, of the products on which they are used. **4**  
 किन्हीं चार 'मानकीकरण चिन्ह' के नाम लिखिए व एक-एक पदार्थ/वस्तु का नाम लिखिए, जिन पर वह अंकित किए जाते हैं ।
- 30 Explain how does vaccination help us to acquire immunity. **4**  
 टीकाकरण द्वारा किस प्रकार कृत्रिम रोग-विरोधी क्षमता मिलती है ? समझाईए ।
- 31 What first aid should be given to a person who has been bitten by a dog ? **4**  
 कुत्ते द्वारा काटे जाने पर क्या प्राथमिक चिकित्सा दी जानी चाहिए ?
- 32 Discuss the importance of both heredity and environment on development. **4**  
 विकास की प्रक्रिया में गुण-सूत्र व वातावरण के महत्व की चर्चा कीजिए ।
- 33 Enumerate the guidelines to develop healthy relationships in a family. **4**  
 परिवार में स्वस्थ संबंधों स्थापित करने के लिए क्या करना चाहिए ? अपने विचार लिखिए ।
- 34 'Respect : To get it, you must give it' – Elaborate the statement with examples. **4**  
 'सम्मान पाने के लिए, सम्मान देना होगा' – इस कथन की उदाहरण सहित व्याख्या कीजिए ।
- 35 Distinguish between 'deep frying' and 'shallow frying'. What precautions one should take while frying food ? **4**  
 गहरे व उथले तलने की विधियों में अन्तर स्पष्ट कीजिए । तलते समय किन सावधानियों को रखना चाहिए ?
- 36 Describe briefly the various methods of 'friction' washing. **4**  
 'रगड़' कर धोने की विभिन्न विधियों को संक्षेप में समझाईए ।



This Question Paper consists of 30 questions and 8 printed pages.  
इस प्रश्न-पत्र में 30 प्रश्न तथा 8 मुद्रित पृष्ठ हैं ।

Roll No. 

--	--	--	--	--	--	--	--	--	--	--

  
अनुक्रमांक

Code No. 53/AS/3  
कोड नं.

Set- 

A
---

**PSYCHOLOGY**  
(मनोविज्ञान)  
(222)

**Day and Date of Examination**  
(परीक्षा का दिन व दिनांक)

\_\_\_\_\_

**Signature of Invigilators**

1. \_\_\_\_\_

(निरीक्षकों के हस्ताक्षर)

2. \_\_\_\_\_

**General Instructions :**

- 1 Candidate must write his/her Roll Number on the first page of the Question Paper.
- 2 Please check the Question Paper to verify that the total pages and the total number of questions contained in the Question Paper are the same as those printed on the top of the first page. Also check to see that the questions are in sequential order.
- 3 For the objective type of questions, you have to choose any **one** of the four alternatives given in the question i.e. (A), (B), (C) or (D) and indicate your correct answer in the Answer-Book given to you.
- 4 All the questions including objective type questions are to be answered within the allotted time and no separate time limit is fixed for answering objective type questions.
- 5 Making any identification mark in the Answer-Book or writing Roll Number anywhere other than the specified places will lead to disqualification of the candidate.
- 6 Write your Question Paper code No. 53/AS/3- 

A
---

 on the Answer-Book.
- 7 (a) The Question Paper is in English/Hindi medium only. However, if you wish, you can answer in any one of the languages listed below :  
English, Hindi, Urdu, Punjabi, Bengali, Tamil, Malayalam, Kannada, Telugu, Marathi, Oriya, Gujarati, Konkani, Manipuri, Assamese, Nepali, Kashmiri, Sanskrit and Sindhi.  
You are required to indicate the language you have chosen to answer in the box provided in the Answer-Book.  
(b) If you choose to write the answer in the language other than Hindi and English, the responsibility for any errors/mistakes in understanding the question will be yours only.



सामान्य अनुदेश :

- 1 परीक्षार्थी प्रश्नपत्र के पहले पृष्ठ पर अपना अनुक्रमांक अवश्य लिखें ।
- 2 कृपया प्रश्नपत्र को जाँच लें कि प्रश्नपत्र के कुल पृष्ठों तथा प्रश्नों की उतनी ही संख्या है जितनी प्रथम पृष्ठ के सबसे ऊपर छपी है । इस बात की जाँच भी कर लें कि प्रश्न क्रमिक रूप में हैं ।
- 3 वस्तुनिष्ठ प्रश्नों में आपको चार विकल्पों (A), (B), (C) तथा (D) में से कोई एक उत्तर चुनना है तथा दी गई उत्तर-पुस्तिका में आप सही उत्तर लिखिए ।
- 4 वस्तुनिष्ठ प्रश्नों के साथ-साथ सभी प्रश्नों के उत्तर निर्धारित अवधि के भीतर ही देने हैं । वस्तुनिष्ठ प्रश्नों के लिए अलग से समय नहीं दिया जाएगा ।
- 5 उत्तर-पुस्तिका में पहचान-चिह्न बनाने अथवा निर्दिष्ट स्थानों के अतिरिक्त कहीं भी अनुक्रमांक लिखने पर परीक्षार्थी को अयोग्य ठहराया जायेगा ।
- 6 अपनी उत्तर-पुस्तिका पर प्रश्नपत्र की कोड संख्या **53/AS/3—A** लिखें ।
- 7 (क) प्रश्नपत्र केवल हिंदी/अंग्रेजी में है । फिर भी, यदि आप चाहें तो नीचे दी गई किसी एक भाषा में उत्तर दे सकते हैं :  

अंग्रेजी, हिंदी, उर्दू, पंजाबी, बँगला, तमिल, मलयालम, कन्नड़, तेलुगु, मराठी, उड़िया, गुजराती, कोंकणी, मणिपुरी, असमिया, नेपाली, कश्मीरी, संस्कृत और सिंधी ।

कृपया उत्तर-पुस्तिका में दिए गए बॉक्स में लिखें कि आप किस भाषा में उत्तर लिख रहे हैं ।
- (ख) यदि आप हिंदी एवं अंग्रेजी के अतिरिक्त किसी अन्य भाषा में उत्तर लिखते हैं तो प्रश्न को समझने में होने वाली त्रुटियों / गलतियों की जिम्मेदारी केवल आपकी होगी ।





# PSYCHOLOGY

(मनोविज्ञान)

(222)

Time : 3 Hours]

[Maximum Marks : 100

समय : 3 घण्टे]

[ पूर्णांक : 100

---

- Note :**
- (1) All questions are **compulsory**.
  - (2) Marks for each question are indicated against it.
  - (3) Questions 1-6 are very short answer questions carrying 1 mark each. Answer these questions as required.
  - (4) Questions 7-12 are short answer questions type carrying 2 marks each. Answer to these questions should not exceed 25 words each.
  - (5) Questions 13-25 are short answer questions type carrying 4 marks each. Answer to these questions should not exceed 80 words each.
  - (6) Questions 26-30 are long answer questions carrying 6 marks each. Answer to these questions should not exceed 150 words each.

- निर्देश :**
- (1) सभी प्रश्न अनिवार्य हैं ।
  - (2) प्रत्येक प्रश्न के अंक उसके सामने दिए गए हैं ।
  - (3) प्रश्न संख्या 1-6 अतिलघु उत्तरीय प्रश्न हैं, प्रत्येक का 1 अंक है। इनका उत्तर आवश्यकतानुसार दीजिए।
  - (4) प्रश्न संख्या 7-12 लघु उत्तरीय प्रश्न प्रकार है, प्रत्येक के 2 अंक है। इन प्रश्नों के उत्तर 25 शब्द प्रत्येक से अधिक नहीं होने चाहिए।
  - (5) प्रश्न संख्या 13-25 लघु उत्तरीय प्रश्न प्रकार है, प्रत्येक के 4 अंक है। इन प्रश्नों के उत्तर 80 शब्द प्रत्येक से अधिक नहीं होने चाहिए।
  - (6) प्रश्न संख्या 26-30 दीर्घ उत्तरीय प्रश्न है, प्रत्येक के 6 अंक है। इन प्रश्नों के उत्तर 150 शब्द प्रत्येक से अधिक नहीं होने चाहिए।
- 



1 According to Abraham Maslow, when a person moves towards reaching his fullest potential, it is called : 1

- (A) Self Esteem (B) Self confidence  
(C) Self worth (D) Self actualisation

अब्राहम मास्लो के अनुसार, जब एक व्यक्ति अपनी पूरी क्षमता तक पहुँच जाता है, उसे कहते हैं :

- (A) आत्म सम्मान (B) आत्म-विश्वास  
(C) आत्म मूल्य (D) आत्म सिद्धि

2 In an experiment, the researcher takes into account the relevant variables and keeps the temperature and noise constant. Identify what kind of variables are temperature and noise : 1

- (A) Organismic variables (B) Situational variables  
(C) Sequential variables (D) Dependent variables

एक प्रयोग में, अन्वेषक सुसंगत चरों का ध्यान रखते हुए तापमान तथा ध्वनि को स्थिर रखता है । पहचान कीजिए कि तापमान तथा ध्वनि किस प्रकार के चर हैं :

- (A) जैविक चर (B) परिस्थितिक चर  
(C) अनुक्रमिक चर (D) आश्रित चर

3 The expectations concerning the duties, males and females should perform and the way they should behave is called \_\_\_\_\_ . 1

- (A) Gender identity (B) Gender roles  
(C) Gender consistency (D) Gender neutral

पुरुष और महिलाओं के अपेक्षित कर्तव्य तथा उनके अपेक्षित व्यवहार जो उन्हें करने चाहिए, कहलाते हैं :

- (A) लिंग पहचान (B) लिंग भूमिका  
(C) लिंग स्थिरता (D) लिंग उदासीन



- 4 How can media have a negative influence on us ? Give one example. 1  
संप्रेषण माध्यम हम पर किस प्रकार नकारात्मक प्रभाव डाल सकता है ? एक उदाहरण दीजिए ।
- 5 What are the characteristics of Attention Deficit Hyperactive Disorder ? 1  
सावधान-अभाव अतिसक्रिय विकार के क्या लक्षण हैं ?
- 6 Give the formula to measure intelligence quotient. 1  
बुद्धि लब्धि का मापन करने का सूत्र लिखिए ।
- 7 How does repression take place ? 2  
दमन किस प्रकार घटित होता है ?
- 8 What will you do to expand the capacity of your short term memory ? 2  
आप अपनी अल्पकालीन स्मृति की धारण क्षमता को कैसे बढ़ा सकते हैं ?
- 9 What is the role of a mental set in problem solving ? 2  
समस्या समाधान में मनःस्थिति की क्या भूमिका है ?
- 10 Differentiate between 'growth' and 'development' with suitable examples. 2  
उचित उदाहरणों की सहायता से वृद्धि तथा विकास के मध्य विभेद कीजिए ।
- 11 With the help of examples explain ego centricism and concentration as an important characteristic of preoperational stage. 2  
उचित उदाहरणों की सहायता लेकर व्याख्या कीजिए कि अहं केन्द्रिकता तथा एकाग्रता पूर्व संक्रियात्मक अवस्था के महत्वपूर्ण लक्षण है ।



- 12 Suggest any two exercises in Pranayama. 2  
प्राणायाम के किन्हीं दो अभ्यासों का सुझाव दीजिए ।
- 13 How does Preksha Dhyana help in relaxation ? How can Preksha Dhyana be achieved ? 4  
प्रेक्षा-ध्यान किस प्रकार पूर्ण आराम देने में सहायक होता है ? प्रेक्षा-ध्यान किस प्रकार प्राप्त किया जा सकता है ?
- 14 Discuss the different types of yoga. 4  
योग के विभिन्न प्रकारों पर चर्चा कीजिए ।
- 15 Suggest some ways through which psychological interventions can help in the eradication of poverty. 4  
कुछ ऐसे मनोवैज्ञानिक हस्तक्षेपों का सुझाव दीजिए जिनके द्वारा गरीबी का उन्मूलन हो सकता हो ।
- 16 What are the techniques used by the experimenters to control the unwanted effect of relevant variables ? 4  
प्रयोगकर्ता सुसंगत चरों के अवांछित प्रभावों के नियंत्रण किन प्रविधियों द्वारा करता है ?
- 17 Differentiate between Clinical and Organisational psychology. 4  
निदानात्मक तथा संगठनात्मक मनोविज्ञान के मध्य विभेद कीजिए ।
- 18 Discuss the application of perception, sensation and attention in everyday life. 4  
दैनिक जीवन में अवधान, प्रत्यक्षीकरण तथा संवेदना के प्रयोग पर चर्चा कीजिए ।



- 19 Discuss the various indicators of poor mental health. 4  
कमजोर मानसिक स्वास्थ्य के लक्षणों पर चर्चा कीजिए ।
- 20 What is motivation ? Discuss any three secondary needs. 4  
अभिप्रेरणा क्या है ? किन्हीं तीन गौण आवश्यकताओं पर चर्चा कीजिए ।
- 21 What are the factors that lead to attitude change ? 4  
अभिवृत्ति में बदलाव के कौन से कारक हैं ?
- 22 Discuss the role of heredity in the development of the human personality. 4  
मानव व्यक्तित्व के विकास में आनुवंशिकता की भूमिका पर चर्चा कीजिए ।
- 23 Suggest some strategies for efficient time management. 4  
कुशल समय प्रबंधन करने हेतु कुछ रणनीतियों का सुझाव दीजिए ।
- 24 How does the organisation work as a system ? 4  
संगठन किस प्रकार एक व्यवस्था के रूप में कार्य करता है ?
- 25 Suggest **four** strategies to enhance productivity and excellence at work. 4  
कार्यक्षेत्र में उत्पादन तथा उत्कृष्टता को बढ़ाने हेतु किन्हीं चार रणनीतियों का सुझाव दीजिए ।
- 26 Differentiate between conflicts and frustrations. 6  
द्वन्द्व तथा कुंठा के मध्य विभेद कीजिए ।



27 Discuss different ways through which human-environment relationship can be understood. 6

मानव-परिवेश के संबंधों को समझने वाले विभिन्न तरीकों पर चर्चा कीजिए ।

28 What do you mean by intelligence ? Discuss the process of measurement of intelligence. 6

बुद्धि से आप क्या समझते हैं ? बुद्धि के मूल्यांकन की प्रक्रिया पर चर्चा कीजिए ।

29 What are the **four** ecological systems that influence human development ? 6

मानव विकास को प्रभावित करने वाली चार पारिस्थितिक प्रणालियाँ क्या हैं ?

30 How does attitude formation take place ? 6

अभिवृत्ति का निर्माण किस प्रकार होता है ?

---



This Question Paper consists of 30 questions and 8 printed pages.

इस प्रश्न-पत्र में 30 प्रश्न तथा 8 मुद्रित पृष्ठ हैं ।

Roll No. 

--	--	--	--	--	--	--	--	--	--	--	--

अनुक्रमांक

Code No. 53/AS/3

कोड नं.

Set-**A**

## INDIAN CULTURE & HERITAGE

(भारतीय संस्कृति एवं विरासत)

(223)

Day and Date of Examination

(परीक्षा का दिन व दिनांक)

\_\_\_\_\_

Signature of Invigilators

1.

\_\_\_\_\_

(निरीक्षकों के हस्ताक्षर)

2.

\_\_\_\_\_

### General Instructions :

- 1 Candidate must write his/her Roll Number on the first page of the Question Paper.
- 2 Please check the Question Paper to verify that the total pages and the total number of questions contained in the Question Paper are the same as those printed on the top of the first page. Also check to see that the questions are in sequential order.
- 3 For the objective type of questions, you have to choose any **one** of the four alternatives given in the question i.e. (A), (B), (C) or (D) and indicate your correct answer in the Answer-Book given to you.
- 4 All the questions including objective type questions are to be answered within the allotted time and no separate time limit is fixed for answering objective type questions.
- 5 Making any identification mark in the Answer-Book or writing Roll Number anywhere other than the specified places will lead to disqualification of the candidate.
- 6 Write your Question Paper code No. **53/AS/3-A** on the Answer-Book.
- 7 (a) The Question Paper is in English/Hindi medium only. However, if you wish, you can answer in any one of the languages listed below :  
English, Hindi, Urdu, Punjabi, Bengali, Tamil, Malayalam, Kannada, Telugu, Marathi, Oriya, Gujarati, Konkani, Manipuri, Assamese, Nepali, Kashmiri, Sanskrit and Sindhi.  
You are required to indicate the language you have chosen to answer in the box provided in the Answer-Book.  
(b) If you choose to write the answer in the language other than Hindi and English, the responsibility for any errors/mistakes in understanding the question will be yours only.



सामान्य अनुदेश :

- 1 परीक्षार्थी प्रश्नपत्र के पहले पृष्ठ पर अपना अनुक्रमांक अवश्य लिखें ।
- 2 कृपया प्रश्नपत्र को जाँच लें कि प्रश्नपत्र के कुल पृष्ठों तथा प्रश्नों की उतनी ही संख्या है जितनी प्रथम पृष्ठ के सबसे ऊपर छपी है । इस बात की जाँच भी कर लें कि प्रश्न क्रमिक रूप में हैं ।
- 3 वस्तुनिष्ठ प्रश्नों में आपको चार विकल्पों (A), (B), (C) तथा (D) में से कोई एक उत्तर चुनना है तथा दी गई उत्तर-पुस्तिका में आप सही उत्तर लिखिए ।
- 4 वस्तुनिष्ठ प्रश्नों के साथ-साथ सभी प्रश्नों के उत्तर निर्धारित अवधि के भीतर ही देने हैं । वस्तुनिष्ठ प्रश्नों के लिए अलग से समय नहीं दिया जाएगा ।
- 5 उत्तर-पुस्तिका में पहचान-चिह्न बनाने अथवा निर्दिष्ट स्थानों के अतिरिक्त कहीं भी अनुक्रमांक लिखने पर परीक्षार्थी को अयोग्य ठहराया जायेगा ।
- 6 अपनी उत्तर-पुस्तिका पर प्रश्नपत्र की कोड संख्या **53/AS/3-A** लिखें ।
- 7 (क) प्रश्नपत्र केवल हिंदी/अंग्रेजी में है । फिर भी, यदि आप चाहें तो नीचे दी गई किसी एक भाषा में उत्तर दे सकते हैं :

अंग्रेजी, हिंदी, उर्दू, पंजाबी, बँगला, तमिल, मलयालम, कन्नड़, तेलुगु, मराठी, उड़िया, गुजराती, कोंकणी, मणिपुरी, असमिया, नेपाली, कश्मीरी, संस्कृत और सिंधी ।

कृपया उत्तर-पुस्तिका में दिए गए बॉक्स में लिखें कि आप किस भाषा में उत्तर लिख रहे हैं ।

- (ख) यदि आप हिंदी एवं अंग्रेजी के अतिरिक्त किसी अन्य भाषा में उत्तर लिखते हैं तो प्रश्न को समझने में होने वाली त्रुटियों / गलतियों की जिम्मेदारी केवल आपकी होगी ।





# INDIAN CULTURE & HERITAGE

(भारतीय संस्कृति एवं विरासत)

(223)

Time : 3 Hours]

[Maximum Marks : 100

समय : 3 घण्टे]

[पूर्णांक : 100

- Note :**
- (1) Attempt **all** the questions.
  - (2) Question No. **1 to 8** are multiple choice questions. Answer to these questions should be given in answer book provided to you. No separate time is allotted for attempting these questions.
  - (3) Question No. **9 to 16** are to be answered in about **25** words.
  - (4) Question No. **17 to 25** are to be answered in about **40-50** words.
  - (5) Question No. **26 to 30** are to be answered in about **150-200** words.

- निर्देश :**
- (1) सभी प्रश्नों का उत्तर दीजिये ।
  - (2) प्रश्न संख्या 1 से 8 तक वस्तुनिष्ठ प्रश्न दिये गये हैं। इनका उत्तर अपनी उत्तर-पुस्तिका में लिखिये। वस्तुनिष्ठ प्रश्नों के लिये अलग से समय नहीं दिया गया है।
  - (3) प्रश्न संख्या 9 से 16 तक के प्रश्नों का उत्तर लगभग 25 शब्दों में लिखिये।
  - (4) प्रश्न संख्या 17 से 25 तक के प्रश्नों का उत्तर लगभग 40-50 शब्दों में लिखिये।
  - (5) प्रश्न संख्या 26 से 30 तक के प्रश्नों का उत्तर लगभग 150-200 शब्दों में लिखिये।

1 In which of the following cities of the Harappan civilization was a dockyard found ? 1

- (A) Lothal (B) Mohenjodaro  
(C) Dholavira (D) Kalibangan

हड़प्पा सभ्यता के निम्न में से किस नगर में एक बंदरगाह पाया गया है ?

- (A) लोथल (B) मोहेनजोदाड़ो  
(C) धोलावीरा (D) कालीबंगन



- 2 In which of the following languages Tulsidas wrote his famous book Ramcharitamanas ? 1
- (A) Brajbhasa (B) Awadhi  
(C) Maithili (D) Khariboli
- तुलसीदास ने अपना प्रसिद्ध ग्रन्थ रामचरित मानस निम्न में से किस भाषा में लिखा था ?
- (A) ब्रज भाषा (B) अवधी  
(C) मैथिली (D) खड़ीबोली
- 3 Bhakti poet Tukaram wrote in which of the following languages ? 1
- (A) Kannad (B) Telugu  
(C) Marathi (D) Hindi
- भक्त कवि तुकाराम निम्न में से किस भाषा में लिखते थे ?
- (A) कन्नड़ (B) तेलुगु  
(C) मराठी (D) हिन्दी
- 4 Dakshin Gangotri is situated in which of the following regions / continent ? 1
- (A) Himalayas (B) Nilgiris  
(C) Arctic circle (D) Antarctica
- निम्न में से किस क्षेत्र / महाद्वीप में दक्षिण गंगोत्री स्थित है ?
- (A) हिमालय (B) नीलगिरि  
(C) आर्कटिक क्षेत्र (D) अन्टार्कटिका
- 5 In which year did the Indian scientist C. V. Raman win the Nobel prize ? 1
- (A) 1930 (B) 1931  
(C) 1932 (D) 1933
- निम्न में से किस वर्ष में भारतीय वैज्ञानिक सी. वी. रमन को नोबल पुरुष्कार मिला था ?
- (A) 1930 (B) 1931  
(C) 1932 (D) 1933



6 Which of the following madarsas was not situated in Delhi ? 1

- (A) Muizzi (B) Nasiri  
(C) Gawani (D) Firuzi

निम्न में से कौन मदरसा दिल्ली में स्थित नहीं था ?

- (A) मुईज़्जी (B) नासिरी  
(C) गावानी (D) फिरोजी

7 Which of the following religious communities is not governed by the Codified Hindu Act of 1955-56 ? 1

- (A) Buddhists (B) Christians  
(C) Sikhs (D) Jains

निम्न में से कौन सा धार्मिक समुदाय निर्धारित हिन्दू अधिनियम 1955-56 से अनुशासित नहीं है ?

- (A) बौद्ध (B) इसाई  
(C) सिख (D) जैन

8 'Ladli' scheme of the Government of India is for the protection of : 1

- (A) Girl child (B) Infants  
(C) Women (D) Senior citizens

भारत सरकार की 'लाडली' योजना किसकी सुरक्षा के लिए आरंभ की गई है ?

- (A) बालिका शिशु (B) शिशु  
(C) महिलाओं (D) वृद्धजन

9 Mention two aspects of the Harappan Culture which are still practised in our country. 2

हड़प्पा कालीन संस्कृति की दो प्रथायें जो हमारे देश में आज भी प्रचलित हैं उनका उल्लेख कीजिये ।



- 10 State the names of the two major divisions of Buddhism. 2  
बुद्ध धर्म के दो मुख्य भागों के नाम लिखिये ।
- 11 Who was Bulley Shah and why is he famous ? 2  
बुल्लेशाह कौन थे और वह क्यों प्रसिद्ध हैं ?
- 12 Mention two reasons for the popularity of Saint Jnaneshwar (Gyaneshwar) of Maharashtra. 2  
महाराष्ट्र के सन्त ज्ञानेश्वर की लोकप्रियता के दो कारणों का उल्लेख कीजिए ।
- 13 Why did Kabir become popular among the masses ? 2  
कबीर क्यों जनता के बीच लोकप्रिय हुए ?
- 14 Why was the Theosophical Society established ? Give two reasons. 2  
थियोसाफिकल सोसाइटी की स्थापना क्यों की गयी थी ? दो कारण बताइये ।
- 15 Why is Wood's Despatch considered an important document for Indian education ? 2  
Give two reasons.  
वुड के घोषणापत्र को भारतीय शिक्षा का महत्वपूर्ण अभिलेख क्यों माना जाता है ? दो कारण बताइये ।
- 16 Why is elementary education considered the most important stage of education ? 2  
Give two reasons.  
प्रारंभिक स्कुली शिक्षा को सर्वाधिक महत्वपूर्ण स्तर क्यों माना जाता है ? दो कारण बताइये ।



- 17 Explain the nature of the political organisation of the Aryans in the Vedic age. 4  
वैदिक युग में आर्यों की राजनीतिक व्यवस्था के स्वरूप की व्याख्या कीजिए ।
- 18 Explain main characteristic features of Sufism. 4  
सूफीवाद के प्रमुख चारित्रिक लक्षणों की व्याख्या कीजिये ।
- 19 Examine the role of newspapers in the making of modern India. 4  
आधुनिक भारत के निर्माण में समाचार पत्रों की भूमिका का परीक्षण कीजिये ।
- 20 What reasons led to lack of good literature in Kashmiri language ? 4  
कश्मीरी भाषा में कम अच्छे साहित्य लिखे जाने के कारण बताएँ ।
- 21 Give an account of the Suhrawardi Silsila of Sufism. 4  
सूफी मत के सुहरावर्दी सिलसिले का वर्णन कीजिये ।
- 22 Describe the life and work of Ishwar Chandra Vidyasagar. 4  
ईश्वर चन्द्र विद्यासागर के जीवन तथा कार्यों का वर्णन कीजिए ।
- 23 What are decorative arts ? Explain their main features and forms in India. 4  
अलंकृत कलायें क्या होती हैं ? भारत में उनके प्रमुख लक्षणों तथा रूपों की व्याख्या कीजिये ।
- 24 Explain any two merits and two limitations of the Distance Learning system. 4  
दूरस्था शिक्षा के किन्हीं दो लाभ तथा दो कमियों की व्याख्या कीजिए ।
- 25 How can you say that 'Bali' in Indonesia still follows Hindu culture and religion ? 4  
आप यह किस प्रकार कह सकते हैं कि 'बालि', इण्डोनेशिया में अब भी हिन्दू संस्कृति और धर्म का अनुसरण करता है ?



- 26 Examine the significance of culture in human life. 8  
मानव जीवन में संस्कृति के महत्व का परीक्षण कीजिये ।
- 27 Explain the founding and the growth of Mumbai with special reference to 8  
the unique architectural styles which developed here.  
मुम्बई की स्थापना तथा वृद्धि को वहाँ विकसित हुई अद्भुत स्थापत्य शैलियों के संदर्भ में समझाइये ।
- 28 Why is Jagdish Chandra Bose considered a great scientist of modern India ? 8  
Explain his achievements.  
जगदीश चन्द्र बोस को आधुनिक भारत का एक महानतम वैज्ञानिक क्यों माना जाता है ?  
उनकी उपलब्धियों की व्याख्या कीजिए ।
- 29 What is meant by gender discrimination ? Explain the practices prevalent in 8  
India which promote gender discrimination.  
लिंग-भेद का क्या तात्पर्य है ? भारत में लिंग-भेद को प्रोत्साहन देने वाली प्रचलित रीतियों  
की व्याख्या कीजिये ।
- 30 Give an account of India's cultural relations with Sri Lanka. 8  
भारत के श्रीलंका के साथ सांस्कृतिक संबंधों का वर्णन कीजिये ।
- 



This Question Paper consists of 25 questions and 12 printed pages.

इस प्रश्न-पत्र में 25 प्रश्न तथा 12 मुद्रित पृष्ठ हैं ।

Roll No. 

--	--	--	--	--	--	--	--	--	--	--	--

अनुक्रमांक

Code No. 53/AS/3

कोड नं.

Set-**A**

## ACCOUNTANCY

(लेखांकन)

(224)

Day and Date of Examination

(परीक्षा का दिन व दिनांक)

\_\_\_\_\_

Signature of Invigilators

1. \_\_\_\_\_

(निरीक्षकों के हस्ताक्षर)

2. \_\_\_\_\_

### General Instructions :

- 1 Candidate must write his/her Roll Number on the first page of the Question Paper.
- 2 Please check the Question Paper to verify that the total pages and the total number of questions contained in the Question Paper are the same as those printed on the top of the first page. Also check to see that the questions are in sequential order.
- 3 For the objective type of questions, you have to choose any **one** of the four alternatives given in the question i.e. (A), (B), (C) or (D) and indicate your correct answer in the Answer-Book given to you.
- 4 All the questions including objective type questions are to be answered within the allotted time and no separate time limit is fixed for answering objective type questions.
- 5 Making any identification mark in the Answer-Book or writing Roll Number anywhere other than the specified places will lead to disqualification of the candidate.
- 6 Write your Question Paper code No. **53/AS/3-A** on the Answer-Book.
- 7 (a) The Question Paper is in English/Hindi medium only. However, if you wish, you can answer in any one of the languages listed below :  
English, Hindi, Urdu, Punjabi, Bengali, Tamil, Malayalam, Kannada, Telugu, Marathi, Oriya, Gujarati, Konkani, Manipuri, Assamese, Nepali, Kashmiri, Sanskrit and Sindhi.  
You are required to indicate the language you have chosen to answer in the box provided in the Answer-Book.
- (b) If you choose to write the answer in the language other than Hindi and English, the responsibility for any errors/mistakes in understanding the question will be yours only.



सामान्य अनुदेश :

- 1 परीक्षार्थी प्रश्नपत्र के पहले पृष्ठ पर अपना अनुक्रमांक अवश्य लिखें ।
- 2 कृपया प्रश्नपत्र को जाँच लें कि प्रश्नपत्र के कुल पृष्ठों तथा प्रश्नों की उतनी ही संख्या है जितनी प्रथम पृष्ठ के सबसे ऊपर छपी है । इस बात की जाँच भी कर लें कि प्रश्न क्रमिक रूप में हैं ।
- 3 वस्तुनिष्ठ प्रश्नों में आपको चार विकल्पों (A), (B), (C) तथा (D) में से कोई एक उत्तर चुनना है तथा दी गई उत्तर-पुस्तिका में आप सही उत्तर लिखिए ।
- 4 वस्तुनिष्ठ प्रश्नों के साथ-साथ सभी प्रश्नों के उत्तर निर्धारित अवधि के भीतर ही देने हैं । वस्तुनिष्ठ प्रश्नों के लिए अलग से समय नहीं दिया जाएगा ।
- 5 उत्तर-पुस्तिका में पहचान-चिह्न बनाने अथवा निर्दिष्ट स्थानों के अतिरिक्त कहीं भी अनुक्रमांक लिखने पर परीक्षार्थी को अयोग्य ठहराया जायेगा ।
- 6 अपनी उत्तर-पुस्तिका पर प्रश्नपत्र की कोड संख्या **53/AS/3-A** लिखें ।
- 7 (क) प्रश्नपत्र केवल हिंदी/अंग्रेजी में है । फिर भी, यदि आप चाहें तो नीचे दी गई किसी एक भाषा में उत्तर दे सकते हैं :

अंग्रेजी, हिंदी, उर्दू, पंजाबी, बँगला, तमिल, मलयालम, कन्नड़, तेलुगु, मराठी, उड़िया, गुजराती, कोंकणी, मणिपुरी, असमिया, नेपाली, कश्मीरी, संस्कृत और सिंधी ।

कृपया उत्तर-पुस्तिका में दिए गए बॉक्स में लिखें कि आप किस भाषा में उत्तर लिख रहे हैं ।

- (ख) यदि आप हिंदी एवं अंग्रेजी के अतिरिक्त किसी अन्य भाषा में उत्तर लिखते हैं तो प्रश्न को समझने में होने वाली त्रुटियों / गलतियों की जिम्मेदारी केवल आपकी होगी ।





# ACCOUNTANCY

(लेखांकन)

(224)

Time : 3 Hours]

[Maximum Marks : 100

समय : 3 घण्टे]

[पूर्णांक : 100

**Note :** (1) All questions are **compulsory**.

(2) Marks allotted for each question are indicated against it.

निर्देश : (1) सभी प्रश्न अनिवार्य हैं।

(2) प्रत्येक प्रश्न के अंक उसके सामने दर्शाये गये हैं।

1 Out of the following which is an internal liability of a business ? 1

- (A) Bank overdraft (B) Outstanding rent  
(C) Sundry Creditors (D) Capital

निम्नलिखित में से व्यवसाय की आंतरिक देयता कौन सी है ?

- (A) बैंक अधिविकर्ष (B) अदत्त किराया  
(C) विविध लेनदार (D) पूँजी

2 Capital ₹ 15,000, Creditors ₹ 5,000, Net profit ₹ 4,000. Total assets will be : 1

- (A) ₹ 16,000 (B) ₹ 24,000  
(C) ₹ 14,000 (D) ₹ 6,000

यदि पूँजी ₹ 15,000; लेनदार ₹ 5,000 तथा शुद्ध लाभ ₹ 4,000 हों, तो कुल संपत्तियाँ होंगी :

- (A) ₹ 16,000 (B) ₹ 24,000  
(C) ₹ 14,000 (D) ₹ 6,000



3 The process of transferring Journal entries to their respective ledger account is called : 1

- (A) Journalising (B) Posting  
(C) Balancing (D) Casting

रोजनामचा प्रविष्टियों को खाता बही के संबंधित खातों में स्थानांतरित करने की प्रक्रिया को कहा जाता है :

- (A) रोजनामचित करना (B) खतौनी करना  
(C) संतुलन करना (D) जोड़ करना

4 If original cost of a machine is ₹ 60,000 and depreciation is charged at 20% p.a. under W.D.V. method, the written down value of the machine after three years will be : 1

- (A) ₹ 48,000 (B) ₹ 38,400  
(C) ₹ 30,720 (D) ₹ 24,725

यदि मशीन की मूल लागत ₹ 60,000 है तथा उस पर हासित शेष विधि से 20% प्र.व. की दर से अवक्षयण लगाया गया है, तो तीन वर्ष बाद मशीन का हासित मूल्य होगा :

- (A) ₹ 48,000 (B) ₹ 38,400  
(C) ₹ 30,720 (D) ₹ 24,725

5 Closing stock appearing in the Trial Balance will be shown in : 1

- (A) Trading Account (B) Profit & Loss Account  
(C) Balance Sheet (D) Both in Trading Account and Balance Sheet

तलपट में विद्यमान अंतिम रहितिए को दर्शाया जाएगा :

- (A) व्यापारिक खाते में (B) लाभ-हानि खाते में  
(C) तुलन-पत्र में (D) व्यापारिक खाते तथा तुलन-पत्र दोनों में



6 In Tally, which short-cut key we will use for company and company information ? 1

- (A) F1 (B) F2  
(C) F3 (D) F12

कंपनी तथा कंपनी सूचना हेतु हम टैली में किस शार्ट-कट कुंजी का प्रयोग करते हैं ?

- (A) F1 (B) F2  
(C) F3 (D) F12

7 State any three limitations of Accounting. 3

लेखांकन की कोई तीन सीमाएँ बताइए ।

8 Classify the following accounts into personal, real and nominal accounts : 3

- (a) Capital (b) Wages paid  
(c) Building (d) Commission received  
(e) Furniture (f) M/S K. P. S. Enterprises

निम्नलिखित खातों को व्यक्तिगत, वास्तविक तथा नाममात्र खातों में वर्गीकृत कीजिए :

- (क) पूँजी (ख) मजदूरी भुगतान  
(ग) भवन (घ) कमीशन प्राप्त  
(ङ) फर्नीचर (च) मैसर्स के. पी. एस. इंटरप्राइसेस

9 Write any three objectives of preparing Trial Balance. 3

तलपट बनाने के कोई तीन उद्देश्य लिखिए ।



- 10 From the following information, prepare Profit and Loss account of M/S. Sanat Bros. for the year ending 31-03-2015 : 3

(a) Gross Profit .....	₹ 54,000
(b) Salaries .....	₹ 12,000
(c) Dividend received .....	₹ 4,350
(d) Carriage outward .....	₹ 2,000
(e) Rent and taxes .....	₹ 3,250
(f) Selling expenses .....	₹ 1,000

निम्नलिखित सूचना से मैसर्स सनत ब्रदर्स का वर्ष समाप्ति 31 मार्च 2015 हेतु लाभ-हानि खाता बनाइए :

(क) सकल लाभ .....	₹ 54,000
(ख) वेतन .....	₹ 12,000
(ग) लाभांश प्राप्त .....	₹ 4,350
(घ) भाड़ा निर्गत .....	₹ 2,000
(ङ) किराया एवं कर .....	₹ 3,250
(च) विक्रय व्यय .....	₹ 1,000

- 11 Write any three applications of computer in accounting. 3

लेखांकन में कम्प्यूटर के कोई तीन अनुप्रयोग लिखिए।

- 12 What is meant by 'accounting vouchers' ? Explain debit vouchers, credit vouchers and transfer vouchers in brief. 4

‘लेखांकन प्रमाणकों’ से क्या अभिप्राय है ? नाम प्रमाणक, जमा प्रमाणक तथा अंतरण प्रमाणकों की संक्षिप्त व्याख्या कीजिए।



13 What is ledger ? For what purpose ledger is to be prepared ? 4

खाता-बही क्या है? खाता-बही किस उद्देश्य से बनाई जाती है?

14 Explain the convention of conservatism and its significance. 5

रुद्धिवादिता की परिपाटी तथा इसके महत्व की व्याख्या कीजिए।

15 Classify the following assets into Current assets, Tangible assets, Intangible assets and Wasting assets : 5

- |                         |                      |
|-------------------------|----------------------|
| (a) Furniture           | (b) Goodwill         |
| (c) Oil wells           | (d) Patents          |
| (e) Cash                | (f) Bills receivable |
| (g) Plant and Machinery | (h) Mines            |
| (i) Stock of goods      | (j) Building         |

निम्नलिखित संपत्तियों को चालू संपत्तियों, मूर्त संपत्तियों, अमूर्त संपत्तियों तथा क्षयी संपत्तियों में वर्गीकृत कीजिए :

- |                      |                    |
|----------------------|--------------------|
| (क) फर्नीचर          | (ख) ख्याति         |
| (ग) तेल कुएँ         | (घ) पेटेंट्स       |
| (ङ) रोकड़            | (च) प्राप्य विपत्र |
| (छ) संयंत्र व मशीनरी | (ज) खानें          |
| (झ) रहतिया           | (ञ) भवन            |



- 16 From the following particulars prepare a Sales book in the books of M/S. Godrej Furniture House, Faridabad for the month of March 2015 : 5

Date	Invoice No.	Particulars of goods sold
12-3-2015	0123	Sold on credit to Shyam Traders, Cuttack 20 Chairs @ ₹ 250 each 20 Tables @ ₹ 500 each
22-3-2015	0124	Sold on credit to Banka Furniture, Kolkata 5 Sofa Sets @ ₹ 5,000 each 10 Almirahs @ ₹ 3,000 each

Trade discount is offered @ 10% to each customer.

निम्नलिखित विवरणों से मैसर्स गोदरेज फर्नीचर हाउस, फरीदाबाद की पुस्तकों में मार्च 2015 माह हेतु विक्रय बही बनाइए :

दिनांक	बीजक संख्या	विक्रीत माल का विवरण
2015		
मार्च 12	0123	श्याम ट्रेडर्स, कटक को उधार बेचा 20 कुर्सियाँ @ ₹ 250 प्रति 20 मेजें @ ₹ 500 प्रति
मार्च 22	0124	बांका फर्नीचर, कोलकाता को उधार बेचा 5 सोफासेट @ ₹ 5,000 प्रति 10 अल्मारियाँ @ ₹ 3,000 प्रति

प्रत्येक ग्राहक को 10% व्यापारिक बट्टा दिया जाता है।

- 17 A firm purchased furniture of ₹ 60,000 on 1-7-2010 and ₹ 30,000 on 1-4-2011. On 1-7-2012 one-sixth of the first furniture was sold for ₹ 8,500. The firm charges depreciation under reducing balance method at 10% p.a. Accounts are closed on 31<sup>st</sup> December every year. Show Furniture Account from 2010 to 2012. 5

एक फर्म ने 1 जुलाई 2010 को ₹ 60,000 का तथा 1 अप्रैल 2011 को ₹ 30,000 का फर्नीचर खरीदा। 1 जुलाई 2012 को पहले वाले फर्नीचर का छठवां भाग ₹ 8,500 में बेच दिया गया। यह फर्म 10% प्र.व. की दर से हासित शेष विधि से अवक्षयण लगाती है। पुस्तकें प्रति वर्ष 31 दिसंबर को बंद की जाती हैं। 2010 से 2012 तक का फर्नीचर खाता दर्शाइए।



18 What do you mean by Tally ? Write any four features of Tally. 5

टैली से आपका क्या अभिप्राय है? टैली की कोई चार विशेषताएँ लिखिए।

19 Distinguish between Book-keeping and Accounting. (any four) 6

किन्हीं चार आधारों पर पुस्तपालन एवं लेखांकन में अंतर्भेद कीजिए।

20 From the following particulars prepare a simple Cash book in the books of Anup Kumar : 6

Jan. 1, 2015	Opening balance of cash .....	₹ 2,000
Jan. 7, 2015	Cash sales .....	₹ 15,000
Jan. 12, 2015	Paid wages .....	₹ 3,000
Jan. 17, 2015	Rent received .....	₹ 500
Jan. 22, 2015	Purchased furniture .....	₹ 800
Jan. 27, 2015	Borrowed from Y .....	₹ 3,000
Jan. 31, 2015	Drew for personal use .....	₹ 200

निम्नलिखित विवरणों से अनूप कुमार की पुस्तकों में साधारण रोकड़ बही बनाइए :  
2015

जनवरी 1	रोकड़ का प्रारंभिक शेष .....	₹ 2,000
जनवरी 7	नकद बिक्री .....	₹ 15,000
जनवरी 12	मजदूरी भुगतान .....	₹ 3,000
जनवरी 17	किराया प्राप्त .....	₹ 500
जनवरी 22	फर्नीचर खरीदा .....	₹ 800
जनवरी 27	वाई से ऋण लिया .....	₹ 3,000
जनवरी 31	व्यक्तिगत उपयोग हेतु आहरण .....	₹ 200



21 From the following information ascertain the balance that would appear in the pass book of Mr. Madan as on 31-12-2014 : 6

- (a) The bank overdraft as cash book as on 31-12-2014 was ₹ 16,340.
- (b) Interest on overdraft for 6 months ending 31-12-2014, ₹ 1,000 is debited in pass book.
- (c) Bank charges debited in pass book were ₹ 60.
- (d) Cheques issued but not yet encashed amounted to ₹ 1,250.
- (e) Interest on investment collected by banker ₹ 1,000.
- (f) Cheques paid into bank but not cleared ₹ 2,500.

निम्नलिखित विवरण से 31-12-2014 को श्री मदन की पासबुक का शेष ज्ञात कीजिए :

- (क) 31 दिसंबर 2014 को रोकड़ बही में बैंक अधिविकर्ष ₹ 16,340
- (ख) 31 दिसंबर 2014 को समाप्त छ माही हेतु अधिविकर्ष पर ब्याज ₹ 1,000 पासबुक में नामित किया गया।
- (ग) पासबुक में बैंक प्रभार के ₹ 60 नामित किए गए।
- (घ) ₹ 1,250 के चैक जारी किए परंतु अभी तक भुनाए नहीं गए।
- (ङ) बैंक द्वारा निवेश पर ब्याज ₹ 1,000 संग्रहित किए गए।
- (च) बैंक में ₹ 2,500 के चैक जमा कराए परंतु समाशोधित नहीं हुए।

22 Pass Journal entries and prepare ledger accounts : 6

Feb. 1, 2015	Goods purchased .....	₹ 11,500
Feb. 7, 2015	Goods purchased from Deepak .....	₹ 2,500
Feb. 10, 2015	Deposited in the bank .....	₹ 3,000
Feb. 15, 2015	Goods returned to Deepak .....	₹ 200
Feb. 17, 2015	Dividend received .....	₹ 750

रोजनामचा प्रविष्टियाँ कीजिए तथा खाते बनाइए :

2015

फरवरी 1	माल खरीदा .....	₹ 11,500
फरवरी 7	दीपक से माल खरीदा .....	₹ 2,500
फरवरी 10	बैंक में जमा कराए .....	₹ 3,000
फरवरी 15	दीपक को माल वापस किया .....	₹ 200
फरवरी 17	लाभांश प्राप्त .....	₹ 750





23 Distinguish between provisions and reserves. (any four) 6  
 किन्हीं चार आधारों पर प्रावधान एवं संचय में अंतरभेद कीजिए।

24 What do you mean by financial statements ? State any four objectives of 6  
 financial statements.  
 वित्तीय विवरणों से आपका क्या अभिप्राय है? वित्तीय विवरणों के कोई चार उद्देश्य बताइए।

25 From the following Trial Balance prepare Trading and Profit and Loss Account 10  
 and Balance Sheet for the year ended 31-12-2014.

Debit balances	Amt.(₹)	Credit balances	Amt.(₹)
Furniture	2,640	Capital	10,000
Motor Vehicle	10,000	Sales	62,800
Building	17,360	Creditors	3,000
Bad debt	250	Bank overdraft	2,100
Debtors	5,000	Purchase return	250
Stock (1-1-14)	3,000	Commission	650
Purchases	25,380		
Sales Return	200		
Advertising	1,450		
Interest	472		
Cash	3,650		
Drawings	400		
Insurance & Tax	3,570		
General Expenses	1,200		
Salaries	4,228		
	<b>78,800</b>		<b>78,800</b>

Adjustments :

- Closing stock on 31-12-2014 was ₹ 7,600
- Salaries outstanding ₹ 278
- Insurance prepaid ₹ 70
- Depreciation on Motor Vehicle 10% and 5% on Furniture and Building.



निम्नलिखित तलपट से 31 दिसंबर 2014 को समाप्त होने वाले वर्ष का व्यापार तथा लाभ-हानि खाता तथा उसी तिथि का तुलन-पत्र बनाइए :

नाम शेष	₹	जमा शेष	₹
फर्नीचर	2,640	पूँजी	10,000
मोटर वाहन	10,000	विक्रय	62,800
भवन	17,360	लेनदार	3,000
डूबत ऋण	250	बैंक अधिविकर्ष	2,100
देनदार	5,000	क्रय वापसी	250
रहतिया (1-1-2014)	3,000	कमीशन	650
क्रय	25,380		
विक्रय वापसी	200		
विज्ञापन	1,450		
ब्याज	472		
रोकड़	3,650		
आहरण	400		
बीमा व कर	3,570		
सामान्य व्यय	1,200		
वेतन	4,228		
	<b>78,800</b>		<b>78,800</b>

समायोजनाएँ :

- (क) 31 दिसंबर 2014 को अंतिम रहतिया ₹ 7,600 था।  
(ख) अदत्त वेतन ₹ 278  
(ग) पूर्व प्रदत्त बीमा ₹ 70  
(घ) मोटर वाहन पर 10% तथा फर्नीचर एवं भवन पर 5% की दर से अवक्षयण लगाना है।

**OR/अथवा**

Explain the following adjustments with example and effect on final accounts :

- (a) Closing Stock (b) Prepaid Expenses  
(c) Outstanding Expenses (d) Depreciation.

निम्नलिखित समायोजनाओं को उदाहरण सहित समझाइए तथा अंतिम खातों पर इनके प्रभाव भी बताइए :

- (क) अंतिम रहतिया (ख) पूर्व प्रदत्त व्यय  
(ग) अदत्त व्यय (घ) अवक्षयण।



This Question Paper consists of 17 questions and 4 printed pages.  
इस प्रश्न-पत्र में 17 प्रश्न तथा 4 मुद्रित पृष्ठ हैं ।

Roll No. 

--	--	--	--	--	--	--	--	--	--	--	--	--	--	--	--	--	--	--	--

  
अनुक्रमांक

Code No. 53/AS/3  
कोड नं.

Set-**A**

**PAINTING (Theory)**  
**चित्रकला (सिद्धान्त)**  
**(225)**

**Day and Date of Examination**  
(परीक्षा का दिन व दिनांक)

\_\_\_\_\_

**Signature of Invigilators**

1. \_\_\_\_\_

(निरीक्षकों के हस्ताक्षर)

2. \_\_\_\_\_

**General Instructions :**

- 1 Candidate must write his/her Roll Number on the first page of the Question Paper.
- 2 Please check the Question Paper to verify that the total pages and the total number of questions contained in the Question Paper are the same as those printed on the top of the first page. Also check to see that the questions are in sequential order.
- 3 All the questions are to be answered within the allotted time.
- 4 Making any identification mark in the Answer-Book or writing Roll Number anywhere other than the specified places will lead to disqualification of the candidate.
- 5 Write your Question Paper code No. **53/AS/3-A** on the Answer-Book.
- 6 (a) The Question Paper is in English/Hindi medium only. However, if you wish, you can answer in any one of the languages listed below :  
English, Hindi, Urdu, Punjabi, Bengali, Tamil, Malayalam, Kannada, Telugu, Marathi, Oriya, Gujarati, Konkani, Manipuri, Assamese, Nepali, Kashmiri, Sanskrit and Sindhi.  
You are required to indicate the language you have chosen to answer in the box provided in the Answer-Book.
- (b) If you choose to write the answer in the language other than Hindi and English, the responsibility for any errors/mistakes in understanding the question will be yours only.



सामान्य अनुदेश :

- 1 परीक्षार्थी प्रश्नपत्र के पहले पृष्ठ पर अपना अनुक्रमांक अवश्य लिखें ।
- 2 कृपया प्रश्नपत्र को जाँच लें कि प्रश्नपत्र के कुल पृष्ठों तथा प्रश्नों की उतनी ही संख्या है जितनी प्रथम पृष्ठ के सबसे ऊपर छपी है । इस बात की जाँच भी कर लें कि प्रश्न क्रमिक रूप में हैं ।
- 3 सभी प्रश्नों के उत्तर निर्धारित अवधि के भीतर ही देने हैं ।
- 4 उत्तर-पुस्तिका में पहचान-चिह्न बनाने अथवा निर्दिष्ट स्थानों के अतिरिक्त कहीं भी अनुक्रमांक लिखने पर परीक्षार्थी को अयोग्य ठहराया जायेगा ।
- 5 अपनी उत्तर-पुस्तिका पर प्रश्नपत्र की कोड संख्या **53/AS/3-A** लिखें ।
- 6 (क) प्रश्नपत्र केवल हिंदी/अंग्रेजी में है । फिर भी, यदि आप चाहें तो नीचे दी गई किसी एक भाषा में उत्तर दे सकते हैं :

अंग्रेजी, हिंदी, उर्दू, पंजाबी, बँगला, तमिल, मलयालम, कन्नड़, तेलुगु, मराठी, उड़िया, गुजराती, कोंकणी, मणिपुरी, असमिया, नेपाली, कश्मीरी, संस्कृत और सिंधी ।

कृपया उत्तर-पुस्तिका में दिए गए बॉक्स में लिखें कि आप किस भाषा में उत्तर लिख रहे हैं।

- (ख) यदि आप हिंदी एवं अंग्रेजी के अतिरिक्त किसी अन्य भाषा में उत्तर लिखते हैं तो प्रश्न को समझने में होने वाली त्रुटियों / गलतियों की जिम्मेदारी केवल आपकी होगी ।



## PAINTING (Theory)

चित्रकला (सिद्धान्त)

(225)

Time : 1½ Hours]

[Maximum Marks : 30

समय : 1½ घण्टे]

[पूर्णांक : 30

- Note :** (1) Attempt **all** questions.  
(2) Each question having **1** mark should be answered in about **10** words.  
(3) Each question having **2** marks should be answered in about **30** words.  
(4) Each question having **3** marks should be answered in about **50** words.

- निर्देश :** (1) सभी प्रश्नों के उत्तर दीजिए ।  
(2) 1 अंक वाले प्रत्येक प्रश्न का उत्तर लगभग **10** शब्दों में दीजिए ।  
(3) 2 अंक वाले प्रत्येक प्रश्न का उत्तर लगभग **30** शब्दों में दीजिए ।  
(4) 3 अंक वाले प्रत्येक प्रश्न का उत्तर लगभग **50** शब्दों में दीजिए ।

- 
- 1 Why Gupta period is known as golden or classical period of Indian art history ? 2  
गुप्त युग को भारतीय कला इतिहास में स्वर्णिम अथवा प्रतिष्ठित युग क्यों कहा जाता है ?
- 2 Write in detail about the characteristics of Ajanta paintings. 2  
अजन्ता चित्रकला की विशेषता क्या है ?
- 3 Name **two** main centres which flourished during Pallava dynasty. 1  
पल्लव काल के दो विकास प्राप्त मुख्य केन्द्रों के नाम बताइए ।
- 4 Describe the famous Guler painting "Sringar". 3  
गुलेर शैली की चित्रकला "शृंगार" का वर्णन करें ।
- 5 Mention the name of at least three floor decoration art of India. 1  
कम से कम तीन भारतीय फर्श चित्रकारी के नाम बताइए ।
- 6 What do you understand by the term "Phulkari" ? What are the materials used 1  
in it ?  
फुलकारी का अर्थ क्या है ? फुलकारी में कौन सी सामग्री का प्रयोग किया जाता है ?
- 7 Name the colours generally used in 'Kolam' paintings. 1  
कोलम फर्श चित्र में किन रंगों का प्रयोग होता है ?



- 8 Describe the famous Rembrandt's painting "The Night Watch" and also mention the style of this painting. 3  
रेमब्रां की चित्रकला "दि नाइट वाच" का वर्णन कीजिए । इस चित्रशैली का नाम बताइए ।
- 9 How Post-impressionist style is different from impressionist style ? 2  
प्रभाववाद तथा उत्तर-प्रभाववाद शैली में अन्तर क्या है ? बताइए ।
- 10 Write an appreciative note on Auguste Renoir. 2  
ऑगस्त रेनोया पर एक प्रशंसात्मक टिप्पणी लिखिए ।
- 11 Describe the painting "Dance Class" and why was Degas different from other impressionist painters. 2  
देगा की चित्र "डांस क्लास" का वर्णन कीजिए । देगा दूसरे प्रभाववादी कलाकारों की अपेक्षा भिन्न क्यों है ?
- 12 What is the theme of the painting "Guernica" and also name the artist of this painting. 1  
"गुयेर्निका" चित्र के कलाकार का नाम बताते हुए इस चित्र की विषयवस्तु के बारे में लिखिए ।
- 13 What do you see in the painting "Persistence of Memory" ? 1  
"परसिस्टेंस ऑफ मैमोरी" नामक चित्र में आपको क्या दिखलाई पड़ता है ?
- 14 Name two Surrealist painters from your course of study. 1  
पाठ्यक्रम में दिए गया दो अतिथार्थवादी कलाकारों के नाम बताइए ।
- 15 Write in detail about the compositional arrangements of the painting "Brahmacharies". 3  
"ब्रह्मचारीज" नामक चित्र के संयोजनात्मक प्रबंध के बारे में विस्तारित रूप में लिखिए ।
- OR / अथवा**
- Write an essay on the development of artistic style of Gaganendranath Tagore.  
गगनेन्द्रनाथ टैगोर की कलात्मक शैली के विकास पर एक निबन्ध लिखिए ।
- 16 What kind of technique is 'Fresco Buono' ? Explain the method of this technique. 2  
Fresco Buono तकनीक क्या है, बताते हुए, इस तकनीक के बारे में लिखिए ।
- 17 Write few lines about the Krishna Reddy's creation "Whirlpool". 2  
कृष्णा रेड्डी के चित्र 'वर्लपूल' के बारे में कुछ पंक्तियाँ लिखिए ।



This Question Paper consists of 29 questions and 4 printed pages.

Roll No. 

--	--	--	--	--	--	--	--	--	--	--

Code No. 53/S/O/A

Set-A

ASSAMESE

(অসমীয়া)

(228)

Day and Date of Examination

Signature of Invigilators

1. \_\_\_\_\_

2. \_\_\_\_\_

সাধাৰণ নিৰ্দেশাৱলী :

- 1 প্রশ্ন কাকতৰ প্ৰথম পৃষ্ঠাত পৰীক্ষাৰ্থীয়ে নিজৰ ৰোল নং সঠিককৈ লিখিব ।
- 2 পৰীক্ষাৰ্থীয়ে প্ৰশ্ন কাকতৰ প্ৰথম পৃষ্ঠাৰ শীৰ্ষত উল্লেখ কৰা মতে প্ৰশ্ন বহীখনত মুঠ প্ৰশ্নৰ সংখ্যা ক্ৰমানুসাৰে আছে নে নাই আৰু পৃষ্ঠাৰ সংখ্যা ঠিক মতে আছে নে নাই নিশ্চিত হৈ লব লাগিব ।
- 3 বহুনিষ্ঠ প্ৰশ্নৰ ক্ষেত্ৰৰ (A), (B), (C), (D) বিকল্প সমূহৰ পৰা যি কোনো এটা শুদ্ধ উত্তৰ বাছি বেলেগে দিয়া উত্তৰ বহীত তাক চিহ্নিত কৰিব ।
- 4 বহুনিষ্ঠ প্ৰশ্ন সহিতে সকলোবোৰ প্ৰশ্নৰ উত্তৰ নিৰ্দিষ্ট সময়ৰ ভিতৰত কৰিব লাগিব । বহুনিষ্ঠ প্ৰশ্নৰ বাবে বেলেগে কোনো অতিৰিক্ত সময় দিয়া নহব ।
- 5 নিৰ্দিষ্ট স্থানত বাহিৰে প্ৰশ্ন - উত্তৰ বহীৰ অন্য কোনো স্থানত ৰোল নং বা পৰীক্ষাৰ্থীৰ চিনাক্ত কৰণৰ যিকোনো তথ্য লিখিলে পৰীক্ষাৰ্থীৰ পৰীক্ষা বাতিল হব ।
- 6 উত্তৰ বহীত প্ৰশ্ন কাকতৰ সাংকেতিক সংখ্যা Code No. 53/S/O/A-A উল্লেখ কৰিব ।



# ASSAMESE

(অসমীয়া)

(228)

সময় : 3 ঘন্টা ]

[পূৰ্ণমান : 100

নিৰ্দেশ : সকলো প্ৰশ্নৰ উত্তৰ কৰা বাঞ্ছনীয় ।

সাধাৰণ নিৰ্দেশাৱলী :

- (1) পৰীক্ষাৰ্থীয়ে প্ৰতিটো প্ৰশ্নৰ তলত দিয়া স্থানত উত্তৰ লিখিব লাগিব । যদি উত্তৰ লিখাৰ স্থান কম হয় তেনে হলে শেষত দিয়া অতিৰিক্ত পৃষ্ঠাৰ প্ৰথমতেই প্ৰশ্ন নং লিখিব লাগিব ।
- (2) বহুমুখী (Multiple Choice) প্ৰশ্নৰ ক্ষেত্ৰত পৰীক্ষাৰ্থীয়ে বিকল্প বিলাকৰপৰা সঠিক উত্তৰ বাছিব লাগিব আৰু (A), (B), (C) অথবা (D) ৰ ভিতৰত যিটো সঠিক সেইটো প্ৰশ্নৰ সন্মুখত দিয়া বাকচত লিখিব লাগিব ।
- (3) পৰীক্ষাৰ্থীয়ে একমাত্ৰ ফ্লেপৰ (Flap) নিৰ্দিষ্ট স্থানত নিজৰ ৰোল নং, নাম, পৰীক্ষা কেন্দ্ৰ সংখ্যা লিখিব লাগিব ।

- 1 গড়গাঁও কবিতাটোৰ ৰচক - 1  
(A) নলিনীবালা দেৱী  
(B) যতীন্দ্রনাথ দুৱৰা  
(C) বিনন্দ চন্দ্ৰ বৰুৱা
- 2 সোন পৰীক্ষা কৰিবলৈ ব্যৱহাৰ কৰা শিলটোক কি শিল বুলি কোৱা হয় ? 1
- 3 তুলাৰাম সেনাপতি কোন বংশৰ লোক আছিল ? 1
- 4 অসমৰ সংস্কৃতিক যৌগিক সংস্কৃতি বোলাৰ কাৰণ কি ? 1
- 5 কম্পিউটাৰৰ আৱিষ্কাৰক গৰাকী কোন ? 1
- 6 হীৰেন ভট্টাচাৰ্য্যই কোনখন পুথিৰবাবে সাহিত্য পুৰস্কাৰ লাভ কৰিছিল ? 1





- 7 'কৰেংগে ইয়া মৰেংগে - কৰিম কিয়া মৰিম' - এই অমোঘ মন্ত্ৰ কাৰ - 1  
 (A) তৰুণৰাম ফুকন  
 (B) গোপীনাথ বৰদলৈয়ে  
 (C) মহাত্মা গান্ধীয়ে
- 8 আমাৰ জনমভূমি ভাৰতবৰ্ষ এখন - 1  
 (A) দুখীয়া দেশ  
 (B) বৈচিত্ৰপূৰ্ণ দেশ  
 (C) উন্নত দেশ
- 9 মাদাৰ টেৰেছাই কোন চনত ভাৰতীয় নাগৰিকত্ব গ্ৰহন কৰিছিল ? 1
- 10 আমেৰিকাৰ সভ্যতা কিমান পুৰনি ? 1
- 11 জাপানৰ নগৰ দুখন ধংস কৰা বোমাটোৰ নাম কি ? 1
- 12 শঙ্কৰদেৱে প্ৰচাৰ কৰা ধৰ্মটোৰ নাম কি ? 1
- 13 নলিনীবালা দেৱীৰ দেউতাকৰ নাম কি আছিল ? কবি গৰাকীয়ে কি উপাধি লাভ কৰিছিল ? 2
- 14 শব্দ প্ৰদূষণৰ কু-ফল দুটা উল্লেখ কৰা । 2
- 15 কম্পিউটাৰৰ মূলভাগ কেইটা কি ? কি ? 2
- 16 আমি ভ্ৰমণ কাহিনী কিয় পঢ়িব লাগে ? 2
- 17 'কৈচেকী' কথা কবিতাৰ মাজেদি কি তত্ত্ব প্ৰকাশ পাইছে ? 2
- 18 বানপানী সমস্যা সমাধানৰ বাবে গ্ৰহন কৰিব পৰা যিকোনো তিনিটা প্ৰধান উপায় উল্লেখ কৰা । 3
- 19 প্ৰকৃতিৰ প্ৰধান উপাদান কেইটা কি কি ? 3
- 20 বৰগীত কাক বোলে ? 3



- 21 জনমভূমি নাইবা গড়গাঁও কবিতাটোৰ মূলভাৱ লিখা । 6
- 22 প্ৰসংগ সংগতি দৰ্শাই ব্যাখ্যা কৰা । (যিকোনো দুছোৱা) 5×2=10
- (A) ফাগুনৰ মলয়াত  
পৰান মিলাই দিয়া  
জীৱন ফাগুন সোন নাথাকে সদায় ।
- (B) ‘মহাত্মাই মোক মাতি পঠিয়াইছে, তেখেতৰ কামত হেনো মই সহায়ক হব লাগে ।’
- (C) লোভ মোহ দুঁহো বাঘ সততে নছাড়ে লগ ৰাখু ৰাখু সদাশিৱ ।
- 23 তোমাৰ অঞ্চলত দেখা দিয়া খোৱা পানীৰ নাটনিৰ বাবে বিভাগীয় কৰ্তৃপক্ষলৈ বাতৰি কাকতৰ 8  
সম্পাদকৰ জৰিয়তে এখন চিঠি লিখা ।
- 24 এটা শব্দত প্ৰকাশ কৰা - 1×5=5  
যাৰ কোনো আশ্ৰয় নাই, যি উপকাৰীৰ উপকাৰ স্বীকাৰ কৰে, আনৰ ভাল দেখিব  
নোৱাৰা লোক, একে মাকৰ পুতেক, কাৰো নাম নধৰাকৈ পৰা গালি ।
- 25 বিপৰীতাৰ্থক শব্দ লিখা - 1×5=5  
আদি, ৰোগী, সঁচা, চাপৰ, স্বদেশী ।
- 26 বাক্য-ৰচনা কৰা : (যিকোনো 4 (চাৰি) টাৰ) 4×2=8  
আপুৰুগীয়া, উৎসৰ্গা, অজীন পাতাকি, জাকত জিলিকা, ককাল ভঙ্গা ।
- 27 সন্ধি পাৰা আৰু ভাঙ্গা । 5×1=5  
বিদ্যা + আলয়, সম + বাট, নগৰ + ইয়া, নিৰাপদ, ইত্যাদি ।
- 28 ভাৱ সম্প্ৰসাৰণ কৰা । (যিকোনো দুছোৱা) 6×2=12
- (A) অৰ্থই অনিষ্ঠৰ মূল ।  
(B) অহিংসাই পৰম ধৰ্ম ।  
(C) এক বৃক্ষ শত পুত্ৰ সম ।
- 29 তলত দিয়া যিকোনো বিষয়ৰ এখন ৰচনা লিখা । 10  
গ্ৰন্থমেলা, পুথিভৰাল, তোমাৰ প্ৰিয় সাহিত্যিক ।



This Question Paper consists of 8 questions and 8 printed pages.

इस प्रश्न-पत्र में 8 प्रश्न तथा 8 मुद्रित पृष्ठ हैं ।

Roll No. 

--	--	--	--	--	--	--	--	--	--	--

अनुक्रमांक

Code No. 53/AS/3

कोड नं.

Set - **A**

## DATA ENTRY OPERATIONS

डाटा एंट्री ऑपरेशन्स

(229)

**Day and Date of Examination**

(परीक्षा का दिन व दिनांक)

\_\_\_\_\_

**Signature of Invigilators**

1.

\_\_\_\_\_

(निरीक्षकों के हस्ताक्षर)

2.

\_\_\_\_\_

### General Instructions :

- 1 Candidate must write his/her Roll Number on the first page of the Question Paper.
- 2 Please check the Question Paper to verify that the total pages and the total number of questions contained in the Question Paper are the same as those printed on the top of the first page. Also check to see that the questions are in sequential order.
- 3 All the questions are to be answered within the allotted time.
- 4 Making any identification mark in the Answer-Book or writing Roll Number anywhere other than the specified places will lead to disqualification of the candidate.
- 5 Write your Question Paper code No. **53/AS/3-A** on the Answer-Book.
- 6 (a) The Question Paper is in English/Hindi medium only. However, if you wish, you can answer in any one of the languages listed below :  
English, Hindi, Urdu, Punjabi, Bengali, Tamil, Malayalam, Kannada, Telugu, Marathi, Oriya, Gujarati, Konkani, Manipuri, Assamese, Nepali, Kashmiri, Sanskrit and Sindhi.  
You are required to indicate the language you have chosen to answer in the box provided in the Answer-Book.
- (b) If you choose to write the answer in the language other than Hindi and English, the responsibility for any errors/mistakes in understanding the question will be yours only.



सामान्य अनुदेश :

- 1 परीक्षार्थी प्रश्नपत्र के पहले पृष्ठ पर अपना अनुक्रमांक अवश्य लिखें ।
- 2 कृपया प्रश्नपत्र को जाँच लें कि प्रश्नपत्र के कुल पृष्ठों तथा प्रश्नों की उतनी ही संख्या है जितनी प्रथम पृष्ठ के सबसे ऊपर छपी है । इस बात की जाँच भी कर लें कि प्रश्न क्रमिक रूप में हैं ।
- 3 सभी प्रश्नों के उत्तर निर्धारित अवधि के भीतर ही देने हैं ।
- 4 उत्तर-पुस्तिका में पहचान-चिह्न बनाने अथवा निर्दिष्ट स्थानों के अतिरिक्त कहीं भी अनुक्रमांक लिखने पर परीक्षार्थी को अयोग्य ठहराया जायेगा ।
- 5 अपनी उत्तर-पुस्तिका पर प्रश्नपत्र की कोड संख्या **53/AS/3-A** लिखें ।
- 6 (क) प्रश्नपत्र केवल हिंदी/अंग्रेजी में है । फिर भी, यदि आप चाहें तो नीचे दी गई किसी एक भाषा में उत्तर दे सकते हैं :

अंग्रेजी, हिंदी, उर्दू, पंजाबी, बँगला, तमिल, मलयालम, कन्नड़, तेलुगु, मराठी, उड़िया, गुजराती, कोंकणी, मणिपुरी, असमिया, नेपाली, कश्मीरी, संस्कृत और सिंधी ।

कृपया उत्तर-पुस्तिका में दिए गए बॉक्स में लिखें कि आप किस भाषा में उत्तर लिख रहे हैं।

- (ख) यदि आप हिंदी एवं अंग्रेजी के अतिरिक्त किसी अन्य भाषा में उत्तर लिखते हैं तो प्रश्न को समझने में होने वाली त्रुटियों / गलतियों की जिम्मेदारी केवल आपकी होगी ।



## DATA ENTRY OPERATIONS

### डटा एंट्री ऑपरेशन्स

(229)

Time : 2 Hours]

[Maximum Marks : 40

समय : 2 घण्टे]

[पूर्णांक : 40

- Note :** (1) Attempt **all** questions.  
(2) Marks are given against each question.

- निर्देश :** (1) सभी प्रश्नों के उत्तर दीजिए ।  
(2) प्रत्येक प्रश्न के अंक उसके सामने दिये गये हैं ।

1 Match the following and write your answer in the answer book :

$\frac{1}{2} \times 6 = 3$

A	B
(a) CPU	(i) Input Device
(b) Slide Show	(ii) Line Printer
(c) Mouse	(iii) Currency
(d) Windows XP	(iv) Central Processing Unit
(e) Amount	(v) Full Screen View
(f) Output Device	(vi) Operating System

निम्नलिखित का मिलान करें और अपनी उत्तर-पुस्तिका में लिखें :

A	B
(a) CPU	(i) इनपुट डिवाइस
(b) स्लाइड शो	(ii) लाइन प्रिंटर
(c) माउस	(iii) करेन्सी
(d) विंडोज़ XP	(iv) सेन्ट्रल प्रोसेसिंग यूनिट
(e) अमाउंट	(v) फुल स्क्रीन व्यू
(f) आउटपुट डिवाइस	(vi) ऑपरेटिंग सिस्टम



2 Write in your answer book, True / False for the following statements :  $\frac{1}{2} \times 6 = 3$

- (a) C is an Object Oriented Programming Language.
- (b) In both Normal View and Outline View we can see : Current Slide, Slide Outline and notes.
- (c) You cannot use Custom Dictionary to remove a word.
- (d) The font size is measured in points.
- (e) Windows provides a quick and easy way to install new software.
- (f) Speed of DOT Matrix Printer is measured in Characters Per Second.

निम्नलिखित बयान के लिए सही / गलत अपनी उत्तर पुस्तिका में लिखें :

- (a) सी एक ऑब्जेक्ट ओरिएंटेड प्रोग्रामिंग भाषा है ।
- (b) दोनों साधारण दृश्य और रूपरेखा में हम देख सकते हैं : वर्तमान स्लाइड, स्लाइड रूपरेखा और नोट्स ।
- (c) तुम एक शब्द को हटाने के लिए कस्टम शब्दकोश का उपयोग नहीं कर सकते हैं ।
- (d) फ्रॉन्ट आकार अंक में मापा जाता है ।
- (e) Windows नए सॉफ्टवेयर स्थापित करने के लिए एक त्वरित और आसान तरीका प्रदान करता है ।
- (f) डॉट मैट्रिक्स प्रिंटर की गति प्रति सेकण्ड अक्षरों में मापी जाती है ।

3 Define the following :  $1 \times 4 = 4$

- (a) Compiler
- (b) My Recent Documents
- (c) Area Chart
- (d) Software

निम्नलिखित को परिभाषित करें :

- (a) संकलक (कॉम्पाइलर)
- (b) मेरे हाल के दस्तावेज
- (c) क्षेत्र चार्ट
- (d) सॉफ्टवेयर



4 Write short notes on the following :

2×4=8

- (a) CRT
- (b) Data Source
- (c) Title Slide
- (d) Speaker

निम्नलिखित पर लघु टिप्पणी (शॉर्ट नोट) लिखें :

- (a) सीआरटी
- (b) डेटा स्रोत (डाटा सोर्स)
- (c) टाइटल स्लाइड
- (d) स्पीकर

5 Differentiate between the following :

2×2=4

- (a) Font Face and Font Size
- (b) Read Only Document and Password Protected Document

निम्न के बीच अंतर लिखें :

- (a) फॉन्ट फेस और फॉन्ट साईज़
- (b) केवल पढ़ने वाले दस्तावेज और पासवर्ड संरक्षित दस्तावेज

6 Answer the following :

2×5=10

- (a) Write the steps to remove windows components.
- (b) Explain the steps to create the data source using word table.
- (c) What are the different types of alignment available ?
- (d) Explain the autosum feature in MS-Excel.
- (e) How can we use cell reference facility in MS-Excel ?

निम्नलिखित प्रश्नों के उत्तर दीजिए :

- (a) Windows घटकों को दूर करने के लिए कदम लिखें ।
- (b) शब्द तालिका का उपयोग कर डेटा स्रोत बनाने के लिए कदम लिखें ।
- (c) संरेखण के विभिन्न प्रकार क्या हैं ?
- (d) एमएस एक्सेल में ऑटो सम (Autosum) सुविधा के बारे में बताएँ ।
- (e) हम कैसे एमएस एक्सेल में सेल रेफरेन्स सुविधा का उपयोग कर सकते हैं ?



7 Answer the following :

2×2=4

(a) Write the keyboard shortcuts or any special key which you can use for the following actions :

- (i) To use Save as Option
- (ii) Erase pen Stroke
- (iii) Previous Slide
- (iv) Replace the word

(b) Write the steps to Insert Text on a particular position.

निम्नलिखित के उत्तर लिखें :

(a) निम्नलिखित कार्यों के लिए की-बोर्ड शोर्टकट या विशेष कुंजी जो आप उपयोग कर सकते हैं लिखें :

- (i) सेव एस ऑप्शन का उपयोग करने
- (ii) पेन स्ट्रॉक एरेस करने
- (iii) प्रीवियस स्लाइड
- (iv) शब्द बदलने

(b) एक विशेष स्थिति पर पाठ सम्मिलित (टेक्स इन्सर्ट) करने के कदम लिखें ।

8 Answer the following :

2×2=4

(a) The air control board of India conducted a survey and found the following data about the air pollution in various cities of India. Write the steps to plot a PIE chart to show which area is most polluted :

Cities	% (of Air Pollution)
Pune	10
Hyderabad	25
Mumbai	20
Chennai	10
Delhi	35





(b) Following spread sheet data shows the Result of the students :

	<b>A</b>	<b>B</b>	<b>C</b>	<b>D</b>	<b>E</b>	<b>F</b>
1	<b>Name of the Student</b>	<b>English</b>	<b>Hindi</b>	<b>Science</b>	<b>Total</b>	<b>Percentage</b>
2	Amit	67	78	87		
3	Rajesh	87	97	45		
4	Ram	90	100	76		
5	Ibrahim	80	45	65		

Based on the above data write the formulas to calculate the following :

- (i) Total Marks of each student.
- (ii) Percentage of each student.
- (iii) Maximum marks got by student.
- (iv) Write the formula in cell A6 to count the number of students.

निम्नलिखित के उत्तर लिखें :

- (a) भारत के हवाई नियंत्रण बोर्ड ने एक सर्वेक्षण किया और भारत के विभिन्न शहरों में वायु प्रदूषण के बारे में निम्न डेटा पाया। जो क्षेत्र सबसे अधिक प्रदूषित है, को दिखाने के लिए एक पाई (Pie) चार्ट बनाने के लिए कदम लिखें।

शहर	% (वायु प्रदूषण)
पुणे	10
हैदराबाद	25
मुंबई	20
चेन्नई	10
दिल्ली	35



(b) निम्नलिखित स्प्रेड शीट डेटा छात्रों के परिणाम को दर्शाता है :

	A	B	C	D	E	F
1	छात्र का नाम	अंग्रेजी	हिन्दी	विज्ञान	कुल	प्रतिशत
2	अमित	67	78	87		
3	राजेश	87	97	45		
4	राम	90	100	76		
5	इब्राहिम	80	45	65		

उपर्युक्त डेटा के आधार पर निम्नलिखित की गणना के सूत्र (फोर्म्युले) लिखिए :

- (i) प्रत्येक छात्र का कुल अंक
- (ii) प्रत्येक छात्र का प्रतिशत
- (iii) छात्र द्वारा प्राप्त अधिकतम अंक
- (iv) छात्रों की संख्या की गणना करने के लिए सेल A6 में सूत्र लिखें।





# NEPALI

नेपाली

(231)

समय : 3 घण्टा

पूर्णाङ्क : 100

निर्देश :

- 1 सबै प्रश्नको उत्तर अनिवार्य छ ।
- 2 सबै प्रश्नहरू ध्यानपूर्वक पढी उत्तर दिनुहोस् ।
- 3 प्रश्न सङ्ख्या 1 देखि 11 सम्मका चार विकल्पहरूमध्ये सर्वाधिक उपयुक्त उत्तर आफ्नो उत्तर-पुस्तिकामा लेख्नुहोस् ।

- 1 कविले कसलाई 'जोभ बालिदिन्छु' भनेका छन्? 1  
(A) युवकहरूलाई (B) जनतालाई  
(C) अल्छीलाई (D) सैबलाई
- 2 नौली को थिई ? 1  
(A) देवीरमणकी पत्नी (B) देवीरमणकी दोस्री पत्नी  
(C) सुभद्राकी दिदी (D) देवीरमणकी सेविका
- 3 मूर्खलाई अर्ति कस्तो लाग्छ ? 1  
(A) सन्देश (B) प्रशंसा  
(C) आदेश (D) गाली
- 4 भोगविलासको दास को छैन? 1  
(A) चलाख (B) ज्ञानी  
(C) परिश्रमी (D) गरीब

- 5 विद्यार्थी र सिपाही माझ के सम्बन्ध थियो ? 1  
 (A) सहयात्री (B) सहकर्मी  
 (C) सहयोगी (D) सहभागी
- 6 'क्षितिजमा आकाश र धरतीको संगम देखिन्छ' – यो कसको भनाइ हो? 1  
 (A) प्रदीपको (B) सुखवीरको  
 (C) हरिबाजेको (D) कसैको पनिहोइन
- 7 कहिले पर्वतारोहीहरू रेमण्ड ल्याम्बट र तेञ्जिङ शेर्पा अठाइस हजार दुई सय पन्ध्र फीटको उचाइसम्म पुगेर फर्के ? 1  
 (A) सन् 1920 (B) सन् 1893  
 (C) सन् 1921 (D) सन् 1952
- 8 नेपाली र नागाहरूको बीचमा मित्रताको सुवर्ण पुल बाँदने ती सरल स्वभावका योगी को हुन्? 1  
 (A) बाजे (B) पादरी साहेब  
 (C) ताख्वे नागा (D) नाती मानव कुमार
- 9 'उसलाई आफ्नै खुट्टाहरूमा पनि विश्वास रहेनछ' – कसलाई ? 1  
 (A) कथाको मुख्य पात्रलाई (B) च्याक्से मान्छेलाई  
 (C) केटालाई (D) बूढोलाई
- 10 कवि माधवप्रसाद धिमिरे कुन धाराका कवि हुन्? 1  
 (A) प्रयोगवादी (B) छायावादी  
 (C) स्वच्छन्दतावादी (D) प्रगतिवादी

11 'वेलामा' निबन्ध कुन विषयमा आधारित छ ? 1

- (A) साहित्य (B) भाषा  
(C) संस्कृति (D) संगीत

12 तलका गद्यांश पढेर सोधिएका प्रश्नहरूको उत्तर दिनुहोस् :

मोतीराम भट्ट काशीमै एक सज्जन रामकृष्ण वर्माको सहायताले एउटा छापाखाना 'भारत जीवन प्रेस' खोली आफू म्यानेजर मई काम चलाउन थाले। छापाखान खोलिएको केही समय पछि नै उनले भानुभक्तको वालकाण्ड रामायण छापेर प्रकाशित गरे। यो प्रथम मुद्रित नेपाली पुस्तक भन्ने उनको दृढ़ विश्वास थियो। त्यसैले उनले त्यस पुस्तकको एक प्रति वेलायतको लाइब्रेरीमा पनि पठाए। यसरी यो पुस्तक प्रकाशित गराउनु उनको महान् कार्य थियो। यस कार्यलाई नेपालीहरूले हार्दिक स्वागत गरे। छोटो अवधिमाै वालकाण्ड समाप्त भयो। तब सातै काण्ड रामायण खोजेर छापे। त्यसरी भानुभक्तको रामायण सधैंलाई असर भयो। त्यसपछि उनले 'गोर्खा भारत जीवन' नामक प्रथम नेपाली पत्रिका सम्पादन र सञ्चालन गर्न लागे। मातृ-भाषा सेवामा लागेका मोतीराम भट्टले क्रमशः नेपाली पुस्तक तयार पार्न लागे। 'गजेन्द्रमोक्ष', 'पञ्चक प्रपञ्च', 'स्वप्नाध्याय संग्रह', 'शकुनौती छपाएर प्रकाशित गरे।

(i) मोतीरामले छापाखाना खोलेपछि सर्वप्रथम भानुभक्तको कुन रचना प्रकाशित गरे ? 1

- (A) वधूशिक्षा (B) भक्तमाला  
(C) प्रश्नोत्तर माला (D) वालकाण्ड रामायण

(ii) वालकाण्डको एक प्रति वेलायतको लाइब्रेरीमा किन पठाए ? 1

- (A) भक्तिकाव्य भएकोले (B) लोकप्रिय भएकोले  
(C) सरल सहज भएकोले (D) प्रथम मुद्रित नेपाली पुस्तक भएकोले ?

(iii) कसको सहयोगले मोतीराम भट्टले छापाखाना खोले ? 1

(iv) त्यस छापाखानाको नाम के हो ? 1

(v) वालकाण्ड रामायण चाँडै बिक्री भएपछि मोतीरामले के गरे ? 2

(vi) मोतीरामले कुन प्रथम नेपाली पत्रिकाको सञ्चालन र सम्पादन गरे ? 2

- (vii) यी सब कार्य गर्न मोतीराम कुन कुरोले प्रेरित भए? 2
- (viii) रामायण वाहेक मोतीराम भट्टले कुन कुन ग्रन्थ प्रकाशित गरे? 3
- 13 तलका पद्यांश पढेर सोधिएका प्रश्नको उत्तर दिनुहोस् :
- भजौंला भन्दैमा कति कति बित्यो जन्म जनको  
 मरौंला भन्नाको अझ पनि विचार छैन मनको  
 अहो! दैवी भाया बडिवलवती जानी मनले  
 विचार गर्दै गर्दै हरि भजिलिनु भक्त जनले ॥
- (i) 'भजौंला भन्दैमा कति कति बित्यो जन्म जनको' भन्नाले कसको? 1  
 (A) कविको (B) सबैको  
 (C) भक्तहरूको (D) कसैको पनि होइन
- (ii) भरौंला भन्ने विचार कतिखेरसम्म आँउदैन? 1  
 (A) बाँचिञ्जेल (B) जीवनको कुनै क्षणमापनि  
 (C) अन्तिम क्षणसम्म पनि (D) सुख पाइञ्जेल
- (iii) 'अहो! दैवीभाया बडिवलवती' – को अर्थ के हो? 2
- (iv) के विचार गरेर भक्तले हरि भज्नु? 1
- 14 'मातृ भाषामा लेख्दा हेप्ने, हेपिनेछु भन्ने धारणा राख्ने दुवै दोषी हुन्' यो भनाइ 1  
 कसको हो?
- 15 'म पोखरी झैं उही ठाँउ जम्दिन' – यस पंक्तिको अर्थ स्पष्ट पार्नुहोस्। 1
- 16 'शहीदहरूको सम्झना' – को भाव सरल भाषामा लेख्नुहोस्। 5

- 17 'पूर्वको सन्देश जैतुनको हाँगामा उनेर 1  
 प्रत्येक हिटलरको गिदीमित्र घुसाइदेऊ – भन्नाले के बुझिन्छ?
- 18 'सिपाही' – को चरित्र चित्रण गर्नुहोस्। 5
- 19 'त्रिकोण' एकाङ्कीमा एकाङ्कीकारले के भन्न चाहेका छन्? 1
- 20 लिखित भाषा भनेको के हो? 1
- 21 (क) तलका कुनै दुई शब्दको सन्धि विच्छेद गर्नुहोस् : 2  
 देवेन्द्र, विद्यालय, जन्मोत्सव।
- (ख) तलका कुनै दुई शब्दको समास लेख्नुहोस् : 2  
 नीलकमल, वेकाम, चौमास।
- (ग) तलका कुनै दुई शब्दको विपरीतार्थक शब्द लेख्नुहोस् : 2  
 उपकार, कृतज्ञ, नैतिक।
- 22 तलका कुनै दुई वाग्धारालाई वाक्यमा अर्थ खुल्ने गरी प्रयोग गर्नुहोस् : 2  
 कुरा खानु, आगो हुनु, दोमन हुनु।
- 23 तलका कुनै दुई जोडी शब्दलाई भिन्न अर्थ प्रयोग गरी वाक्य निर्माण गर्नुहोस्: 4  
 उपभोग–उपयोग, आँट–आँत, उपनाम–उपमान।
- 24 तपाईंको क्षेत्रमा तरुणसंघद्वारा आयोजित रक्तदान शिविरको विवरण प्रस्तुत गर्नुहोस्। 5





- 25 पर्यावरण स्वच्छताप्रति जागरूकतावारे आफ्नो मन्तव्य पोखेर एक अनुच्छेद लेख्नुहोस्। 5
- 26 एउटा छात्रवासमा विभिन्न संकायका (Faculty) 500 छात्रहरू छन्। तिनमा 250 कला संकायका, 150 वाणिज्य संकायका, 100 विज्ञान संकायका छात्रहरू छन् भने यस संकाय विभाजनलाई पाई चार्टमा बुझाउनुहोस्। 5
- 27 क्रिया केलाई भनिन्छ? यस भेदको उदाहरण सहित देखाउनुहोस्। 5
- 28 निम्नलिखित कुनै एक लोकोक्तिको भाव विस्तार गुर्नहोस् : 5
- (क) गर्जने मेघ वर्षदैन।
- (ख) घाँटी हेरी हाड निल्लु।
- 29 आफ्नो भविष्यको सुखद सपनालाई साकार रूप दिने परिकल्पनासित अवगत गराउदै साथीलाई पत्र लेख्नुहोस् । 7

अथवा

विद्यार्थीहरूको अनुशासनमा आएको शिथिलता व्यक्त गैर्द प्रधान अध्यापकलाई एउटा पत्र लेख्नुहोस्।

- 30 झर्रा शब्द भनेको के हो? सोदाहरण परिभाषा लेख्नुहोस्। 2
- 31 तलका कुनै एक विषयमा 200 शब्दभित्र निबन्ध लेख्नुहोस् : 10
- (क) दार्जीलिङको दर्शनीय स्थल।
- (ख) आधुनिक शिक्षा पद्धति।
- (ग) नारी सशक्तिकरण।
- (घ) आधुनिक जीवन शैली।



This question paper consists of 30 questions and 7 printed pages.

Roll No. 

--	--	--	--	--	--	--	--	--	--	--	--

Code No. 53/S/O/MM  
കോഡ് നമ്പർ

Set - **A**

## MALAYALAM

മലയാളം  
(232)

### Day and Date of Examination

(പരീക്ഷാ ദിവസവും തീയതിയും) \_\_\_\_\_

### Signature of Invigilators

1. \_\_\_\_\_

(ഇൻവിജിലേറ്ററിന്റെ ഒപ്പ്)

2. \_\_\_\_\_

### പൊതുവായ നിർദ്ദേശങ്ങൾ :

- 1 പരീക്ഷാർത്ഥികൾ അവരുടെ റോൾ നമ്പർ ചോദ്യപേപ്പറിന്റെ ആദ്യ പേജിൽ എഴുതേണ്ടതാണ്.
- 2 ആദ്യപേജിൽ പ്രിൻറുചെയ്തിരിക്കുന്ന വിവരങ്ങൾക്കനുസൃതമായി പേജുകളും ചോദ്യങ്ങളും ചോദ്യപേപ്പറിൽ അടങ്ങിയിട്ടുണ്ടോ എന്ന് പരിശോധിച്ച് ഉറപ്പുവരുത്തേണ്ടതാണ്. കൂടാതെ ചോദ്യങ്ങൾ ക്രമമായി പ്രിൻറുചെയ്തിട്ടുണ്ടോ എന്നും ഉറപ്പുവരുത്തേണ്ടതാണ്.
- 3 ഒറ്റവാക്കിൽ ഉത്തരമെഴുതേണ്ട ചോദ്യങ്ങൾക്ക് (A), (B), (C), (D) എന്ന ക്രമത്തിൽ കൊടുത്തിട്ടുള്ള ഉത്തരങ്ങളിൽ നിന്നും ശരിയായ ഉത്തരം തിരഞ്ഞെടുത്ത് ഉത്തര പുസ്തകത്തിൽ എഴുതേണ്ടതാണ്.
- 4 ഒറ്റവാക്കിൽ ഉത്തരമെഴുതേണ്ടത് ഉൾപ്പെടെ എല്ലാ ചോദ്യങ്ങളുടേയും ഉത്തരം അനുവദിച്ചിരിക്കുന്ന സമയത്തിനുള്ളിൽ തന്നെ എഴുതേണ്ടതാണ്.
- 5 ഉത്തരപുസ്തകത്തിൽ ഏതെങ്കിലും അടയാളങ്ങൾ ഇടുകയോ, നിശ്ചയിച്ചിരിക്കുന്ന സ്ഥാനത്തൊഴികെ ഉത്തരപുസ്തകത്തിന്റെ ഏതെങ്കിലും ഭാഗത്ത് റോൾ നമ്പർ എഴുതുകയോ ചെയ്യുന്നത് പരീക്ഷാർത്ഥികളുടെ അയോഗ്യതയായി പരിഗണിക്കുന്നതാണ്.
- 6 ഉത്തരപുസ്തകത്തിന്റെ പുറത്ത് ചോദ്യപേപ്പറിന്റെ കോഡ് നമ്പർ 53/S/O/MM-A എഴുതേണ്ടതാണ്.



# MALAYALAM

മലയാളം

(232)

സമയം : 3 മണിക്കൂർ

മാർക്ക് : 100

- കുറിപ്പ് : (1) എല്ലാ ചോദ്യങ്ങൾക്കും ഉത്തരമെഴുതണം.
- (2) ഒന്നു മുതൽ പതിനൊന്നുവരെ ചോദ്യങ്ങൾക്ക് A, B, C, D എന്ന ക്രമത്തിൽ കൊടുത്തിട്ടുള്ള ഉത്തരങ്ങളിൽ നിന്ന് ശരിയായത് തിരഞ്ഞെടുത്ത് എഴുതിയാൽ മതിയാകും.

- 1 അല്ലെപ്പൊന്നു കുചേല കുടുംബിനിയായി വള്ളത്തോൾ വിശേഷിപ്പിച്ചിരിക്കുന്നത് ആരെ? 11×1=11
- (A) സ്വന്തം അമ്മയെ (B) മാതൃഭാഷയെ  
(C) അന്യഭാഷകളെ (D) കുചേല പത്നിയെ
- 2 വി. ടി. ഭട്ടതിരിപ്പാട് അച്ഛനുമായി 'പുലിയങ്കം' നടത്തേണ്ടി വന്നത് എന്തിന്റെ പേരിലായിരുന്നു?
- (A) ഏതും മുട്ടലിന്റെ എണ്ണം കണ്ടെത്തിയതിന്റെ  
(B) അമ്മയുടെ അമിത ലാളനയുടെ  
(C) കടമ്പിൻ പൂക്കൾ പറിച്ച് ആദിത്യനെ ആരാധിക്കുന്നതിന്റെ  
(D) പൂച്ചകുട്ടിയുമായുള്ള ചങ്ങാത്തത്തിന്റെ
- 3 ഓണത്തിന് സമ്മാനം പ്രതീക്ഷിച്ചിരുന്നത് ആരിൽ നിന്നാണ്?
- (A) അമ്മാവനിൽ നിന്ന്  
(B) അച്ഛനിൽ നിന്ന്  
(C) മാവേലിയിൽ നിന്ന്  
(D) നങ്ങേലിപെണ്ണിന്റെ അങ്ങേരിൽ നിന്ന്



4 കച്ചട്ടി സ്വാമിയുടെ കാര്യത്തിൽ മജിസ്ട്രേറ്റിന് വിഷമം തോന്നിപ്പതു് എന്തുകൊണ്ട്?

- (A) നാട്ടുകാരുടെ അധപതനം കണ്ട്
- (B) നീതി നടപ്പിലാവുന്നില്ല എന്ന കണ്ട്
- (C) നഷ്ടം പറ്റിയ ഒരാളെ എല്ലാവരും പരിഹസിക്കുന്നതു കണ്ട്
- (D) പരബ്രഹ്മയുടെ പരാതി കേട്ട്

5 നന്ദസുതൻ നിന്ദിച്ചുവോ എന്ന് ഗോപികമാർ ചോദിക്കുന്നതു് ആരോട്?

- (A) കോകിലത്തോട്
- (B) അത്തിയോട്
- (C) കുന്ദിതു നിൽക്കുന്ന കുന്ദത്തോട്
- (D) ഏണങ്ങളോട്

6 മൈഥിലി മയിൽപ്പേടപോലെ സന്തോഷിച്ചതു് എപ്പോൾ?

- (A) ഇടിപെട്ടുന്ന ഒച്ച കേട്ടപ്പോൾ
- (B) ശ്രീരാമചന്ദ്രനെ കണ്ടപ്പോൾ
- (C) മയിലുകളെ കണ്ടപ്പോൾ
- (D) വില്ലു മുറിഞ്ഞ ഒച്ച കേട്ടപ്പോൾ

7 നമ്മൾ നന്നാകുവാനെന്തു നല്ലു

നല്ലോരു ചുല് മനസ്സിൽ നല്ലു - ആശയം എന്തു്?

- (A) നമ്മൾ ശുചിത്വം പാലിക്കണം
- (B) മനസ്സ് മാലിന്യമുക്തമാവാൻ ശ്രദ്ധിക്കണം
- (C) നമ്മൾ നന്നാവുകയില്ല
- (D) മനസ്സ് ചുലുപോലെയാണു്



- 8 കുടുംബജീവിതത്തെ കെടുത്തുന്ന ഘടകം ഏത്?
- (A) കോപം (B) പരാതി  
(C) രോഗം (D) ധർമ്മത്
- 9 ബാലിയിലെ മഴയും ബാലിപ്പെണ്ണിന്റെ മനസ്സും ഒരു പോലേയാണെന്നു പറയുന്നതിന്റെ പൊരുൾ എന്ത്?
- (A) പ്രതീക്ഷിച്ചിരിക്കാതെ പെയ്യുന്ന മഴ, പെട്ടെന്ന് ഉത്സാഹഭരിതമാകുന്ന മനസ്സ്  
(B) രണ്ടും എപ്പോഴും ഇരുൾ മുടിയതായിരിക്കും  
(C) ബാലിയിൽ മഴ പെയ്യാറില്ല  
(D) ബാലിയിൽ എപ്പോഴും മഴയായിരിക്കും.
- 10 വാസവദത്തയെ കവി ആരോടാണ് ഉപമിച്ചിരിക്കുന്നത്?
- (A) മഞ്ജുളാംഗിയോട്  
(B) കാമദേവന്റെ രാജ്ഞിയോട്  
(C) മതിമോഹിനിയോട്  
(D) കഞ്ജബാണനോട്
- 11 താഴെ കൊടുത്തിട്ടുള്ളവയിൽ കൂട്ടാത്തിൽ പെടാത്താത്ത് ഏത്?
- (A) കഥ + ആണ് - കഥയാണ്  
(B) എങ്ങനെ + ആണ് - എങ്ങനെയാണ്  
(C) അത് + ഇൽ - അതിൽ  
(D) വളരെ + ഏറെ - വളരെയേറെ
- 12 അർത്ഥമെഴുതി സ്വന്തം വാക്യത്തിൽ പ്രയോഗിക്കുക. 2+2=4
- (i) കേളീരംഗം  
(ii) ശനിദശ



- 13 രാവണന്റെ മൂഢത്വം നമ്പ്യാർ വെളിപ്പെടുത്തുന്നത് എങ്ങനെ? 2
- 14 ഏകമതം എന്ന സങ്കല്പം രൂപപ്പെടുന്നത് എങ്ങനെ? 2
- 15 കുത്തു എന്നാൽ എന്ത്? വിവിധതരം കുത്തുകൾ ഏവ? 2
- 16 നെയ്പ്പായസത്തിലെ നായകൻ കണ്ണീർ കുട്ടികളിൽ നിന്നു മറച്ചുവയ്ക്കാൻ ശ്രമിക്കുന്നത് എന്തുകൊണ്ട്? 3
- 17 ഇന്ത്യയുടെ ഏകത്വം തിരിച്ചറിയാൻ കഴിയുന്നത് എപ്പോൾ? 3
- 18 കാവ്യരചനയെക്കുറിച്ചുള്ള സങ്കല്പം മനസിനി എന്ന കവിതയിൽ ചങ്ങമ്പുഴ അവതരിപ്പിച്ചിരിക്കുന്നത് എങ്ങനെ? 3
- 19 ബാലിയിലെ ഉത്സവത്തിന്റെ എന്തെല്ലാം സവിശേഷതകളാണ് എസ്.കെ. പൊറ്റക്കാട്ട് അവതരിപ്പിച്ചിരിക്കുന്നത്? 3
- 20 ചാർട്ടുകളുടെ പ്രത്യേകത വിവരിക്കുക. 3
- 21 ഗോപികമാരുടെ വിരഹദുഃഖം ചെറുശ്ശേരി വർണിച്ചിരിക്കുന്നത് എങ്ങനെ? 4
- 22 'കുടുംബജീവിതം' എന്ന ലേഖനത്തിൽ മാതാവിന്റെ മഹത്വം കെ.പി. കേശവമേനോൻ വിവരിച്ചിരിക്കുന്നത് എങ്ങനെ? 4



- 23 'പെങ്ങളെ'കുളിച്ചുള്ള ചിന്ത കവിയെ എങ്ങനെയെല്ലാമാണ് അസ്വസ്ഥനാകുന്നത്? 4
- 24 ആശയം വികസിപ്പിച്ച് ഒരു ഖണ്ഡിക എഴുതുക. 5  
'പരോപകാര പ്രവണം പ്രപഞ്ചം'
- 25 നിങ്ങളുടെ പ്രദേശത്തെ ഒരു ഉത്സവത്തെക്കുറിച്ച് വിവരിച്ചു കൊണ്ട് 5  
സൂഹൃത്തിന് കത്തു തയ്യാറാക്കുക.
- 26 'വളർത്തുമൃഗങ്ങളിലെ' ജാനമ്മയെക്കുറിച്ച് കാഥാപാത്രനിരൂപണം എഴുതുക. 5
- 27 'മരത്തിനു സ്തുതി' എന്ന കവിതയുടെ സമകാലിക പ്രസക്തി വിവരിക്കുക. 5
- 28 താഴെ കൊടുത്തിരിക്കുന്ന പദ്യത്തിന് പരാവർത്തനം തയ്യാറാക്കുക 10  
കവിതെ, പച്ചച്ചിറകുള്ള നീ മഴവില്ലിൻ  
കഴുത്തുമായിട്ടോറ്റയ്കിവിടെപ്പറന്നെത്തി  
കാഞ്ഞിരകോമ്പത്തത്രേ വന്നിരുന്നതു കിളി  
കാരുണ്യാമൃതഗംഗ ചോരുന്ന കണ്ഠത്തോടെ  
അക്കഴുത്തിലെ നാനാവർണ്ണവും നറുനീരി-  
ന്നുൾക്കുളിരോലിയും ചേർന്നിന്നുമീ മലയാളം  
മധുരിക്കുന്നു; പച്ചക്കിളി, നിൻ കോക്കാഴ്ത്തുന്ന  
മലരും കനിയുമുൾത്തെന്നുമീ മലയാളം



29 ഗദ്യഭാഗം മൂന്നിലോന്നായി സംഗ്രഹിക്കുക.

10

ആരോഗ്യത്തെപ്പറ്റി പല നിർവചനങ്ങളും നാം കേട്ടിട്ടുണ്ട്. രോഗമില്ലാത്ത അവസ്ഥയാണ് ആരോഗ്യം എന്നതാണ് ഏറ്റവുമധികം പ്രചാരത്തിലുള്ള അഭിപ്രായം. എന്നാൽ ഈ നിർവചനം ഒരു ഗൂഢാലോചനയുടെ സന്തതിയാണ്. ഔഷധനിർമ്മാണക്കമ്പനികളും ആശുപത്രികളുടേതും ചേർന്ന് തങ്ങളുടെ ബിസിനസ് ലാഭകരമാക്കാനാണ് ഇങ്ങനെ ഒരു നിർവചനം ലോകമെമ്പാടും തന്ത്രപൂർവ്വം പ്രചരപ്പിച്ചത്. വാസ്തവത്തിൽ മനുഷ്യൻ ശാരീരികമായും മാനസികമായും സാമൂഹികമായും സുഖമായിരിക്കുന്ന അവസ്ഥയാണ് ആരോഗ്യം. ഈ സുസ്ഥിതി കൈവരിക്കുന്നതിൽ ഔഷധങ്ങൾക്കും അശുപത്രികൾക്കുമുള്ള പങ്ക് എത്രയെ തുച്ഛമാണെന്ന് നാം തിരിച്ചറിയേണ്ടതുണ്ട്.

30 ഏതെങ്കിലും ഒരു വിഷയത്തെക്കുറിച്ച് ഉപന്യസിക്കുക.

12

- (i) ശുചിത്വഭാരതം
- (ii) എല്ലാവർക്കും വിദ്യാഭ്യാസം
- (iii) സാമൂഹിക മാധ്യമങ്ങളും യുവജനങ്ങളും.







**ODIA**  
**(ଓଡ଼ିଆ)**  
**(233)**

ସମୟ : 3 ଘଣ୍ଟା ]

[ ପୂର୍ଣ୍ଣ ସଂଖ୍ୟା : 100

ନୋଟ୍ : (i) ପ୍ରତି ପ୍ରଶ୍ନର ଉତ୍ତର ଦିଅ ।

(ii) ପ୍ରତ୍ୟେକ ପ୍ରଶ୍ନ ସମ୍ବନ୍ଧରେ ନିର୍ଧାରିତ ସଂଖ୍ୟା (ମାର୍କ୍) ସୂଚିତ ହୋଇଛି ।

1 ସନ୍ଧି ବିଚ୍ଛେଦ କର : (2 ଟିର)

3

ମଧୁକ୍ତି, ସଦିକ୍ଷା, ସନ୍ତାନ, ନିର୍ଦ୍ଦିନ ।

2 ପରୋକ୍ଷୋକ୍ତିରେ ପରିଣତ କର :

1

ପିଲାଟି କହିଲା “ଫୁଲଟି କେତେ ସୁନ୍ଦର” ।

3 ନିମ୍ନଲିଖିତ ବାକ୍ୟ ଗୁଡ଼ିକ ମଧ୍ୟରୁ କେଉଁଟି ସରଳ ବାକ୍ୟ, କେଉଁଟି ଜଟିଳ ବାକ୍ୟ ଓ କେଉଁଟି ଯୌଗିକ

3

ବାକ୍ୟ ଚିହ୍ନିତ ଦିଅ :

(କ) ମହାବାତ୍ୟାରେ ଓଡ଼ିଶାର ବହୁ ଧନଜୀବନ ନଷ୍ଟ ହେଲା ।

(ଖ) ଯେତେବେଳେ ସନ୍ଧ୍ୟା ହେଲା, ସେତେବେଳେ ପକ୍ଷୀମାନେ ନୀଡ଼କୁ ଫେରି ଆସିଲେ ।

(ଗ) ଛାତ୍ରମାନେ ପରିଶ୍ରମ କରନ୍ତି ଓ ପରୀକ୍ଷାରେ କୃତ କାର୍ଯ୍ୟ ଦୁଃଖ ।

- 4 ଏକ ପଦରେ ପ୍ରକାଶ କର : 1  
ଜୀବନଥିବା ପର୍ଯ୍ୟନ୍ତ, ଯାହା ପୂଜାର ଯୋଗ୍ୟ ।
- 5 ବିପରୀତାର୍ଥ ବୋଧକ ଶବ୍ଦ ଲେଖ : (4 ଟିର) 2  
ପ୍ରସନ୍ନ, ଉନ୍ନତ, ମଇଳା, ସୁସ୍ଥ, ଧର୍ମ ।
- 6 ରୁଦ୍ଧି ମାନଙ୍କର ଅର୍ଥ ଲେଖ : (3 ଟିର) 3  
(i) ଅଛି ଛୁରୀ ତଛି କାଟେ (ii) ଚାଲିଲା ଶଗଡ଼ରେ ହାତଦେବା  
(iii) ଏକା ମାଘକେ ଶୀତ ଯାଏନି (iv) ଓଟ ମୁହଁରେ ଢିରା ।
- 7 ନିମ୍ନଲିଖିତ ସମୋଚାରିତ ଶବ୍ଦର ଅର୍ଥ ଲେଖ : 2  
ଗୁଣି - ଗୁଣୀ, ଲକ୍ଷ - ଲକ୍ଷ୍ୟ ।
- 8 ନିମ୍ନ ପ୍ରତ୍ୟୟ ଗୁଡ଼ିକ ମଧ୍ୟରୁ ଯେ କୌଣସି 3 ଟି ପ୍ରତ୍ୟୟକୁ ନେଇ ଗୋଟିଏ ଗୋଟିଏ ଶବ୍ଦ ଗଠନ କର : 3  
ଆଳୁ, ର, ତନ, ଇନ୍, ତା ।
- 9 ଭାରତର ପ୍ରଥମ ଉପଗ୍ରହ ଏସ.ଏଲ.ଭି. 3 ର ପ୍ରକଳ୍ପରୁ କ'ଣ ଉତ୍ସେପଣ କରା ଯାଇଥିଲା ? 1  
(ଠିକ ଉତ୍ତର ବାଛି ଲେଖ ।)  
(i) ଅଗ୍ନି (ii) ରୋହିଣୀ  
(iii) ପରମାଣୁପରୀକ୍ଷା (iv) ଅଜ୍ଞାନ-ଅଜ୍ଞାନ ।

10 ଶୁଦ୍ଧ ରୂପ ଲେଖ : (2 ଟିର) 2

ଉତ୍ତଳ, ଦୁରାବକ୍ଷା, ଦିଶାମ୍ବର, ପ୍ରତ୍ୟହ ।

11 ବନ୍ଧନୀ ମଧ୍ୟରୁ ଉପଯୁକ୍ତ ଶବ୍ଦ ବାଛି ଶୂନ୍ୟସ୍ଥାନ ପୂରଣ କର : 1

ବିଲଙ୍କା ଦେଶର ରାଜା ..... କି ପାଦ ପୂଜା କଲେ ।

[ ଅଗସ୍ତି, ଯୁଧିଷ୍ଠିର, ଇନ୍ଦ୍ର ]

12 'କ' ଛନ୍ଦରୁ ଶବ୍ଦ ବାଛି 'ଖ' ଛନ୍ଦ ସହ ମିଳାଅ : (3 ଟିର) 3

'କ' ଛନ୍ଦ                      'ଖ' ଛନ୍ଦ

ପୋଥି                      ମାଳ

ଚିତା                      ରକତ

ତୋଟା                      ପତର

ଜଳ                      ନାହା

ପ୍ରାଣ                      କାଠି

13 'ଆକାଶ' ଶବ୍ଦର ଦୁଇଟି ଅର୍ଥ ଲେଖ । 1

14 'ସରସ' ପରି ଆଉ ଦୁଇଟି ଶବ୍ଦ ଲେଖ । 2

15 ନିମ୍ନଲିଖିତ ଶବ୍ଦ ଶୁଦ୍ଧିକର ଗଦ୍ୟ ରୂପ ଲେଖ : (2 ଟିର) 1

ସୁମରିଲେ, ଶବଦ, ଜନମ, ଉତପତ୍ତି ।

16 ନିମ୍ନଲିଖିତ ଶବ୍ଦ ମାନଙ୍କର ପ୍ରତ୍ନିତ ରୂପ ଲେଖ : (2 ଟିର) 1

ଦିବାନ, ଆଗ୍ୟାଂ, ଦିଲେ ।

17 ବନ୍ଧନୀ ମଧ୍ୟରୁ ଶବ୍ଦ ବାଛି ଶୂନ୍ୟ ସ୍ଥାନ ପୂରଣ କର : 1

ବୀଣାଦେବୀ ..... ଧୋଉଥିଲେ । (ଲୁଗାପଟା, ରୋଷେଇ ଘର, ନଳା)

18 ନିମ୍ନ ଶବ୍ଦଟି କେଉଁ ପ୍ରକାର ପଦ । ବନ୍ଧନୀ ମଧ୍ୟରୁ ଠିକ୍ ଉତ୍ତର ବାଛି ଲେଖ : 1

କଳୁଷିତ (ବିଶେଷ୍ୟ, ବେଶେଷଣ)

19 ସଂକ୍ଷେପରେ ଉତ୍ତର ଦିଅ : (6 ଟିର)

$$1\frac{1}{2} \times 6 = 9$$

(କ) ନିଷ୍ଠୁର ସଂସାରକୁ ବାଦୁଡ଼ିବାରେ ତାଙ୍କର ଇଚ୍ଛା ବା ଅନିଚ୍ଛା ପ୍ରକାଶିତ ହୋଇଛି  
ଓ କାହିଁକି ?

(ଖ) କେଉଁ ସ୍ଥାନକୁ ଉତ୍କଳ ଲକ୍ଷ୍ମୀଙ୍କର ବାସଗୃହ ରୂପେ ଗ୍ରହଣ କରାଯାଇଛି ?

(ଗ) ଶ୍ରୀକୃଷ୍ଣଙ୍କର ବାଲ୍ୟଲୀଳା ସଂପର୍କରେ କିଏ କାହା ଆଗରେ ବର୍ଣ୍ଣନା କରିଛନ୍ତି ?

(ଘ) ଗାଢ଼ ଅନ୍ଧକାରକୁ କବି କାହା ସହିତ ତୁଳନା କରିଛନ୍ତି ?

(ଙ) ଗାଆଁର ଲୋକ ଗାଆଁ ଛାଡ଼ି ଦୂର ବିଦେଶକୁ ଯିବାପାଇଁ କାହିଁକି ବାଧ୍ୟ ହୁଅନ୍ତି ?

(ଚ) ଇନ୍ଦ୍ର କୁକୁରକୁ ପୁଷ୍ପକ ବିମାନରେ ବସାଇ ଦେବେ ନାହିଁ ଶୁଣି ସୁଧୂଷିର କ'ଣ  
କହିଲେ ?

(ଛ) ମାନବ ଶରୀର ଯେଉଁ ପକ୍ଷ ମହାଭୂତ ଦ୍ଵାରା ଗଠିତ ଓ ପରିଚାଳିତ ତାହାର  
ନାମ କ'ଣ ?

20 ସଂକ୍ଷେପରେ ଯେ କୌଣସି 3 ଟି ପ୍ରଶ୍ନର ଉତ୍ତର ଦିଅ : 3×3=9

- (i) ହିନ୍ଦୁଧର୍ମର ଶାସ୍ତ୍ର ଗୁଡ଼ିକର ନାମ ଲେଖ ।
- (ii) ବିମ୍ବିସାରଙ୍କୁ କ୍ଷୀଣ ଆଲୋକ ରେଖା କିପରି ବୋଧ ହେଉଛି ?
- (iii) ନିଷାଦ ଧର୍ମ କ'ଣ ?
- (iv) ଆମେ ଭାରତୀୟ ପ୍ରବନ୍ଧରୁ ଆମ ସଫଳତାର 3 ଟି ଉଦାହରଣ ଲେଖ ।

21 ନିମ୍ନଲିଖିତ ପ୍ରଶ୍ନଗୁଡ଼ିକ ମଧ୍ୟରୁ ଯେ କୌଣସି 3 ଟି ପ୍ରଶ୍ନର ଉତ୍ତର ଦିଅ : 3×7=21

- (କ) ଗଙ୍ଗା ମାତାଙ୍କ ଦାନର ଦୁରୁପଯୋଗ ଚକ୍ରୁଳିଆ ପକ୍ଷୀ କାହିଁକି କଲା ଓ ଏହାର ପରିଣତି କ'ଣ ହେଲା ?
- (ଖ) ମଫସଲରେ ବାସ କଲେ କି କି ଅସୁବିଧା ହୁଏ ?
- (ଗ) ଆଚାର୍ଯ୍ୟଙ୍କ ଉପକ୍ଷିତିରେ ଲେଖକଙ୍କର ସହଯାତ୍ରୀମାନଙ୍କ ମନର ପ୍ରତିକ୍ରିୟାକୁ ଉଲ୍ଲେଖ କର ।
- (ଘ) ସ୍ଵତନ୍ତ୍ର ଉତ୍କଳ ପ୍ରଦେଶ ଗଠନ କରିବାରେ କୃତକାର୍ଯ୍ୟ ହେବା ପାଇଁ ଲେଖକା ଉତ୍କଳବାସୀଙ୍କୁ କି ପରାମର୍ଶ ଦେଇଛନ୍ତି ?
- (ଙ) ଏକ ସାର୍ଥକ ଏକାଙ୍କିକା ଭାବେ 'ଦୂର ପାହାଡ଼'ର ସଫଳତା ନିର୍ଣ୍ଣୟ କର ।

22 ଯେ କୌଣସି 2 ଟି ପ୍ରଶ୍ନର ଉତ୍ତର ଦିଅ : 6+6=12

- (କ) କଅଣ କହି ଶୂନ ପ୍ରତିଭାକୁ ଉତ୍ସର୍ଗ କରିଥିଲେ ଓ କାହିଁକି ?
- (ଖ) ଯଶୋଦା କୃଷ୍ଣଙ୍କ ପାଟିରେ କ'ଣ ସବୁ ଦେଖିଲେ ?
- (ଗ) କବିବର ରାଧାନାଥରାୟ ସୌନ୍ଦର୍ଯ୍ୟ ପିପାସୁ ଓ ପ୍ରକୃତ ପ୍ରେମୀ ଥିଲେ ଆଲୋଚନା କର ।

23 200 ଟି ଶବ୍ଦ ମଧ୍ୟରେ ଯେ କୌଣସି ଗୋଟିଏ ବିଷୟରେ ରଚନା ଲେଖ : 10

- (i) ଦେଶ ପର୍ଯ୍ୟଟନ
- (ii) ଅଂଶୁଘାତ ଓ ତା'ର ପ୍ରତିକାର
- (iii) ବିଜ୍ଞାନର ଉପକାରिता ଓ ଅପକାରिता ।

24 ତୁମେ ପିତା ମାତାଙ୍କ ସହିତ ଦୂର ସଂପର୍କୀୟ ଏକ ପାରିବାରିକ ଉତ୍ସବରେ ଯୋଗ ଦେବାକୁ ଇଚ୍ଛୁକ । 5  
ଏଥିନିମିତ୍ତ ବିଦ୍ୟାଳୟରୁ 5 ଦିନ ଅନୁପସ୍ଥିତ ରହିବାର ଅନୁମତି ଭିକ୍ଷାକରି ପ୍ରଧାନ ଶିକ୍ଷକଙ୍କୁ ଦରଖାସ୍ତ  
ଲେଖ ।

କିମ୍ବା

ପାଠପଢ଼ା ସହିତ ଘରକାମରେ ମାଆଙ୍କୁ ସାହାଯ୍ୟ କରିବାକୁ ଉପଦେଶ ଦେଇ ସାନ ଭଉଣୀଙ୍କ ନିକଟକୁ  
ପତ୍ର ଲେଖ ।

25 ଓଡ଼ିଆରେ ଅନୁବାଦ କର - 2

(i) Morning walk is good for health.

(ii) Always speak the truth.

$5 \times 2 = 10$

24. درج ذیل الفاظ میں سے صرف پانچ کو جملوں میں استعمال کریں :

(كون الجمل من خمس كلمات فقط من الكلمات التالية)

(A) الخطوط المتقطعة

(B) ضغط الدم

(C) إشارة المرور

(D) محطة القطار

(E) كرة القدم

(F) العاج

$5 \times 2 = 10$

25. درج ذیل عنوانات میں سے کسی ایک پر کم از کم پانچ جملے عربی میں لکھیں۔

(اكتب على الأقل خمس جمل حول أحد العناوين التالية في العربية)

(A) الفيل

(B) الكتاب

(C) الطائر

(D) السوق





(F) ایڈز ہماری دنیا کے مختلف خطوں میں پھیلی ہوئی ہے۔

(AIDS is spread in various parts of the world)

(G) شاہجہاں کو تاج محل کے اندر ہی دفن کیا گیا۔

(Shahjahan was buried inside the Taj Mahal)

2x5=10

23. درج ذیل جملوں میں سے صرف پانچ کا اردو/انگریزی میں ترجمہ کریں :

(ترجمہ خمس جمل فقط الی الاردیة او الانجلیزیة)

(A) ان التاج یضرب به المثل فی الحب والوفاء۔

(B) أريد أن افتح حسابی لديکم فی هذا البنک

(C) نزل حمار الملح ماء البركة۔

(D) تقع کھجوراهو فی ولایة مدھیا برادیش۔

(E) بنخت أفراخ من مکر الثعلب

(F) تنبت اشجار جوز الهند فی جنوب الهند

(G) التدخين لا يضر المدخنين فقط



(D) جاء الثعلب الى الحمامة كعادتها۔

(E) التدخين يجعل الهواء غير صالحة۔

(F) اشتریت هذا الكتاب بخمسة عشر روبية

(G) جو کشمیر باردة

2x5=10

22. مندرجہ ذیل میں سے صرف پانچ جملوں کا عربی میں ترجمہ کریں۔

(ترجمہ الی العربیة خمس جمل فقط ممایلی)

(A) اے راشد کمرے کا دروازہ کھولو۔

(O Rashid, Open the door of the room)

(B) اے لوگو وقت ضائع مت کرو۔

(O people don't waste time)

(C) کھانے اور پینے کے لئے ہاتھی سوئڈ کا استعمال کرتا ہے؟

(Elephant uses his trunk for eating and drinking)

(D) رضیہ سلطانہ کافی ذہین اور پڑھی لکھی تھیں۔

(Razia Sultana was very intelligent and educated)

(E) میں نے دلی میں کافی تاریخی عمارتیں دیکھیں۔

(We visited a number of historical monuments)



20. مندرجہ ذیل عبارت کا اردو یا انگریزی میں ترجمہ کریں اور متعلقہ سوالات کے عربی میں جوابات لکھیں۔  $3+3=6$

(ترجم النص التالي الى الأردية أو الانجليزية وأجب عن الاسئلة التالية)

يحكى أن الحمامة كانت تبنى عشاً في نافذة منزل قديم وكلما تبيض هذه الحمامة وتكون لها أفراخ يأتى ثعلب ويطلب من الحمامة أن ترمى له أفراخها والاصعد إليها واكلها وأكل أفراخها. وان الحمامة كانت خائفة من الثعلب ولذلك كانت تلقى أفراخها اليه فياًكلها وينصرف. ويكر ذلك كل مرة تبيض فيها الحمامة. وفي أحد الايام ان الحمامة كانت تنتظر قدوم الثعلب وهي كانت حزينة كانها مريضة ضمير عليها كركى فأخبرته خبر الثعلب.

عربي میں جوابات لکھئے :

(اكتب الاجوبة بالعربية)

(A) اين كانت الحمامة تبنى عشها؟

(B) لماذا كان الثعلب يأتى الى الحمامة؟

(C) لماذا كانت الحمامة ترمي افراخها للثعلب؟

$2 \times 5 = 10$

21. درج ذیل میں سے صرف پانچ کو درست کریں۔

(صحیح خمس جمل فقط)

(A) من علمك هذا الفكرة؟

(B) ينامون هولاء الطلاب مبكراً.

(C) ان الطلاب المجتهدون ناجعين.

18. مندرجہ ذیل الفاظ کے جمع لکھیں۔

(اكتب جمع الكلمات التالية)

(A) مريض (B) شاطی

(C) زمیل (D) مهندس

19. مندرجہ ذیل سوالات میں سے صرف چار کے جوابات لکھیں۔

(أجب عن أربعة أسئلة من الاسئلة التالية)

(A) حروف الجر لکھیں جن کا ذکر کتاب میں آیا ہے۔

(اكتب جميع احرف الجر المذكورة في الكتاب)

(B) درج ذیل کے تمام صیغے لکھیں۔

(اكتب جميع صيغ الفعلين التاليين)

يوجد - يستعمل

(C) انّ و اخواتها لکھیں۔

(اكتب ان و اخوانها التي قرآنها في الكتاب)

(D) فعل کے کتنے اقسام ہیں لکھیں۔

(اكتب جميع اقسام الفعل)

(E) حروف شمسی لکھیں۔

(اكتب جميع الحروف الشمسية)



2 15. درج ذیل میں موصوف اور صفت بتائیں۔

(میز النفط والمنفوت في الجملة التالية)

كتاب فاطمة الجديد على الطاولة

4 16. مندرجہ ذیل جملے اگر صحیح ہیں تو (✓) کا نشان لگائیں اور اگر غلط ہیں تو (x) کا نشان لگائیں۔

(ضع علامة (✓) اذا كانت الجملة صحيحة و علامة (x) اذا كانت غير صحيحة)

(A) ماذا طلب السلحفاة من البطتين؟

(B) شربا الولدان الشاي في المعطم۔

(C) ذهب خالد الى المدرسة مع المدرسون۔

(D) كم مسافة بينه والمدينة۔

4 17. مندرجہ ذیل الفاظ کو ان کے معانی کے ساتھ ملا کر لکھیں۔

(اكتب الكلمات التالية مع معانيها الموجودة في العمود الثاني۔)

(A) عاصمة ندی (River)

(B) نہر دست (Loose motion)

(C) سرطان دارالسلطنت (Capital)

(D) اسہال کینسر (Cancer)

1

11. کرنسی کی عربی لکھئے۔

(ماہی الكلمة العربية لـ Currency)

(A) عملة (B) فاتورة

(C) رصید (D) روبية

1

12. خرگوش کی عربی کیا ہے؟

(ماہی الكلمة العربية لـ Rabbit؟)

(A) جاموس (B) آرنب

(C) فرس (D) فیل

1

13. درج ذیل میں کون سا اسم ”معرفة“ ہے؟

(ای من الاسماء التالية اسم معرفة؟)

(A) قلم (B) سیارة

(C) محمود (D) أسد

1

14. چونچ کی عربی بتائیے۔

(ماہی الكلمة العربية لـ Beak)

(A) فم (B) منقار

(C) خرطوم (D) كف

1

7. نیچر کی عربی کیا ہے؟

(ماہی الکلمة لـ Manager ؟)

(A) عامل (B) مهندس

(C) مدیر (D) موظف

1

8. ”برہئی“ کی عربی لکھئے۔

(ماہی الکلمة لـ Carpenter ؟)

(A) بقال (B) سائح

(C) سحاب (D) بخار

1

9. انگور کی عربی بتائیے۔

(ماہی الکلمة العربية لـ Grapes ؟)

(A) برتقال (B) مانجو

(C) عنب (D) موز

1

10. ”ہویة“ کیا ہے؟

(ماہی الکلمة ”ہویة“ فی العربية)

(A) فعل (B) حرف

(C) اسم (D) حرف الاستفهام

3. ”متى“ کیا ہے؟ 1

(”متى“ من ای نوع من الحروف؟)

- (A) حرف النداء (B) حرف الربط  
(C) حرف الجر (D) حرف الاستفهام

4. جملہ فعلیہ درج ذیل میں سے کون سا ہے؟ 1

(ایہ جملہ ہی جملہ فعلیہ؟)

- (A) الباب كان مفتوحا (B) فى الدار رجل  
(C) طلعت الشمس (D) كيف ذهبت الى السوق

5. ”مفعول فيہ“ کس چیز کی طرف اشارہ کرتا ہے؟ 1

(مفعول فيہ بشير الى.....)

- (A) مكان العمل (B) وقت العمل  
(C) طريقة العمل (D) كيفية العمل

6. ترکیب وصفی کون سی ہے؟ 1

(أي تركيب هو التركيب الوصفي)

- (A) عمارة المدرسة (B) الطاولة الصغيرة  
(C) داخل البيت (D) يوم السبت



ARABIC

(عربی)

(235)

مجموع الدرجات : 100

الوقت : 3 ساعات

التعليمات :

1. الاجابة على جميع الاسئلة ضرورية۔
2. يرجى قراءة جميع الاسئلة بعناية ثم الاجابة۔
3. أمام كل سؤال درجات محددة لذلك السؤال۔
4. لكل من الاسئلة (من الواحد الى 14) اربعة اجوبة متبادلة (A)، (B)، (C) و (D) عليك ان تختار الخيار الصحيح و كتابة۔

هدایت : تمام سوالات کے جوابات لازمی ہیں۔

1

1. درج ذیل میں سے فعل ناقص کون ہے؟

(ما هو من الافعال الناقصة ؟)

(B) أصبح

(A) انَّ

(D) في

(C) لكنَّ

1

2. درج ذیل میں حرف عطف بتائیں؟

(بین حرف العطف فی التالی)

(B) ب

(A) ك

(D) مثل

(C) ف

सामान्य अनुदेश :

- 1 परीक्षार्थी प्रश्नपत्र के पहले पृष्ठ पर अपना अनुक्रमांक अवश्य लिखें ।
- 2 कृपया प्रश्नपत्र को जाँच लें कि पुस्तिका के कुल पृष्ठों तथा प्रश्नों की उतनी ही संख्या है जितनी प्रथम पृष्ठ के सबसे ऊपर छपी है । इस बात की जाँच भी कर लें कि प्रश्न क्रमिक रूप में हैं ।
- 3 वस्तुनिष्ठ प्रश्नों में आपको चार विकल्पों (A), (B), (C) या (D) में से कोई एक उत्तर चुनना है तथा दी गई उत्तर-पुस्तिका में आप सही उत्तर लिखिए ।
- 4 वस्तुनिष्ठ प्रश्नों के साथ-साथ सभी प्रश्नों के उत्तर निर्धारित अवधि के भीतर ही देने हैं । वस्तुनिष्ठ प्रश्नों के लिए अलग से समय नहीं दिया जाएगा ।
- 5 उत्तर-पुस्तिका में पहचान-चिह्न बनाने अथवा निर्दिष्ट स्थानों के अतिरिक्त कहीं भी अनुक्रमांक लिखने पर परीक्षार्थी को अयोग्य ठहराया जायेगा ।
- 6 अपनी उत्तर-पुस्तिका पर प्रश्न-पुस्तिका की कोड संख्या **53/AS/3/AR-A** लिखें ।

يحتوى هذا الكتيب على 25 اسئلة و 12 صفحات-

Code No. 53/AS/3

رقم الجلوس فى الامتحان

--	--	--	--	--	--	--	--	--	--	--	--

رقم الشفرة

Set-A

ARABIC

(عربى)

(235)

يوم الامتحان و تاريخه .....

امضاء المشرف على الامتحان .....

.....

تعليمات عامة :

1. يجب ان يكتب المرشح رقم جلوسه فى الامتحان على الصفحة الاولى لورقة الاسئلة-
2. يرجى التحقق من ان الكتيب يحتوى على نفس العدد من الاسئلة والصفحات التى هى مذكورة على اعلى الصفحة الاولى وايضاً انها مرتبة وفق تسلسلها المذكور-
3. عليك ان تختار اجابة واحدة من بين الاجوبة رقم (A)، (B)، (C) و (D) للاسئلة الموضوعية- وكتابة تلك الاجابة فى كراسة الاجابة-
4. عليك ان تجيب على جميع الاسئلة بمافيه الاسئلة المعروضية فى الوقت المحددله- لن يعطى وقتنا اضافيا للاسئلة المعروضية-
5. لا يجوز للمرشح ان يعطى اية علامة مخصصة له فى اى مكان فى كراسة الاجابة غير المكان الذى محدد لكتابة رقم جلوسه فى الامتحان- اية مخالفة لهذا سيجعل المرشح غير مؤهل للامتحان-
6. يرجى كتابة رقم الشفرة 53/AS/3-AR-A لكتيب الاسئلة على كراسة الاجابة-



(17) امروز ما عکس و پیامی را از چہ طریق می فرستیم؟

(آج ہم ایک جگہ سے دوسری جگہ تصویر اور پیغام کس طریقہ سے بھیجتے ہیں؟)

(A) سافٹ ویئر (B) ہارڈ ویئر

(C) ای میل (D) ٹیلیفون

(18) حافظ در کدام شہر ایران متولد شد؟

(حافظ ایران کے کس شہر میں پیدا ہوئے؟)

(A) تہران (B) طوس

(C) اصفہان (D) شیراز

(19) متبادل ”ماس میڈیا“ در فارسی چیست؟

(”ماس میڈیا“ کا فارسی متبادل کیا ہے؟)

(A) رسانہ های گروهی (B) اینٹرنیٹ

(C) ہموارہ (D) چاپخانہ

(20) جنرل اسمبلی را در فارسی چه می گویند؟

(جنرل اسمبلی کو فارسی میں کیا کہتے ہیں؟)

(A) مجمع خصوصی (B) مجمع عمومی

(C) شورای امنیت (D) سازمان ملل متحد



(13) عبید زاکانی از کدام شهر بود؟

(عبید زاکانی کس شهر کا رہنے والا تھا؟)

(A) تہران (B) شیراز

(C) قزوین (D) طوس

(14) چاند بی بی کی وفات یافت؟

(چاند بی بی کی وفات کب ہوئی؟)

(A) 1600 عیسوی (B) 1700 عیسوی

(C) 1500 عیسوی (D) 1400 عیسوی

(15) ”پالک“ را در فارسی چه می گویند؟

(”پالک“ کو فارسی میں کیا کہتے ہیں؟)

(A) خیابان (B) اسفناج

(C) گوجہ فرنگی (D) موز

(16) سعدی در کدام شهر وفات یافت؟

(سعدی کی وفات کس شہر میں ہوئی؟)

(A) دہلی (B) تہران

(C) ممبئی (D) شیراز

(9) تاج محل در کدام شهر واقع است؟

(تاج محل کس شهر میں واقع ہے؟)

(A) دہلی (B) آگرہ

(C) حیدرآباد (D) لکھنؤ

(10) حکایت ”دزد و دیو“ از کدام کتاب ماخوذ است؟

(حکایت ”دزد و دیو“ کس کتاب سے ماخوذ ہے؟)

(A) گلستان (B) بوستان

(C) پنج تنز (D) شاہنامہ

(11) ہند کی آزادی گرفت؟

(ہندوستان کب آزاد ہوا؟)

(A) 26 جنوری 1950ء (B) 15 اگست 1947ء

(C) 15 اگست 1950ء (D) 26 جنوری 1947ء

(12) ”داستان رستم و سہراب“ از کدام کتاب است؟

(”داستان رستم و سہراب“ کس کتاب سے ہے؟)

(A) شاہنامہ (B) کلیلہ و دمنہ

(C) پنج تنز (D) گلستان

(5) در ذیل بر منفی (انکاریہ) علامت بزنید۔

(درج ذیل میں سے منفی (انکاریہ) پر نشان لگائیے۔)

(A) آمد (B) رفت

(C) زرفت (D) کرد

(6) ”شاہد بہ مدرسہ زرفتہ بود“ در این جملہ کدام فعل بکار بردہ است؟

”شاہد بہ مدرسہ زرفتہ بود“ اس جملے میں کون سا فعل استعمال ہوا ہے؟

(A) ماضی استمراری (B) ماضی مطلق

(C) ماضی بعید (D) ماضی بعید منفی (انکاریہ)

(7) ”او ورزش خواهد کرد“ در این جملہ کدام فعل بکار بردہ است؟

”او ورزش خواهد کرد“ اس جملے میں کون سا فعل استعمال ہوا ہے؟

(A) فعل حال (B) فعل ماضی

(C) فعل مستقبل (D) فعل ماضی مطلق

(8) در گلستان چند ابواب ہستند؟

(گلستاں میں کتنے ابواب ہیں؟)

(A) آٹھ (B) نو

(C) دس (D) گیارہ

## حصہ ب

20

16. پیش جواب درست علامت درست (√) بزنید۔

(مناسب جواب کے سامنے صحیح (√) کا نشان لگائیے۔)

(1) ”چاقو“ را در زبان فارسی چه می گویند؟

(”چاقو“ کو فارسی میں کیا کہتے ہیں؟)

(A) لیوان (B) قاشق

(C) بشقاب (D) کارڈ

(2) متبادل روز ”جمعرات“ در فارسی چیست؟

(فارسی میں ”جمعرات“ کے دن کو کیا کہتے ہیں؟)

(A) سہ شنبہ (B) چہار شنبہ

(C) پنج شنبہ (D) شنبہ

(3) در واژه های زیر بر اسم خاص علامت بزنید۔

(نیچے دیئے گئے الفاظ میں سے اسم خاص پر نشان لگائیے۔)

(A) تاج محل (B) سگ

(C) اتاق (D) میز

(4) در واژه های زیر بر ضمیر متصل علامت بزنید۔

(درج ذیل میں سے ضمیر متصل پر نشان لگائیے۔)

(A) پدر من (B) اتاقشان

(C) کتاب او (D) اتاق آنها





14. از واژه های زیر صفت را جدا کنید۔

(درج ذیل مرکب الفاظ میں سے صفت الگ کیجیے۔)

کلید بزرگ، مرد لاغر، بچہ کوچک، انگور زرد

یا

صفات زیر را بہ صفات برترین مبدل کنید۔

(درج ذیل صفات کو صفات برترین میں تبدیل کیجیے۔)

جوان، بزرگ، سرد، تشنگ

15. در جملہ های زیر ضمیر را نشاندهی کنید۔

(درج ذیل جملوں میں سے ضمیر کی نشاندهی کیجیے۔)

(i) این کتاب من است۔

(ii) پدرش در کارخانہ است۔

(iii) این مدادت است۔

(iv) استادمان در کلاس است۔

11. مصدر ”آمدن“ را در زمان آئنده (فعل مستقبل) صرف کنيد و معانی هم بنویسید۔ 3

برای مثال یک واژه داده شده است۔

(مصدر ”آمدن“ سے فعل مستقبل کی گردان مکمل کیجیے اور معانی بھی لکھیے۔ گردان کے معنی اور

نمونے کے لیے ایک لفظ دیا گیا ہے۔)

خواہم آمد : میں آؤں گا۔

12. از واژه های زیر مفرد را جمع و جمع را مفرد بسازید۔ 3

(درج ذیل الفاظ میں سے مفرد کی جمع اور جمع کے مفرد بنائیے۔)

قوانین، استاد، مادر، اخبار، پرندہ، برادران

یا

متضاد واژه های زیر را بنویسید۔

(درج ذیل الفاظ کے متضاد لکھیے۔)

زن، نو، کوچک، دانا، لاغر، دشمن

13. از مصادر زیر فقط چهار را معنی بنویسید یا مضارع آنها را بسازید۔ 2

(درج ذیل میں سے کسی چار مصادر کے معنی لکھیے یا ان کے مضارع لکھیے۔)

بردن، آوردن، پریدن، کردن، جستیدن، رفتن

9. حروف اضافہ مناسب کہ توی پرائتر ہستند، انتخاب کنید و جاہای خالی را پرکنید۔ 2

(مندرجہ ذیل خالی جگہوں کو بریکٹ میں دیے گئے حروف اضافہ میں سے مناسب حروف اضافہ

کا انتخاب کر کے پُر کیجیے۔)

(بہ، جلوی، در، را)

(1) من ..... خانہ ہستم۔

(2) از شیراز ..... تہران آمد۔

(3) تختہ سیاہ ..... شما است۔

(4) من کتاب شما ..... دیدم۔

10. جملہ ہای زیر را درست کنید۔ 2

(درج ذیل جملوں کو درست کیجیے۔)

(1) تو این قلم را از کجا خریدید؟

(2) او از بازار آمدہ ام۔

(3) ما نامہ نوشتہ بودی۔

(4) آنہا بہ بازار می رفتیم۔

- (6) وہ بازار جاتے تھے۔
- (7) کیا آپ لائبریری جاتے ہیں؟
- (8) میں آپ کے گھر آؤں گا۔
- (9) یہاں آ، وہاں مت جا۔
- (10) تہران ایران کا سب سے بڑا شہر ہے۔

$$1+1+1+1=4$$

8. جواب سوالہای زیر را بنویسد۔

(درج ذیل سوالات کے جواب لکھیے۔)

- (i) حروف واژہ ”شمشیر“ جدا کنید۔  
(لفظ ”شمشیر“ کے حروف الگ کیجیے۔)
- (ii) با حروف گ و س ف ن د واژہ کامل بنویسد۔  
(گ و س ف ن د حروف سے لفظ مکمل کیجیے۔)
- (iii) واژہ ”انگوز“ یا ”لیمو“ را در جملہ فارسی بکار برید۔  
(لفظ ”انگوز“ یا ”لیمو“ کا استعمال فارسی جملے میں کیجیے۔)
- (iv) ”اسپ“ یا ”گل“ را بہ فارسی چہ می گویند؟  
(”اسپ“ یا ”گل“ کو فارسی میں کیا کہتے ہیں؟)

6. خیال مرکزی یکی از نظمیهای زیر را بیان کنید۔

(درج ذیل نظموں میں سے کسی ایک نظم کا مرکزی خیال بیان کیجیے۔)

(1) قدرت خدا (2) گلہای از بوستان

یا

یادداشت مختصری دربارهٔ احوال زندگی فردوسی بنویسید۔

(فردوسی کے احوال زندگی پر مختصر نوٹ لکھیے۔)

7. دہ جملہ دربارهٔ یکی از عنوانین زیر بہ فارسی بنویسید۔

(درج ذیل میں سے کسی ایک عنوان پر فارسی میں دس جملے لکھیے۔)

(1) کتاب (2) ہند

(3) سازمان ملل متحد

یا

جملہ ہای زیر را بہ زبان فارسی ترجمہ کنید۔

(درج ذیل جملوں کا فارسی میں ترجمہ کیجیے۔)

(1) کل جمعرات ہے۔

(2) اس کا گھر چھوٹا نہیں ہے۔

(3) احمد نے جوتے خریدے۔

(4) میں نے ناشتا کر لیا ہے۔

(5) اس نے اسپتال میں دوا کھائی تھی۔



همان گنج دینار و کاخ بلند  
نخواهد بدن مر تو را سودمند  
سخن ماند از تو همی یادگار  
سخن را چنین خوار مایه مدار  
فریدون فرخ فرشته نبود  
ز مشک و ز عنبر سرشته نبود  
(ج)

دل می رود ز دستم صاحبان خدا را  
درد! که راز پنهان خواهد شد آشکارا  
کشتی شکستگانیم ای باد شرطه برخیز  
باشد که باز بنیم آن یار آشنا را  
ای صاحب کرامت، شکرانه سلامت  
روزی تفقدی کن، درویش بی تو را  
آسایش دوگیتی تفسیر این دو حرف است  
با دوستان مروّت بادشمنان مدارا  
در کوی نیک نامی ما را گذر ندادند  
گر تو نمی پسندی تغییر کن قضا را



(درج ذیل میں سے صرف دو کی اپنے الفاظ میں تشریح کیجیے اور نظم کا عنوان بھی لکھیے۔)

(الف)

ای مادر عزیز کہ جانم فدای تو  
 قربان مہربانی و لطف و صفای تو  
 ہرگز نشد محبت یاران و دوستان  
 ہمپایہ محبت و مہر و وفای تو  
 ای مادر عزیز کہ جان دادہ ای مرا  
 سہل است گر کہ جان دہم اکنون برای تو  
 خشنودی تو مایہ خشنوی من است  
 زیرا بود رضای خدا در رضای تو  
 گر بود اختیار جہانی بہ دست من  
 می رختم تمام جہان را بہ پای تو

(ب)

یا تا جہان را بہ بد نسپریم  
 بہ کوشش ہمہ دست نیکی بریم  
 نباشد ہی نیک و بد پایدار  
 همان بہ کہ نیکی بود یادگار



3. خلاصہ کی از درسہای زیر را بنویسید۔ 7

(درج ذیل میں سے کسی ایک سبق کا خلاصہ لکھیے۔)

(1) تاج محل

(2) چاند بی بی

(3) دبیرستان من

4. اقتباس زیر را بہ دقت بخوانید و جواب سوالہای زیر را بہ زبان فارسی بنویسید۔ 8

(درج ذیل اقتباس غور سے پڑھیے اور اس کے نیچے دیے گئے سوالات کے جواب فارسی

زبان میں دیجیے۔)

قرن نوزدہم میلادی نظر بہ ایجاد رسانہ ہای گروہی اہمیت فراوانی دارد۔ چاپخانہ، روزنامہ و فیلم وغیرہ از جملہ رسانہ ہای گروہی است کہ حالا بکار می روند۔ رادیو، تلفن، تلفن همراه، تلویزیون، فاکس، ماہوارہ و کامپیوتر و اینترنت تحول بزرگی را در زمینہ رسانہ ہای گروہی بہ وجود آورده اند۔ ہزارہا روزنامہ در جہان، اطلاعاتی را فراہم می کند کہ در نتیجہ آن انسان نزدیک یک دیگر آمدہ است۔ این رسانہ ہای گروہی است کہ جہان را بہ شکل یک دہکدہ جہانی در آورده است۔ رادیو یکی از رسانہ ہای است کہ حدوداً دو قرن پیش بہ وجود آمد و از مقبولیت زہادی برخوردار است۔ اکنون رادیو اف۔ ام در بین جوانان زیادہ مقبول شدہ است۔

(1) چرا قرن نوزدہم میلادی اہمیت فراوانی دارد؟

(2) در اوّل چہ رسانہ ہای گروہی بکار انداختہ شد؟

(3) چہ چیز جہان را بہ شکل یک دہکدہ جہانی در آورده است؟

(4) رادیو کی بہ وجود آمدہ بود؟



پسر: من شلواری سیاه دوست دارم، آیا شما شلواری سیاه دارید؟  
 دکاندار: چرا۔ پینید این شلواری سیاه است و قیمتش ہم زیادہ نیست۔  
 مادر: این شلواری سیاه چند است؟  
 دکاندار: این پانصد روپیہ است۔  
 مادر: من برای دخترم یک دامن احتیاج دارم۔  
 دختر: ماما! من دامن سرخ می خواہم۔

8

2. از جملہ ہای زیر فقط ہشت جملہ را ترجمہ کنید۔

(درج ذیل جملوں میں سے صرف آٹھ جملوں کا ترجمہ کیجیے۔)

- (1) مسجد بزرگ است۔
- (2) پتھرہ بستہ نبود۔
- (3) پسرہ دوست شما است۔
- (4) این قلم را از کجا خریدید۔
- (5) دیروز جمعہ بود۔
- (6) آنہا از دانشگاه آمدہ اند۔
- (7) من میوہ خریدہ بودم۔
- (8) تو ہر روز ناہار می خوردی۔
- (9) من نماز می خوانم۔
- (10) ہفتہ آئندہ نامہ خواہم نوشت۔
- (11) روی صندوق بنشین۔
- (12) تابستان گرم ترین فصل است۔

## PERSIAN

(فارسی)

(236)

وقت : سہ ساعات

کل نمبر : 100

### حصہ 'الف'

1. از اقتباسات زیر فقط یکی را ترجمہ کنید و عنوان درس ہم بنویسید۔  
8 (مندرجہ ذیل اقتباسات میں سے صرف ایک اقتباس کا ترجمہ کیجیے اور سبق کا عنوان بھی لکھیے)

(الف)

درویشی بہ در لھی رسید۔ جمعی کہ خدایان را دید آنجا نشست، گفت : مرا چیزی بدہید و گرنہ بہ خدا با این دیہ ہمان کنم کہ با آن دید کردم۔ ایشان بترسیدند۔

گفتند : مبادا کہ ولی یا ساحری باشد کہ از او خرابی بہ دید ما رسید۔ آنچه خواست، بدادند۔ بعد از آن پرسیدند کہ : با آن دیہ چہ کردی؟ گفت : آنچه سوالی کردم، چیزی ندادند۔ یہ اینجا آمدم۔ اگر شمانیز چیزی نمی دادید، این دیہ را نیز رہا می کردم و بہ لھی دیگری رتم۔

(ب)

روز یکشنبہ بود۔ پدر بعد از ظہر، قصد بازار کرد۔ او ہمراہ فامیل با ماشین خود عازم بازار شد۔ چون بہ بازار رسیدند، ماشین را پارک کردند۔ ہمہ از ماشین پیادہ شدند۔ مادر در مغازہ پارچہ فروشی رفت۔

دکاندار : بقر مایید، چہ می خواہی؟

مادر : می خواہم برای پسرم شلواری بخرم۔

دکاندار : من انواع مختلف شلواری دارم۔ ببینید این شلواری آبی، سفید، قرمز و این سبز رنگ است۔

اس سوال نامے میں 16 سوالات ہیں اور 16 صفحے ہیں۔

Code No. 53/S/O/PR

در اینجا رول نمبر باعداد بنویسید

--	--	--	--	--	--	--	--	--	--	--

Set-A

PERSIAN

(فارسی)

(236)

..... رول نمبر در الفاظ تحریر کنید  
..... تاریخ و روز امتحان  
..... دستخط نگران امتحان 1-  
..... 2-

1. طالب علم را باید که رول نمبر بر صفحه اول سوالنامه بنویسد۔
2. بغور ببینید کہ آیا سوالنامه کل صفحات و تعداد سوالات دارد کہ بر صفحه اول چاپ شده است۔ وایضاً ببینید کہ سوالات در سلسله اند۔
3. طالب علم را باید کہ یکے از A، B، C، D جواب منتخب کند و در جواب نامہ درست جواب بنویسد۔
4. ہمہ پرسشہا مع سوالات معروضی در وقت مقررہ نوشتن لازمی است برائے سوالات معروضی وقت نمی دادہ شود۔
5. گر طالب علم در جواب نامہ علاوہ رول نمبر کسے نشان شناخت یا ہدایتی بنویسد او را از امتحان خارج کردہ شود۔
6. در جواب نامہ کوڈ نمبر 53/S/O/PR-A سوالنامہ بنویسد۔

This Question Paper consists of 31 questions and 8 printed pages.

8 பக்கங்களைக் கொண்ட இவ்வினாத்தாளில் 31 வினாக்கள் உள்ளன.

Roll No.

--	--	--	--	--	--	--	--	--	--	--	--

Code No. 53/S/O/TM

**TAMIL**  
**(தமிழ்)**  
**(237)**

தேர்வு நடைபெறும் நாள் மற்றும் தேதி : \_\_\_\_\_

தேர்வு மேற்பார்வையாளர் கையொப்பம் : 1. \_\_\_\_\_

2. \_\_\_\_\_

**I. பொதுக்குறிப்புகள் :**

1. தேர்வு எழுதுவோர் தங்களின் வரிசை எண்ணை வினாத்தாளின் முன்பக்கம் எழுத வேண்டும்.
2. வினாத்தாளில் கொடுக்கப்பட்டுள்ள வினாக்களின் எண்ணிக்கையும் வினாத் தாளின் முன்பக்கம் அச்சாகியுள்ள வினாக்களின் எண்ணிக்கையும் மொத்த பக்கங்களின் எண்ணிக்கையும் சரியாக உள்ளனவா என்பதையும் அனைத்து வினாக்களும் வரிசையாக உள்ளனவா என்பதையும் சரிபார்க்கவும்.
3. பொருத்தமான விடையைத் தேர்ந்தெடுத்து விடையளிக்கும் பொது கொடுக்கப்பட்டுள்ள நான்கு விடைகளுள் (A, B, C, D) ஏதேனும் ஒன்றைத் தேர்ந்தெடுத்து விடைத்தாளில் எழுத வேண்டும்.
4. பொருத்தமான விடையைத் தேர்ந்தெடுத்து எழுதும் வினாக்கள் உட்பட அனைத்து வினாக்களும் குறிப்பிட்ட நேரத்திற்குள் எழுதி முடிக்கப்பட வேண்டும். பொருத்தமான விடையைத் தேர்ந்தெடுத்து எழுதும் வினாக்களுக்காகத் தனியாக நேரம் எதுவும் கொடுக்கப்படமாட்டாது.
5. வினாத்தாளில் ஏதேனும் அடையாளக் குறிகள் இடலாவோ அல்லது தேர்வு எழுதுபவர் தனது எண்ணை அதற்கென ஒதுக்கப்படாத இடத்தில் எழுதினாலோ தேர்வு எழுதுபவர் தேர்வு எழுதும் தகுதியை இழக்க நேரிடும்.
6. உங்களது வினாத்தாளின் Code எண் 53/S/O/TM-A விடைத்தாளில் எழுதுங்கள்.

பொதுக்குறிப்புகள் :

பொருத்தமான விடையைத் தேர்ந்தெடுத்து விடையளிக்கும் போது கொடுக்கப்பட்டுள்ள நான்கு விடைகளுள் (A, B, C, D) ஏதேனும் ஒன்றைத் தேர்ந்தெடுத்து விடைத்தாளில் எழுத வேண்டும்.

**TAMIL**  
**(தமிழ்)**  
**(237)**

கால அளவு : 3 மணி நேரம் ]

[ மொ. மதிப்பெண் : 100

- குறிப்பு :** (1) அனைத்து வினாக்களுக்கும் விடையளிக்க.  
(2) வினாக்களை நன்கு புரிந்து கொண்டு விடையளிக்க.  
(3) விடைகளுக்குரிய சரியான வினா எண்களை எழுதவும்.

பொருத்தமான விடையை எடுத்து எழுதுக.

1×11=11

- 1 இயற்கை வளம் ஒங்குவதால் மக்கள் ..... செழிக்கும்.  
(A) கல்வி  
(B) நலம்  
(C) செல்வம்  
(D) பண்பாடு
- 2 பெண் வன்முறையை எதைப்போல் சகஜமாக்கிக் கொள்கிறாள்  
(A) சுவாசிப்பதைப் போல்  
(B) உறங்குவதைப் போல்  
(C) உண்பதைப் போல்  
(D) சமைப்பதைப் போல்
- 3 முதற் சங்கத்தீல் தலைவராய் வீற்றிருந்தவர்  
(A) தருமி  
(B) இறையனார்  
(C) அகத்தியன்  
(D) நக்கீரனார்

- 4 முறை என்ற சொல் உணர்த்தும் பொருள்  
 (A) உறவு முறை  
 (B) சட்டம்  
 (C) விதி  
 (D) மனம்
- 5 காந்திக்கு பிரிவு உபசார விருந்து நடைபெற்ற இடம்  
 (A) கவர்னர் மாளிகை  
 (B) சைடன் ஹாம்  
 (C) பிரசிடெண்ட் தெருவிலுள்ள மைதானம்  
 (D) காந்தியின் இருப்பிடம்
- 6 கையையிலிருந்து இலங்கைக்கு எடுத்துச் செல்லப்பட்டது  
 (A) புத்தர் திருவுருவம்  
 (B) போதி மரத்தின் கிளை  
 (C) ஏசு நாதர் உருவம்  
 (D) போதி மரத்தின் இலை
- 7 மடத்தைக்குறிக்கும் வேறு பெயர்  
 (A) விகாரம்  
 (B) ஆலயம்  
 (C) பள்ளி வாசல்  
 (D) ஆசிரமம்
- 8 சுந்தரர் கனவில் இறைவன் ..... உருவில் வந்தார்.  
 (A) பசு  
 (B) எருமை  
 (C) காளை  
 (D) ஆடு
- 9 சட்டத்தில் பாசி மணிகள் இணைக்கப்பட்ட அமைப்பு  
 (A) நேப்பியர் ராடிகள்  
 (B) கணிப்பான்  
 (C) அபாகஸ்  
 (D) எனியாக்

10 கொடைக்கானலின் சிறப்புப் பெயர்

- (A) வேனல் மலை
- (B) மலைகளின் அரசி
- (C) குறிஞ்சி மலை
- (D) மலைகளின் இளவரசி

11 முன்னிலை பன்மை

- (A) நான்
- (B) நாங்கள்
- (C) நீங்கள்
- (D) அவர்கள்

12 கீழ்க்காணும் பத்தியைப்படித்து அதனைத் தொடர்ந்து வரும் வினாக்களுக்கு விடையளி.

ஆங்கில நாட்டில் ஒரு காலத்தில் இலத்தீன் மொழி அரசோச்சியது. அதனைப் பள்ளிக்கூடத் தலைமையாசிரியர் ஒருவர் விரும்பவில்லை. அவர் தம் மொழிப்பற்றை பின் வருமாறு வெளிப்படுத்தியுள்ளார்; “கல்வியின் பொருட்டு ஒரு மொழிக்கு அடிமையாவது அடிமைத் தன்மைகளுள் பெரிய அடிமைத் தன்மையாகும். பிற மொழிகளைக் கற்பதனால் மிகுந்த நேரத்தை இழக்கின்றோம். பிற மொழியால் பெறும் அதே செல்வத்தை நம் மொழியில் குறைந்த காலத்தில் பெறலாம். நம் மொழி நம் உரிமையையும் விடுதலையையும் வெளிப்படுத்துகிறது. இலத்தீன் மொழி நம் அடிமைத்தனத்தையும் இழிவையும் வெளிப்படுத்துகிறது. உரோம் நகரை விரும்புகின்றேன்; ஆனால் இலண்டன் நகரை அதனினும் மிகுதியாக விரும்புகின்றேன். இத்தாலியைப் போற்றுகின்றேன். ஆனால் ஆங்கிலத்தை நான் தொழுகின்றேன்.”

**வினாக்கள் :**

- (1) இலத்தீன் மொழியைப் பயன்படுத்துவது எதனை வெளிப்படுத்துகிறது 3  
என்கிறார் ?
- (2) தனது தாய் மொழியைப் பயன்படுத்துவது எதனை வெளிப்படுத்துகின்றது 3  
என்கிறார் ?
- (3) எந்த நாட்டைப் போற்றுகின்றேன் என்கிறார் ? 1
- (4) எந்த நாட்டை விரும்புகின்றேன் என்கிறார் ? 1
- (5) ஒரு காலத்தில் ஆங்கில நாட்டில் அரசோச்சிய மொழி யாது ? 1
- (6) பிற மொழியைக் கற்பது குறித்து ஆசிரியர் கூறும் மூன்று கருத்துகளை 3  
எழுதுக ?

- 13 பாடல் வரிகளைப் படித்து அதனைத் தொடர்ந்து வரும் வினாக்களுக்கு விடையளிக்க.  
 இளங்கதிர் கிழக்கில் இன்னும் எழவில்லை  
 இரவு போர்த்த இருள்நீங்க வில்லை  
 ஆயினும் கேள்வியால் அகலும் மடமையோல்  
 நள்ளிரவு மெதுவாய் நகர்ந்து கொண்டிருந்தது  
 தொட்டி நீலத்தில் சுண்ணாம்பு கலந்த  
 கலப்பென இருள் தன் கட்டுக் குலைந்தது  
 புலந்திடப் போகும் பொழுது, கட்டிலில்  
 மலர்ந்தன அந்த மங்கையின் விழிகள்  
**வினாக்கள் :**
- (1) இளங்கதிர் எத்திசையில் எழவில்லை ? 1  
 (2) இருள் தன் கட்டினை எவ்வாறு குலைத்ததெனக் கவிஞர் சுவறுகிறார் ? 2  
 (3) இப்பாடலில் அமைந்துள்ள உவமையை எழுதுக. 2  
 (4) கேள்வியால் அகலுவது எது ? 1
- 14 செந்தமிழ் நாட்டின் நதிகள் இரண்டினை எழுதுக ? 1
- 15 அறிவு நிறைந்தவர் எவ்வாறு இருப்பார் ? 1
- 16 அஞ்சம்மா எதனை கழற்றி எறிந்தாள் ? 1
- 17 வெட்டி விடப்படும் குரோட்டன்ஸ் யார் ? 1
- 18 தமிழில் மொழி பெயர்க்க.  
 (அ) Certificate  
 (ஆ) Intial 1
- 19 (அ) சேர்த்து எழுதுக.  $4 \times \frac{1}{2} = 2$
- (i) துகள் + தீர்  
 (ii) என் + ஆனும்  
 (iii) தொடுத்து + ஆறு  
 (iv) கை + உற
- (ஆ) கீழ்க்காணும் விசுவகளைக் கொண்டு ஒவ்வொன்றுக்கும் இரண்டு  
 இரண்டு சொற்களை எழுதுக. 2
- (1) தல்  
 (2) கை



(இ) கீழ்க்கண்ட தொடர்களில் விடுபட்ட இடத்தை எதிர்மறைச் சொற்களைக் கொண்டு நிரப்புக. 2

(1) நிழலின் அருமை ..... தெரியும்.

(2) இளமையில் உழைப்பவர் ..... இன்புறுவர்.

(ஈ) கீழே தரப்பட்டுள்ள சொற்களுக்கு அதே பொருள் தரும் வேறு சொற்களை எழுதுக.  $\frac{1}{2} \times 4 = 2$

(1) முடிகும்

(2) விஞ்சை

(3) கரந்தது

(4) நிருதர்

20 பின்வரும் மரபுத் தொடர்களைப் பயன்படுத்தி வாக்கியம் அமைக்க. 2

(1) ஆழம் பார்த்தல்

(2) கதை கட்டுதல்

21 சுய உதவிக்குழு என்பதன் பொருளைக் கூறுக. 1

22 சாலைகள் பழுதடைந்திருப்பதன் காரணமாகப் போக்குவரத்து நெரிசல் ஏற்படுவது குறித்து ஒரு பத்தியில் குறிப்பு எழுதுக. 4

23 தசரதனின் தயக்கம் விசுவாமித்திரரின் கோபம் ஆகியவை குறித்து எழுதுக. 5

24 பொது இடங்களில் புகைபிடித்தல் கூடாது என்பது குறித்த அறிவிப்பினை எழுதுக. 5

(அல்லது)

நூலகத் திறப்பு விழா நடைபெறப் போவது குறித்த விளம்பர அறிவிப்பினை எழுதுக.

25 (அ) வழி - வளி இவற்றுக்கான பொருள் வேறுபாடு கூறி வாக்கியத்தில் அமைத்து எழுதுக. 2

(ஆ) காச்சித்தல்-ஊளையிடுதல் இவை எவ்விலங்குகளுக்குரிய ஒலிகளாகும்? 2

26 அறிவியல் கண்காட்சி பற்றி உனது பள்ளி தகவல் பலகையில் இடம்பெற வேண்டிய தகவல்கள் குறித்து ஓர் அட்டவணை தயாரிக்க.

5

(அல்லது)

32, முனீஸ்வரன் தெரு, சங்கரன் கோவிலில் இருக்கும் நீ சென்னையில் 22, வடக்கு ரத வீதியில் வசிக்கும் உன் தந்தைக்கு ஆயிரம் ரூபாய் அனுப்புவதாகக் கொண்டு கீழே தரப்பட்டுள்ள பண அஞ்சல் படிவத்தைப் பூர்த்தி செய்க. (உமது பெயர் கண்ணன் / கண்ணகி என்று கொள்க. தந்தையின் பெயர் ராமு எனக் கொள்க)

**இந்திய பண அஞ்சல் படிவம்**

தகவலுக்கான இடம்


1. ....  
 .....  
 .....  
 .....  
 .....

பண அஞ்சல் எண் : 7

பெறுநர் :

2. ....  
 .....  
 ..... வழங்கவும்.

3. ....  
 .....  
 .....



அனுப்புநர்

கையொப்பம் .....

..... இக்கோட்டிற்குக் கீழ் எழுதுதல் சலுகை .....

..... இரண்டாவது மடிப்பு .....

.....

4. பெற்றுக் கொண்டேன் .....

.....

பெற்றுக் கொண்டவர் கையொப்பம் .....

.....

5. அனுப்புபவர் பெயர் மற்றும் முகவரி : .....

.....

.....

27 வெள்ளைச்சாமி அஞ்சலம்மாவின் அன்பை விவரிக்க ? 5

(அல்லது)

காந்தியடிகள் கொள்கையை உணராத மக்கள் நிலையை மு.வ. எவ்வாறு விவரிக்கின்றார் ?

28 பிழை திருத்தம் செய்க : 5

- (1) வலி மேல் விளி வைத்தால்.
- (2) கதிரவன் கிலக்கிள் எழுவான்.
- (3) உரை மேல் முகவறி எழுது.
- (4) சுவரை மேய்ந்தான்.
- (5) முக்கணிகளின் சுவைதான் எண்ணை !

29 உன்னுடைய பள்ளி மாணவருடன் நீ சென்று வந்த சுற்றுலாவைப்பற்றி உன் 7  
நண்பனுக்குச் சுவையான கடிதம் ஒன்று எழுதுக.

(அல்லது)

நீவிர் வாழும் பகுதியில் மின்சாரக் கம்பிகள் அறுந்து விழுந்துள்ளதால் அதை அப்புறப் படுத்தக் கோரி மினவாரிய அதிகாரிக்கு முறையாட்டுக் கடிதம் எழுதுக.

30 ஏதேனும் ஒரு தலைப்பு பற்றி நூறு சொற்களுக்குக் குறையாமல் சிறு கட்டுரை 5  
எழுதுக.

- (1) அனைவருக்கும் கல்வி.
- (2) மாணவர் கடமை.
- (3) விளையாட்டின் இன்றயமையாமை.

31 ஏதேனும் ஒரு தலைப்பு குறித்து இருநூறு சொற்களுக்குக் குறையாமல் 10  
கட்டுரை எழுதுக.

- (1) மாணவரும் சமூக நலத் தொண்டும்.
- (2) செய்தித்தாளின் பயன்கள்.
- (3) சுற்றுச் சூழல் பாதுகாப்பு.

